

**Determina quale lettera meglio rappresenta il volume****Risposte****Xícara**

Una taza se refiere a la cantidad de leche que se obtiene de la cafetería.

**Pinta**

Uma pinta é aproximadamente a quantidade que você recebe em um copo grande.
1 pinta = 2 xícaras

**Quarto**

Um quarto é mais ou menos a quantidade que você consegue em um recipiente grande de leite.
1 cuarto = 2 pintas


**Galón**

Un galón es la cantidad que viene en un recipiente de plástico grande.
1 galón = 4 cuartos



1. _____
2. _____
3. _____
4. _____
5. _____
6. _____
7. _____
8. _____
9. _____

1)



Vasca da bagno

- A. 40 tazze
- B. 20 pinte
- C. 45 galloni
- D. 8 quarti

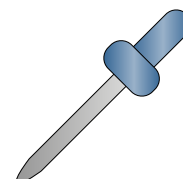
2)



Sabbia in un secchio

- A. 32 galloni
- B. 1 gallone
- C. 1 tazza
- D. 7 fluid ounces

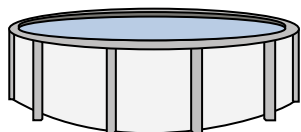
3)



Il contagocce tiene

- A. 3 galloni
- B. 1 tazza
- C. meno di 1 tazza
- D. 1 pinta


4)



Acqua in piscina

- A. 5000 piede
- B. 25 tazze
- C. 20 galloni
- D. 3000 galloni

5)



Liquido in una brocca

- A. 1 pinta
- B. 8 galloni
- C. 2 tazze
- D. 2 quarti

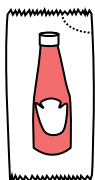
6)



Shampoo in bottiglia

- A. 0.5 galloni
- B. 100 tazze
- C. 1 tazza
- D. 2 pinte

7)



Ketchup in un pacchetto

- A. 0.5 galloni
- B. 1.5 pinte
- C. meno di 1 tazza
- D. 2 quarti


8)



Acqua per una pianta da appartamento

- A. 6 quarti
- B. 4 Libbre
- C. 2 tazze
- D. 3 galloni

9)



L'acqua tiene un barile

- A. 3 pollici
- B. 10 pinte
- C. 20 tazze
- D. 50 galloni

**Determina quale lettera meglio rappresenta il volume****Risposte****Xícara**

Una taza se refiere a la cantidad de leche que se obtiene de la cafetería.

**Pinta**

Uma pinta é aproximadamente a quantidade que você recebe em um copo grande.
1 pinta = 2 xícaras

**Quarto**

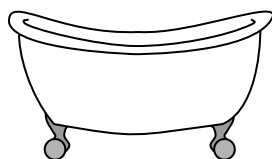
Um quarto é mais ou menos a quantidade que você consegue em um recipiente grande de leite.
1 cuarto = 2 pintas

**Galón**

Un galón es la cantidad que viene en un recipiente de plástico grande.
1 galón = 4 cuartos



1)



Vasca da bagno

- A. 40 tazze
- B. 20 pinte
- C. 45 galloni
- D. 8 quarti


2)



Sabbia in un secchio

- A. 32 galloni
- B. 1 gallone
- C. 1 tazza
- D. 7 fluid ounces

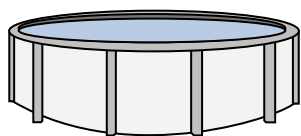
3)



Il contagocce tiene

- A. 3 galloni
- B. 1 tazza
- C. meno di 1 tazza
- D. 1 pinta


4)



Acqua in piscina

- A. 5000 piede
- B. 25 tazze
- C. 20 galloni
- D. 3000 galloni

5)



Liquido in una brocca

- A. 1 pinta
- B. 8 galloni
- C. 2 tazze
- D. 2 quarti

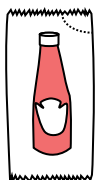
6)



Shampoo in bottiglia

- A. 0.5 galloni
- B. 100 tazze
- C. 1 tazza
- D. 2 pinte

7)



Ketchup in un pacchetto

- A. 0.5 galloni
- B. 1.5 pinte
- C. meno di 1 tazza
- D. 2 quarti


8)



Acqua per una pianta da appartamento

- A. 6 quarti
- B. 4 Libbre
- C. 2 tazze
- D. 3 galloni

9)



L'acqua tiene un barile

- A. 3 pollici
- B. 10 pinte
- C. 20 tazze
- D. 50 galloni

1. **C**
2. **B**
3. **C**
4. **D**
5. **D**
6. **D**
7. **C**
8. **C**
9. **D**