

**Determina quale lettera meglio rappresenta il volume****Risposte****Xícara**

Una taza se refiere a la cantidad de leche que se obtiene de la cafetería.

**Pinta**

Uma pinta é aproximadamente a quantidade que você recebe em um copo grande.
1 pinta = 2 xícaras

**Quarto**

Um quarto é mais ou menos a quantidade que você consegue em um recipiente grande de leite.
1 cuarto = 2 pintas

**Galón**

Un galón es la cantidad que viene en un recipiente de plástico grande.
1 galón = 4 cuartos



1. _____
2. _____
3. _____
4. _____
5. _____
6. _____
7. _____
8. _____
9. _____


1)



Colla in una bottiglia

- A. 1 pinta
- B. 3 galloni
- C. 2 quarti
- D. 0.5 tazze


2)



Sabbia tiene una carriola

- A. 8 quarti
- B. 45 galloni
- C. 4 tazze
- D. 1000 grammi

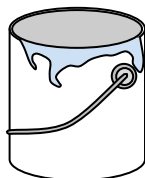
3)



Ghiacciaia

- A. 16 tazze
- B. 2 quarti
- C. 100 quarti
- D. 5 galloni


4)



Dipinti in una lattina

- A. 3 fluid ounces
- B. 1 tazza
- C. 0.5 pinte
- D. 1 gallone

5)



Il contagocce tiene

- A. 3 galloni
- B. 1 pinta
- C. meno di 1 tazza
- D. 1 tazza

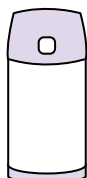
6)



Dentifricio in tubetto

- A. 0.5 tazze
- B. 5 grammi
- C. 5 quarti
- D. 0.5 galloni

7)



Liquido in un thermos

- A. 1 gallone
- B. 1 tazza
- C. 4 quarti
- D. 2 Libbre

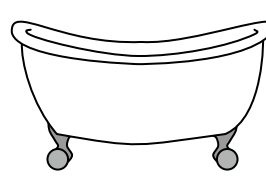
8)



Sabbia in un secchio

- A. 32 galloni
- B. 1 tazza
- C. 1 gallone
- D. 7 fluid ounces

9)



Vasca da bagno

- A. 20 pinte
- B. 45 galloni
- C. 40 tazze
- D. 8 quarti

**Determina quale lettera meglio rappresenta il volume****Risposte****Xícara**

Una taza se refiere a la cantidad de leche que se obtiene de la cafetería.

**Pinta**

Uma pinta é aproximadamente a quantidade que você recebe em um copo grande.
1 pinta = 2 xícaras

**Quarto**

Um quarto é mais ou menos a quantidade que você consegue em um recipiente grande de leite.
1 cuarto = 2 pintas

**Galón**

Un galón es la cantidad que viene en un recipiente de plástico grande.
1 galón = 4 cuartos




1)



Colla in una bottiglia

- A. 1 pinta
- B. 3 galloni
- C. 2 quarti
- D. 0.5 tazze


2)



Sabbia tiene una carriola

- A. 8 quarti
- B. 45 galloni
- C. 4 tazze
- D. 1000 grammi

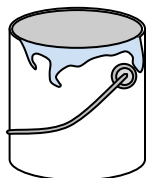
3)



Ghiacciaia

- A. 16 tazze
- B. 2 quarti
- C. 100 quarti
- D. 5 galloni

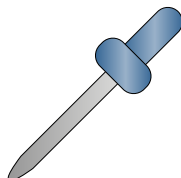
4)



Dipinti in una lattina

- A. 3 fluid ounces
- B. 1 tazza
- C. 0.5 pinte
- D. 1 gallone

5)



Il contagocce tiene

- A. 3 galloni
- B. 1 pinta
- C. meno di 1 tazza
- D. 1 tazza

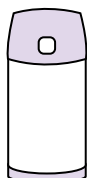
6)



Dentifricio in tubetto

- A. 0.5 tazze
- B. 5 grammi
- C. 5 quarti
- D. 0.5 galloni

7)



Liquido in un thermos

- A. 1 gallone
- B. 1 tazza
- C. 4 quarti
- D. 2 Libbre

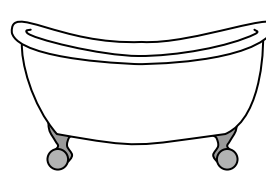
8)



Sabbia in un secchio

- A. 32 galloni
- B. 1 tazza
- C. 1 gallone
- D. 7 fluid ounces

9)



Vasca da bagno

- A. 20 pinte
- B. 45 galloni
- C. 40 tazze
- D. 8 quarti

1. **D**
2. **B**
3. **C**
4. **D**
5. **C**
6. **A**
7. **B**
8. **C**
9. **B**