

**Determina quale lettera meglio rappresenta il volume****Risposte****Xícara**

Una taza se refiere a la cantidad de leche que se obtiene de la cafetería.

**Pinta**

Uma pinta é aproximadamente a quantidade que você recebe em um copo grande.
1 pinta = 2 xícaras

**Quarto**

Um quarto é mais ou menos a quantidade que você consegue em um recipiente grande de leite.
1 cuarto = 2 pintas

**Galón**

Un galón es la cantidad que viene en un recipiente de plástico grande.
1 galón = 4 cuartos



1. _____
2. _____
3. _____
4. _____
5. _____
6. _____
7. _____
8. _____
9. _____

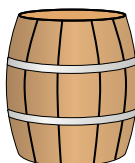
1)



Acqua per una pianta da appartamento

- A. 3 galloni
- B. 2 tazze
- C. 6 quarti
- D. 4 Libbre

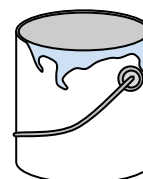
2)



L'acqua tiene un barile

- A. 20 tazze
- B. 50 galloni
- C. 3 pollici
- D. 10 pinte

3)



Dipingi in una lattina

- A. 3 fluid ounces
- B. 1 tazza
- C. 1 gallone
- D. 0.5 pinte

4)



Inchiostro in una penna

- A. 1 quart
- B. meno di 1 tazza
- C. 1 gallone
- D. 2 pinte

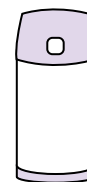
5)



Ciotola di cereali

- A. 2 galloni
- B. 1 pinta
- C. 4 pinte
- D. 0.5 galloni

6)



Liquido in un thermos

- A. 2 Libbre
- B. 4 quarti
- C. 1 gallone
- D. 1 tazza

7)



Liquido in una tazza da tè

- A. 1 pinta
- B. 1 quart
- C. 1 tazza
- D. 1 gallone


8)



Farina in un lotto di biscotti

- A. 2 quarti
- B. 1.5 tazze
- C. 2 galloni
- D. 5 galloni

9)



Liquido in una brocca

- A. 1 pinta
- B. 2 quarti
- C. 8 galloni
- D. 2 tazze

**Determina quale lettera meglio rappresenta il volume****Risposte****Xícara**

Una taza se refiere a la cantidad de leche que se obtiene de la cafetería.

**Pinta**

Uma pinta é aproximadamente a quantidade que você recebe em um copo grande.
1 pinta = 2 xícaras

**Quarto**

Um quarto é mais ou menos a quantidade que você consegue em um recipiente grande de leite.
1 cuarto = 2 pintas

**Galón**

Un galón es la cantidad que viene en un recipiente de plástico grande.
1 galón = 4 cuartos



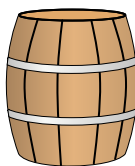
1)



Acqua per una pianta da appartamento

- A. 3 galloni
- B. 2 tazze
- C. 6 quarti
- D. 4 Libbre

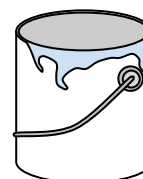
2)



L'acqua tiene un barile

- A. 20 tazze
- B. 50 galloni
- C. 3 pollici
- D. 10 pinte

3)



Dipingi in una lattina

- A. 3 fluid ounces
- B. 1 tazza
- C. 1 gallone
- D. 0.5 pinte

4)



Inchiostro in una penna

- A. 1 quart
- B. meno di 1 tazza
- C. 1 gallone
- D. 2 pinte

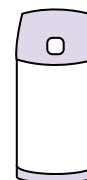
5)



Ciotola di cereali

- A. 2 galloni
- B. 1 pinta
- C. 4 pinte
- D. 0.5 galloni

6)



Liquido in un thermos

- A. 2 Libbre
- B. 4 quarti
- C. 1 gallone
- D. 1 tazza

7)



Liquido in una tazza da tè

- A. 1 pinta
- B. 1 quart
- C. 1 tazza
- D. 1 gallone


8)



Farina in un lotto di biscotti

- A. 2 quarti
- B. 1.5 tazze
- C. 2 galloni
- D. 5 galloni

9)



Liquido in una brocca

- A. 1 pinta
- B. 2 quarti
- C. 8 galloni
- D. 2 tazze

1. **B**
2. **B**
3. **C**
4. **B**
5. **B**
6. **D**
7. **C**
8. **B**
9. **B**