




Risolvi ogni problema.



Ogni  = 2 voti

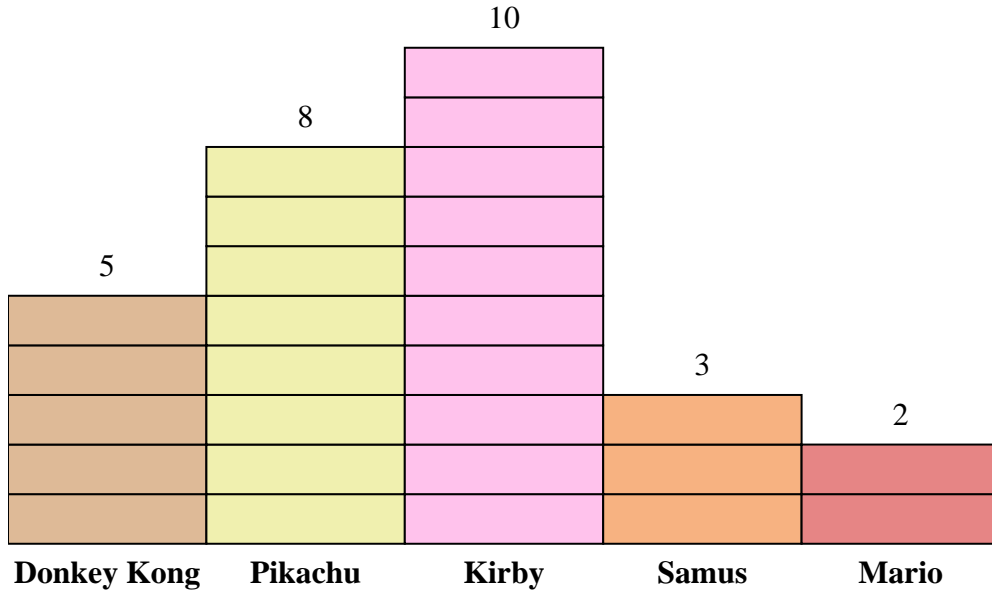
Risposte

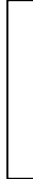
1. _____
2. _____
3. _____
4. _____
5. _____
6. _____
7. _____
8. _____
9. _____
10. _____

- 1) A quante più persone è piaciuto Donkey Kong rispetto a Mario?
- 2) Quale personaggio ha detto che il maggior numero di persone è il loro preferito?
- 3) Quale personaggio ha detto che il minor numero di persone è il loro preferito?
- 4) Quante persone in totale hanno risposto al sondaggio?
- 5) A meno persone è piaciuto Pikachu o Kirby?
- 6) A più persone è piaciuto Samus o Mario?
- 7) Quale personaggio, secondo le persone di 4 esattamente, era il loro preferito?
- 8) A quante persone è piaciuto di più Pikachu?
- 9) Qual è il numero combinato di persone che hanno apprezzato Kirby e Mario?
- 10) Qual è la differenza tra il numero di persone a cui è piaciuto Kirby e il numero a cui è piaciuto Samus?



Risolvi ogni problema.



Ogni  = 2 voti

Risposte

1. 6
2. Kirby
3. Mario
4. 56
5. Pikachu
6. Samus
7. Mario
8. 16
9. 24
10. 14

- 1) A quante più persone è piaciuto Donkey Kong rispetto a Mario?
- 2) Quale personaggio ha detto che il maggior numero di persone è il loro preferito?
- 3) Quale personaggio ha detto che il minor numero di persone è il loro preferito?
- 4) Quante persone in totale hanno risposto al sondaggio?
- 5) A meno persone è piaciuto Pikachu o Kirby?
- 6) A più persone è piaciuto Samus o Mario?
- 7) Quale personaggio, secondo le persone di 4 esattamente, era il loro preferito?
- 8) A quante persone è piaciuto di più Pikachu?
- 9) Qual è il numero combinato di persone che hanno apprezzato Kirby e Mario?
- 10) Qual è la differenza tra il numero di persone a cui è piaciuto Kirby e il numero a cui è piaciuto Samus?