



Determina se ogni angolo mostrato è 'minore', 'maggiore' o 'uguale' a 90°.

Risposte

Es)



1)



2)



Es. **uguale**

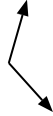
1. _____

2. _____

3)



4)



5)



3. _____

4. _____

6)



7)



8)



5. _____

6. _____

9)



10)



11)



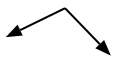
7. _____

8. _____

9. _____

10. _____

12)



13)



14)



11. _____

12. _____

13. _____

15)



16)



17)

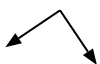


14. _____

15. _____

16. _____

18)



19)



20)



17. _____

18. _____

19. _____

20. _____



Determina se ogni angolo mostrato è 'minore', 'maggiore' o 'uguale' a 90° .

Es)



1)



2)



Risposte

Es. uguale

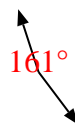
3)



4)



5)



1. maggiore

2. minore

6)



7)



8)



3. minore

4. maggiore

5. maggiore

6. maggiore

7. uguale

9)



10)



11)



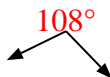
8. minore

9. minore

10. minore

11. uguale

12)



13)



14)



12. maggiore

13. minore

14. minore

15)



16)



17)



15. uguale

16. maggiore

17. maggiore

18)



19)



20)



18. uguale

19. uguale

20. uguale



Determina se ogni angolo mostrato è 'minore', 'maggiore' o 'uguale' a 90° .

Es)



1)



2)



Risposte

Es. minore

1. _____

2. _____

3)



4)



5)



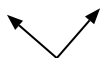
3. _____

4. _____

6)



7)



8)

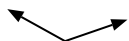


5. _____

6. _____

7. _____

9)



10)



11)



8. _____

9. _____

10. _____

12)



13)



14)

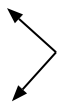


11. _____

12. _____

13. _____

15)



16)



17)



14. _____

15. _____

16. _____

18)



19)



20)



17. _____

18. _____

19. _____

20. _____



Determina se ogni angolo mostrato è 'minore', 'maggiore' o 'uguale' a 90° .

Es)



1)



2)



Risposte

Es. minore

3)



4)



5)



1. uguale

2. minore

6)



7)



8)



3. minore

4. minore

5. minore

6. minore

7. uguale

9)



10)



11)



8. maggiore

9. maggiore

10. minore

11. uguale

12)



13)



14)

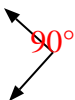


12. uguale

13. maggiore

14. minore

15)



16)



17)



15. uguale

16. uguale

17. maggiore

18)



19)



20)



18. maggiore

19. uguale

20. maggiore



Determina se ogni angolo mostrato è 'minore', 'maggiore' o 'uguale' a 90° .

Risposte

Es)



1)



2)



Es. **minore**

3)



4)



5)



1. _____

2. _____

3. _____

4. _____

5. _____

6. _____

7. _____

8. _____

9. _____

10. _____

11. _____

12. _____

13. _____

14. _____

15. _____

16. _____

17. _____

18. _____

19. _____

20. _____

6)



7)



8)



9)




10)



11)



12)



13)



14)



15)



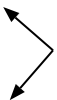
16)



17)



18)



19)



20)



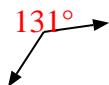


Determina se ogni angolo mostrato è 'minore', 'maggiore' o 'uguale' a 90° .

Es)



1)



2)



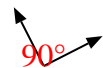
Risposte

Es. minore

3)



4)



5)



1. maggiore

2. maggiore

3. minore

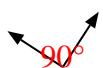
4. uguale

5. maggiore

6)



7)



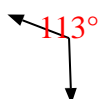
8)



6. uguale

7. uguale

9)



10)



11)



8. uguale

9. maggiore

10. minore

11. uguale

12)



13)



14)



12. maggiore

13. maggiore

14. minore

15)



16)



17)

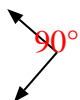


15. minore

16. uguale

17. minore

18)



19)



20)



18. uguale

19. maggiore

20. uguale



Determina se ogni angolo mostrato è 'minore', 'maggiore' o 'uguale' a 90°.

Es)



1)



2)



Risposte

Es. **uguale**

- 1. _____
- 2. _____
- 3. _____
- 4. _____
- 5. _____
- 6. _____
- 7. _____
- 8. _____
- 9. _____
- 10. _____
- 11. _____
- 12. _____
- 13. _____
- 14. _____
- 15. _____
- 16. _____
- 17. _____
- 18. _____
- 19. _____
- 20. _____

3)



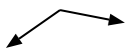
4)



5)



6)



7)



8)



9)



10)



11)



12)



13)



14)



15)



16)



17)



18)



19)



20)





Determina se ogni angolo mostrato è 'minore', 'maggiore' o 'uguale' a 90° .

Es)



1)



2)



Risposte

Es. uguale

3)



4)



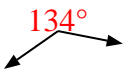
5)



1. uguale

2. minore

6)



7)



8)



3. minore

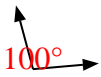
4. uguale

5. uguale

6. maggiore

7. maggiore

9)



10)



11)



8. minore

9. maggiore

10. uguale

12)



13)



14)



11. maggiore

12. minore

13. maggiore

15)



16)



17)



14. uguale

15. minore

16. maggiore

18)



19)



20)



17. uguale

18. minore

19. uguale

20. minore



Determina se ogni angolo mostrato è 'minore', 'maggiore' o 'uguale' a 90°.

Es)



1)



2)



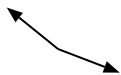
Risposte

Es. minore

1. _____

2. _____

3)



4)



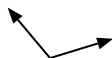
5)



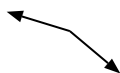
3. _____

4. _____

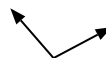
6)



7)



8)

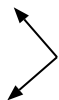


5. _____

6. _____

7. _____

9)



10)



11)

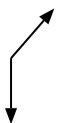


8. _____

9. _____

10. _____

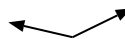
12)



13)



14)



11. _____

12. _____

13. _____

15)



16)



17)



14. _____

15. _____

16. _____

18)



19)



20)



17. _____

18. _____

19. _____

20. _____



Determina se ogni angolo mostrato è 'minore', 'maggiore' o 'uguale' a 90° .

Es)



1)



2)



Risposte

Es. minore

3)



4)



5)



1. minore

2. minore

3. maggiore

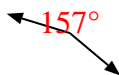
4. uguale

5. minore

6)



7)



8)

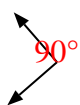


6. maggiore

7. maggiore

8. maggiore

9)



10)



11)



9. uguale

10. minore

11. minore

12)



13)



14)

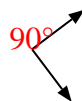


12. maggiore

13. uguale

14. maggiore

15)



16)



17)



15. uguale

16. uguale

17. maggiore

18)



19)



20)



18. uguale

19. uguale

20. minore



Determina se ogni angolo mostrato è 'minore', 'maggiore' o 'uguale' a 90°.

Es)



1)



2)



3)



4)



5)



6)



7)



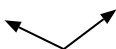
8)



9)



10)



11)



12)



13)



14)



15)



16)



17)



18)



19)



20)



Risposte

Es. minore

1. _____

2. _____

3. _____

4. _____

5. _____

6. _____

7. _____

8. _____

9. _____

10. _____

11. _____

12. _____

13. _____

14. _____

15. _____

16. _____

17. _____

18. _____

19. _____

20. _____



Determina se ogni angolo mostrato è 'minore', 'maggiore' o 'uguale' a 90° .

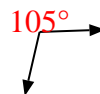
Es)



1)



2)



3)



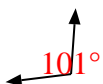
4)



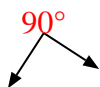
5)



6)



7)



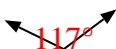
8)



9)



10)



11)



12)



13)



14)



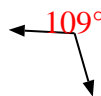
15)



16)



17)



18)



19)



20)



Risposte

Es. minore

1. uguale

2. maggiore

3. minore

4. uguale

5. minore

6. maggiore

7. uguale

8. maggiore

9. minore

10. maggiore

11. uguale

12. maggiore

13. minore

14. minore

15. uguale

16. maggiore

17. maggiore

18. uguale

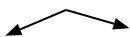
19. uguale

20. uguale



Determina se ogni angolo mostrato è 'minore', 'maggiore' o 'uguale' a 90°.

Es)



1)



2)

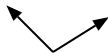


Risposte

Es. **maggiore**

- 1. _____
- 2. _____
- 3. _____
- 4. _____
- 5. _____
- 6. _____
- 7. _____
- 8. _____
- 9. _____
- 10. _____
- 11. _____
- 12. _____
- 13. _____
- 14. _____
- 15. _____
- 16. _____
- 17. _____
- 18. _____
- 19. _____
- 20. _____

3)



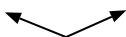
4)



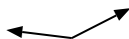
5)



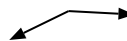
6)



7)



8)



9)



10)



11)



12)



13)



14)



15)



16)



17)



18)



19)



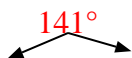
20)





Determina se ogni angolo mostrato è 'minore', 'maggiore' o 'uguale' a 90° .

Es)



1)



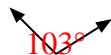
2)



Risposte

Es. maggiore

3)



4)



5)



1. minore

2. uguale

3. maggiore

4. uguale

5. uguale

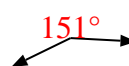
6)



7)



8)



6. maggiore

7. maggiore

8. maggiore

9)



10)



11)



9. minore

10. minore

11. minore

12)



13)



14)



12. uguale

13. minore

14. uguale

15)



16)



17)



15. uguale

16. maggiore

17. uguale

18)



19)



20)



18. minore

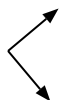
19. maggiore

20. minore



Determina se ogni angolo mostrato è 'minore', 'maggiore' o 'uguale' a 90°.

Es)



1)



2)



3)



4)



5)



6)



7)



8)



9)



10)



11)



12)



13)



14)



15)



16)



17)



18)



19)



20)



Risposte

Es. uguale

1. _____

2. _____

3. _____

4. _____

5. _____

6. _____

7. _____

8. _____

9. _____

10. _____

11. _____

12. _____

13. _____

14. _____

15. _____

16. _____

17. _____

18. _____

19. _____

20. _____



Determina se ogni angolo mostrato è 'minore', 'maggiore' o 'uguale' a 90° .

Es)



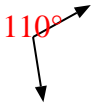
1)



2)



3)



4)



5)



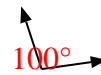
6)



7)



8)



9)



10)



11)



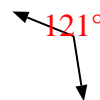
12)



13)



14)



15)



16)



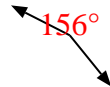
17)



18)



19)



20)



Risposte

Es. uguale

1. maggiore

2. minore

3. maggiore

4. minore

5. minore

6. maggiore

7. uguale

8. maggiore

9. uguale

10. minore

11. uguale

12. minore

13. minore

14. maggiore

15. minore

16. uguale

17. uguale

18. minore

19. maggiore

20. uguale

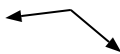


Determina se ogni angolo mostrato è 'minore', 'maggiore' o 'uguale' a 90°.

Es)



1)



2)



Es. **uguale**

3)



4)



5)



6)



7)



8)



9)



10)



11)



12)



13)



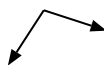
14)



15)



16)



17)



18)



19)



20)



Risposte

- Es. uguale
- 1. _____
- 2. _____
- 3. _____
- 4. _____
- 5. _____
- 6. _____
- 7. _____
- 8. _____
- 9. _____
- 10. _____
- 11. _____
- 12. _____
- 13. _____
- 14. _____
- 15. _____
- 16. _____
- 17. _____
- 18. _____
- 19. _____
- 20. _____

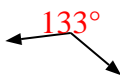


Determina se ogni angolo mostrato è 'minore', 'maggiore' o 'uguale' a 90° .

Es)



1)



2)



Es.

uguale

3)



4)



5)



1.

maggiore

2.

uguale

6)



7)



8)



3.

minore

4.

uguale

5.

minore

9)



10)



11)



6.

minore

7.

maggiore

8.

minore

9.

minore

10.

minore

12)



13)



14)



11.

uguale

12.

maggiore

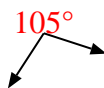
13.

uguale

15)



16)



17)



14.

maggiore

15.

uguale

16.

maggiore

18)



19)



20)



17.

uguale

18.

minore

19.

uguale

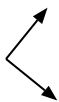
20.

minore



Determina se ogni angolo mostrato è 'minore', 'maggiore' o 'uguale' a 90°.

Es)



1)



2)



Risposte

Es. **uguale**

- 1. _____
- 2. _____
- 3. _____
- 4. _____
- 5. _____
- 6. _____
- 7. _____
- 8. _____
- 9. _____
- 10. _____
- 11. _____
- 12. _____
- 13. _____
- 14. _____
- 15. _____
- 16. _____
- 17. _____
- 18. _____
- 19. _____
- 20. _____

3)



4)



5)



6)



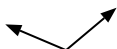
7)



8)



9)



10)



11)



12)



13)



14)



15)



16)



17)



18)



19)



20)





Determina se ogni angolo mostrato è 'minore', 'maggiore' o 'uguale' a 90° .

Es)



1)



2)



Risposte

Es. uguale

3)



4)



5)



1. uguale

2. minore

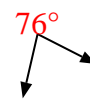
6)



7)



8)



3. minore

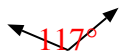
4. maggiore

5. maggiore

6. minore

7. minore

9)



10)



11)



8. minore

9. maggiore

10. uguale

12)



13)



14)



11. maggiore

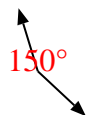
12. minore

13. uguale

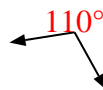
15)



16)



17)



14. uguale

15. uguale

16. maggiore

18)



19)



20)



17. maggiore

18. minore

19. uguale

20. minore