



Determina se ogni angolo mostrato è 'minore', 'maggiore' o 'uguale' a 90°.

Es)



1)



2)



Risposte

Es. **uguale**

- 1. _____
- 2. _____
- 3. _____
- 4. _____
- 5. _____
- 6. _____
- 7. _____
- 8. _____
- 9. _____
- 10. _____
- 11. _____
- 12. _____
- 13. _____
- 14. _____
- 15. _____
- 16. _____
- 17. _____
- 18. _____
- 19. _____
- 20. _____

3)



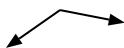
4)



5)



6)



7)



8)



9)



10)



11)



12)



13)



14)



15)



16)



17)



18)



19)



20)





Determina se ogni angolo mostrato è 'minore', 'maggiore' o 'uguale' a 90° .

Es)



1)



2)



Risposte

Es. uguale

3)



4)



5)



1. uguale

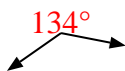
2. minore

3. minore

4. uguale

5. uguale

6)



7)



8)

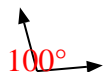


6. maggiore

7. maggiore

8. minore

9)



10)



11)



9. maggiore

10. uguale

11. maggiore

12)



13)



14)



12. minore

13. maggiore

14. uguale

15)



16)



17)



15. minore

16. maggiore

17. uguale

18)



19)



20)



18. minore

19. uguale

20. minore