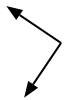




Determina se ogni angolo mostrato è 'minore', 'maggiore' o 'uguale' a 90°.

Risposte

Es)



1)



2)



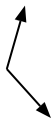
Es. **uguale**

- 1. _____
- 2. _____
- 3. _____
- 4. _____
- 5. _____
- 6. _____
- 7. _____
- 8. _____
- 9. _____
- 10. _____
- 11. _____
- 12. _____
- 13. _____
- 14. _____
- 15. _____
- 16. _____
- 17. _____
- 18. _____
- 19. _____
- 20. _____

3)



4)



5)



6)



7)



8)



9)



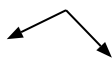
10)



11)



12)



13)



14)



15)



16)



17)



18)



19)



20)





Determina se ogni angolo mostrato è 'minore', 'maggiore' o 'uguale' a 90° .

Es)



1)



2)



Risposte

Es. uguale

3)



4)



5)



1. maggiore

2. minore

6)



7)



8)



3. minore

4. maggiore

5. maggiore

6. maggiore

7. uguale

9)



10)



11)



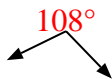
8. minore

9. minore

10. minore

11. uguale

12)



13)



14)



12. maggiore

13. minore

14. minore

15)



16)



17)



15. uguale

16. maggiore

17. maggiore

18)



19)



20)



18. uguale

19. uguale

20. uguale