



**Indica quale lettera rappresenta correttamente il peso di ogni oggetto**

**Risposte**

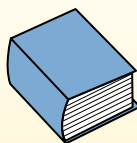
**Gramma (g)**

Un gramo es aproximadamente el peso de un clip.



**Kilogramo (kilogramo)**

Un kilogramo es aproximadamente el peso de un libro grueso.




**Recuerda:**

Kilo significa 1,000. Entonces, un kilogramo son 1,000 gramos. 1 kilogramo también pesa aproximadamente lo mismo que 2 libras.

1. \_\_\_\_\_
2. \_\_\_\_\_
3. \_\_\_\_\_
4. \_\_\_\_\_
5. \_\_\_\_\_
6. \_\_\_\_\_
7. \_\_\_\_\_
8. \_\_\_\_\_
9. \_\_\_\_\_

1)



2 litri di soda

- A. 50 grammi
- B. 2 chilogrammi
- C. 100 grammi
- D. 3 grammi

2)



TV a grande schermo

- A. 20 grammi
- B. 20 chilogrammi
- C. 100 grammi
- D. 1000 chilogrammi

3)



Pala

- A. 30 chilogrammi
- B. 5 chilogrammi
- C. 10 grammi
- D. 1 grammo

4)



Tenere sotto controllo

- A. 500 chilogrammi
- B. 8 chilogrammi
- C. 8 grammi
- D. 500 grammi


5)



Colla stick

- A. 500 grammi
- B. 1 chilogrammo
- C. 62 grammi
- D. 1 grammo

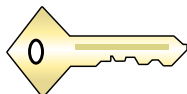
6)



poltrona reclinabile

- A. 150 grammi
- B. 1 chilogrammo
- C. 35 chilogrammi
- D. 90 grammi

7)



Chiave

- A. 1 grammo
- B. 100 chilogrammi
- C. 100 grammi
- D. 1 chilogrammo

8)



Schedario

- A. 1 grammo
- B. 55 chilogrammi
- C. 1 chilogrammo
- D. 300 grammi

9)



Scopa

- A. 10 chilogrammi
- B. 200 chilogrammi
- C. 10 grammi
- D. 500 grammi



Indica quale lettera rappresenta correttamente il peso di ogni oggetto

**Risposte**

**Gramma (g)**

Un gramo es aproximadamente el peso de un clip.



**Kilogramo (kilogramo)**


Un kilogramo es aproximadamente el peso de un libro grueso.



**Recuerda:**

Kilo significa 1,000. Entonces, un kilogramo son 1,000 gramos. 1 kilogramo también pesa aproximadamente lo mismo que 2 libras.

1)



2 litri di soda

- A. 50 grammi
- B. 2 chilogrammi
- C. 100 grammi
- D. 3 grammi

2)



TV a grande schermo

- A. 20 grammi
- B. 20 chilogrammi
- C. 100 grammi
- D. 1000 chilogrammi

3)



Pala

- A. 30 chilogrammi
- B. 5 chilogrammi
- C. 10 grammi
- D. 1 grammo

4)



Tenere sotto controllo

- A. 500 chilogrammi
- B. 8 chilogrammi
- C. 8 grammi
- D. 500 grammi


5)



Colla stick

- A. 500 grammi
- B. 1 chilogrammo
- C. 62 grammi
- D. 1 grammo

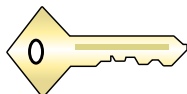
6)



poltrona reclinabile

- A. 150 grammi
- B. 1 chilogrammo
- C. 35 chilogrammi
- D. 90 grammi

7)



Chiave

- A. 1 grammo
- B. 100 chilogrammi
- C. 100 grammi
- D. 1 chilogrammo

8)



Schedario

- A. 1 grammo
- B. 55 chilogrammi
- C. 1 chilogrammo
- D. 300 grammi

9)



Scopa

- A. 10 chilogrammi
- B. 200 chilogrammi
- C. 10 grammi
- D. 500 grammi

- 1. **B**
- 2. **B**
- 3. **B**
- 4. **B**
- 5. **C**
- 6. **C**
- 7. **C**
- 8. **B**
- 9. **D**



**Indica quale lettera rappresenta correttamente il peso di ogni oggetto**

**Risposte**


**Gramma (g)**

Un gramo es aproximadamente el peso de un clip.



**Kilogramo (kilogramo)**

Un kilogramo es aproximadamente el peso de un libro grueso.




**Recuerda:**

Kilo significa 1,000. Entonces, un kilogramo son 1,000 gramos. 1 kilogramo también pesa aproximadamente lo mismo que 2 libras.

1. \_\_\_\_\_
2. \_\_\_\_\_
3. \_\_\_\_\_
4. \_\_\_\_\_
5. \_\_\_\_\_
6. \_\_\_\_\_
7. \_\_\_\_\_
8. \_\_\_\_\_
9. \_\_\_\_\_


1)



Macchina

- A. 15 grammi
- B. 2000 chilogrammi
- C. 6000 grammi
- D. 2 chilogrammi


2)



Taglia erba

- A. 500 grammi
- B. 22 chilogrammi
- C. 200 grammi
- D. 100 chilogrammi

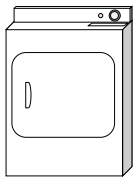
3)



Ragno

- A. 1 grammo
- B. 500 grammi
- C. 15 grammi
- D. 1 chilogrammo

4)



Asciugatrice

- A. 60 grammi
- B. 3 grammi
- C. 60 chilogrammi
- D. 3 chilogrammi

5)



Penna

- A. 500 grammi
- B. 5000 grammi
- C. 5 grammi
- D. 5 chilogrammi


6)



Mela

- A. 5 chilogrammi
- B. 200 chilogrammi
- C. 200 grammi
- D. 5 grammi

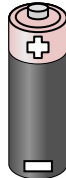
7)



Lattina di soda

- A. 1 grammo
- B. 250 grammi
- C. 500 chilogrammi
- D. 2 chilogrammi

8)



Batteria

- A. 1 grammo
- B. 15 grammi
- C. 10 chilogrammi
- D. 90 chilogrammi

9)



Telefono

- A. 500 grammi
- B. 5 grammi
- C. 15 chilogrammi
- D. 500 chilogrammi



Indica quale lettera rappresenta correttamente il peso di ogni oggetto

**Gramma (g)**

Un gramo es aproximadamente el peso de un clip.

**Kilogramo (kilogramo)**


Un kilogramo es aproximadamente el peso de un libro grueso.

**Recuerda:**

Kilo significa 1,000. Entonces, un kilogramo son 1,000 gramos. 1 kilogramo también pesa aproximadamente lo mismo que 2 libras.

**Risposte**

1)



Macchina

- A. 15 grammi
- B. 2000 chilogrammi
- C. 6000 grammi
- D. 2 chilogrammi


2)



Taglia erba

- A. 500 grammi
- B. 22 chilogrammi
- C. 200 grammi
- D. 100 chilogrammi

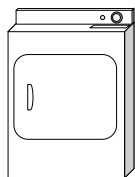
3)



Ragno

- A. 1 grammo
- B. 500 grammi
- C. 15 grammi
- D. 1 chilogrammo

4)



Asciugatrice

- A. 60 grammi
- B. 3 grammi
- C. 60 chilogrammi
- D. 3 chilogrammi

5)



Penna

- A. 500 grammi
- B. 5000 grammi
- C. 5 grammi
- D. 5 chilogrammi


6)



Mela

- A. 5 chilogrammi
- B. 200 chilogrammi
- C. 200 grammi
- D. 5 grammi

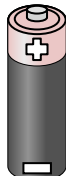
7)



Lattina di soda

- A. 1 grammo
- B. 250 grammi
- C. 500 chilogrammi
- D. 2 chilogrammi

8)



Batteria

- A. 1 grammo
- B. 15 grammi
- C. 10 chilogrammi
- D. 90 chilogrammi

9)



Telefono

- A. 500 grammi
- B. 5 grammi
- C. 15 chilogrammi
- D. 500 chilogrammi

- 1. **B**
- 2. **B**
- 3. **A**
- 4. **C**
- 5. **C**
- 6. **C**
- 7. **B**
- 8. **B**
- 9. **A**



**Indica quale lettera rappresenta correttamente il peso di ogni oggetto**

**Risposte**


**Gramma (g)**

Un gramo es aproximadamente el peso de un clip.



**Kilogramo (kilogramo)**

Un kilogramo es aproximadamente el peso de un libro grueso.




**Recuerda:**

Kilo significa 1,000. Entonces, un kilogramo son 1,000 gramos. 1 kilogramo también pesa aproximadamente lo mismo que 2 libras.


1. \_\_\_\_\_
2. \_\_\_\_\_
3. \_\_\_\_\_
4. \_\_\_\_\_
5. \_\_\_\_\_
6. \_\_\_\_\_
7. \_\_\_\_\_
8. \_\_\_\_\_
9. \_\_\_\_\_

1)



- Carta per taccuini
- A. 1 chilogrammo
  - B. 3 grammi
  - C. 500 grammi
  - D. 85 grammi

2)




- Skateboard
- A. 20 grammi
  - B. 15 chilogrammi
  - C. 2 chilogrammi
  - D. 200 grammi

3)




- Scopa
- A. 500 grammi
  - B. 10 chilogrammi
  - C. 10 grammi
  - D. 200 chilogrammi

4)



- Pera
- A. 2 chilogrammi
  - B. 170 chilogrammi
  - C. 170 grammi
  - D. 2 grammi

5)



- Taglia erba
- A. 500 grammi
  - B. 100 chilogrammi
  - C. 200 grammi
  - D. 22 chilogrammi

6)



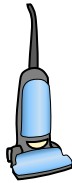
- Schedario
- A. 55 chilogrammi
  - B. 1 grammo
  - C. 300 grammi
  - D. 1 chilogrammo

7)




- Orologio da polso
- A. 1 grammo
  - B. 90 grammi
  - C. 1 chilogrammo
  - D. 500 chilogrammi

8)



- Vuoto
- A. 20 chilogrammi
  - B. 90 grammi
  - C. 500 chilogrammi
  - D. 50 grammi

9)



- Mela
- A. 5 grammi
  - B. 200 chilogrammi
  - C. 200 grammi
  - D. 5 chilogrammi



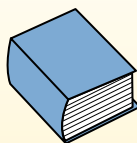
Indica quale lettera rappresenta correttamente il peso di ogni oggetto

**Gramma (g)**

Un gramo es aproximadamente el peso de un clip.

**Kilogramo (kilogramo)**


Un kilogramo es aproximadamente el peso de un libro grueso.

**Recuerda:**

Kilo significa 1,000. Entonces, un kilogramo son 1,000 gramos. 1 kilogramo también pesa aproximadamente lo mismo que 2 libras.

**Risposte**

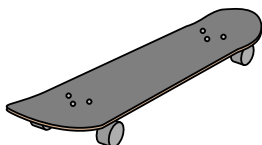
1)



Carta per taccuini

- A. 1 chilogrammo
- B. 3 grammi
- C. 500 grammi
- D. 85 grammi

2)



Skateboard

- A. 20 grammi
- B. 15 chilogrammi
- C. 2 chilogrammi
- D. 200 grammi


3)



Scopa

- A. 500 grammi
- B. 10 chilogrammi
- C. 10 grammi
- D. 200 chilogrammi


4)



Pera

- A. 2 chilogrammi
- B. 170 chilogrammi
- C. 170 grammi
- D. 2 grammi

5)



Taglia erba

- A. 500 grammi
- B. 100 chilogrammi
- C. 200 grammi
- D. 22 chilogrammi

6)



Schedario

- A. 55 chilogrammi
- B. 1 grammo
- C. 300 grammi
- D. 1 chilogrammo

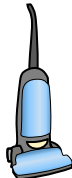
7)



Orologio da polso

- A. 1 grammo
- B. 90 grammi
- C. 1 chilogrammo
- D. 500 chilogrammi


8)



Vuoto

- A. 20 chilogrammi
- B. 90 grammi
- C. 500 chilogrammi
- D. 50 grammi

9)



Mela

- A. 5 grammi
- B. 200 chilogrammi
- C. 200 grammi
- D. 5 chilogrammi

- 1. **B**
- 2. **C**
- 3. **A**
- 4. **C**
- 5. **D**
- 6. **A**
- 7. **B**
- 8. **A**
- 9. **C**



Indica quale lettera rappresenta correttamente il peso di ogni oggetto

Risposte


**Gramma (g)**

Un gramo es aproximadamente el peso de un clip.



**Kilogramo (kilogramo)**

Un kilogramo es aproximadamente el peso de un libro grueso.

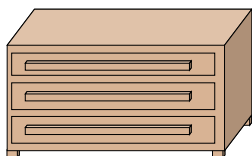


**Recuerda:**

Kilo significa 1,000. Entonces, un kilogramo son 1,000 gramos. 1 kilogramo también pesa aproximadamente lo mismo que 2 libras.

1. \_\_\_\_\_
2. \_\_\_\_\_
3. \_\_\_\_\_
4. \_\_\_\_\_
5. \_\_\_\_\_
6. \_\_\_\_\_
7. \_\_\_\_\_
8. \_\_\_\_\_
9. \_\_\_\_\_

1)



Costumista

- A. 500 chilogrammi
- B. 70 chilogrammi
- C. 20 grammi
- D. 350 grammi

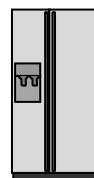
2)



Fornello

- A. 70 chilogrammi
- B. 15 grammi
- C. 70 grammi
- D. 15 chilogrammi


3)



Frigorifero

- A. 10 chilogrammi
- B. 40 grammi
- C. 90 chilogrammi
- D. 200 grammi

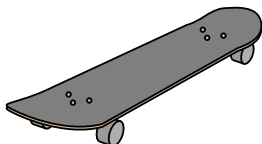
4)



Pera

- A. 170 chilogrammi
- B. 2 chilogrammi
- C. 170 grammi
- D. 2 grammi

5)



Skateboard

- A. 20 grammi
- B. 200 grammi
- C. 2 chilogrammi
- D. 15 chilogrammi

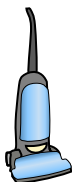
6)



Tenere sotto controllo

- A. 8 chilogrammi
- B. 500 grammi
- C. 500 chilogrammi
- D. 8 grammi


7)



Vuoto

- A. 20 chilogrammi
- B. 90 grammi
- C. 500 chilogrammi
- D. 50 grammi

8)



poltrona reclinabile

- A. 90 grammi
- B. 150 grammi
- C. 1 chilogrammo
- D. 35 chilogrammi

9)



Orologio da polso

- A. 500 chilogrammi
- B. 1 chilogrammo
- C. 1 grammo
- D. 90 grammi




Indica quale lettera rappresenta correttamente il peso di ogni oggetto

**Gramma (g)**

Un gramo es aproximadamente el peso de un clip.

**Kilogramo (kilogramo)**

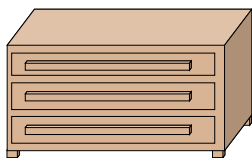
Un kilogramo es aproximadamente el peso de un libro grueso.

**Recuerda:**

Kilo significa 1,000. Entonces, un kilogramo son 1,000 gramos. 1 kilogramo también pesa aproximadamente lo mismo que 2 libras.

**Risposte**

1)



Costumista

- A. 500 chilogrammi
- B. 70 chilogrammi
- C. 20 grammi
- D. 350 grammi

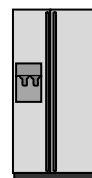
2)



Fornello

- A. 70 chilogrammi
- B. 15 grammi
- C. 70 grammi
- D. 15 chilogrammi


3)



Frigorifero

- A. 10 chilogrammi
- B. 40 grammi
- C. 90 chilogrammi
- D. 200 grammi

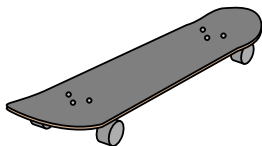
4)



Pera

- A. 170 chilogrammi
- B. 2 chilogrammi
- C. 170 grammi
- D. 2 grammi

5)



Skateboard

- A. 20 grammi
- B. 200 grammi
- C. 2 chilogrammi
- D. 15 chilogrammi

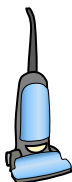
6)



Tenere sotto controllo

- A. 8 chilogrammi
- B. 500 grammi
- C. 500 chilogrammi
- D. 8 grammi

7)



Vuoto

- A. 20 chilogrammi
- B. 90 grammi
- C. 500 chilogrammi
- D. 50 grammi

8)



poltrona reclinabile

- A. 90 grammi
- B. 150 grammi
- C. 1 chilogrammo
- D. 35 chilogrammi

9)



Orologio da polso

- A. 500 chilogrammi
- B. 1 chilogrammo
- C. 1 grammo
- D. 90 grammi

- 1.   **B**
- 2.   **A**
- 3.   **C**
- 4.   **C**
- 5.   **C**
- 6.   **A**
- 7.   **A**
- 8.   **D**
- 9.   **D**





**Indica quale lettera rappresenta correttamente il peso di ogni oggetto**

**Risposte**


**Gramma (g)**

Un gramo es aproximadamente el peso de un clip.



**Kilogramo (kilogramo)**

Un kilogramo es aproximadamente el peso de un libro grueso.

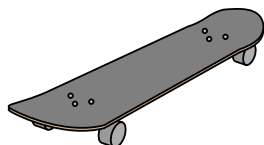


**Recuerda:**

Kilo significa 1,000. Entonces, un kilogramo son 1,000 gramos. 1 kilogramo también pesa aproximadamente lo mismo que 2 libras.

1. \_\_\_\_\_
2. \_\_\_\_\_
3. \_\_\_\_\_
4. \_\_\_\_\_
5. \_\_\_\_\_
6. \_\_\_\_\_
7. \_\_\_\_\_
8. \_\_\_\_\_
9. \_\_\_\_\_

1)



Skateboard

- A. 20 grammi
- B. 200 grammi
- C. 15 chilogrammi
- D. 2 chilogrammi

2)



Pala

- A. 1 grammo
- B. 5 chilogrammi
- C. 10 grammi
- D. 30 chilogrammi


3)



Candela

- A. 4 grammi
- B. 10 chilogrammi
- C. 500 grammi
- D. 2 chilogrammi


4)



Scarafaggio

- A. 500 grammi
- B. 1 grammo
- C. 2 chilogrammi
- D. 5000 grammi

5)



Ragno

- A. 1 grammo
- B. 15 grammi
- C. 500 grammi
- D. 1 chilogrammo

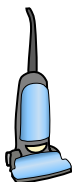
6)



Colla stick

- A. 1 grammo
- B. 500 grammi
- C. 1 chilogrammo
- D. 62 grammi

7)



Vuoto

- A. 500 chilogrammi
- B. 50 grammi
- C. 90 grammi
- D. 20 chilogrammi

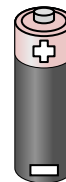
8)



poltrona reclinabile

- A. 90 grammi
- B. 1 chilogrammo
- C. 150 grammi
- D. 35 chilogrammi

9)



Batteria

- A. 15 grammi
- B. 10 chilogrammi
- C. 1 grammo
- D. 90 chilogrammi



Indica quale lettera rappresenta correttamente il peso di ogni oggetto

**Risposte**

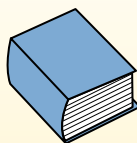
**Gramma (g)**

Un gramo es aproximadamente el peso de un clip.



**Kilogramo (kilogramo)**

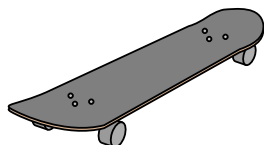
Un kilogramo es aproximadamente el peso de un libro grueso.



**Recuerda:**

Kilo significa 1,000. Entonces, un kilogramo son 1,000 gramos. 1 kilogramo también pesa aproximadamente lo mismo que 2 libras.

1)



Skateboard

- A. 20 grammi
- B. 200 grammi
- C. 15 chilogrammi
- D. 2 chilogrammi

2)



Pala

- A. 1 grammo
- B. 5 chilogrammi
- C. 10 grammi
- D. 30 chilogrammi


3)



Candela

- A. 4 grammi
- B. 10 chilogrammi
- C. 500 grammi
- D. 2 chilogrammi


4)



Scarafaggio

- A. 500 grammi
- B. 1 grammo
- C. 2 chilogrammi
- D. 5000 grammi

5)



Ragno

- A. 1 grammo
- B. 15 grammi
- C. 500 grammi
- D. 1 chilogrammo

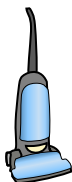
6)



Colla stick

- A. 1 grammo
- B. 500 grammi
- C. 1 chilogrammo
- D. 62 grammi

7)



Vuoto

- A. 500 chilogrammi
- B. 50 grammi
- C. 90 grammi
- D. 20 chilogrammi

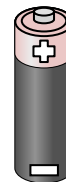
8)



poltrona reclinabile

- A. 90 grammi
- B. 1 chilogrammo
- C. 150 grammi
- D. 35 chilogrammi

9)



Batteria

- A. 15 grammi
- B. 10 chilogrammi
- C. 1 grammo
- D. 90 chilogrammi

- 1.   **D**
- 2.   **B**
- 3.   **A**
- 4.   **B**
- 5.   **A**
- 6.   **D**
- 7.   **D**
- 8.   **D**
- 9.   **A**



**Indica quale lettera rappresenta correttamente il peso di ogni oggetto**

**Risposte**


**Gramma (g)**

Un gramo es aproximadamente el peso de un clip.



**Kilogramo (kilogramo)**

Un kilogramo es aproximadamente el peso de un libro grueso.




**Recuerda:**

Kilo significa 1,000. Entonces, un kilogramo son 1,000 gramos. 1 kilogramo también pesa aproximadamente lo mismo que 2 libras.

1. \_\_\_\_\_
2. \_\_\_\_\_
3. \_\_\_\_\_
4. \_\_\_\_\_
5. \_\_\_\_\_
6. \_\_\_\_\_
7. \_\_\_\_\_
8. \_\_\_\_\_
9. \_\_\_\_\_


1)



Carta per taccuini

- A. 3 grammi
- B. 85 grammi
- C. 1 chilogrammo
- D. 500 grammi

2)



Scarafaggio

- A. 2 chilogrammi
- B. 5000 grammi
- C. 500 grammi
- D. 1 grammo

3)



Spazzolino

- A. 15 chilogrammi
- B. 30 grammi
- C. 500 chilogrammi
- D. 1 grammo


4)



Penna

- A. 5 chilogrammi
- B. 5 grammi
- C. 5000 grammi
- D. 500 grammi

5)



Macchina

- A. 2000 chilogrammi
- B. 15 grammi
- C. 6000 grammi
- D. 2 chilogrammi

6)



Scatola di cereali

- A. 5 grammi
- B. 425 chilogrammi
- C. 425 grammi
- D. 5 chilogrammi

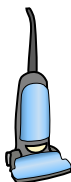
7)



Insetto

- A. 50 grammi
- B. 50 chilogrammi
- C. 1 chilogrammo
- D. 1 grammo

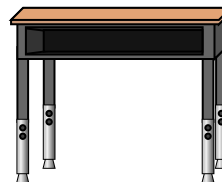
8)



Vuoto

- A. 500 chilogrammi
- B. 50 grammi
- C. 20 chilogrammi
- D. 90 grammi

9)



Scrivania

- A. 300 chilogrammi
- B. 15 chilogrammi
- C. 15 grammi
- D. 300 grammi



Indica quale lettera rappresenta correttamente il peso di ogni oggetto

**Gramma (g)**

Un gramo es aproximadamente el peso de un clip.

**Kilogramo (kilogramo)**


Un kilogramo es aproximadamente el peso de un libro grueso.

**Recuerda:**

Kilo significa 1,000. Entonces, un kilogramo son 1,000 gramos. 1 kilogramo también pesa aproximadamente lo mismo que 2 libras.

**Risposte**


1)



Carta per taccuini

- A. 3 grammi
- B. 85 grammi
- C. 1 chilogrammo
- D. 500 grammi

2)



Scarafaggio

- A. 2 chilogrammi
- B. 5000 grammi
- C. 500 grammi
- D. 1 grammo

3)



Spazzolino

- A. 15 chilogrammi
- B. 30 grammi
- C. 500 chilogrammi
- D. 1 grammo


4)



Penna

- A. 5 chilogrammi
- B. 5 grammi
- C. 5000 grammi
- D. 500 grammi

5)



Macchina

- A. 2000 chilogrammi
- B. 15 grammi
- C. 6000 grammi
- D. 2 chilogrammi

6)



Scatola di cereali

- A. 5 grammi
- B. 425 chilogrammi
- C. 425 grammi
- D. 5 chilogrammi

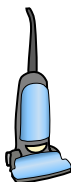
7)



Insetto

- A. 50 grammi
- B. 50 chilogrammi
- C. 1 chilogrammo
- D. 1 grammo

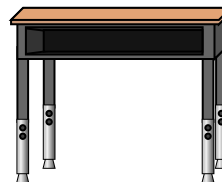
8)



Vuoto

- A. 500 chilogrammi
- B. 50 grammi
- C. 20 chilogrammi
- D. 90 grammi

9)



Scrivania

- A. 300 chilogrammi
- B. 15 chilogrammi
- C. 15 grammi
- D. 300 grammi

- 1. **A**
- 2. **D**
- 3. **B**
- 4. **B**
- 5. **A**
- 6. **C**
- 7. **D**
- 8. **C**
- 9. **B**



**Indica quale lettera rappresenta correttamente il peso di ogni oggetto**

**Risposte**

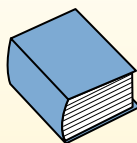
**Gramma (g)**

Un gramo es aproximadamente el peso de un clip.



**Kilogramo (kilogramo)**

Un kilogramo es aproximadamente el peso de un libro grueso.



**Recuerda:**

Kilo significa 1,000. Entonces, un kilogramo son 1,000 gramos. 1 kilogramo también pesa aproximadamente lo mismo que 2 libras.

1. \_\_\_\_\_
2. \_\_\_\_\_
3. \_\_\_\_\_
4. \_\_\_\_\_
5. \_\_\_\_\_
6. \_\_\_\_\_
7. \_\_\_\_\_
8. \_\_\_\_\_
9. \_\_\_\_\_

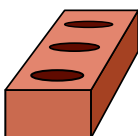
1)



Candela

- A. 10 chilogrammi
- B. 500 grammi
- C. 4 grammi
- D. 2 chilogrammi


2)



Mattone

- A. 2 chilogrammi
- B. 500 chilogrammi
- C. 3 grammi
- D. 500 grammi

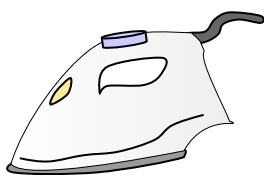
3)



Piuma

- A. 200 grammi
- B. 200 chilogrammi
- C. 1 chilogrammo
- D. 1 grammo

4)



Ferro da stiro

- A. 15 grammi
- B. 100 grammi
- C. 15 chilogrammi
- D. 2 chilogrammi

5)



Pala

- A. 30 chilogrammi
- B. 5 chilogrammi
- C. 10 grammi
- D. 1 grammo

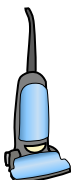
6)



Schedario

- A. 1 grammo
- B. 1 chilogrammo
- C. 55 chilogrammi
- D. 300 grammi

7)



Vuoto

- A. 20 chilogrammi
- B. 500 chilogrammi
- C. 90 grammi
- D. 50 grammi


8)



Chiavetta USB

- A. 10 grammi
- B. 90 chilogrammi
- C. 10 chilogrammi
- D. 1 chilogrammo

9)



cavallo adulto

- A. 30 chilogrammi
- B. 400 chilogrammi
- C. 400 grammi
- D. 30 grammi




Indica quale lettera rappresenta correttamente il peso di ogni oggetto

**Gramma (g)**

Un gramo es aproximadamente el peso de un clip.

**Kilogramo (kilogramo)**

Un kilogramo es aproximadamente el peso de un libro grueso.

**Recuerda:**

Kilo significa 1,000. Entonces, un kilogramo son 1,000 gramos. 1 kilogramo también pesa aproximadamente lo mismo que 2 libras.

**Risposte**

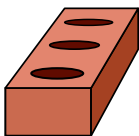
1)



Candela

- A. 10 chilogrammi
- B. 500 grammi
- C. 4 grammi
- D. 2 chilogrammi


2)



Mattone

- A. 2 chilogrammi
- B. 500 chilogrammi
- C. 3 grammi
- D. 500 grammi


3)



Piuma

- A. 200 grammi
- B. 200 chilogrammi
- C. 1 chilogrammo
- D. 1 grammo

4)



Ferro da stiro

- A. 15 grammi
- B. 100 grammi
- C. 15 chilogrammi
- D. 2 chilogrammi

5)



Pala

- A. 30 chilogrammi
- B. 5 chilogrammi
- C. 10 grammi
- D. 1 grammo

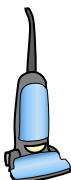
6)



Schedario

- A. 1 grammo
- B. 1 chilogrammo
- C. 55 chilogrammi
- D. 300 grammi

7)



Vuoto

- A. 20 chilogrammi
- B. 500 chilogrammi
- C. 90 grammi
- D. 50 grammi


8)



Chiavetta USB

- A. 10 grammi
- B. 90 chilogrammi
- C. 10 chilogrammi
- D. 1 chilogrammo

9)



cavallo adulto

- A. 30 chilogrammi
- B. 400 chilogrammi
- C. 400 grammi
- D. 30 grammi

- 1.   **C**
- 2.   **A**
- 3.   **D**
- 4.   **D**
- 5.   **B**
- 6.   **C**
- 7.   **A**
- 8.   **A**
- 9.   **B**



**Indica quale lettera rappresenta correttamente il peso di ogni oggetto**

**Risposte**

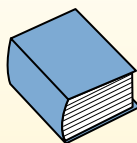
**Gramma (g)**

Un gramo es aproximadamente el peso de un clip.



**Kilogramo (kilogramo)**

Un kilogramo es aproximadamente el peso de un libro grueso.



**Recuerda:**

Kilo significa 1,000. Entonces, un kilogramo son 1,000 gramos. 1 kilogramo también pesa aproximadamente lo mismo que 2 libras.

1. \_\_\_\_\_
2. \_\_\_\_\_
3. \_\_\_\_\_
4. \_\_\_\_\_
5. \_\_\_\_\_
6. \_\_\_\_\_
7. \_\_\_\_\_
8. \_\_\_\_\_
9. \_\_\_\_\_

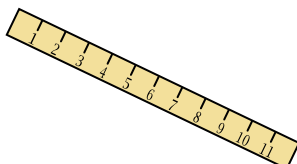
1)



Palla da tennis

- A. 1 grammo
- B. 15 chilogrammi
- C. 1 chilogrammo
- D. 50 grammi

2)



Governate

- A. 999 grammi
- B. 30 chilogrammi
- C. 20 grammi
- D. 1 grammo

3)



Candela

- A. 4 grammi
- B. 10 chilogrammi
- C. 500 grammi
- D. 2 chilogrammi

4)



Set di pesi

- A. 200 grammi
- B. 1 chilogrammo
- C. 100 chilogrammi
- D. 100 grammi

5)



Popcorn

- A. 1 chilogrammo
- B. 100 grammi
- C. 100 chilogrammi
- D. 1 grammo

6)



Fornello

- A. 15 chilogrammi
- B. 15 grammi
- C. 70 grammi
- D. 70 chilogrammi

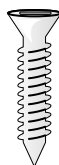
7)



Chiodo

- A. 3 grammi
- B. 500 grammi
- C. 3 chilogrammi
- D. 2 chilogrammi

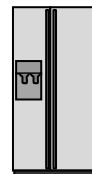
8)



Vite

- A. 1 grammo
- B. 500 chilogrammi
- C. 500 grammi
- D. 1 chilogrammo

9)



Frigorifero

- A. 40 grammi
- B. 200 grammi
- C. 10 chilogrammi
- D. 90 chilogrammi




Indica quale lettera rappresenta correttamente il peso di ogni oggetto

**Gramma (g)**

Un gramo es aproximadamente el peso de un clip.

**Kilogramo (kilogramo)**

Un kilogramo es aproximadamente el peso de un libro grueso.

**Recuerda:**

Kilo significa 1,000. Entonces, un kilogramo son 1,000 gramos. 1 kilogramo también pesa aproximadamente lo mismo que 2 libras.

**Risposte**

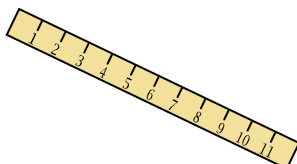
1)



Palla da tennis

- A. 1 grammo
- B. 15 chilogrammi
- C. 1 chilogrammo
- D. 50 grammi

2)



Governate

- A. 999 grammi
- B. 30 chilogrammi
- C. 20 grammi
- D. 1 grammo

3)



Candela

- A. 4 grammi
- B. 10 chilogrammi
- C. 500 grammi
- D. 2 chilogrammi

1. **D**2. **C**3. **A**4. **C**5. **D**6. **D**7. **A**8. **A**9. **D**

4)



Set di pesi

- A. 200 grammi
- B. 1 chilogrammo
- C. 100 chilogrammi
- D. 100 grammi

5)



Popcorn

- A. 1 chilogrammo
- B. 100 grammi
- C. 100 chilogrammi
- D. 1 grammo

6)



Fornello

- A. 15 chilogrammi
- B. 15 grammi
- C. 70 grammi
- D. 70 chilogrammi

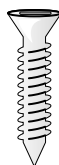
7)



Chiodo

- A. 3 grammi
- B. 500 grammi
- C. 3 chilogrammi
- D. 2 chilogrammi

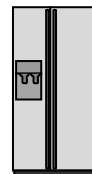
8)



Vite

- A. 1 grammo
- B. 500 chilogrammi
- C. 500 grammi
- D. 1 chilogrammo

9)



Frigorifero

- A. 40 grammi
- B. 200 grammi
- C. 10 chilogrammi
- D. 90 chilogrammi





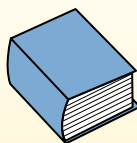
Indica quale lettera rappresenta correttamente il peso di ogni oggetto

**Risposte****Gramma (g)**

Un gramo es aproximadamente el peso de un clip.

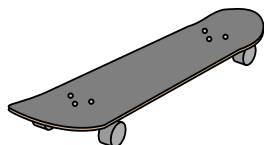
**Kilogramo (kilogramo)**

Un kilogramo es aproximadamente el peso de un libro grueso.

**Recuerda:**

Kilo significa 1,000. Entonces, un kilogramo son 1,000 gramos. 1 kilogramo también pesa aproximadamente lo mismo que 2 libras.

1)



Skateboard

- A. 15 chilogrammi
- B. 2 chilogrammi
- C. 20 grammi
- D. 200 grammi

2)



TV a grande schermo

- A. 20 chilogrammi
- B. 1000 chilogrammi
- C. 100 grammi
- D. 20 grammi

3)



2 litri di soda

- A. 100 grammi
- B. 3 grammi
- C. 2 chilogrammi
- D. 50 grammi


4)



Penna

- A. 5 chilogrammi
- B. 5000 grammi
- C. 500 grammi
- D. 5 grammi

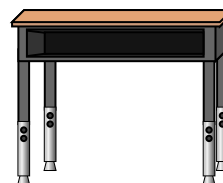
5)



Scarafaggio

- A. 1 grammo
- B. 500 grammi
- C. 5000 grammi
- D. 2 chilogrammi

6)



Scrivania

- A. 300 grammi
- B. 15 chilogrammi
- C. 300 chilogrammi
- D. 15 grammi

7)



Scopa

- A. 200 chilogrammi
- B. 10 grammi
- C. 10 chilogrammi
- D. 500 grammi


8)



Pala

- A. 30 chilogrammi
- B. 5 chilogrammi
- C. 1 grammo
- D. 10 grammi

9)



Elefante

- A. 30 chilogrammi
- B. 90 grammi
- C. 5000 grammi
- D. 5000 chilogrammi

1. \_\_\_\_\_
2. \_\_\_\_\_
3. \_\_\_\_\_
4. \_\_\_\_\_
5. \_\_\_\_\_
6. \_\_\_\_\_
7. \_\_\_\_\_
8. \_\_\_\_\_
9. \_\_\_\_\_



Indica quale lettera rappresenta correttamente il peso di ogni oggetto

**Gramma (g)**

Un gramo es aproximadamente el peso de un clip.

**Kilogramo (kilogramo)**

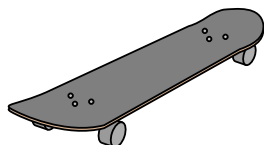
Un kilogramo es aproximadamente el peso de un libro grueso.

**Recuerda:**

Kilo significa 1,000. Entonces, un kilogramo son 1,000 gramos. 1 kilogramo también pesa aproximadamente lo mismo que 2 libras.

**Risposte**

1)



Skateboard

- A. 15 chilogrammi
- B. 2 chilogrammi
- C. 20 grammi
- D. 200 grammi

2)



TV a grande schermo

- A. 20 chilogrammi
- B. 1000 chilogrammi
- C. 100 grammi
- D. 20 grammi

3)



2 litri di soda

- A. 100 grammi
- B. 3 grammi
- C. 2 chilogrammi
- D. 50 grammi


4)



Penna

- A. 5 chilogrammi
- B. 5000 grammi
- C. 500 grammi
- D. 5 grammi

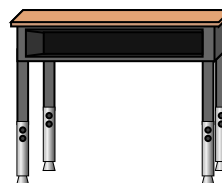
5)



Scarafaggio

- A. 1 grammo
- B. 500 grammi
- C. 5000 grammi
- D. 2 chilogrammi

6)



Scrivania

- A. 300 grammi
- B. 15 chilogrammi
- C. 300 chilogrammi
- D. 15 grammi

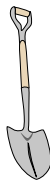
7)



Scopa

- A. 200 chilogrammi
- B. 10 grammi
- C. 10 chilogrammi
- D. 500 grammi


8)



Pala

- A. 30 chilogrammi
- B. 5 chilogrammi
- C. 1 grammo
- D. 10 grammi

9)



Elefante

- A. 30 chilogrammi
- B. 90 grammi
- C. 5000 grammi
- D. 5000 chilogrammi

- 1. **B**
- 2. **A**
- 3. **C**
- 4. **D**
- 5. **A**
- 6. **B**
- 7. **D**
- 8. **B**
- 9. **D**



**Indica quale lettera rappresenta correttamente il peso di ogni oggetto**

**Risposte**


**Gramma (g)**

Un gramo es aproximadamente el peso de un clip.



**Kilogramo (kilogramo)**

Un kilogramo es aproximadamente el peso de un libro grueso.




**Recuerda:**

Kilo significa 1,000. Entonces, un kilogramo son 1,000 gramos. 1 kilogramo también pesa aproximadamente lo mismo que 2 libras.

1. \_\_\_\_\_
2. \_\_\_\_\_
3. \_\_\_\_\_
4. \_\_\_\_\_
5. \_\_\_\_\_
6. \_\_\_\_\_
7. \_\_\_\_\_
8. \_\_\_\_\_
9. \_\_\_\_\_

1)



Mela

- A. 200 grammi
- B. 5 grammi
- C. 5 chilogrammi
- D. 200 chilogrammi

2)



Chiavetta USB

- A. 10 chilogrammi
- B. 10 grammi
- C. 1 chilogrammo
- D. 90 chilogrammi

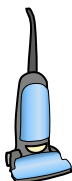
3)



Orologio da polso

- A. 500 chilogrammi
- B. 1 grammo
- C. 90 grammi
- D. 1 chilogrammo

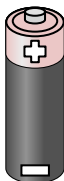
4)



Vuoto

- A. 500 chilogrammi
- B. 90 grammi
- C. 20 chilogrammi
- D. 50 grammi

5)



Batteria

- A. 10 chilogrammi
- B. 90 chilogrammi
- C. 15 grammi
- D. 1 grammo

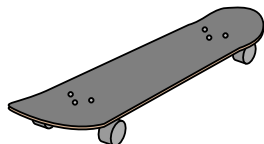
6)



Spazzolino

- A. 30 grammi
- B. 500 chilogrammi
- C. 1 grammo
- D. 15 chilogrammi

7)



Skateboard

- A. 20 grammi
- B. 200 grammi
- C. 15 chilogrammi
- D. 2 chilogrammi


8)



Palla da tennis

- A. 15 chilogrammi
- B. 1 chilogrammo
- C. 1 grammo
- D. 50 grammi

9)



Pera

- A. 170 chilogrammi
- B. 2 chilogrammi
- C. 170 grammi
- D. 2 grammi



Indica quale lettera rappresenta correttamente il peso di ogni oggetto

**Gramma (g)**

Un gramo es aproximadamente el peso de un clip.

**Kilogramo (kilogramo)**


Un kilogramo es aproximadamente el peso de un libro grueso.

**Recuerda:**

Kilo significa 1,000. Entonces, un kilogramo son 1,000 gramos. 1 kilogramo también pesa aproximadamente lo mismo que 2 libras.

**Risposte**

1)



Mela

- A. 200 grammi
- B. 5 grammi
- C. 5 chilogrammi
- D. 200 chilogrammi

2)



Chiavetta USB

- A. 10 chilogrammi
- B. 10 grammi
- C. 1 chilogrammo
- D. 90 chilogrammi

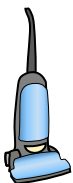
3)



Orologio da polso

- A. 500 chilogrammi
- B. 1 grammo
- C. 90 grammi
- D. 1 chilogrammo


4)



Vuoto

- A. 500 chilogrammi
- B. 90 grammi
- C. 20 chilogrammi
- D. 50 grammi

5)



Batteria

- A. 10 chilogrammi
- B. 90 chilogrammi
- C. 15 grammi
- D. 1 grammo

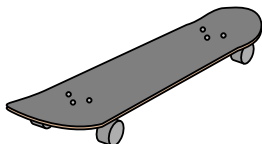
6)



Spazzolino

- A. 30 grammi
- B. 500 chilogrammi
- C. 1 grammo
- D. 15 chilogrammi

7)



Skateboard

- A. 20 grammi
- B. 200 grammi
- C. 15 chilogrammi
- D. 2 chilogrammi


8)



Palla da tennis

- A. 15 chilogrammi
- B. 1 chilogrammo
- C. 1 grammo
- D. 50 grammi

9)



Pera

- A. 170 chilogrammi
- B. 2 chilogrammi
- C. 170 grammi
- D. 2 grammi

- 1.   **A**
- 2.   **B**
- 3.   **C**
- 4.   **C**
- 5.   **C**
- 6.   **A**
- 7.   **D**
- 8.   **D**
- 9.   **C**