



Indica quale lettera rappresenta correttamente il peso di ogni oggetto

Risposte


Gramma (g)

Un gramo es aproximadamente el peso de un clip.



Kilogramo (kilogramo)

Un kilogramo es aproximadamente el peso de un libro grueso.



Recuerda:

Kilo significa 1,000. Entonces, un kilogramo son 1,000 gramos. 1 kilogramo también pesa aproximadamente lo mismo que 2 libras.

1. _____
2. _____
3. _____
4. _____
5. _____
6. _____
7. _____
8. _____
9. _____

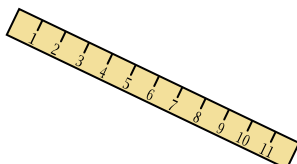
1)



Palla da tennis

- A. 1 grammo
- B. 15 chilogrammi
- C. 1 chilogrammo
- D. 50 grammi

2)



Governate

- A. 999 grammi
- B. 30 chilogrammi
- C. 20 grammi
- D. 1 grammo


3)



Candela

- A. 4 grammi
- B. 10 chilogrammi
- C. 500 grammi
- D. 2 chilogrammi

4)



Set di pesi

- A. 200 grammi
- B. 1 chilogrammo
- C. 100 chilogrammi
- D. 100 grammi

5)



Popcorn

- A. 1 chilogrammo
- B. 100 grammi
- C. 100 chilogrammi
- D. 1 grammo

6)



Fornello

- A. 15 chilogrammi
- B. 15 grammi
- C. 70 grammi
- D. 70 chilogrammi


7)



Chiodo

- A. 3 grammi
- B. 500 grammi
- C. 3 chilogrammi
- D. 2 chilogrammi

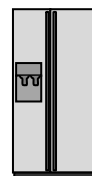
8)



Vite

- A. 1 grammo
- B. 500 chilogrammi
- C. 500 grammi
- D. 1 chilogrammo

9)



Frigorifero

- A. 40 grammi
- B. 200 grammi
- C. 10 chilogrammi
- D. 90 chilogrammi




Indica quale lettera rappresenta correttamente il peso di ogni oggetto

Gramma (g)

Un gramo es aproximadamente el peso de un clip.

**Kilogramo (kilogramo)**

Un kilogramo es aproximadamente el peso de un libro grueso.

**Recuerda:**

Kilo significa 1,000. Entonces, un kilogramo son 1,000 gramos. 1 kilogramo también pesa aproximadamente lo mismo que 2 libras.

Risposte

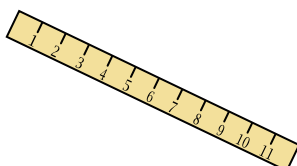
1)



Palla da tennis

- A. 1 grammo
- B. 15 chilogrammi
- C. 1 chilogrammo
- D. 50 grammi

2)



Governate

- A. 999 grammi
- B. 30 chilogrammi
- C. 20 grammi
- D. 1 grammo

3)




Candela

- A. 4 grammi
- B. 10 chilogrammi
- C. 500 grammi
- D. 2 chilogrammi

1. **D**2. **C**3. **A**4. **C**5. **D**6. **D**7. **A**8. **A**

4)



Set di pesi

- A. 200 grammi
- B. 1 chilogrammo
- C. 100 chilogrammi
- D. 100 grammi

5)



Popcorn

- A. 1 chilogrammo
- B. 100 grammi
- C. 100 chilogrammi
- D. 1 grammo

6)



Fornello

- A. 15 chilogrammi
- B. 15 grammi
- C. 70 grammi
- D. 70 chilogrammi

9. **D**

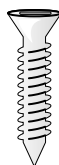
7)



Chiodo

- A. 3 grammi
- B. 500 grammi
- C. 3 chilogrammi
- D. 2 chilogrammi

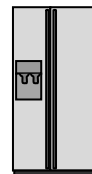
8)



Vite

- A. 1 grammo
- B. 500 chilogrammi
- C. 500 grammi
- D. 1 chilogrammo

9)



Frigorifero

- A. 40 grammi
- B. 200 grammi
- C. 10 chilogrammi
- D. 90 chilogrammi