



Usa il modello grafico per risolvere ogni problema.

1) Queste sono le seguenti 5 quadrati.



Se ne devi togliere 3, quante ne rimangono??

$$5 - 3 = ?$$

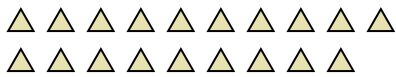
3) Queste sono le seguenti 2 quadrati.



Se ne devi togliere 1, quante ne rimangono??

$$2 - 1 = ?$$

5) Queste sono le seguenti 19 triangoli.



Se ne devi togliere 17, quante ne rimangono??

$$19 - 17 = ?$$

7) Queste sono le seguenti 8 quadrati.



Se ne devi togliere 4, quante ne rimangono??

$$8 - 4 = ?$$

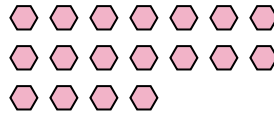
9) Queste sono le seguenti 9 stelle.



Se ne devi togliere 8, quante ne rimangono??

$$9 - 8 = ?$$

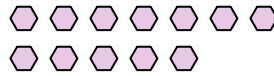
2) Queste sono le seguenti 18 esagoni.



Se ne devi togliere 6, quante ne rimangono??

$$18 - 6 = ?$$

4) Queste sono le seguenti 12 esagoni.



Se ne devi togliere 9, quante ne rimangono??

$$12 - 9 = ?$$


6) Queste sono le seguenti 12 rettangoli.



Se ne devi togliere 10, quante ne rimangono??

$$12 - 10 = ?$$

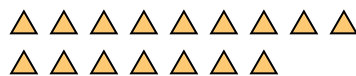
8) Queste sono le seguenti 18 cerchi.



Se ne devi togliere 10, quante ne rimangono??

$$18 - 10 = ?$$

10) Queste sono le seguenti 16 triangoli.



Se ne devi togliere 11, quante ne rimangono??

$$16 - 11 = ?$$

Risposte

1. _____

2. _____

3. _____

4. _____

5. _____

6. _____

7. _____

8. _____

9. _____

10. _____



Usa il modello grafico per risolvere ogni problema.


1) Queste sono le seguenti 5 quadrati.



Se ne devi togliere 3, quante ne rimangono??

$5 - 3 = ?$

2) Queste sono le seguenti 18 esagoni.



Se ne devi togliere 6, quante ne rimangono??

$18 - 6 = ?$

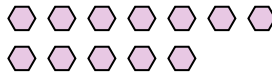
3) Queste sono le seguenti 2 quadrati.



Se ne devi togliere 1, quante ne rimangono??

$2 - 1 = ?$

4) Queste sono le seguenti 12 esagoni.



Se ne devi togliere 9, quante ne rimangono??

$12 - 9 = ?$

5) Queste sono le seguenti 19 triangoli.



Se ne devi togliere 17, quante ne rimangono??

$19 - 17 = ?$

6) Queste sono le seguenti 12 rettangoli.



Se ne devi togliere 10, quante ne rimangono??

$12 - 10 = ?$


7) Queste sono le seguenti 8 quadrati.



Se ne devi togliere 4, quante ne rimangono??

$8 - 4 = ?$

8) Queste sono le seguenti 18 cerchi.



Se ne devi togliere 10, quante ne rimangono??

$18 - 10 = ?$

9) Queste sono le seguenti 9 stelle.



Se ne devi togliere 8, quante ne rimangono??

$9 - 8 = ?$

10) Queste sono le seguenti 16 triangoli.



Se ne devi togliere 11, quante ne rimangono??

$16 - 11 = ?$

Risposte1. 22. 123. 14. 35. 26. 27. 48. 89. 110. 5