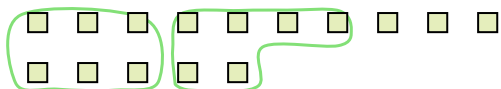




Segui l'esempio per rispondere alle domande.

Es) Cisono 15 figure qui sotto. Quanti gruppi di 6 puoi fare? Quanti ne restano fuori?



1) Cisono 20 figure qui sotto. Quanti gruppi di 5 puoi fare? Quanti ne restano fuori?



Risposte

Es. 2

Es. 3

1. _____

1. _____

2. _____

2. _____

3. _____

3. _____

4. _____

4. _____

5. _____

5. _____

6. _____

6. _____

7. _____

7. _____


8. _____

8. _____


9. _____

9. _____

2) Cisono 23 figure qui sotto. Quanti gruppi di 5 puoi fare? Quanti ne restano fuori?



3) Cisono 12 figure qui sotto. Quanti gruppi di 5 puoi fare? Quanti ne restano fuori?



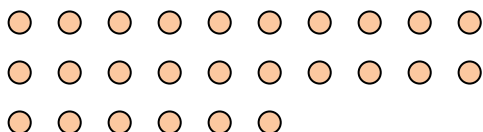
4) Cisono 28 figure qui sotto. Quanti gruppi di 9 puoi fare? Quanti ne restano fuori?



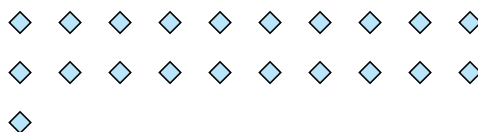
5) Cisono 10 figure qui sotto. Quanti gruppi di 6 puoi fare? Quanti ne restano fuori?



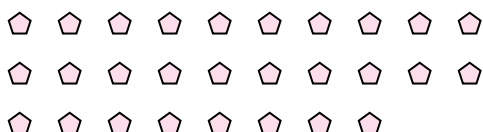
6) Cisono 26 figure qui sotto. Quanti gruppi di 8 puoi fare? Quanti ne restano fuori?




7) Cisono 21 figure qui sotto. Quanti gruppi di 5 puoi fare? Quanti ne restano fuori?



8) Cisono 28 figure qui sotto. Quanti gruppi di 7 puoi fare? Quanti ne restano fuori?



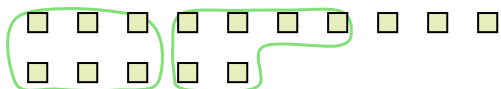
9) Cisono 24 figure qui sotto. Quanti gruppi di 9 puoi fare? Quanti ne restano fuori?





Segui l'esempio per rispondere alle domande.

Es) Cisono 15 figure qui sotto. Quanti gruppi di 6 puoi fare? Quanti ne restano fuori?



1) Cisono 20 figure qui sotto. Quanti gruppi di 5 puoi fare? Quanti ne restano fuori?



Risposte

Es. 2

Es. 3

1. 4

1. 0

2. 4

2. 3

3. 2

3. 2

4. 3

4. 1

5. 1

5. 4

6. 3

6. 2

7. 4

7. 1


8. 4

8. 0


9. 2

9. 6

2) Cisono 23 figure qui sotto. Quanti gruppi di 5 puoi fare? Quanti ne restano fuori?



3) Cisono 12 figure qui sotto. Quanti gruppi di 5 puoi fare? Quanti ne restano fuori?



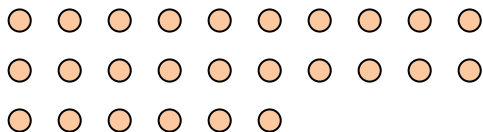
4) Cisono 28 figure qui sotto. Quanti gruppi di 9 puoi fare? Quanti ne restano fuori?



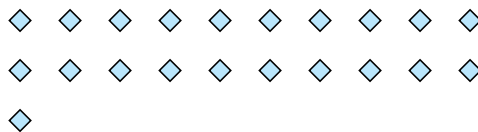
5) Cisono 10 figure qui sotto. Quanti gruppi di 6 puoi fare? Quanti ne restano fuori?



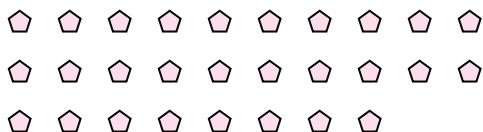
6) Cisono 26 figure qui sotto. Quanti gruppi di 8 puoi fare? Quanti ne restano fuori?



7) Cisono 21 figure qui sotto. Quanti gruppi di 5 puoi fare? Quanti ne restano fuori?



8) Cisono 28 figure qui sotto. Quanti gruppi di 7 puoi fare? Quanti ne restano fuori?



9) Cisono 24 figure qui sotto. Quanti gruppi di 9 puoi fare? Quanti ne restano fuori?

