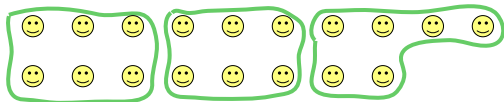


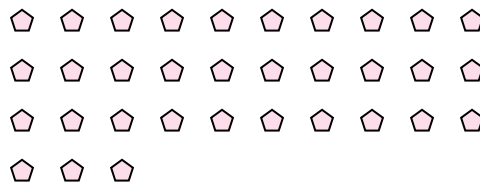


Usa le forme per risopndere alle domande.


Es) Quanti gruppi di 6 puoi fare con le 18 forme qui sotto?



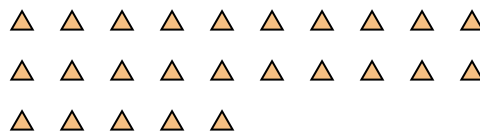
1) Quanti gruppi di 3 puoi fare con le 33 forme qui sotto?



2) Quanti gruppi di 5 puoi fare con le 30 forme qui sotto?



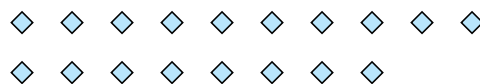
3) Quanti gruppi di 5 puoi fare con le 25 forme qui sotto?




4) Quanti gruppi di 2 puoi fare con le 34 forme qui sotto?



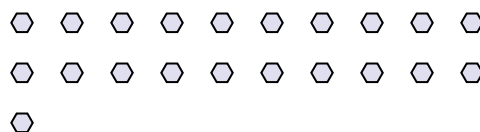
5) Quanti gruppi di 9 puoi fare con le 18 forme qui sotto?




6) Quanti gruppi di 6 puoi fare con le 18 forme qui sotto?



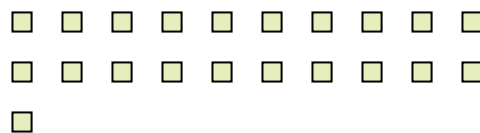
7) Quanti gruppi di 7 puoi fare con le 21 forme qui sotto?



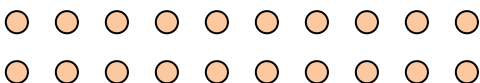
8) Quanti gruppi di 8 puoi fare con le 40 forme qui sotto?



9) Quanti gruppi di 3 puoi fare con le 21 forme qui sotto?



10) Quanti gruppi di 5 puoi fare con le 20 forme qui sotto?



11) Quanti gruppi di 6 puoi fare con le 18 forme qui sotto?



Risposte

Es. 3

1. 11

2. 6

3. 5

4. 17

5. 2

6. 3

7. 3

8. 5

9. 7

10. 4

11. 3