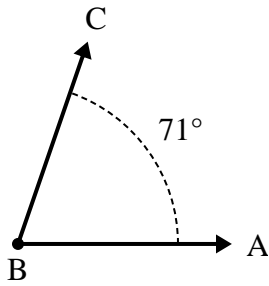




Risolvi ogni problema.

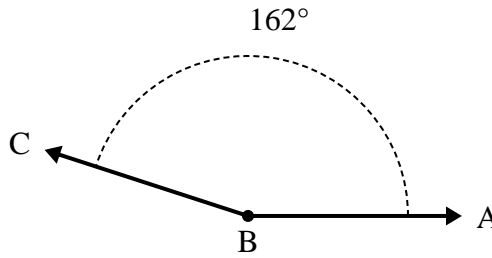
Risposte

1)



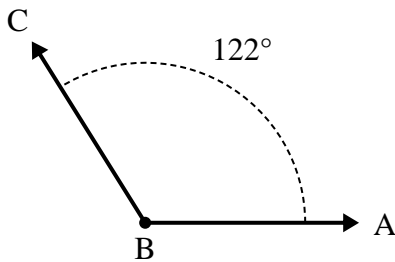
- A. Disegna e nomina una semiretta BD in maniera tale che divida l'angolo ABC in due angoli più piccoli, con un angolo ABD che misuri 41 gradi.
 B. Quanto misura l'angolo DBC?

2)



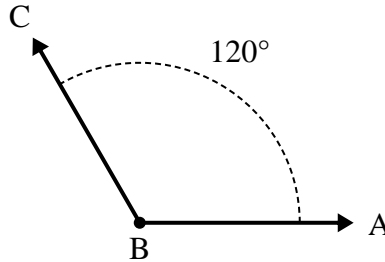
- A. Disegna e nomina una semiretta BD in maniera tale che divida l'angolo ABC in due angoli più piccoli, con un angolo ABD che misuri 68 gradi.
 B. Quanto misura l'angolo DBC?

3)



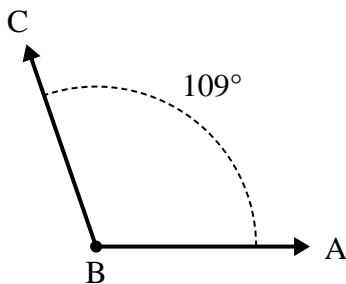
- A. Disegna e nomina una semiretta BD in maniera tale che divida l'angolo ABC in due angoli più piccoli, con un angolo ABD che misuri 75 gradi.
 B. Quanto misura l'angolo DBC?

4)



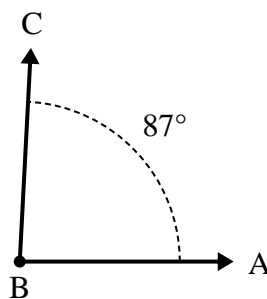
- A. Disegna e nomina una semiretta BD in maniera tale che divida l'angolo ABC in due angoli più piccoli, con un angolo DBC che misuri 53 gradi.
 B. Quanto misura l'angolo ABD?

5)



- A. Disegna e nomina una semiretta BD in maniera tale che divida l'angolo ABC in due angoli più piccoli, con un angolo ABD che misuri 55 gradi.
 B. Quanto misura l'angolo DBC?

6)

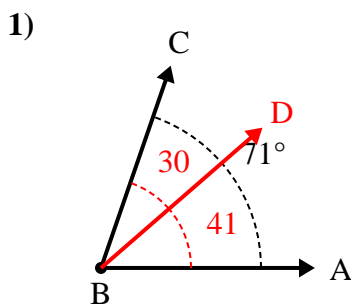


- A. Disegna e nomina una semiretta BD in maniera tale che divida l'angolo ABC in due angoli più piccoli, con un angolo DBC che misuri 56 gradi.
 B. Quanto misura l'angolo ABD?

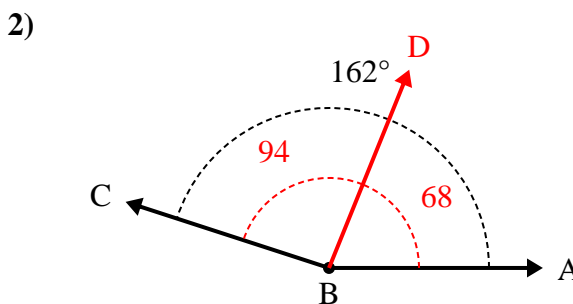
1. _____
2. _____
3. _____
4. _____
5. _____
6. _____



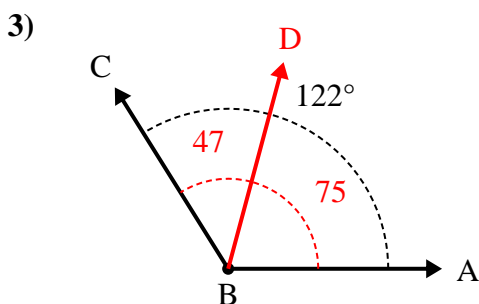
Risolvi ogni problema.



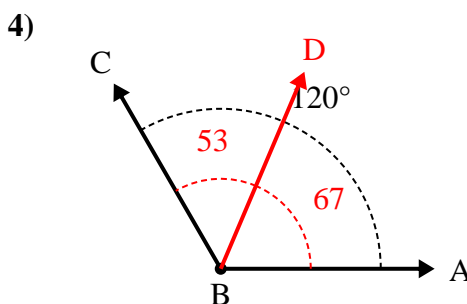
- A. Disegna e nomina una semiretta BD in maniera tale che divida l'angolo ABC in due angoli più piccoli, con un angolo ABD che misuri 41 gradi.
 B. Quanto misura l'angolo DBC?



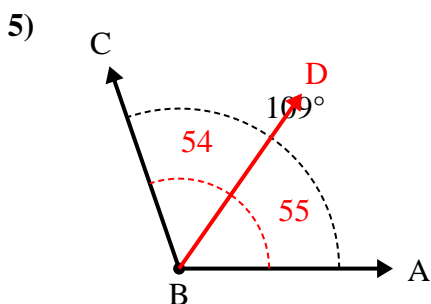
- A. Disegna e nomina una semiretta BD in maniera tale che divida l'angolo ABC in due angoli più piccoli, con un angolo ABD che misuri 68 gradi.
 B. Quanto misura l'angolo DBC?



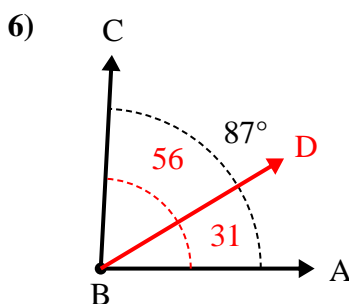
- A. Disegna e nomina una semiretta BD in maniera tale che divida l'angolo ABC in due angoli più piccoli, con un angolo ABD che misuri 75 gradi.
 B. Quanto misura l'angolo DBC?



- A. Disegna e nomina una semiretta BD in maniera tale che divida l'angolo ABC in due angoli più piccoli, con un angolo DBC che misuri 53 gradi.
 B. Quanto misura l'angolo ABD?



- A. Disegna e nomina una semiretta BD in maniera tale che divida l'angolo ABC in due angoli più piccoli, con un angolo ABD che misuri 55 gradi.
 B. Quanto misura l'angolo DBC?



- A. Disegna e nomina una semiretta BD in maniera tale che divida l'angolo ABC in due angoli più piccoli, con un angolo DBC che misuri 56 gradi.
 B. Quanto misura l'angolo ABD?

Risposte

1. 30°
2. 94°
3. 47°
4. 67°
5. 54°
6. 31°