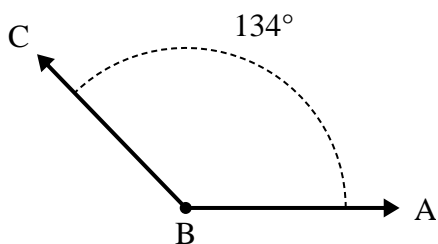




Risolvi ogni problema.

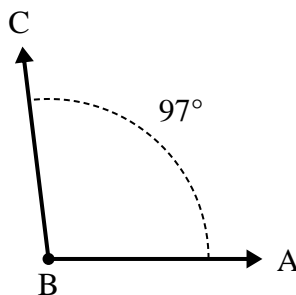
Risposte

1)



- A. Disegna e nomina una semiretta BD in maniera tale che divida l'angolo ABC in due angoli più piccoli, con un angolo ABD che misuri 50 gradi.
 B. Quanto misura l'angolo DBC?

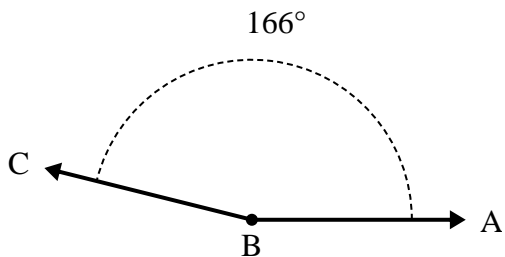
2)



- A. Disegna e nomina una semiretta BD in maniera tale che divida l'angolo ABC in due angoli più piccoli, con un angolo ABD che misuri 66 gradi.
 B. Quanto misura l'angolo DBC?

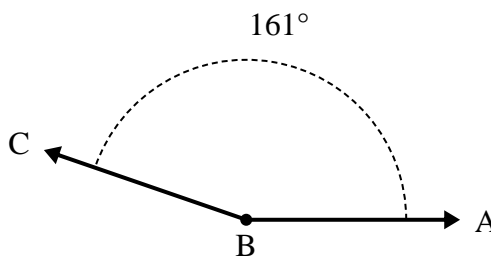
1. _____
2. _____
3. _____
4. _____
5. _____
6. _____

3)



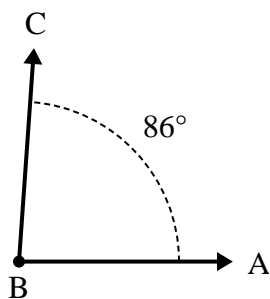
- A. Disegna e nomina una semiretta BD in maniera tale che divida l'angolo ABC in due angoli più piccoli, con un angolo DBC che misuri 52 gradi.
 B. Quanto misura l'angolo ABD?

4)



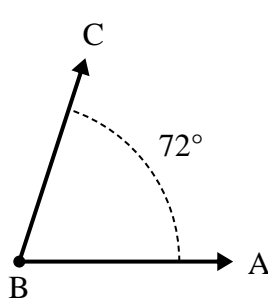
- A. Disegna e nomina una semiretta BD in maniera tale che divida l'angolo ABC in due angoli più piccoli, con un angolo DBC che misuri 99 gradi.
 B. Quanto misura l'angolo ABD?

5)



- A. Disegna e nomina una semiretta BD in maniera tale che divida l'angolo ABC in due angoli più piccoli, con un angolo DBC che misuri 33 gradi.
 B. Quanto misura l'angolo ABD?

6)

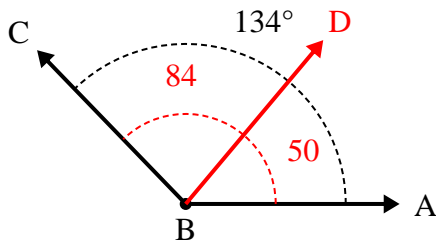


- A. Disegna e nomina una semiretta BD in maniera tale che divida l'angolo ABC in due angoli più piccoli, con un angolo DBC che misuri 31 gradi.
 B. Quanto misura l'angolo ABD?



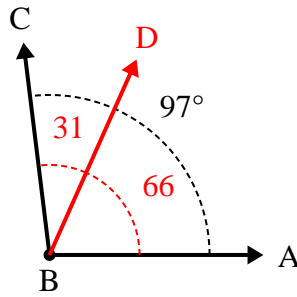
Risolvi ogni problema.

1)



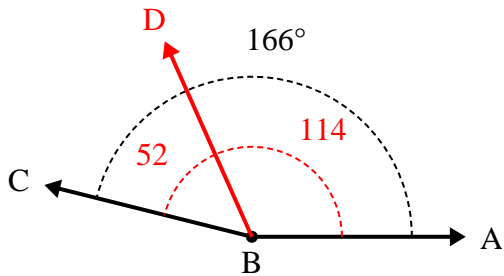
- A. Disegna e nomina una semiretta BD in maniera tale che divida l'angolo ABC in due angoli più piccoli, con un angolo ABD che misuri 50 gradi.
 B. Quanto misura l'angolo DBC?

2)



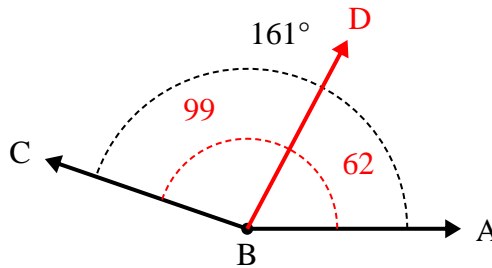
- A. Disegna e nomina una semiretta BD in maniera tale che divida l'angolo ABC in due angoli più piccoli, con un angolo ABD che misuri 66 gradi.
 B. Quanto misura l'angolo DBC?

3)



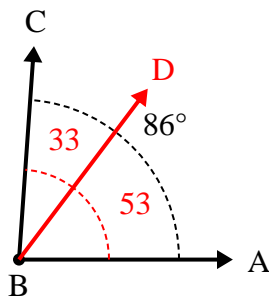
- A. Disegna e nomina una semiretta BD in maniera tale che divida l'angolo ABC in due angoli più piccoli, con un angolo DBC che misuri 52 gradi.
 B. Quanto misura l'angolo ABD?

4)



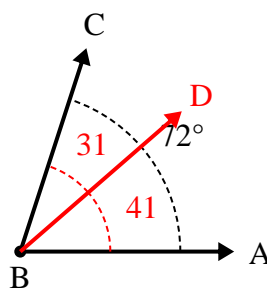
- A. Disegna e nomina una semiretta BD in maniera tale che divida l'angolo ABC in due angoli più piccoli, con un angolo DBC che misuri 99 gradi.
 B. Quanto misura l'angolo ABD?

5)



- A. Disegna e nomina una semiretta BD in maniera tale che divida l'angolo ABC in due angoli più piccoli, con un angolo DBC che misuri 33 gradi.
 B. Quanto misura l'angolo ABD?

6)



- A. Disegna e nomina una semiretta BD in maniera tale che divida l'angolo ABC in due angoli più piccoli, con un angolo DBC che misuri 31 gradi.
 B. Quanto misura l'angolo ABD?

Risposte

1. 84°
2. 31°
3. 114°
4. 62°
5. 53°
6. 41°