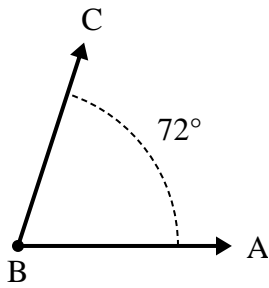




Risolvi ogni problema.

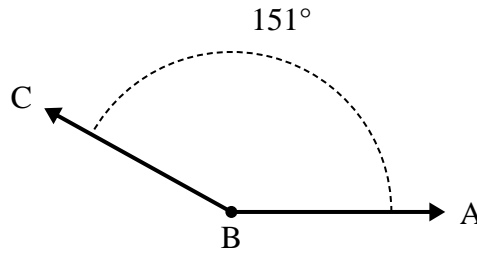
**Risposte**

1)



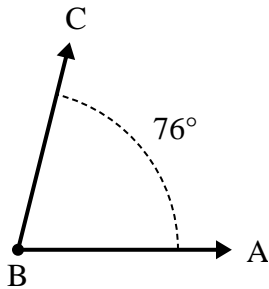
- A. Disegna e nomina una semiretta BD in maniera tale che divida l'angolo ABC in due angoli più piccoli, con un angolo ABD che misuri 32 gradi.  
 B. Quanto misura l'angolo DBC?

2)



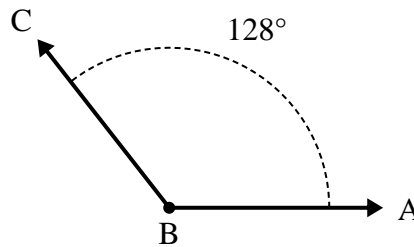
- A. Disegna e nomina una semiretta BD in maniera tale che divida l'angolo ABC in due angoli più piccoli, con un angolo DBC che misuri 44 gradi.  
 B. Quanto misura l'angolo ABD?

3)



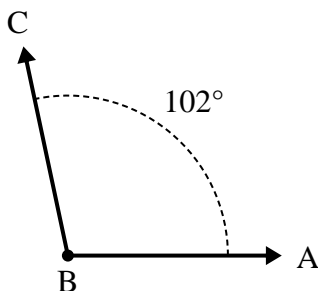
- A. Disegna e nomina una semiretta BD in maniera tale che divida l'angolo ABC in due angoli più piccoli, con un angolo DBC che misuri 34 gradi.  
 B. Quanto misura l'angolo ABD?

4)



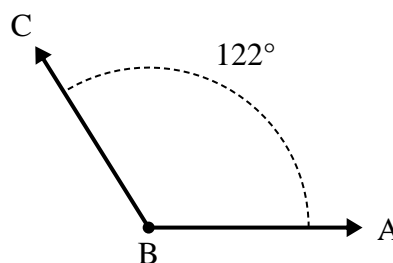
- A. Disegna e nomina una semiretta BD in maniera tale che divida l'angolo ABC in due angoli più piccoli, con un angolo ABD che misuri 71 gradi.  
 B. Quanto misura l'angolo DBC?

5)



- A. Disegna e nomina una semiretta BD in maniera tale che divida l'angolo ABC in due angoli più piccoli, con un angolo DBC che misuri 56 gradi.  
 B. Quanto misura l'angolo ABD?

6)

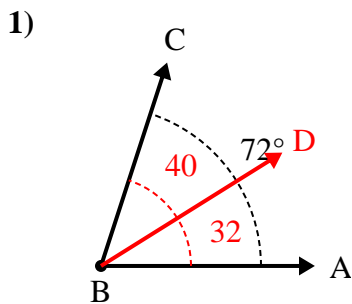


- A. Disegna e nomina una semiretta BD in maniera tale che divida l'angolo ABC in due angoli più piccoli, con un angolo DBC che misuri 88 gradi.  
 B. Quanto misura l'angolo ABD?

1. \_\_\_\_\_
2. \_\_\_\_\_
3. \_\_\_\_\_
4. \_\_\_\_\_
5. \_\_\_\_\_
6. \_\_\_\_\_

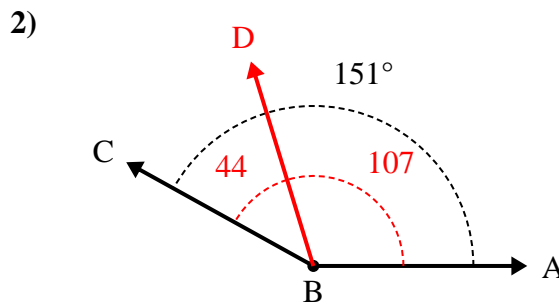


Risolvi ogni problema.



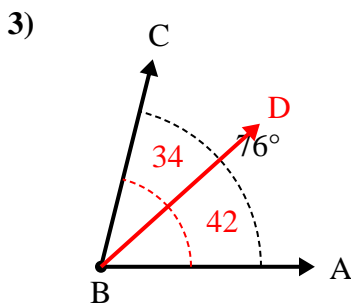
A. Disegna e nomina una semiretta BD in maniera tale che divida l'angolo ABC in due angoli più piccoli, con un angolo ABD che misuri 32 gradi.

B. Quanto misura l'angolo DBC?



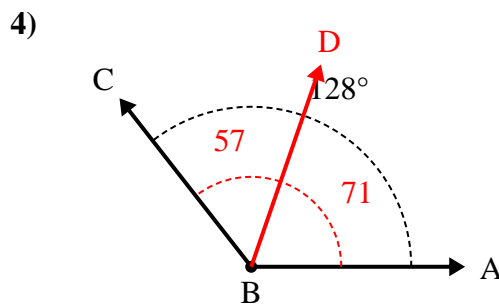
A. Disegna e nomina una semiretta BD in maniera tale che divida l'angolo ABC in due angoli più piccoli, con un angolo DBC che misuri 44 gradi.

B. Quanto misura l'angolo ABD?



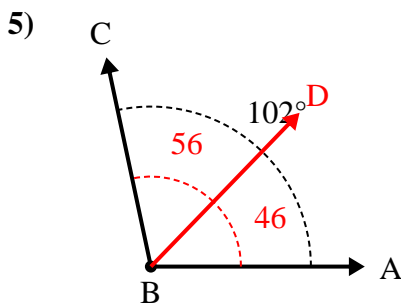
A. Disegna e nomina una semiretta BD in maniera tale che divida l'angolo ABC in due angoli più piccoli, con un angolo DBC che misuri 34 gradi.

B. Quanto misura l'angolo ABD?



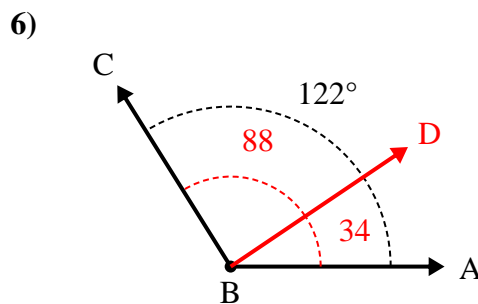
A. Disegna e nomina una semiretta BD in maniera tale che divida l'angolo ABC in due angoli più piccoli, con un angolo ABD che misuri 71 gradi.

B. Quanto misura l'angolo DBC?



A. Disegna e nomina una semiretta BD in maniera tale che divida l'angolo ABC in due angoli più piccoli, con un angolo DBC che misuri 56 gradi.

B. Quanto misura l'angolo ABD?



A. Disegna e nomina una semiretta BD in maniera tale che divida l'angolo ABC in due angoli più piccoli, con un angolo DBC che misuri 88 gradi.

B. Quanto misura l'angolo ABD?

**Risposte**

1. 40°
2. 107°
3. 42°
4. 57°
5. 46°
6. 34°