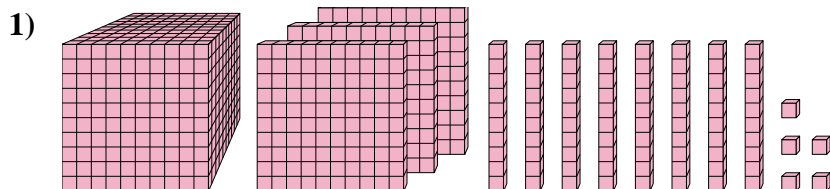




Risolvi ogni problema.

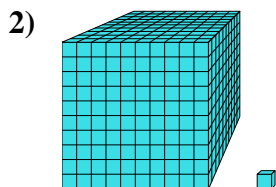
**Risposte**

Quale cifra è nella posizione unità nel numero qui sopra?

1. \_\_\_\_\_

2. \_\_\_\_\_

3. \_\_\_\_\_

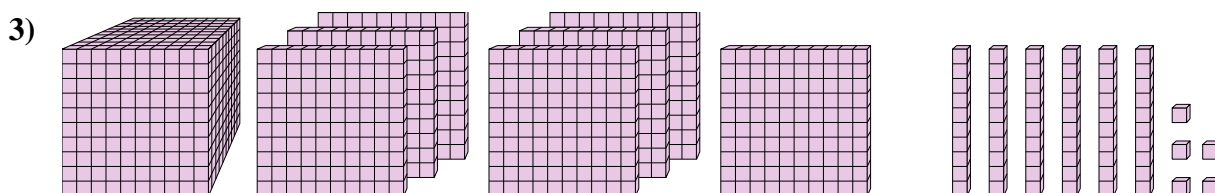


Quale cifra è nella posizione decine nel numero qui sopra?

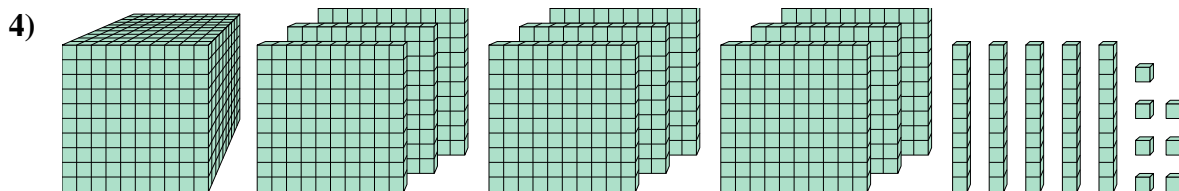
4. \_\_\_\_\_

5. \_\_\_\_\_

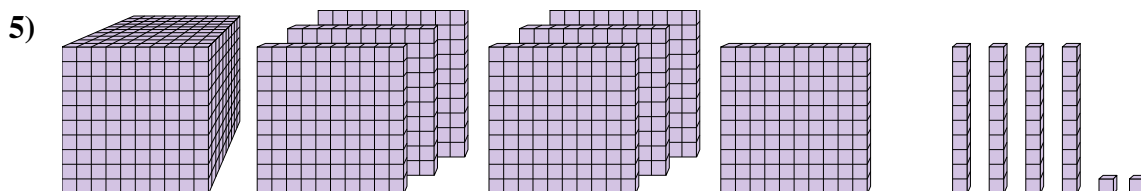
6. \_\_\_\_\_



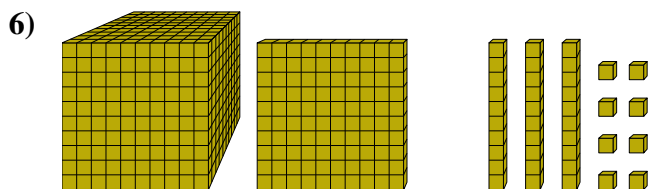
Quale cifra è nella posizione unità nel numero qui sopra?



Quale cifra è nella posizione centinaia nel numero qui sopra?



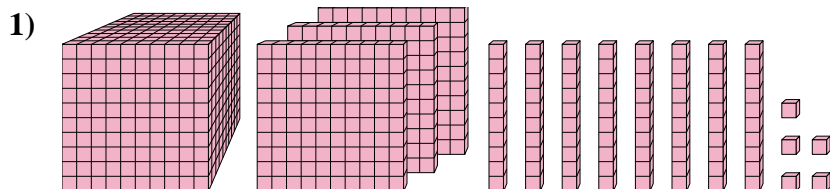
Quale cifra è nella posizione billions nel numero qui sopra?



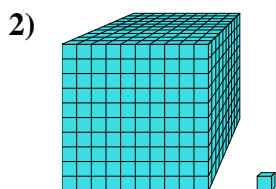
Quale cifra è nella posizione decine nel numero qui sopra?



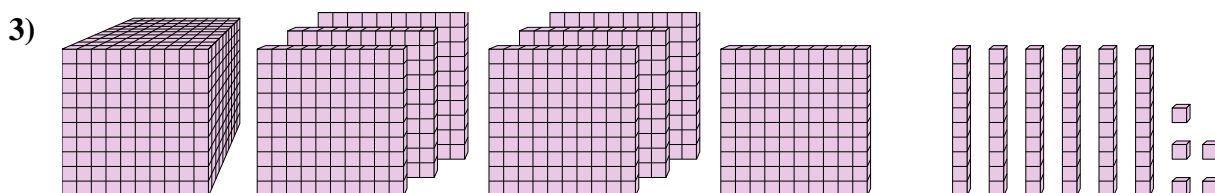
Risolvi ogni problema.

**Risposte**

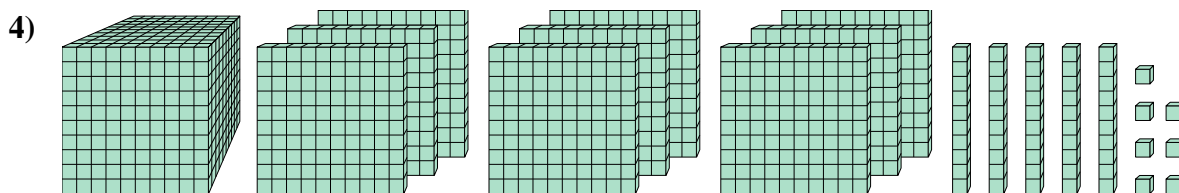
Quale cifra è nella posizione unità nel numero qui sopra?

1. 52. 03. 5

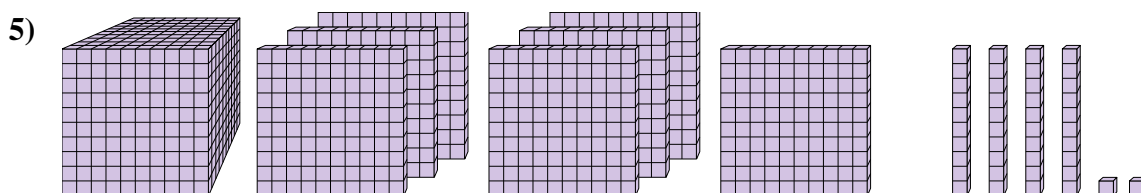
Quale cifra è nella posizione decine nel numero qui sopra?

4. 15. 76. 3

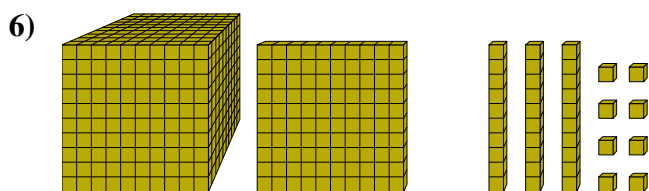
Quale cifra è nella posizione unità nel numero qui sopra?



Quale cifra è nella posizione centinaia nel numero qui sopra?



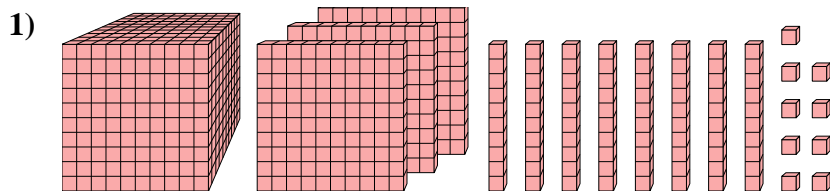
Quale cifra è nella posizione billions nel numero qui sopra?



Quale cifra è nella posizione decine nel numero qui sopra?



Risolvi ogni problema.

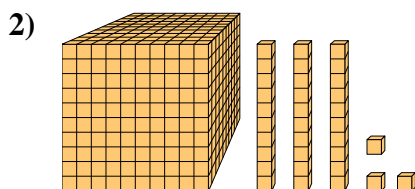
**Risposte**

Quale cifra è nella posizione unità nel numero qui sopra?

1. \_\_\_\_\_

2. \_\_\_\_\_

3. \_\_\_\_\_

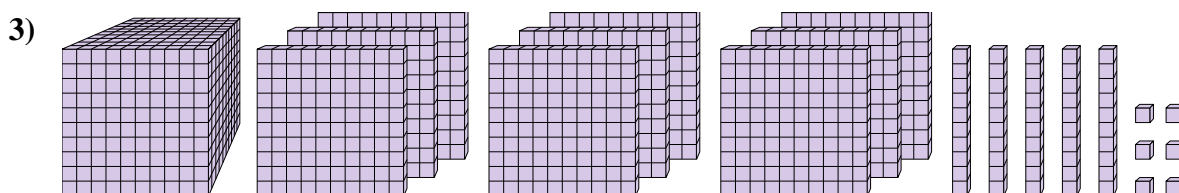


Quale cifra è nella posizione centinaia nel numero qui sopra?

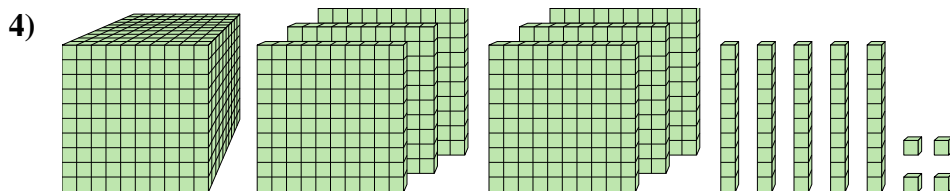
4. \_\_\_\_\_

5. \_\_\_\_\_

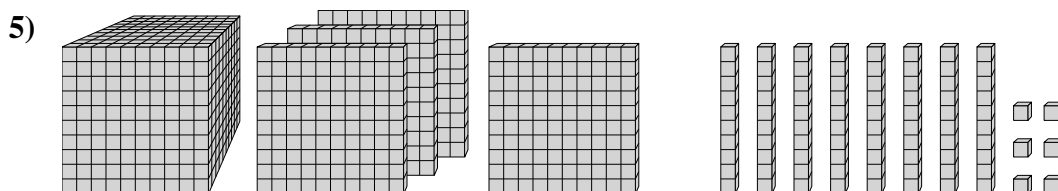
6. \_\_\_\_\_




Quale cifra è nella posizione billions nel numero qui sopra?



Quale cifra è nella posizione unità nel numero qui sopra?



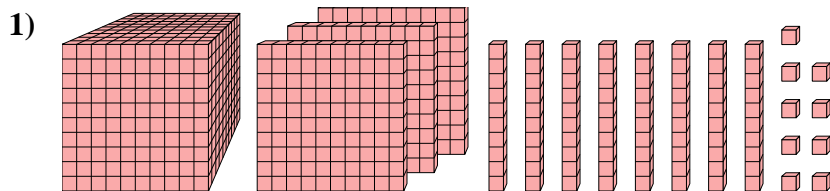
Quale cifra è nella posizione decine nel numero qui sopra?



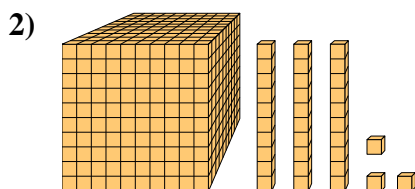
Quale cifra è nella posizione unità nel numero qui sopra?



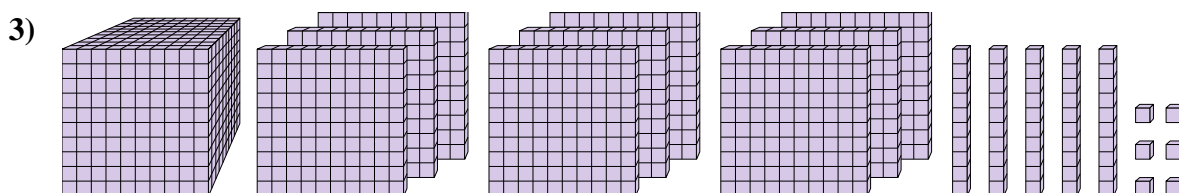
Risolvi ogni problema.

**Risposte**

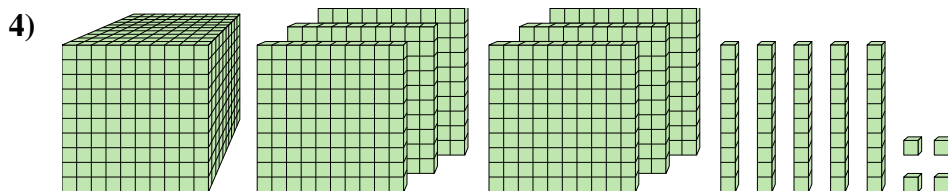
Quale cifra è nella posizione unità nel numero qui sopra?

1. 92. 13. 94. 45. 86. 0

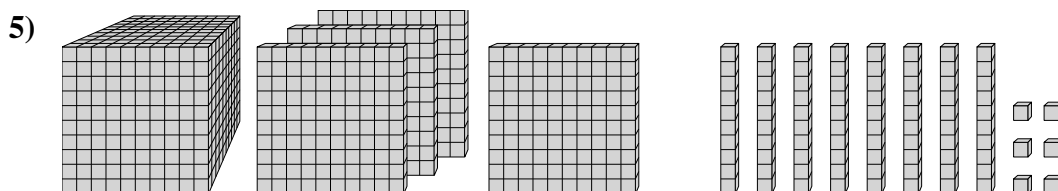
Quale cifra è nella posizione centinaia nel numero qui sopra?

6. 0


Quale cifra è nella posizione billions nel numero qui sopra?



Quale cifra è nella posizione unità nel numero qui sopra?



Quale cifra è nella posizione decine nel numero qui sopra?



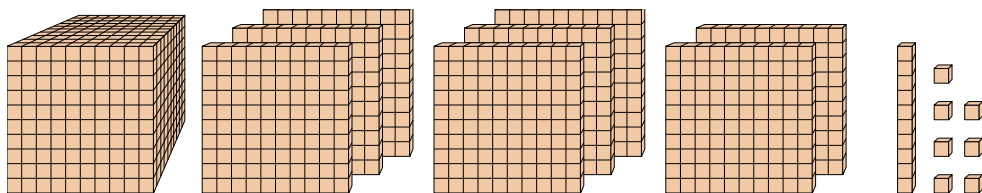
Quale cifra è nella posizione unità nel numero qui sopra?



Risolvi ogni problema.

**Risposte**

1)



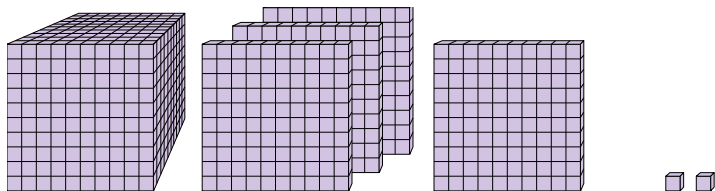
Quale cifra è nella posizione decine nel numero qui sopra?

1. \_\_\_\_\_

2. \_\_\_\_\_

3. \_\_\_\_\_

2)



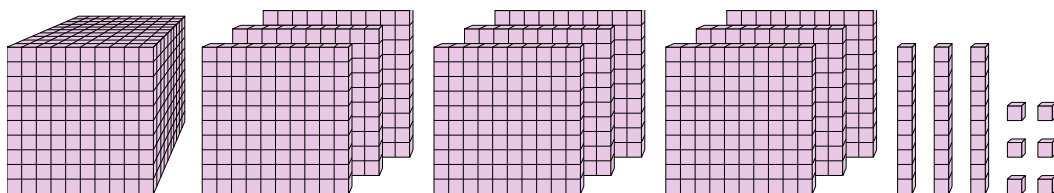
Quale cifra è nella posizione centinaia nel numero qui sopra?

4. \_\_\_\_\_

5. \_\_\_\_\_

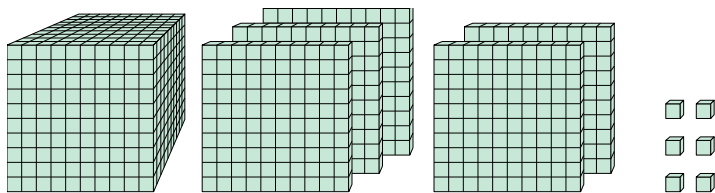
6. \_\_\_\_\_

3)



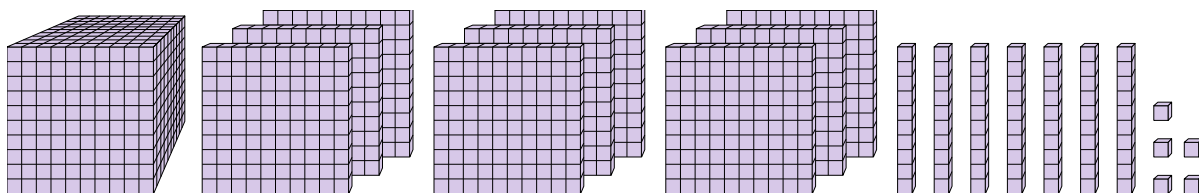
Quale cifra è nella posizione centinaia nel numero qui sopra?

4)



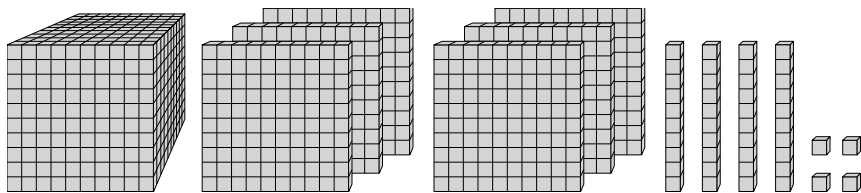
Quale cifra è nella posizione centinaia nel numero qui sopra?

5)



Quale cifra è nella posizione billions nel numero qui sopra?

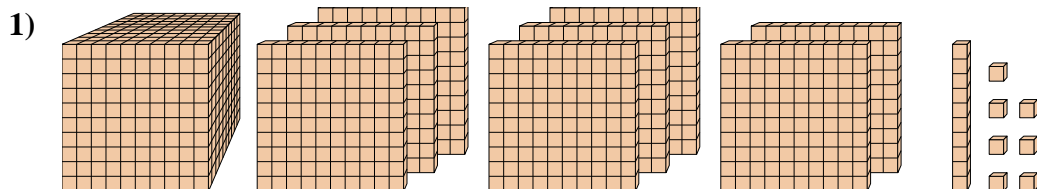
6)



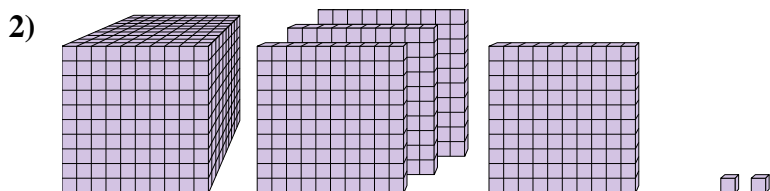
Quale cifra è nella posizione unità nel numero qui sopra?



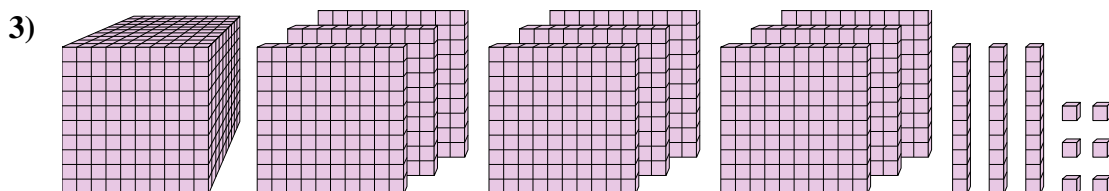
Risolvi ogni problema.

**Risposte**

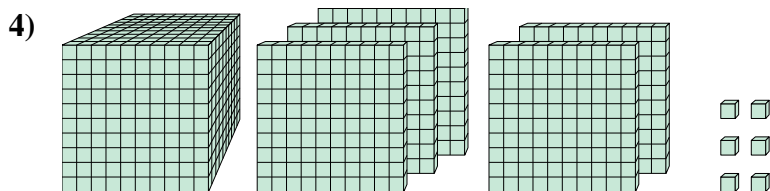
Quale cifra è nella posizione decine nel numero qui sopra?

1. 12. 13. 14. 15. 96. 4

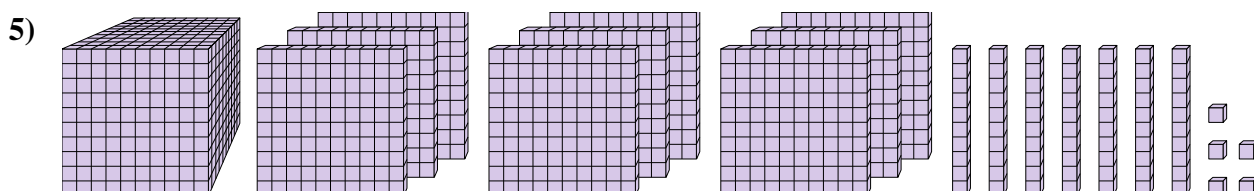
Quale cifra è nella posizione centinaia nel numero qui sopra?



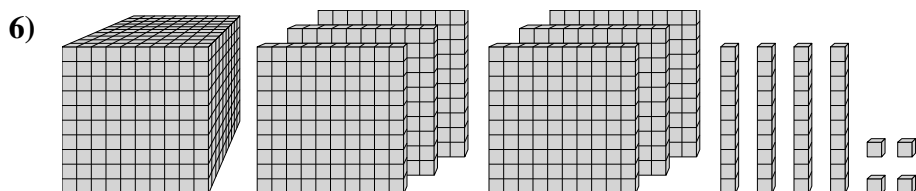
Quale cifra è nella posizione centinaia nel numero qui sopra?



Quale cifra è nella posizione centinaia nel numero qui sopra?



Quale cifra è nella posizione billions nel numero qui sopra?



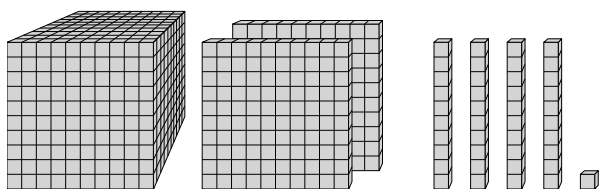
Quale cifra è nella posizione unità nel numero qui sopra?



Risolvi ogni problema.

**Risposte**

1)



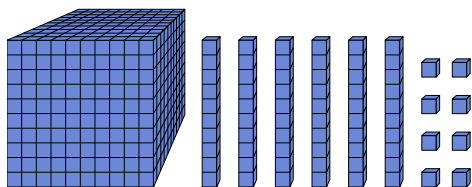
Quale cifra è nella posizione decine nel numero qui sopra?

1. \_\_\_\_\_

2. \_\_\_\_\_

3. \_\_\_\_\_

2)



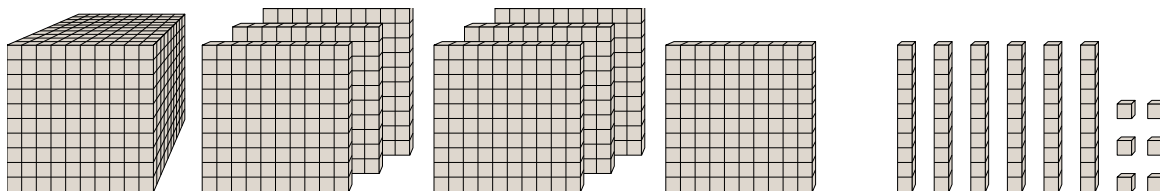
Quale cifra è nella posizione centinaia nel numero qui sopra?

4. \_\_\_\_\_

5. \_\_\_\_\_

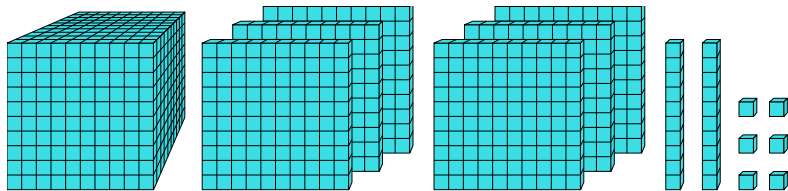
6. \_\_\_\_\_

3)



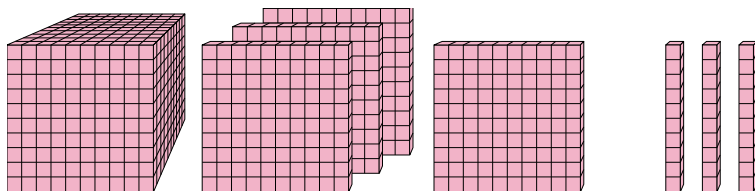
Quale cifra è nella posizione decine nel numero qui sopra?

4)



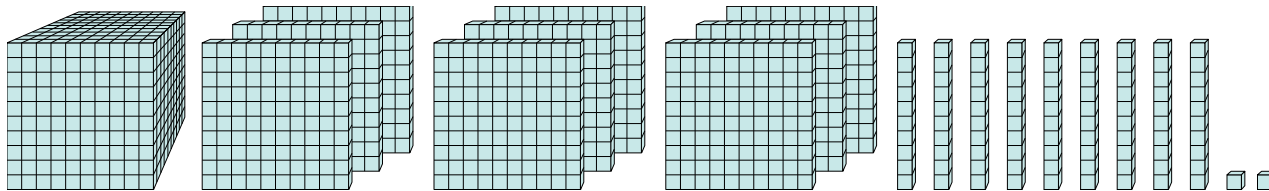
Quale cifra è nella posizione billions nel numero qui sopra?

5)



Quale cifra è nella posizione centinaia nel numero qui sopra?

6)



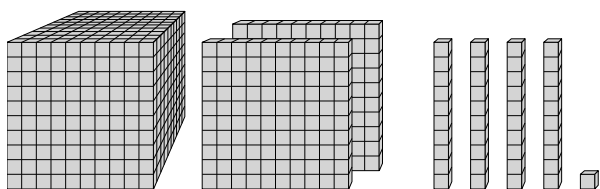
Quale cifra è nella posizione unità nel numero qui sopra?



Risolvi ogni problema.

**Risposte**

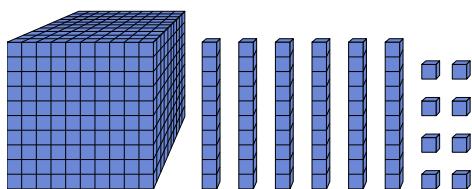
1)



Quale cifra è nella posizione decine nel numero qui sopra?

1. **4**2. **1**3. **6**

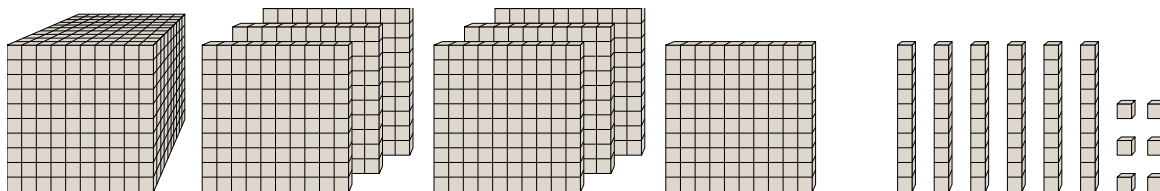
2)



Quale cifra è nella posizione centinaia nel numero qui sopra?

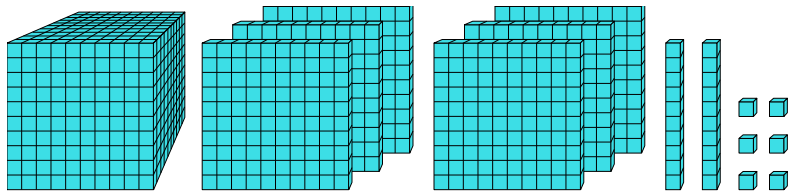
4. **6**5. **1**6. **2**

3)



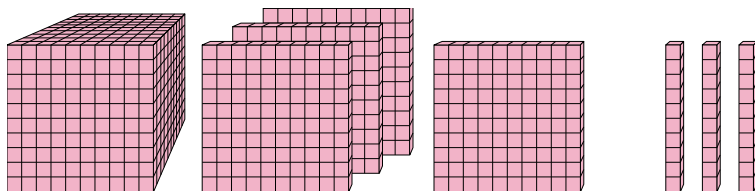
Quale cifra è nella posizione decine nel numero qui sopra?

4)



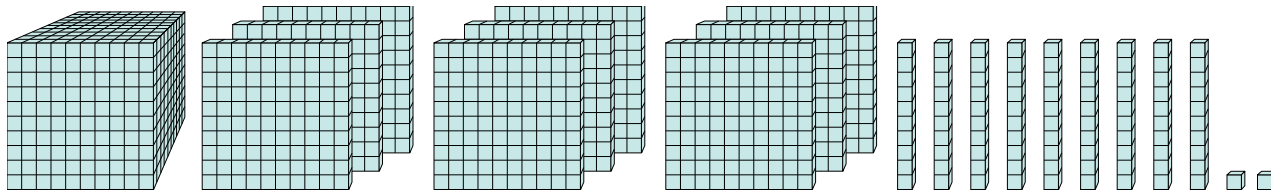
Quale cifra è nella posizione billions nel numero qui sopra?

5)



Quale cifra è nella posizione centinaia nel numero qui sopra?

6)

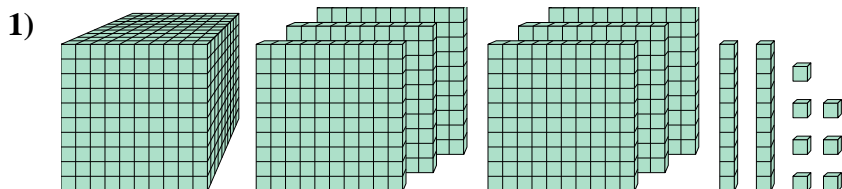


Quale cifra è nella posizione unità nel numero qui sopra?





Risolvi ogni problema.

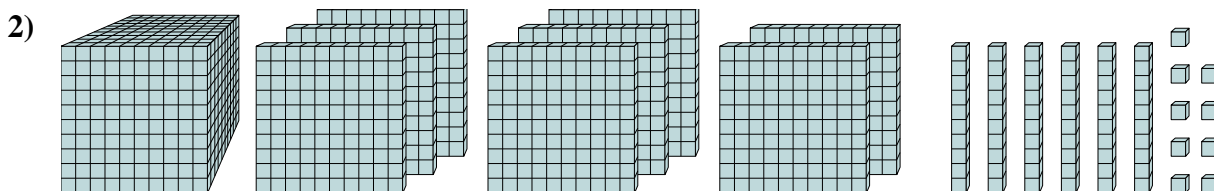
**Risposte**

Quale cifra è nella posizione billions nel numero qui sopra?

1. \_\_\_\_\_

2. \_\_\_\_\_

3. \_\_\_\_\_

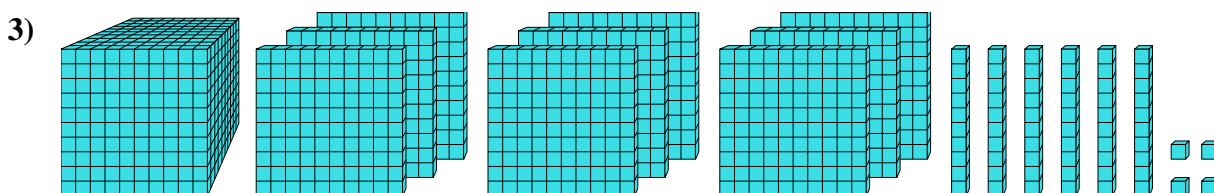


Quale cifra è nella posizione decine nel numero qui sopra?

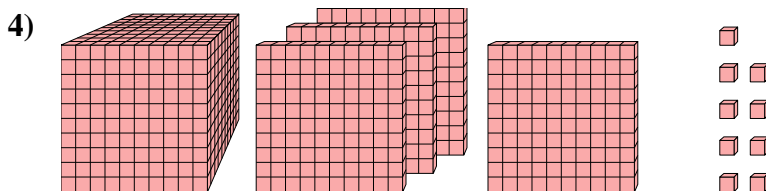
4. \_\_\_\_\_

5. \_\_\_\_\_

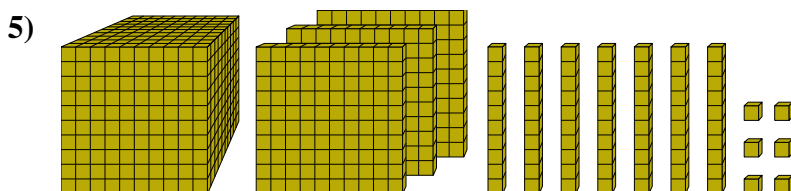
6. \_\_\_\_\_



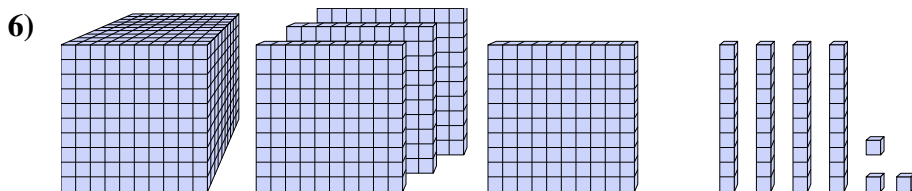
Quale cifra è nella posizione unità nel numero qui sopra?



Quale cifra è nella posizione unità nel numero qui sopra?



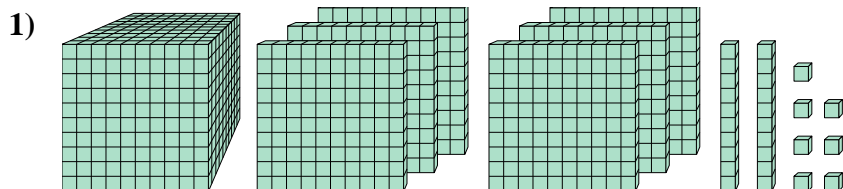
Quale cifra è nella posizione unità nel numero qui sopra?



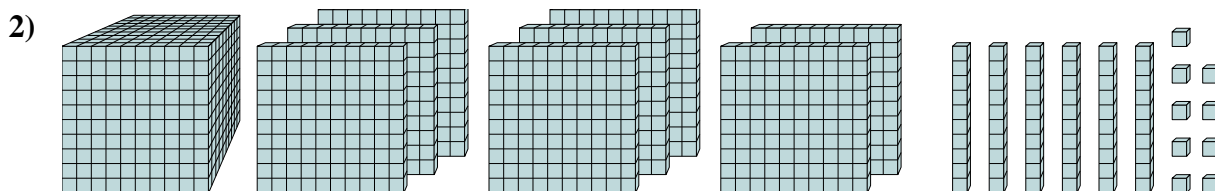
Quale cifra è nella posizione centinaia nel numero qui sopra?



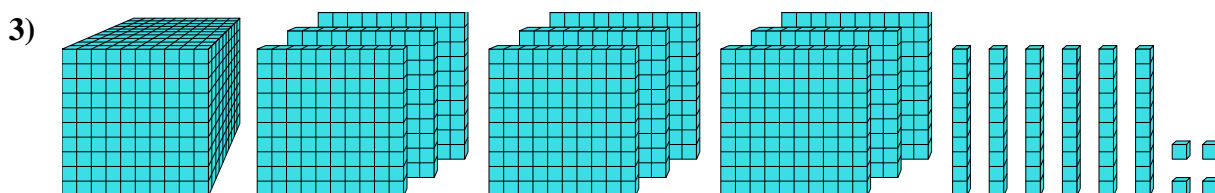
Risolvi ogni problema.

**Risposte**

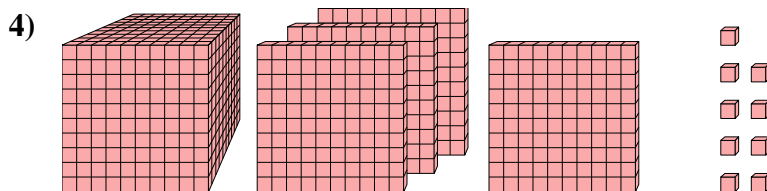
Quale cifra è nella posizione billions nel numero qui sopra?

1. 62. 63. 4

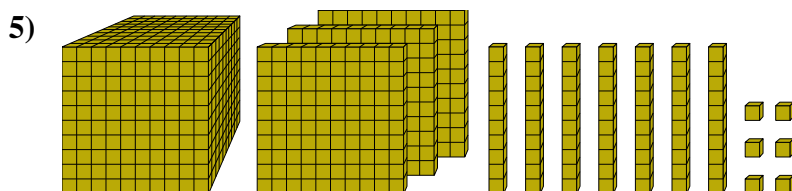
Quale cifra è nella posizione decine nel numero qui sopra?

4. 95. 66. 1

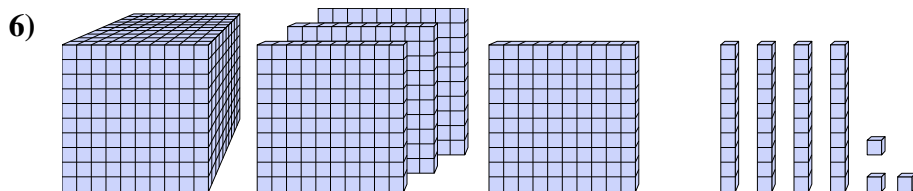
Quale cifra è nella posizione unità nel numero qui sopra?



Quale cifra è nella posizione unità nel numero qui sopra?



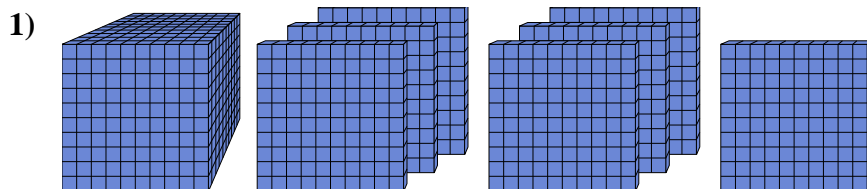
Quale cifra è nella posizione unità nel numero qui sopra?



Quale cifra è nella posizione centinaia nel numero qui sopra?



Risolvi ogni problema.

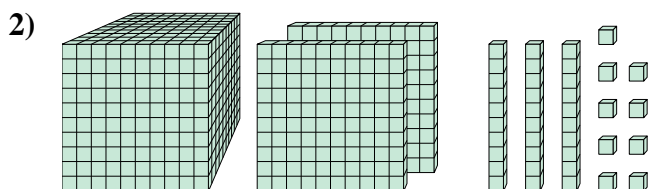
**Risposte**

Quale cifra è nella posizione unità nel numero qui sopra?

1. \_\_\_\_\_

2. \_\_\_\_\_

3. \_\_\_\_\_

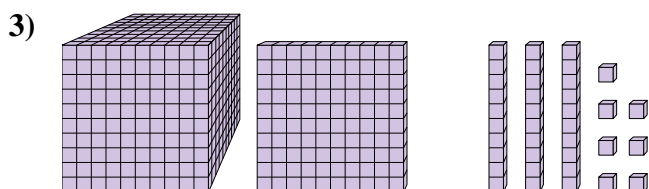


Quale cifra è nella posizione decine nel numero qui sopra?

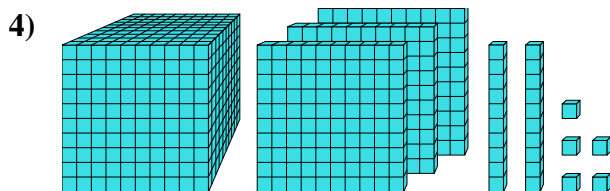
4. \_\_\_\_\_

5. \_\_\_\_\_

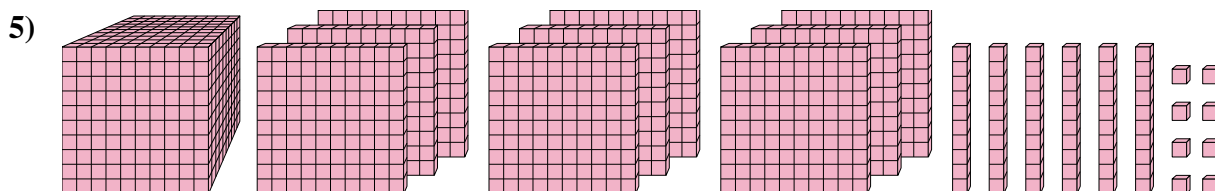
6. \_\_\_\_\_



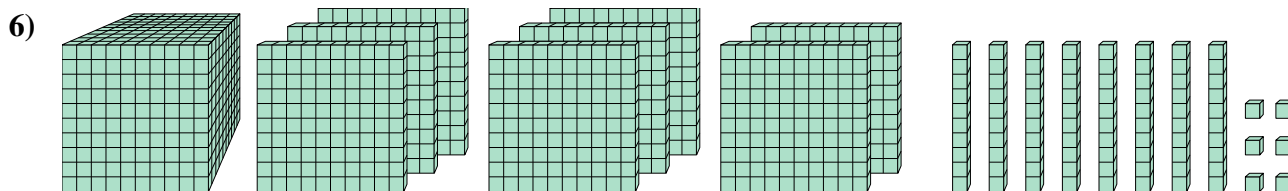
Quale cifra è nella posizione billions nel numero qui sopra?



Quale cifra è nella posizione billions nel numero qui sopra?



Quale cifra è nella posizione billions nel numero qui sopra?



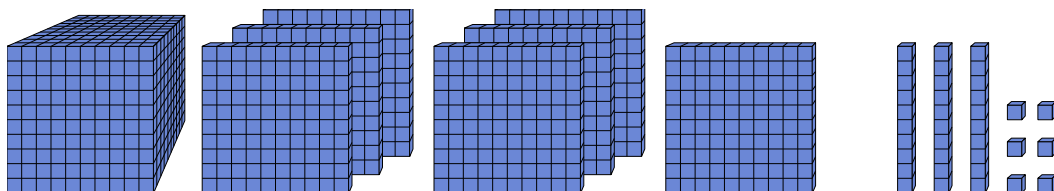
Quale cifra è nella posizione centinaia nel numero qui sopra?



Risolvi ogni problema.

**Risposte**

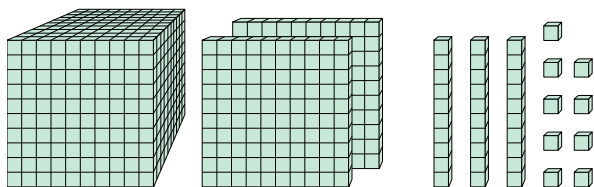
1)



Quale cifra è nella posizione unità nel numero qui sopra?

1. **6**

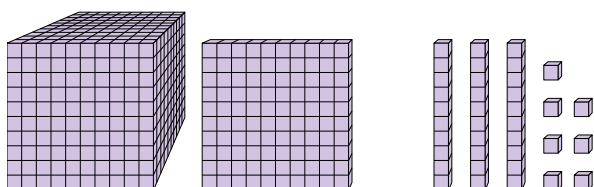
2)



Quale cifra è nella posizione decine nel numero qui sopra?

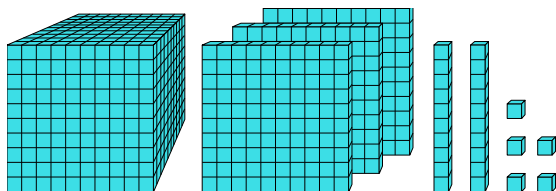
2. **3**3. **1**4. **3**5. **9**6. **1**

3)



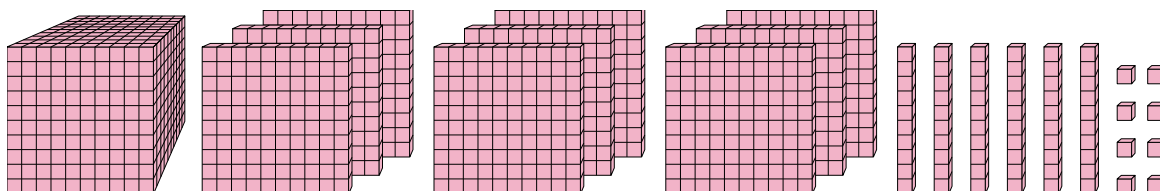
Quale cifra è nella posizione billions nel numero qui sopra?

4)



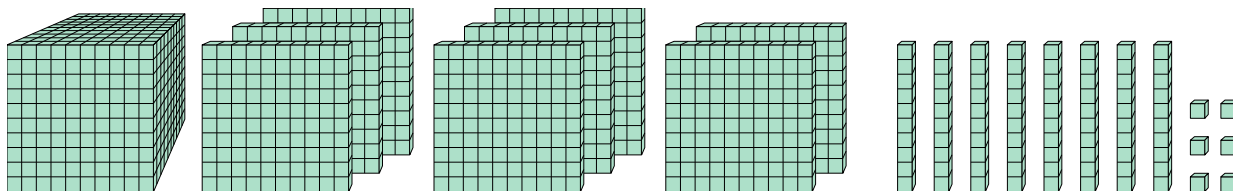
Quale cifra è nella posizione billions nel numero qui sopra?

5)



Quale cifra è nella posizione billions nel numero qui sopra?

6)



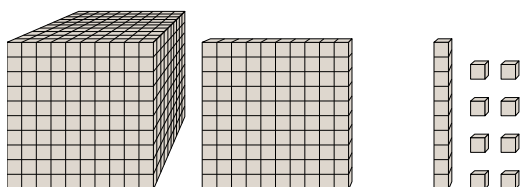
Quale cifra è nella posizione centinaia nel numero qui sopra?



Risolvi ogni problema.

**Risposte**

1)



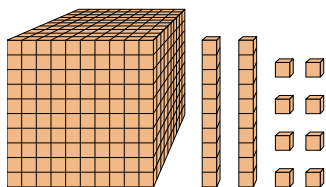
Quale cifra è nella posizione centinaia nel numero qui sopra?

1. \_\_\_\_\_

2. \_\_\_\_\_

3. \_\_\_\_\_

2)



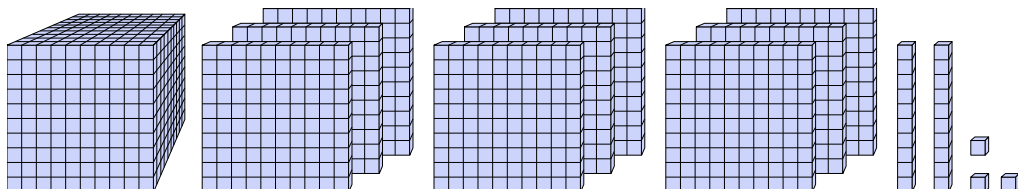
Quale cifra è nella posizione billions nel numero qui sopra?

4. \_\_\_\_\_

5. \_\_\_\_\_

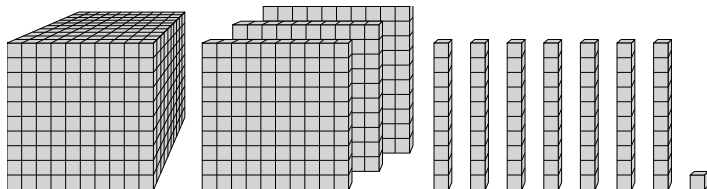
6. \_\_\_\_\_

3)



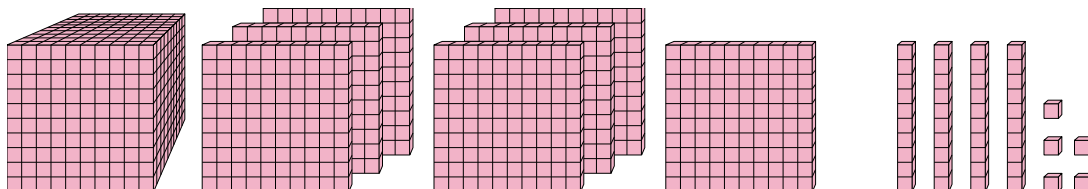
Quale cifra è nella posizione decine nel numero qui sopra?

4)



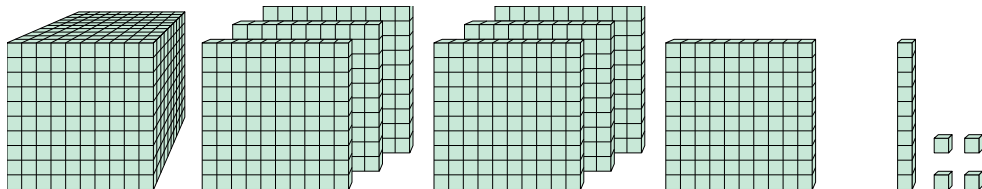
Quale cifra è nella posizione unità nel numero qui sopra?

5)



Quale cifra è nella posizione centinaia nel numero qui sopra?

6)



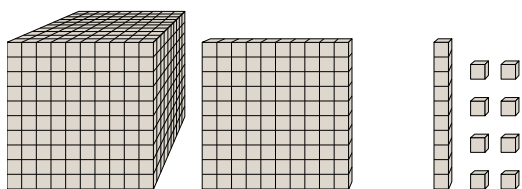
Quale cifra è nella posizione billions nel numero qui sopra?



Risolvi ogni problema.

**Risposte**

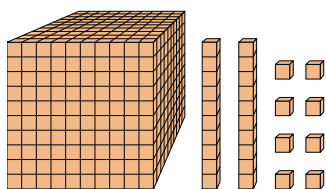
1)



Quale cifra è nella posizione centinaia nel numero qui sopra?

1. 12. 03. 2

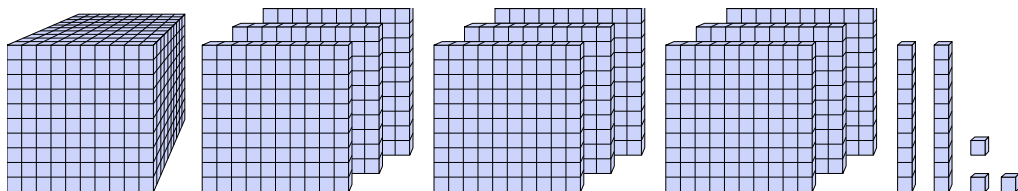
2)



Quale cifra è nella posizione billions nel numero qui sopra?

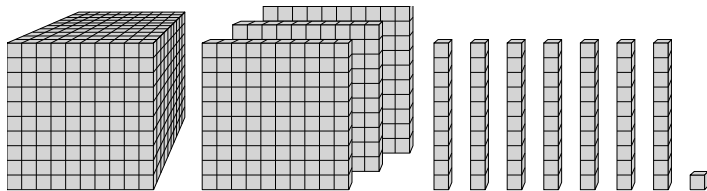
4. 15. 16. 7

3)



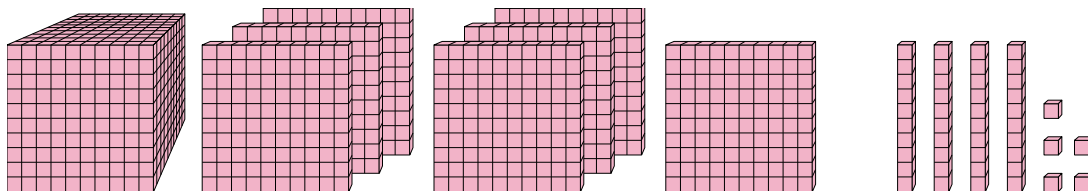
Quale cifra è nella posizione decine nel numero qui sopra?

4)



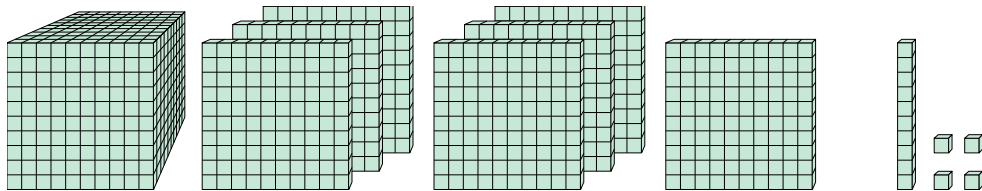
Quale cifra è nella posizione unità nel numero qui sopra?

5)



Quale cifra è nella posizione centinaia nel numero qui sopra?

6)



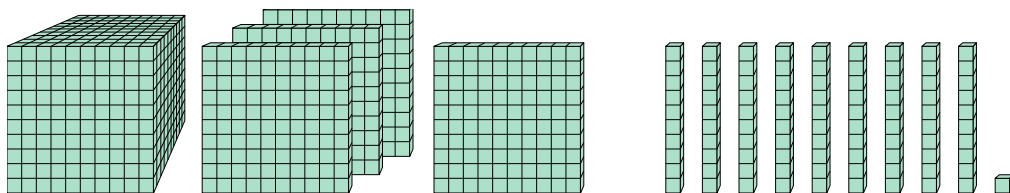
Quale cifra è nella posizione billions nel numero qui sopra?



Risolvi ogni problema.

**Risposte**

1)



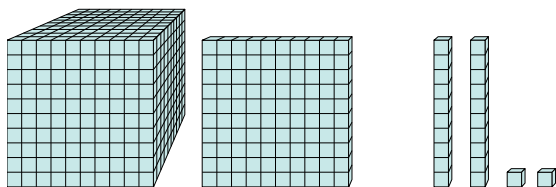
Quale cifra è nella posizione billions nel numero qui sopra?

1. \_\_\_\_\_

2. \_\_\_\_\_

3. \_\_\_\_\_

2)



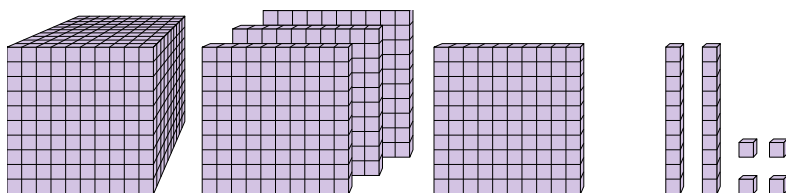
Quale cifra è nella posizione billions nel numero qui sopra?

4. \_\_\_\_\_

5. \_\_\_\_\_

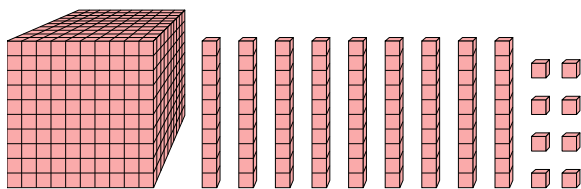
6. \_\_\_\_\_

3)



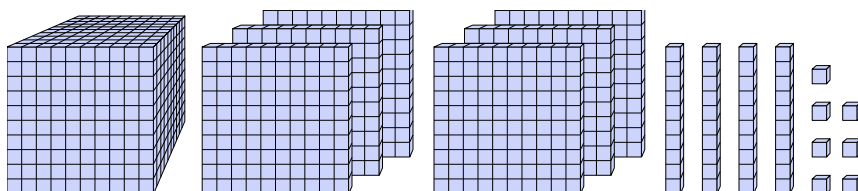
Quale cifra è nella posizione unità nel numero qui sopra?

4)



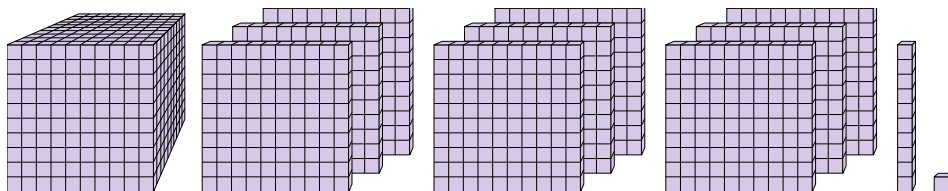
Quale cifra è nella posizione centinaia nel numero qui sopra?

5)



Quale cifra è nella posizione billions nel numero qui sopra?

6)



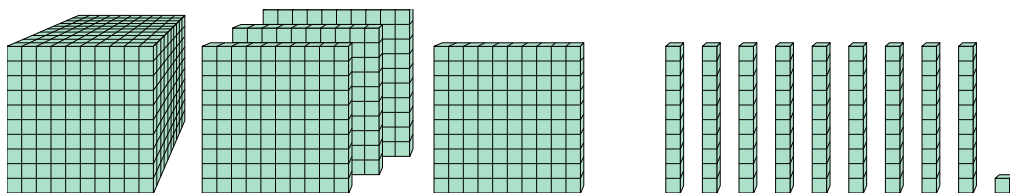
Quale cifra è nella posizione decine nel numero qui sopra?



Risolvi ogni problema.

**Risposte**

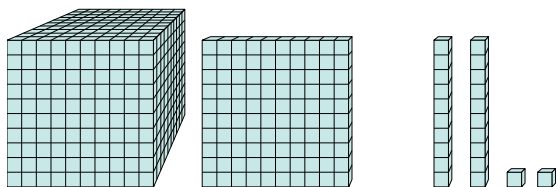
1)



Quale cifra è nella posizione billions nel numero qui sopra?

1. 42. 13. 4

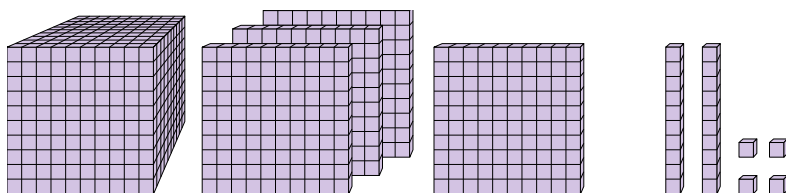
2)



Quale cifra è nella posizione billions nel numero qui sopra?

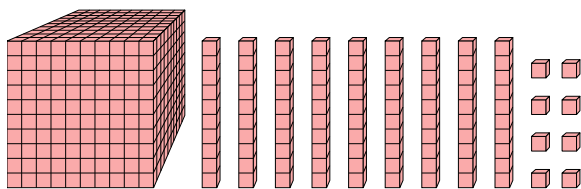
4. 15. 66. 1

3)



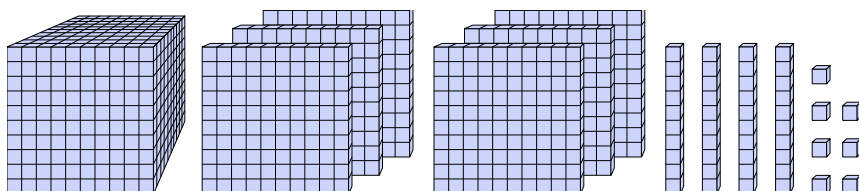
Quale cifra è nella posizione unità nel numero qui sopra?

4)



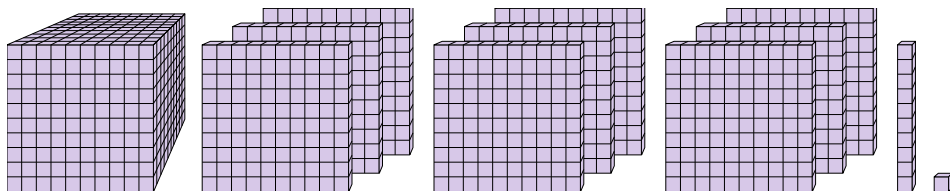
Quale cifra è nella posizione centinaia nel numero qui sopra?

5)



Quale cifra è nella posizione billions nel numero qui sopra?

6)



Quale cifra è nella posizione decine nel numero qui sopra?

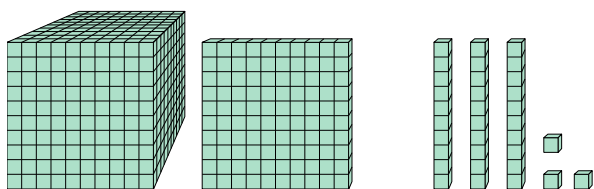




Risolvi ogni problema.

**Risposte**

1)



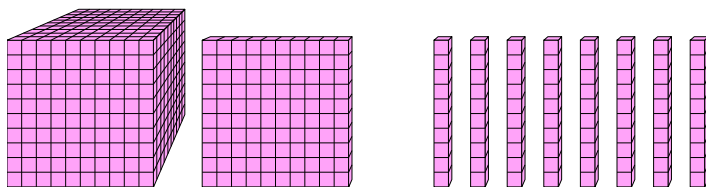
Quale cifra è nella posizione centinaia nel numero qui sopra?

1. \_\_\_\_\_

2. \_\_\_\_\_

3. \_\_\_\_\_

2)



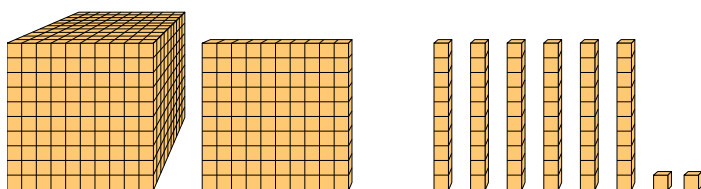
Quale cifra è nella posizione unità nel numero qui sopra?

4. \_\_\_\_\_

5. \_\_\_\_\_

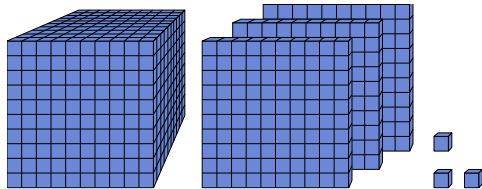
6. \_\_\_\_\_

3)



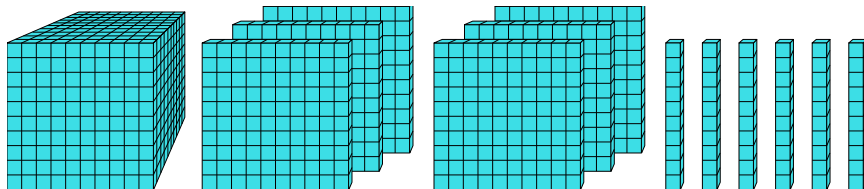
Quale cifra è nella posizione billions nel numero qui sopra?

4)



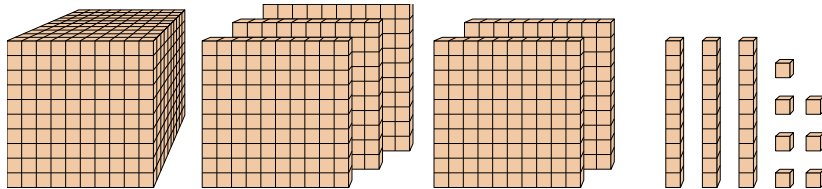
Quale cifra è nella posizione decine nel numero qui sopra?

5)



Quale cifra è nella posizione billions nel numero qui sopra?

6)



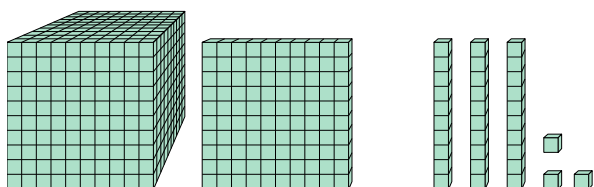
Quale cifra è nella posizione decine nel numero qui sopra?



Risolvi ogni problema.

**Risposte**

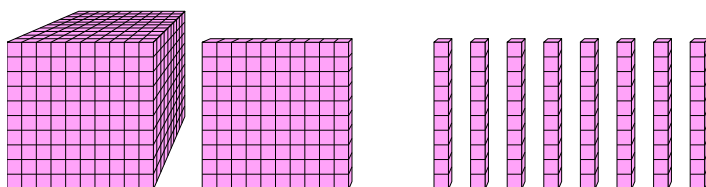
1)



Quale cifra è nella posizione centinaia nel numero qui sopra?

1. 12. 03. 1

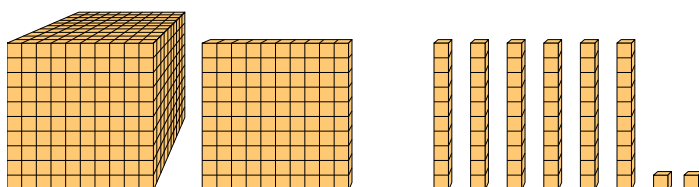
2)



Quale cifra è nella posizione unità nel numero qui sopra?

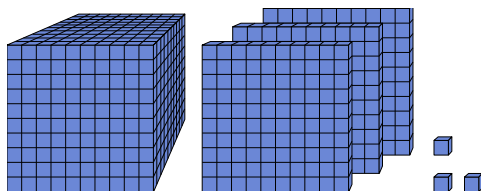
4. 05. 66. 3

3)



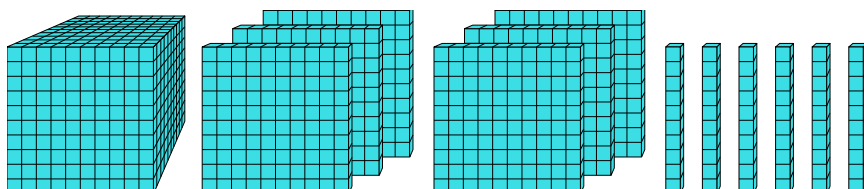
Quale cifra è nella posizione billions nel numero qui sopra?

4)



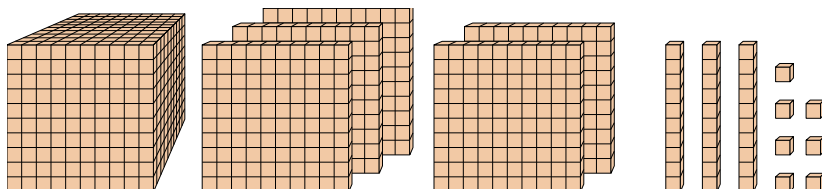
Quale cifra è nella posizione decine nel numero qui sopra?

5)



Quale cifra è nella posizione billions nel numero qui sopra?

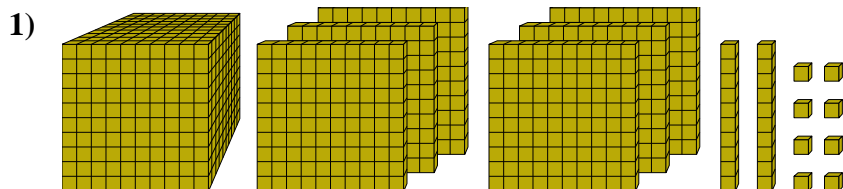
6)



Quale cifra è nella posizione decine nel numero qui sopra?



Risolvi ogni problema.

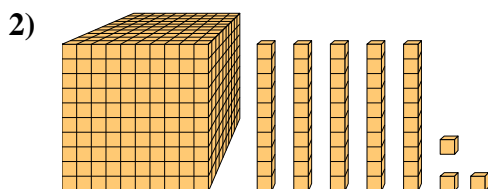
**Risposte**

Quale cifra è nella posizione decine nel numero qui sopra?

1. \_\_\_\_\_

2. \_\_\_\_\_

3. \_\_\_\_\_

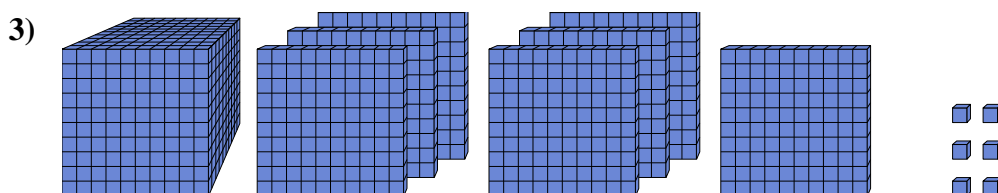


Quale cifra è nella posizione decine nel numero qui sopra?

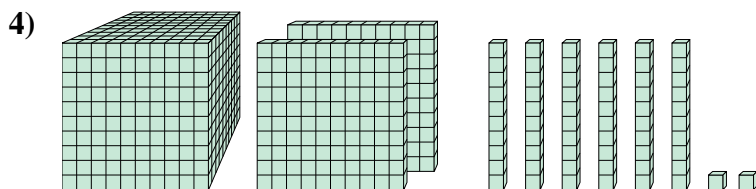
4. \_\_\_\_\_

5. \_\_\_\_\_

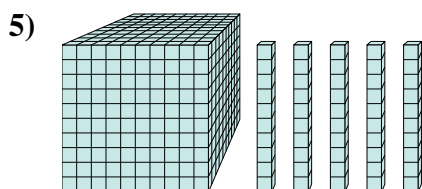
6. \_\_\_\_\_



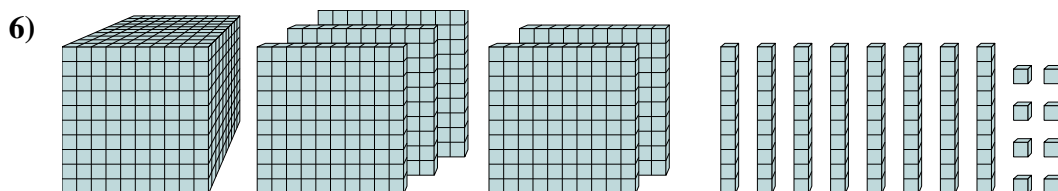
Quale cifra è nella posizione billions nel numero qui sopra?



Quale cifra è nella posizione centinaia nel numero qui sopra?



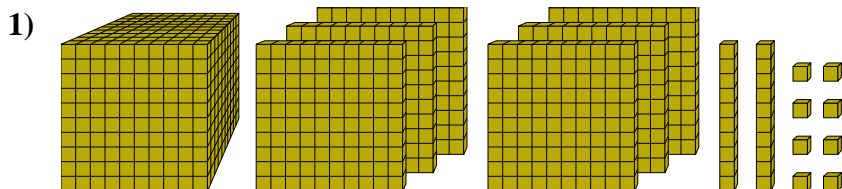
Quale cifra è nella posizione unità nel numero qui sopra?



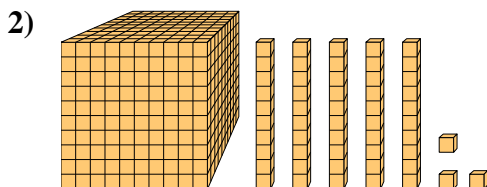
Quale cifra è nella posizione billions nel numero qui sopra?



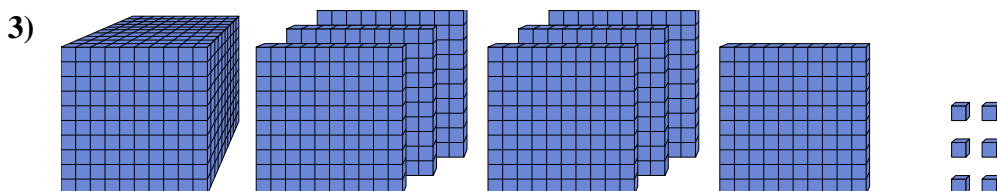
Risolvi ogni problema.

**Risposte**

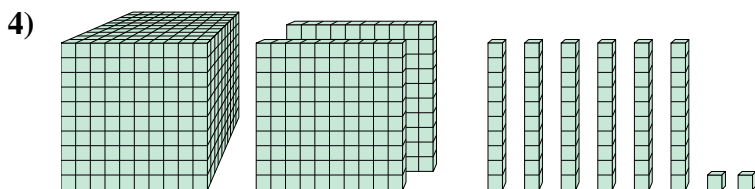
Quale cifra è nella posizione decine nel numero qui sopra?

1. 22. 53. 7

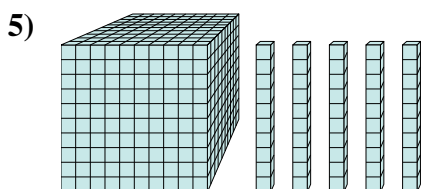
Quale cifra è nella posizione decine nel numero qui sopra?

4. 15. 06. 5

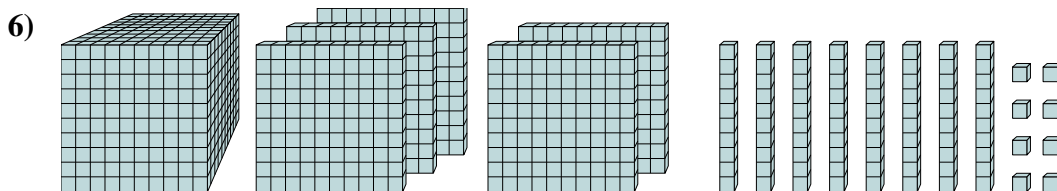
Quale cifra è nella posizione billions nel numero qui sopra?



Quale cifra è nella posizione centinaia nel numero qui sopra?



Quale cifra è nella posizione unità nel numero qui sopra?



Quale cifra è nella posizione billions nel numero qui sopra?