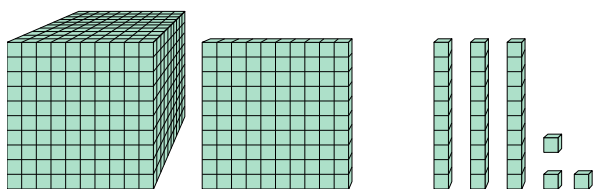




Risolvi ogni problema.

Risposte

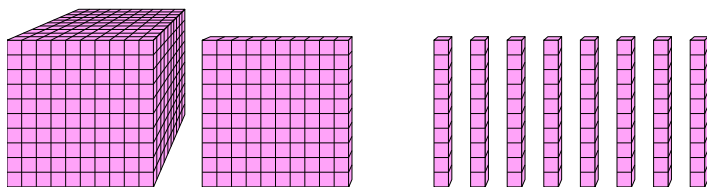
1)



Quale cifra è nella posizione centinaia nel numero qui sopra?

1. _____

2)



Quale cifra è nella posizione unità nel numero qui sopra?

2. _____

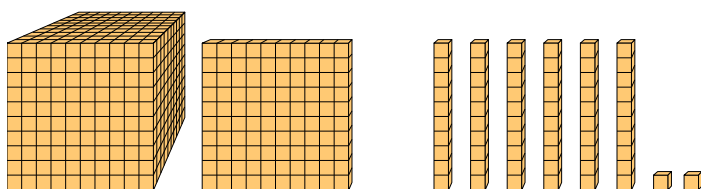
3. _____

4. _____

5. _____

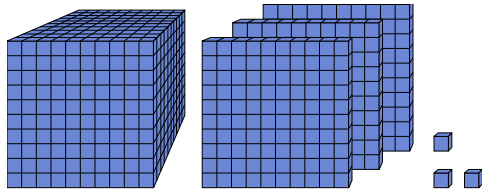
6. _____

3)



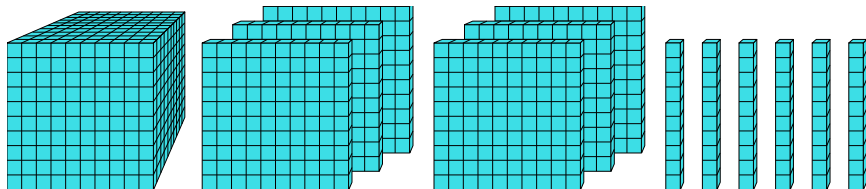
Quale cifra è nella posizione billions nel numero qui sopra?

4)



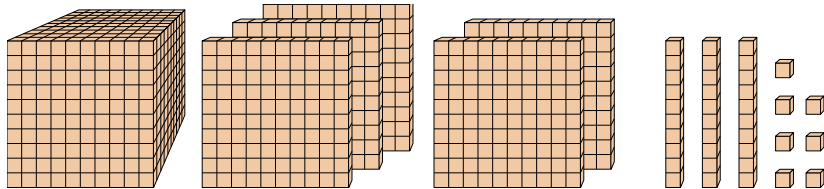
Quale cifra è nella posizione decine nel numero qui sopra?

5)



Quale cifra è nella posizione billions nel numero qui sopra?

6)

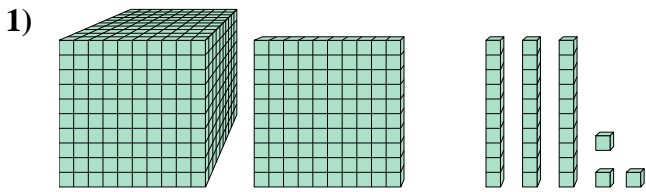


Quale cifra è nella posizione decine nel numero qui sopra?



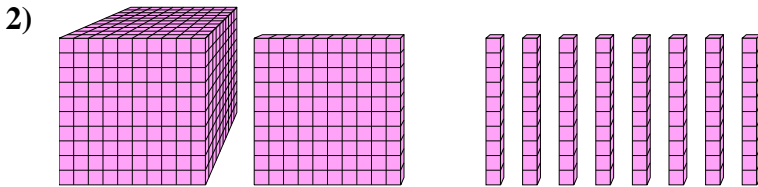
Risolvi ogni problema.

Risposte



Quale cifra è nella posizione centinaia nel numero qui sopra?

1. 1



Quale cifra è nella posizione unità nel numero qui sopra?

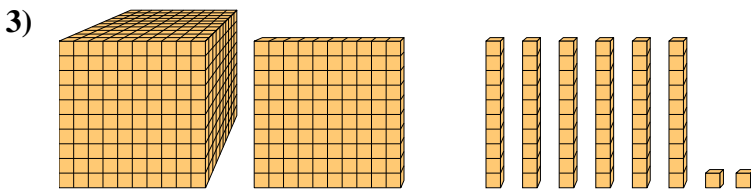
2. 0

3. 1

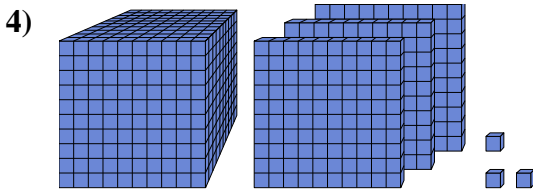
4. 0

5. 6

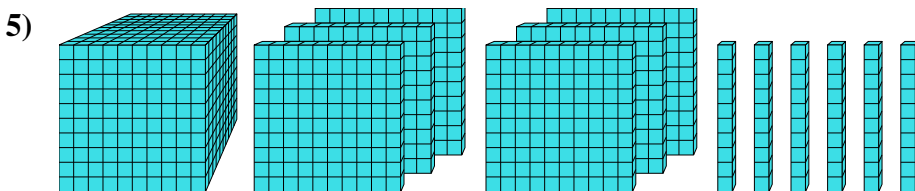
6. 3



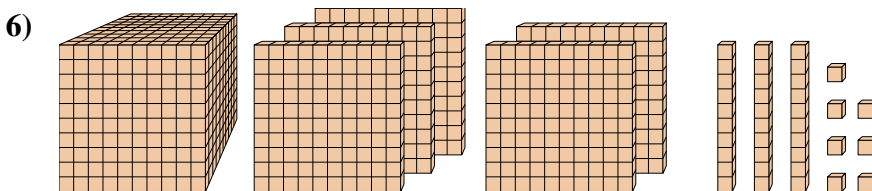
Quale cifra è nella posizione billions nel numero qui sopra?



Quale cifra è nella posizione decine nel numero qui sopra?



Quale cifra è nella posizione billions nel numero qui sopra?



Quale cifra è nella posizione decine nel numero qui sopra?