

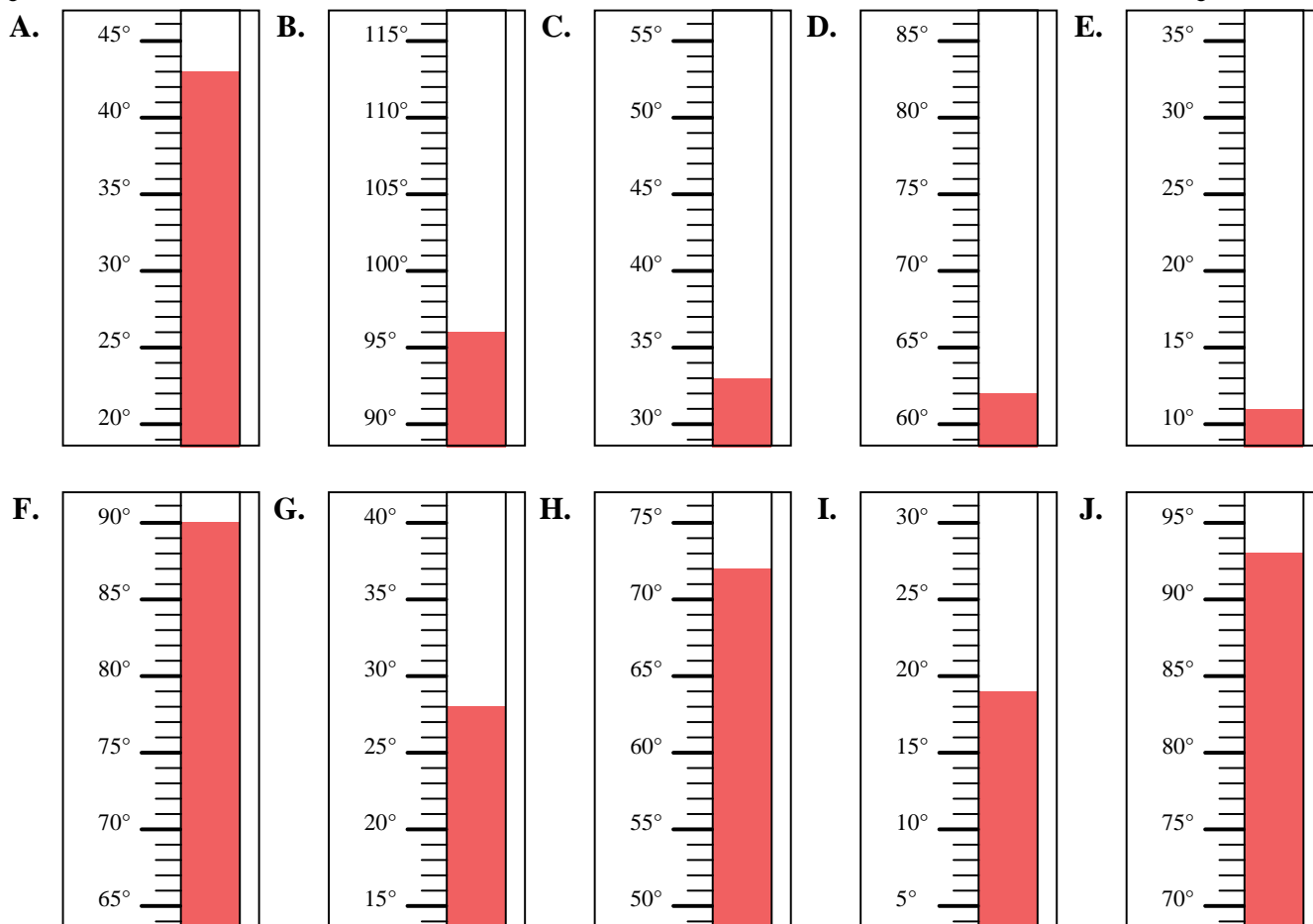


Indica quale lettera risponde correttamente ad ogni domanda.

Risposte

- 1) Quale termometro rappresenta correttamente la temperatura di 62°?
- 2) Quale termometro rappresenta correttamente la temperatura di 43°?
- 3) Quale termometro rappresenta correttamente la temperatura di 72°?
- 4) Quale termometro rappresenta correttamente la temperatura di 33°?
- 5) Quale termometro rappresenta correttamente la temperatura di 11°?
- 6) Quale termometro rappresenta correttamente la temperatura di 93°?
- 7) Quale termometro rappresenta correttamente la temperatura di 96°?
- 8) Quale termometro rappresenta correttamente la temperatura di 19°?
- 9) Quale termometro rappresenta correttamente la temperatura di 28°?
- 10) Quale termometro rappresenta correttamente la temperatura di 90°?

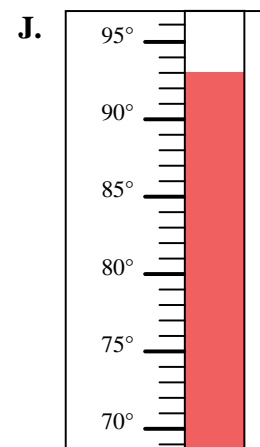
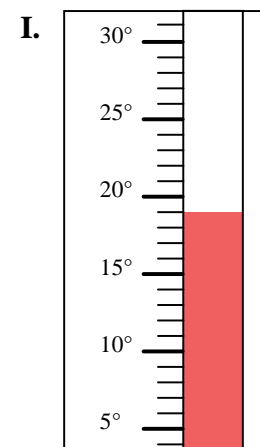
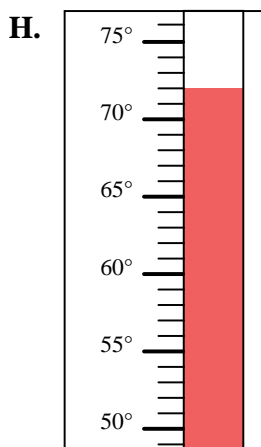
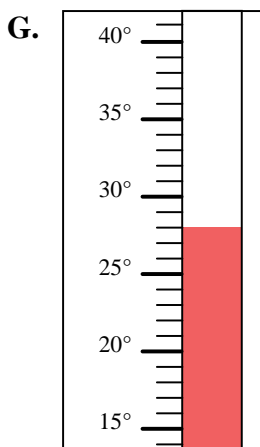
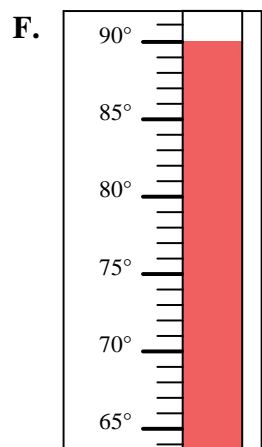
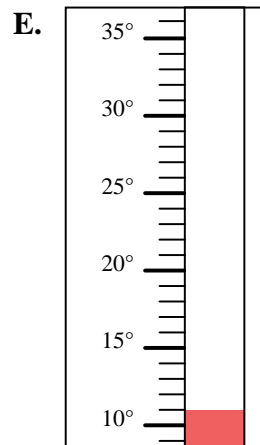
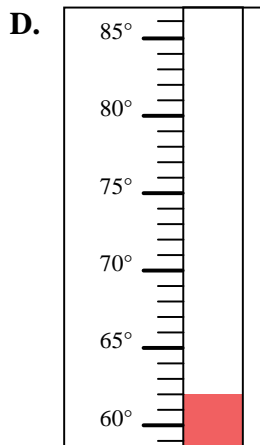
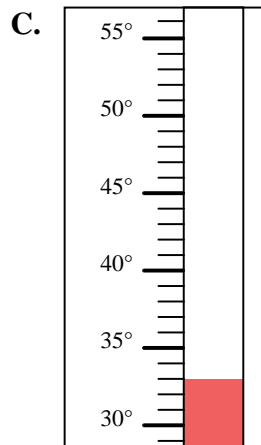
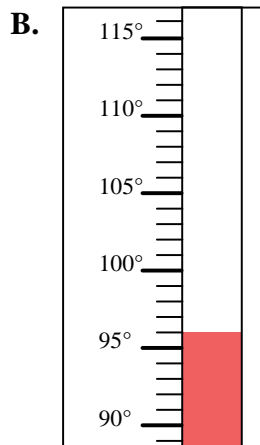
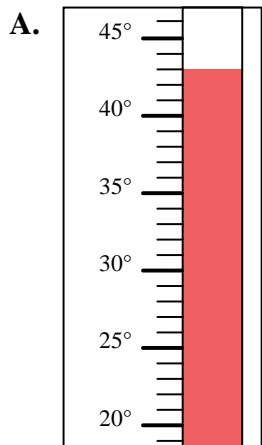
1. _____
2. _____
3. _____
4. _____
5. _____
6. _____
7. _____
8. _____
9. _____
10. _____





Indica quale lettera risponde correttamente ad ogni domanda.

- 1) Quale termometro rappresenta correttamente la temperatura di 62° ?
- 2) Quale termometro rappresenta correttamente la temperatura di 43° ?
- 3) Quale termometro rappresenta correttamente la temperatura di 72° ?
- 4) Quale termometro rappresenta correttamente la temperatura di 33° ?
- 5) Quale termometro rappresenta correttamente la temperatura di 11° ?
- 6) Quale termometro rappresenta correttamente la temperatura di 93° ?
- 7) Quale termometro rappresenta correttamente la temperatura di 96° ?
- 8) Quale termometro rappresenta correttamente la temperatura di 19° ?
- 9) Quale termometro rappresenta correttamente la temperatura di 28° ?
- 10) Quale termometro rappresenta correttamente la temperatura di 90° ?

**Risposte**

1. **D**
2. **A**
3. **H**
4. **C**
5. **E**
6. **J**
7. **B**
8. **I**
9. **G**
10. **F**