



Usa la linea numerata per arrotondare ogni numero al centinaio più vicino.

Es)

612



1)

9.223



2)

17.922



3)

87.465



4)

653



5)

3.616



6)

6.677



7)

22.598



8)

1.241



9)

960



10)

873



**Risposte**

Es. 600

1. \_\_\_\_\_

2. \_\_\_\_\_

3. \_\_\_\_\_

4. \_\_\_\_\_

5. \_\_\_\_\_

6. \_\_\_\_\_

7. \_\_\_\_\_

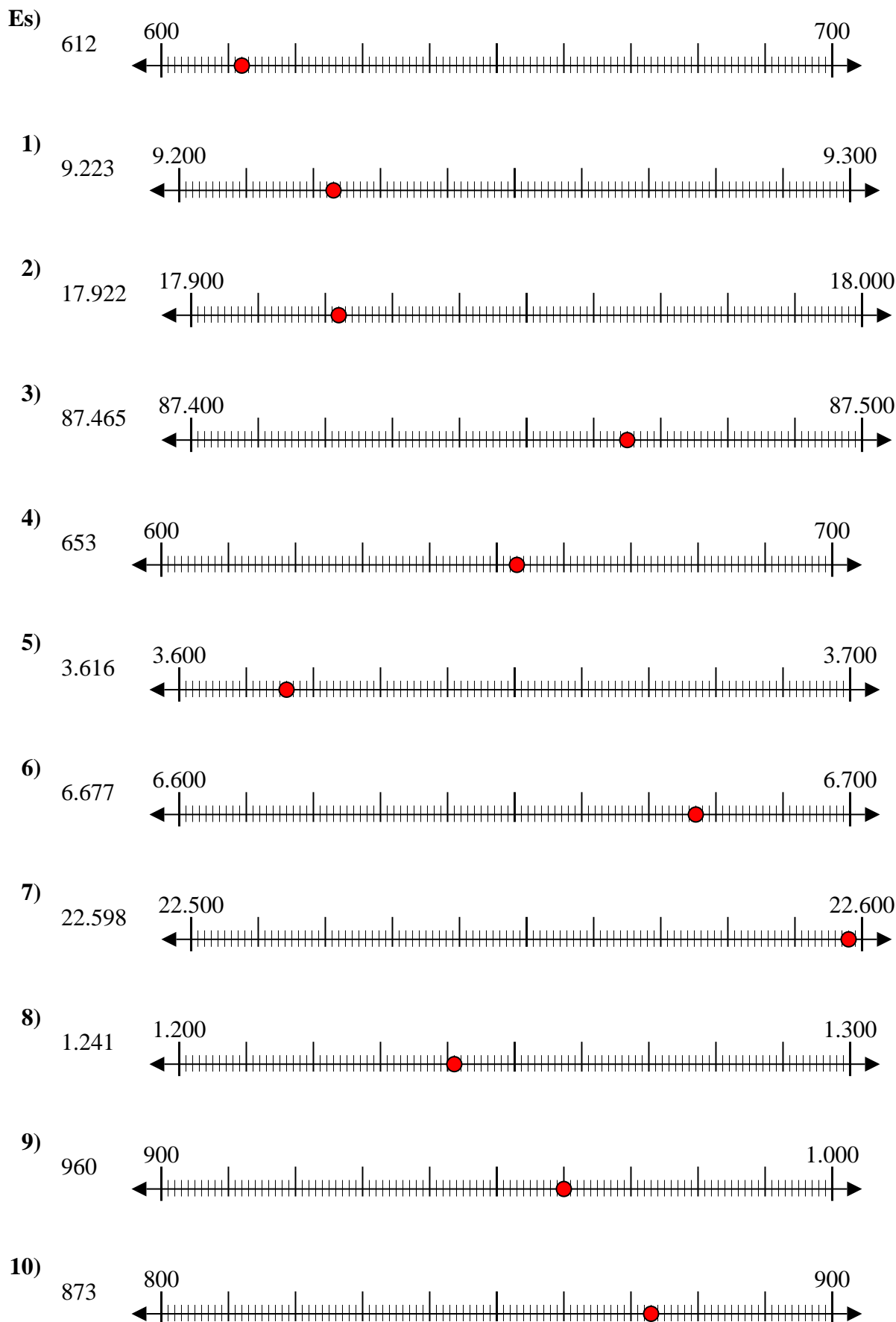
8. \_\_\_\_\_

9. \_\_\_\_\_

10. \_\_\_\_\_



Usa la linea numerata per arrotondare ogni numero al centinaio più vicino.



**Risposte**

- Es. 600
1. 9.200
2. 17.900
3. 87.500
4. 700
5. 3.600
6. 6.700
7. 22.600
8. 1.200
9. 1.000
10. 900



Usa la linea numerata per arrotondare ogni numero al centinaio più vicino.

**Risposte**

Es)

356



Es. 400

1)

1.360



1. \_\_\_\_\_

2)

7.216



2. \_\_\_\_\_

3)

51.669



3. \_\_\_\_\_

4)

670



4. \_\_\_\_\_

5)

171



5. \_\_\_\_\_

6)

80.458



6. \_\_\_\_\_

7)

9.425



7. \_\_\_\_\_

8)

616



8. \_\_\_\_\_

9)

88.299



9. \_\_\_\_\_

10)

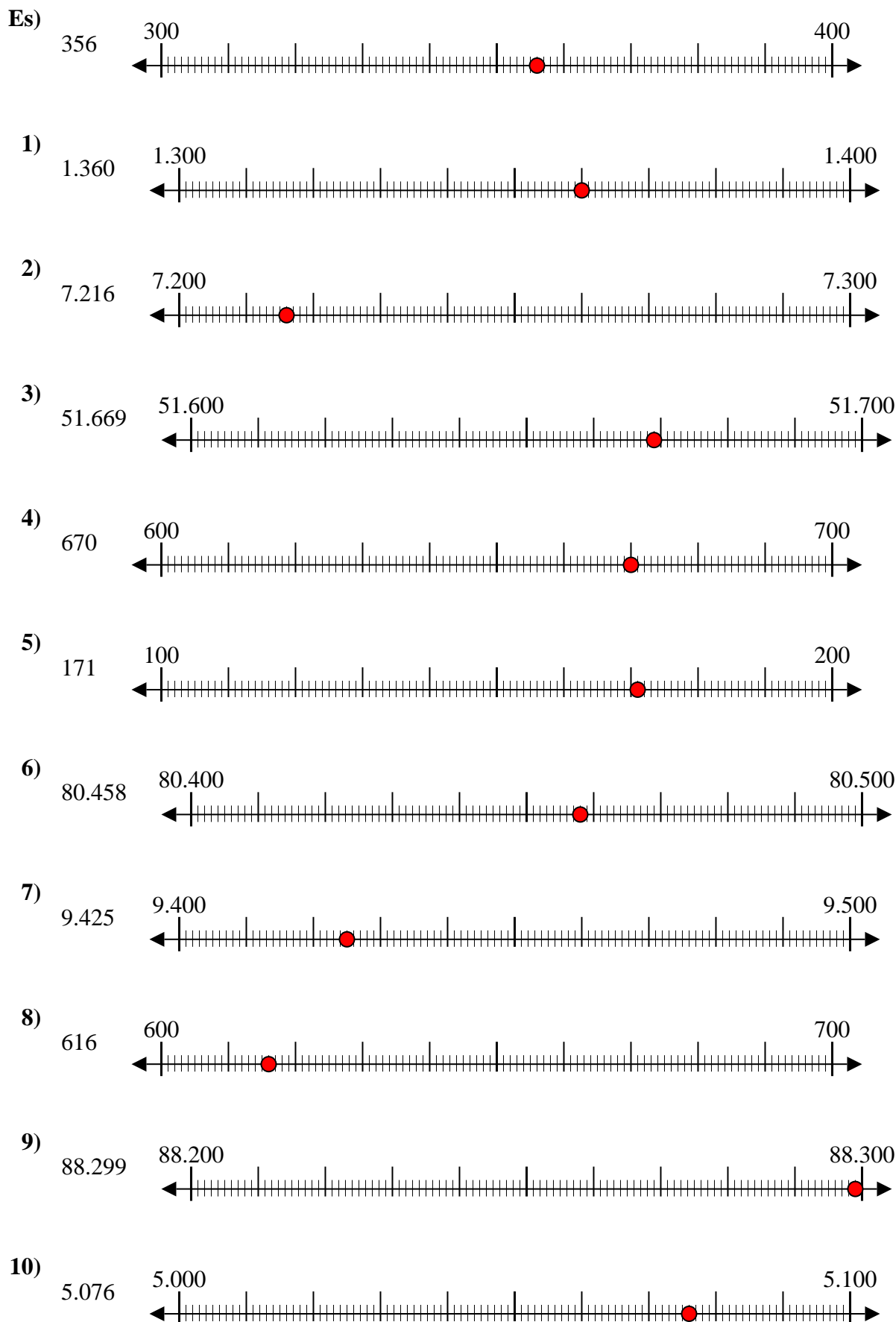
5.076



10. \_\_\_\_\_



Usa la linea numerata per arrotondare ogni numero al centinaio più vicino.

**Risposte**

- Es. 400
1. 1.400
2. 7.200
3. 51.700
4. 700
5. 200
6. 80.500
7. 9.400
8. 600
9. 88.300
10. 5.100



Usa la linea numerata per arrotondare ogni numero al centinaio più vicino.

Es)

908



Es. 900

1)

257



1. \_\_\_\_\_

2)

8.566



2. \_\_\_\_\_

3)

18.478



3. \_\_\_\_\_

4)

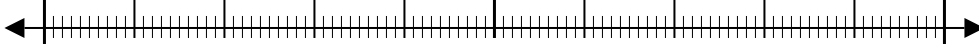
84.766



4. \_\_\_\_\_

5)

991



5. \_\_\_\_\_

6)

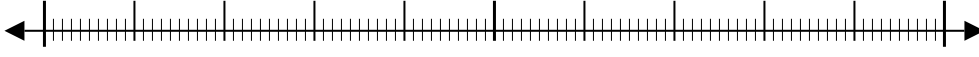
76.319



6. \_\_\_\_\_

7)

759



7. \_\_\_\_\_

8)

4.490



8. \_\_\_\_\_

9)

70.699



9. \_\_\_\_\_

10)

1.399

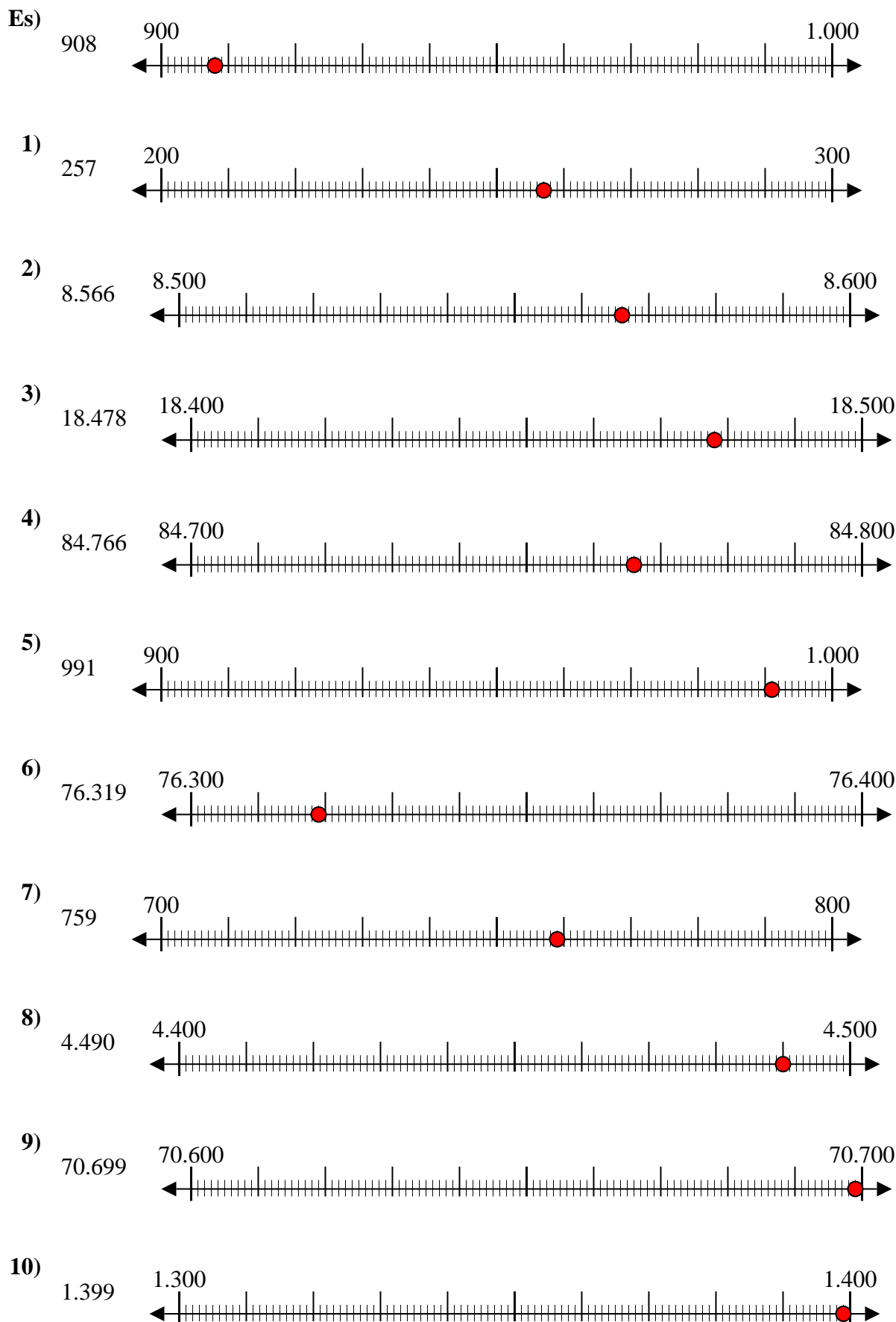


10. \_\_\_\_\_

**Risposte**



Usa la linea numerata per arrotondare ogni numero al centinaio più vicino.

**Risposte**

- Es. 900
1. 300
2. 8.600
3. 18.500
4. 84.800
5. 1.000
6. 76.300
7. 800
8. 4.500
9. 70.700
10. 1.400



Usa la linea numerata per arrotondare ogni numero al centinaio più vicino.

Es)

4.410



Es. 4.400

1)

853



1. \_\_\_\_\_

2)

783



2. \_\_\_\_\_

3)

9.697



3. \_\_\_\_\_

4)

8.980



4. \_\_\_\_\_

5)

569



5. \_\_\_\_\_

6)

9.924



6. \_\_\_\_\_

7)

99.310



7. \_\_\_\_\_

8)

90.005



8. \_\_\_\_\_

9)

17.192



9. \_\_\_\_\_

10)

60.453

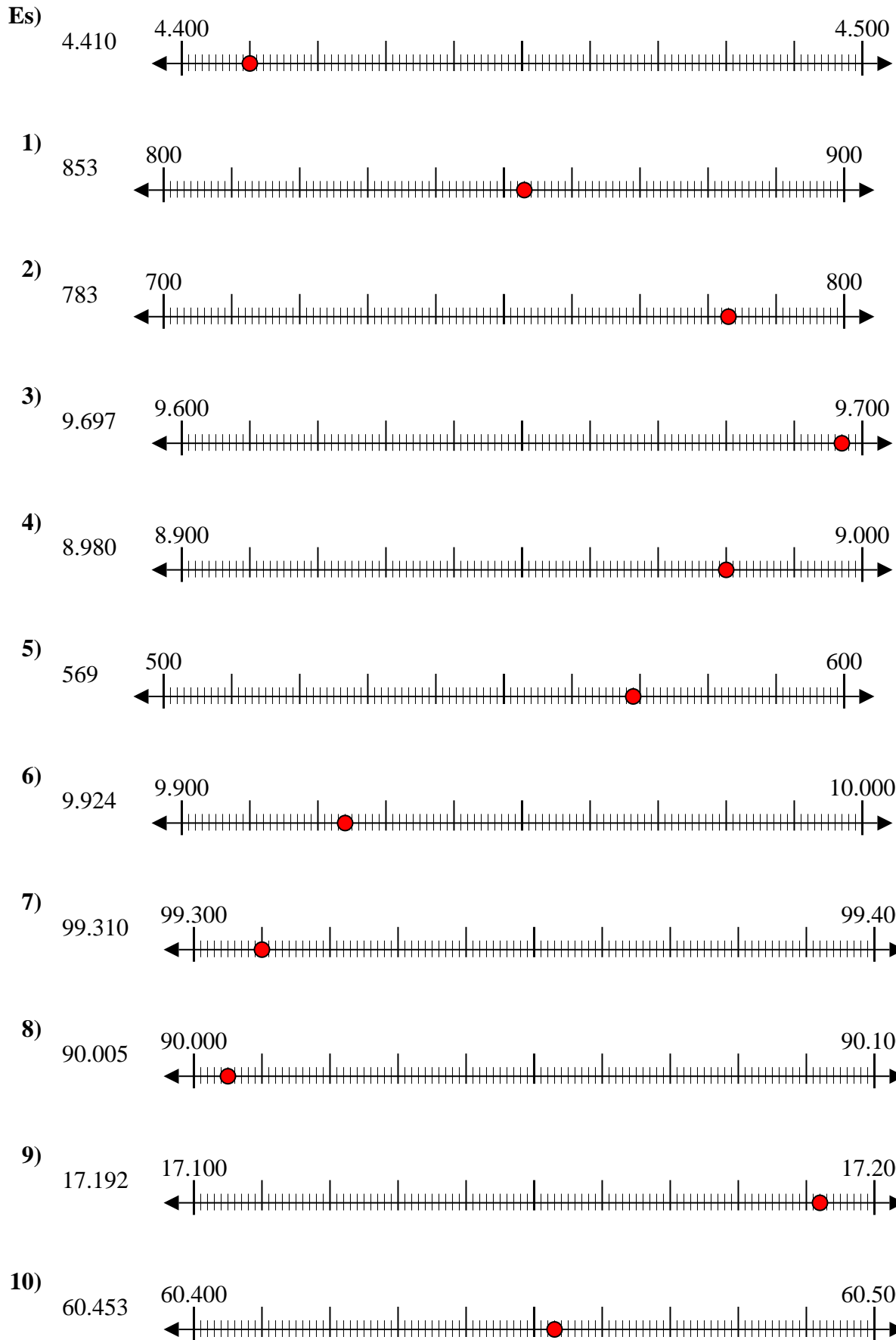


10. \_\_\_\_\_

**Risposte**



Usa la linea numerata per arrotondare ogni numero al centinaio più vicino.



**Risposte**

- Es. 4.400
- 1. 900
- 2. 800
- 3. 9.700
- 4. 9.000
- 5. 600
- 6. 9.900
- 7. 99.300
- 8. 90.000
- 9. 17.200
- 10. 60.500





Usa la linea numerata per arrotondare ogni numero al centinaio più vicino.

**Risposte**

Es)

1.224



Es. **1.200**

1)

9.937



1. \_\_\_\_\_

2)

81.895



2. \_\_\_\_\_

3)

791



3. \_\_\_\_\_

4)

3.821



4. \_\_\_\_\_

5)

216



5. \_\_\_\_\_

6)

45.078



6. \_\_\_\_\_

7)

21.436



7. \_\_\_\_\_

8)

85.063



8. \_\_\_\_\_

9)

232



9. \_\_\_\_\_

10)

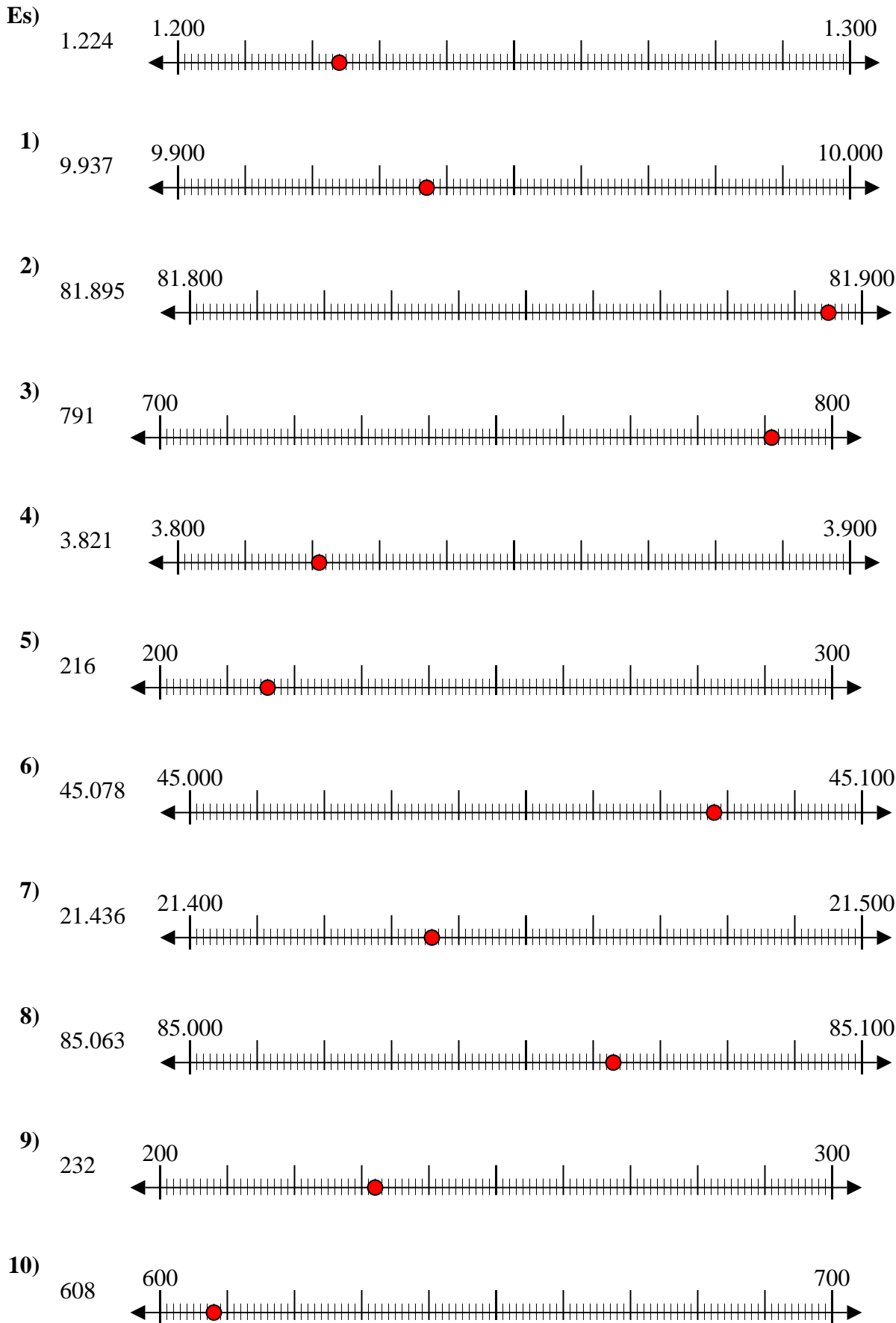
608



10. \_\_\_\_\_



Usa la linea numerata per arrotondare ogni numero al centinaio più vicino.



**Risposte**

- Es. 1.200
- 1. 9.900
- 2. 81.900
- 3. 800
- 4. 3.800
- 5. 200
- 6. 45.100
- 7. 21.400
- 8. 85.100
- 9. 200
- 10. 600



Usa la linea numerata per arrotondare ogni numero al centinaio più vicino.

Es)

25.932



Es. 25.900

1)

28.551



1. \_\_\_\_\_

2)

854



2. \_\_\_\_\_

3)

831



3. \_\_\_\_\_

4)

274



4. \_\_\_\_\_

5)

12.793



5. \_\_\_\_\_

6)

5.558



6. \_\_\_\_\_

7)

5.688



7. \_\_\_\_\_

8)

134



8. \_\_\_\_\_

9)

9.335



9. \_\_\_\_\_

10)

36.045

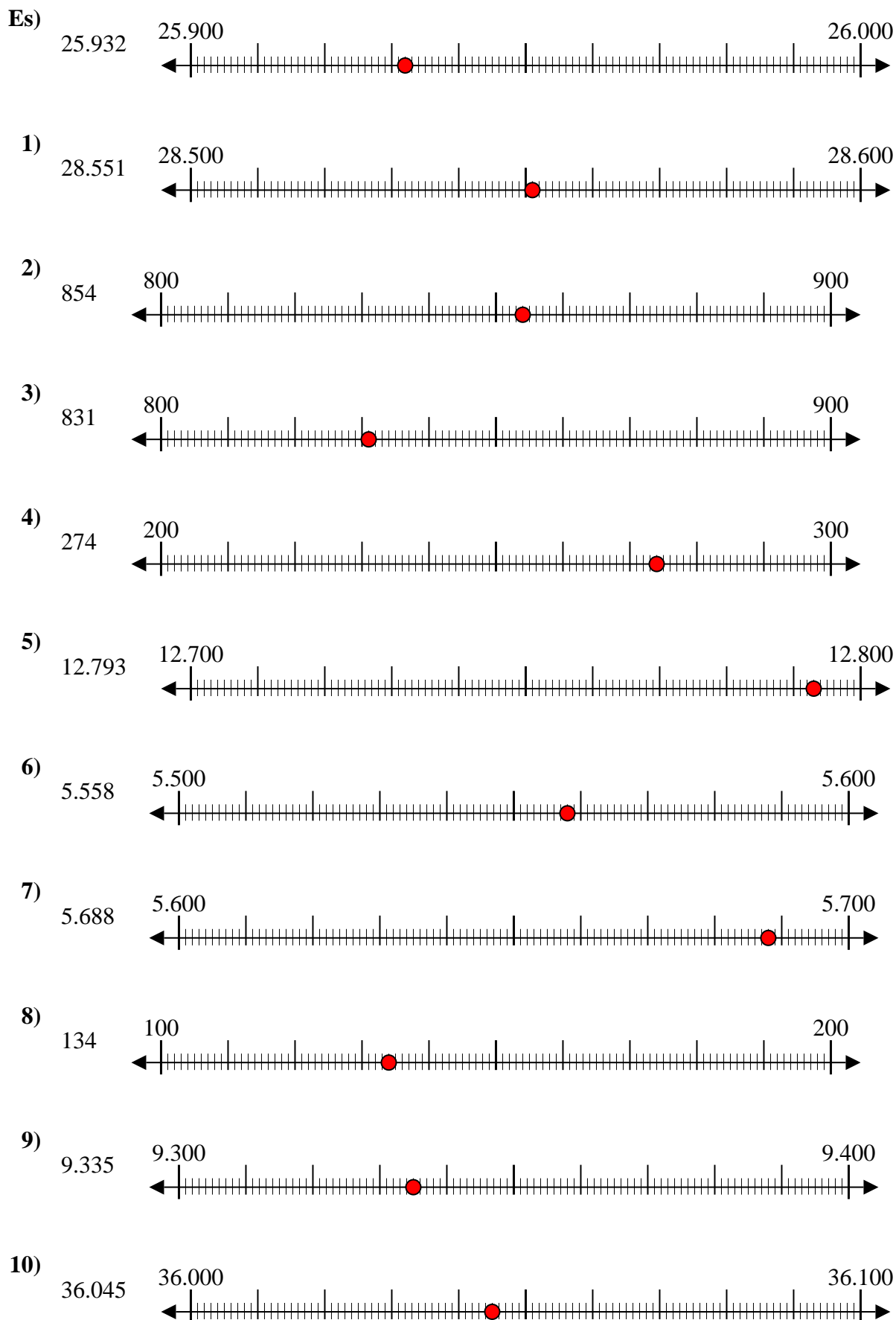


10. \_\_\_\_\_

**Risposte**



Usa la linea numerata per arrotondare ogni numero al centinaio più vicino.

**Risposte**

- Es. 25.900
1. 28.600
2. 900
3. 800
4. 300
5. 12.800
6. 5.600
7. 5.700
8. 100
9. 9.300
10. 36.000



Usa la linea numerata per arrotondare ogni numero al centinaio più vicino.

**Risposte**

Es)

803



Es. 800

1)

589



1. \_\_\_\_\_

2)

35.102



2. \_\_\_\_\_

3)

6.126



3. \_\_\_\_\_

4)

5.531



4. \_\_\_\_\_

5)

5.313



5. \_\_\_\_\_

6)

951



6. \_\_\_\_\_

7)

8.816



7. \_\_\_\_\_

8)

152



8. \_\_\_\_\_

9)

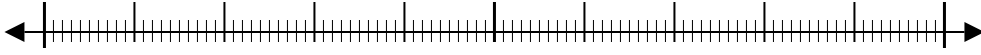
62.481



9. \_\_\_\_\_

10)

59.409

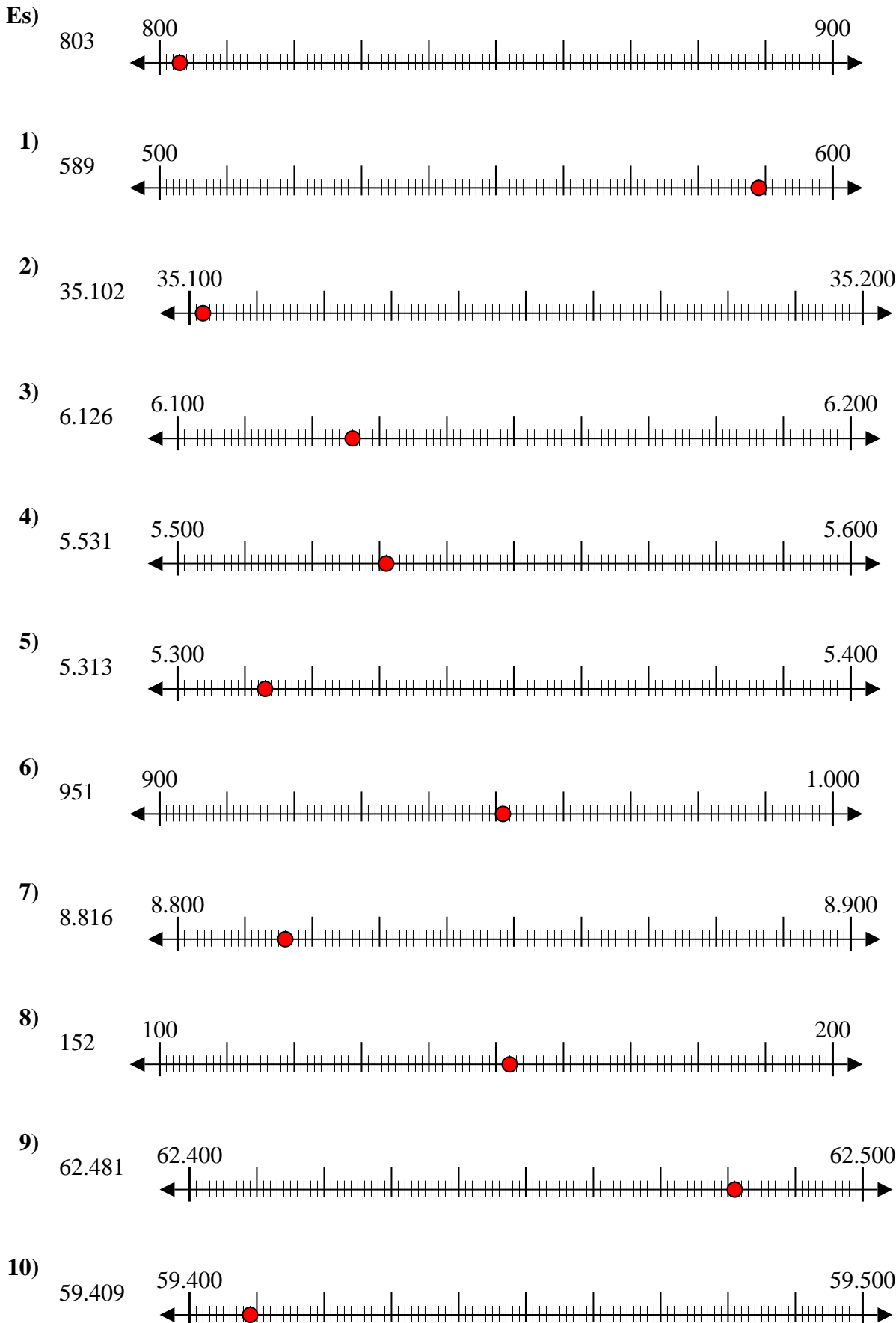


10. \_\_\_\_\_

10. \_\_\_\_\_



Usa la linea numerata per arrotondare ogni numero al centinaio più vicino.



**Risposte**

- Es. 800
- 1. 600
- 2. 35.100
- 3. 6.100
- 4. 5.500
- 5. 5.300
- 6. 1.000
- 7. 8.800
- 8. 200
- 9. 62.500
- 10. 59.400



Usa la linea numerata per arrotondare ogni numero al centinaio più vicino.

Es)

842



Es. 800

1)

777



1. \_\_\_\_\_

2)

395



2. \_\_\_\_\_

3)

856



3. \_\_\_\_\_

4)

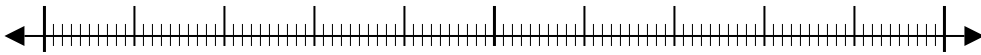
7.693



4. \_\_\_\_\_

5)

22.440



5. \_\_\_\_\_

6)

52.709



6. \_\_\_\_\_

7)

5.550



7. \_\_\_\_\_

8)

6.348



8. \_\_\_\_\_

9)

76.807



9. \_\_\_\_\_

10)

1.323

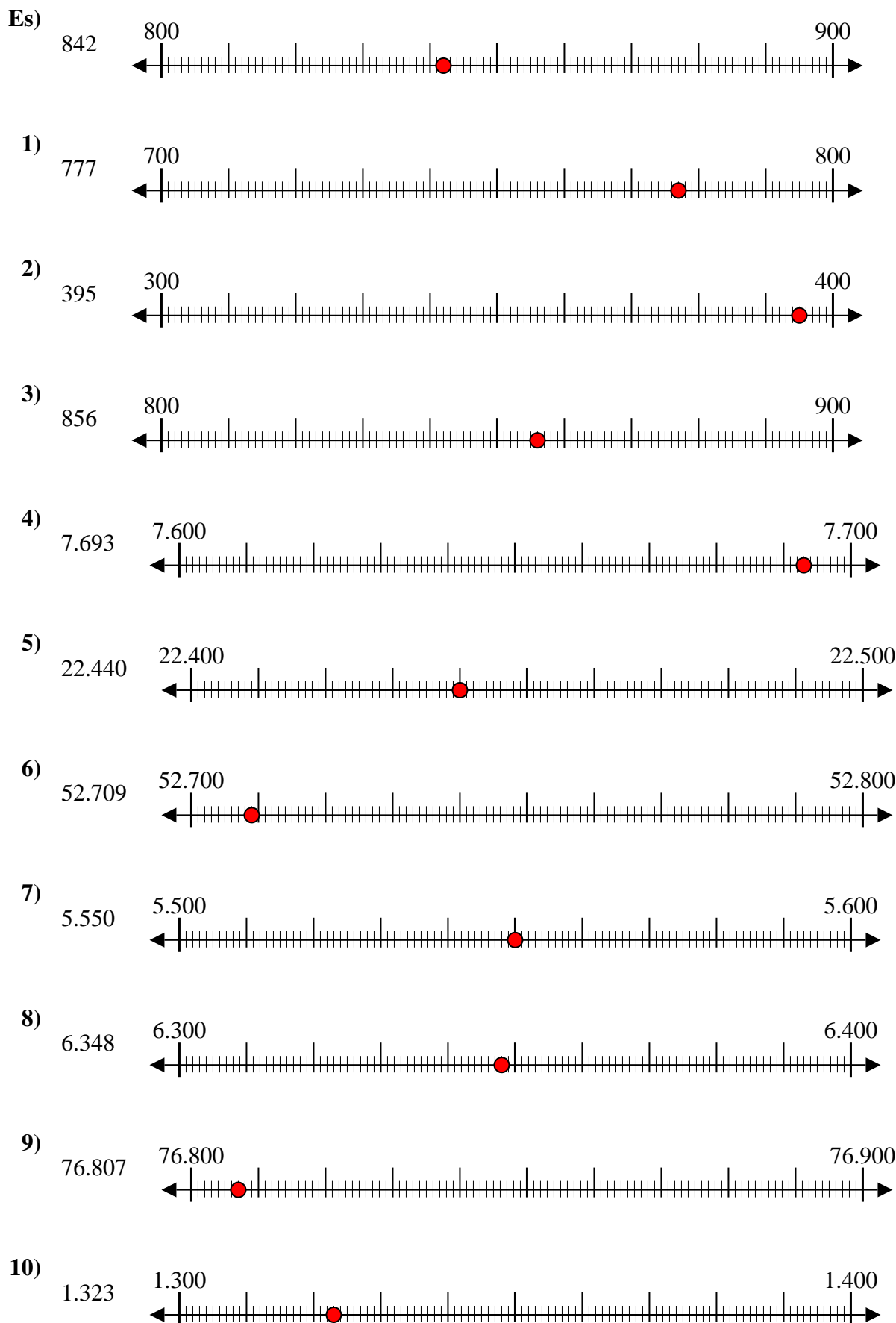


10. \_\_\_\_\_

**Risposte**



Usa la linea numerata per arrotondare ogni numero al centinaio più vicino.



**Risposte**

- Es. 800
- 1. 800
- 2. 400
- 3. 900
- 4. 7.700
- 5. 22.400
- 6. 52.700
- 7. 5.600
- 8. 6.300
- 9. 76.800
- 10. 1.300





Usa la linea numerata per arrotondare ogni numero al centinaio più vicino.

Es)

22.128



Es. 22.100

1)

7.798



1. \_\_\_\_\_

2)

73.791



2. \_\_\_\_\_

3)

48.807



3. \_\_\_\_\_

4)

1.381



4. \_\_\_\_\_

5)

746



5. \_\_\_\_\_

6)

140



6. \_\_\_\_\_

7)

904



7. \_\_\_\_\_

8)

93.445



8. \_\_\_\_\_

9)

4.176



9. \_\_\_\_\_

10)

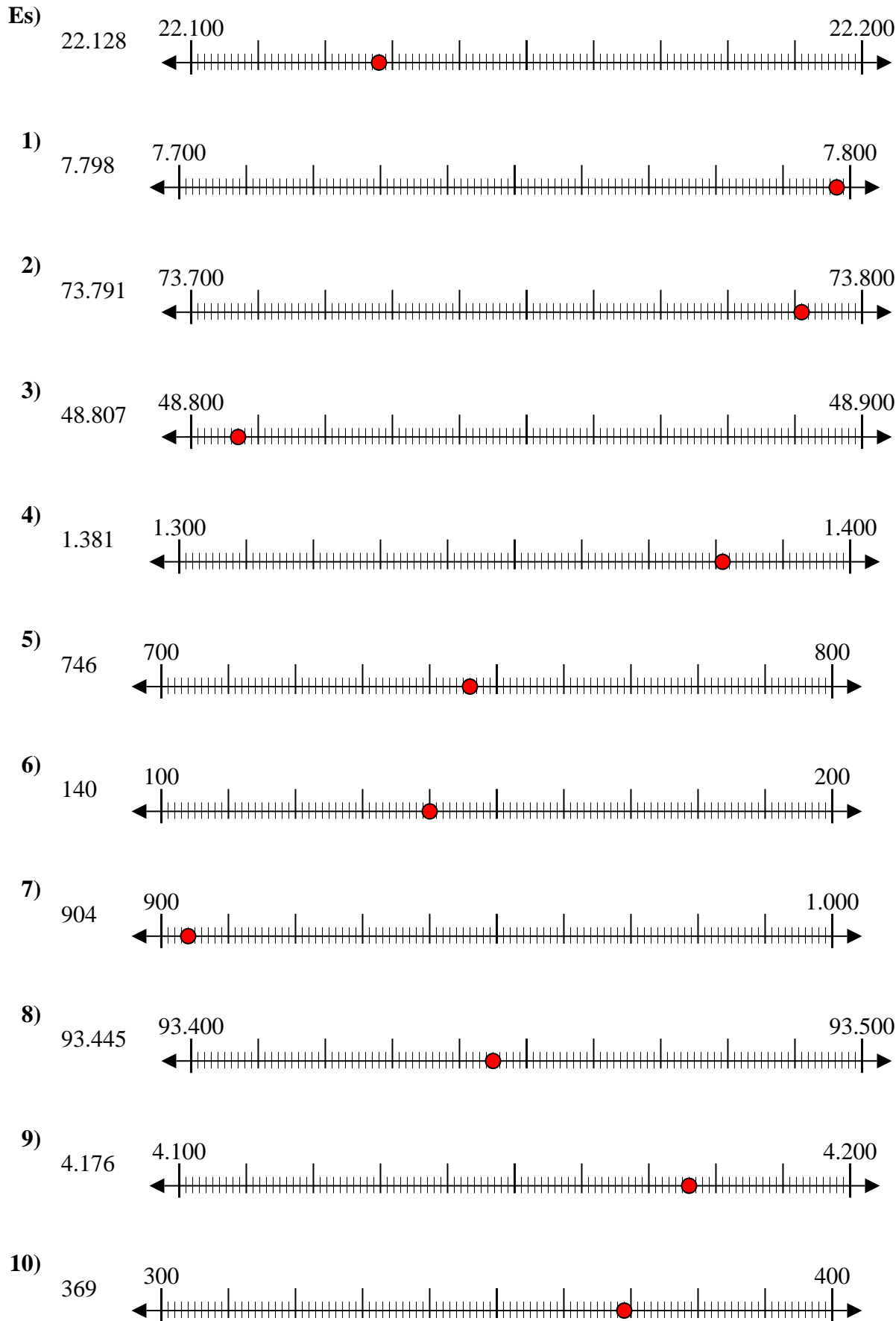
369



10. \_\_\_\_\_



Usa la linea numerata per arrotondare ogni numero al centinaio più vicino.



**Risposte**

- Es. 22.100
1. 7.800
2. 73.800
3. 48.800
4. 1.400
5. 700
6. 100
7. 900
8. 93.400
9. 4.200
10. 400



Usa la linea numerata per arrotondare ogni numero al centinaio più vicino.

**Risposte**

Es)

4.028



Es. **4.000**

1)

905



1. \_\_\_\_\_

2)

4.915



2. \_\_\_\_\_

3)

984



3. \_\_\_\_\_

4)

6.410



4. \_\_\_\_\_

5)

43.902



5. \_\_\_\_\_

6)

20.088



6. \_\_\_\_\_

7)

59.370



7. \_\_\_\_\_

8)

815



8. \_\_\_\_\_

9)

38.901



9. \_\_\_\_\_

10)

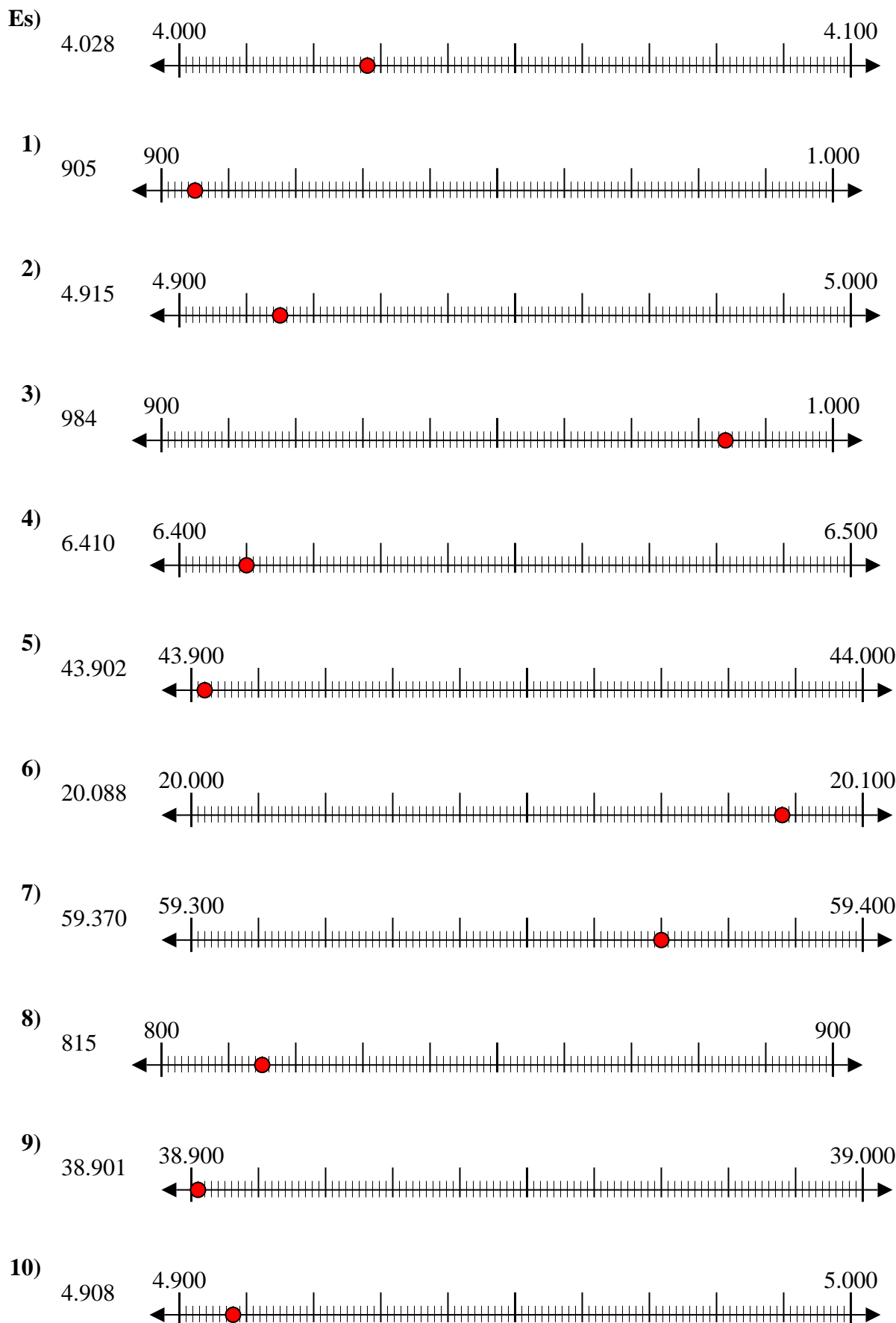
4.908



10. \_\_\_\_\_



Usa la linea numerata per arrotondare ogni numero al centinaio più vicino.



**Risposte**

- Es. 4.000
- 1. 900
- 2. 4.900
- 3. 1.000
- 4. 6.400
- 5. 43.900
- 6. 20.100
- 7. 59.400
- 8. 800
- 9. 38.900
- 10. 4.900