

**Usa le doppie linee per risolvere i problemi.****Risposte**

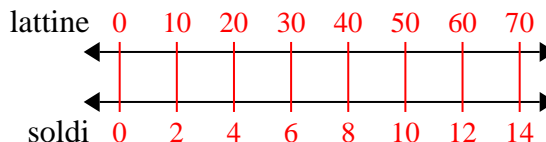
- | | | | |
|----|---|--|----------------------------------|
| 1) | Per ogni 10 lattine Marcello raccolte per il riciclaggio ha guadagnato 2 centesimi. Dopo aver raccolto 70 lattine, quanti soldi avrebbe guadagnato? | lattine
←————→
soldi
←————→ | 1. _____
2. _____ |
| 2) | Il rapporto tra ragazzi e ragazze al parco era 6 su 4. Se c'erano 30 maschi, quante femmine c'erano? | ragazzi
←————→
ragazze
←————→ | 3. _____
4. _____
5. _____ |
| 3) | In un videogioco, per ogni 7 nemici sconfitti, ottieni 2 punti. Se avessi sconfitto 56 nemici, quanti punti avresti guadagnato? | nemici
←————→
punti
←————→ | 6. _____
7. _____ |
| 4) | Una scatola di caramelle conteneva 8 pezzi di ciliegia per ogni 10 pezzi di limone. Se la scatola avesse 20 pezzi di limone, quanti pezzi di ciliegia ci sarebbero? | Limone
←————→
ciliegia
←————→ | 8. _____ |
| 5) | Un costruttore potrebbe ottenere 7 fogli di cartongesso per \$5. Se avesse comprato fogli 42, quanti soldi avrebbe speso? | tongesso
←————→
prezzo
←————→ | |
| 6) | Una ricetta richiede 8 cucchiaini di condimento per ogni 3 lotti di pollo. Se hai 15 partite di pollo, quanti cucchiaini di condimento ti serviranno? | pollo
←————→
porzionatura
←————→ | |
| 7) | Un cinema metteva 5 tazze di olio per ogni 6 lotti di popcorn che produceva. Dopo aver prodotto 12 lotti di popcorn, quanto olio avrebbero usato? | Popcorn
←————→
olio
←————→ | |
| 8) | Un ristorante sciatto ha dato 5 tovaglioli per ogni 7 articoli ordinati. Se qualcuno ha acquistato articoli 70, quanti tovaglioli dovrebbe ricevere? | articolo
←————→
tovaglioli
←————→ | |



Usa le doppie linee per risolvere i problemi.

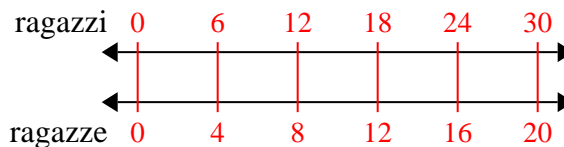
Risposte

1) Per ogni 10 lattine Marcello raccolte per il riciclaggio ha guadagnato 2 centesimi. Dopo aver raccolto 70 lattine, quanti soldi avrebbe guadagnato?



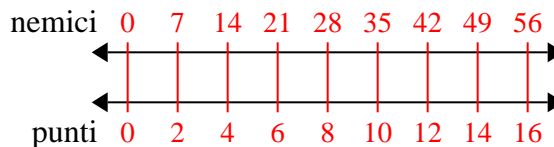
1. 14

2) Il rapporto tra ragazzi e ragazze al parco era 6 su 4. Se c'erano 30 maschi, quante femmine c'erano?



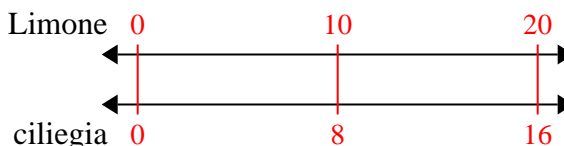
3. 16

3) In un videogioco, per ogni 7 nemici sconfitti, ottieni 2 punti. Se avessi sconfitto 56 nemici, quanti punti avresti guadagnato?



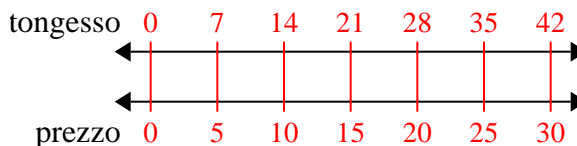
6. 40

4) Una scatola di caramelle conteneva 8 pezzi di ciliegia per ogni 10 pezzi di limone. Se la scatola avesse 20 pezzi di limone, quanti pezzi di ciliegia ci sarebbero?

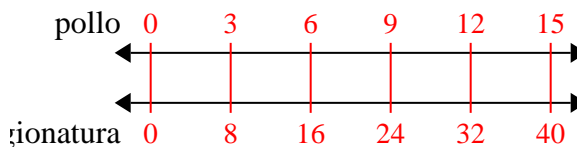


8. 50

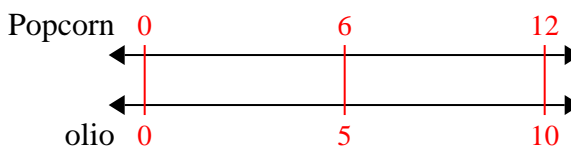
5) Un costruttore potrebbe ottenere 7 fogli di cartongesso per \$5. Se avesse comprato fogli 42, quanti soldi avrebbe speso?



6) Una ricetta richiede 8 cucchiaini di condimento per ogni 3 lotti di pollo. Se hai 15 partite di pollo, quanti cucchiaini di condimento ti serviranno?



7) Un cinema metteva 5 tazze di olio per ogni 6 lotti di popcorn che produceva. Dopo aver prodotto 12 lotti di popcorn, quanto olio avrebbero usato?



8) Un ristorante sciatto ha dato 5 tovaglioli per ogni 7 articoli ordinati. Se qualcuno ha acquistato articoli 70, quanti tovaglioli dovrebbe ricevere?

