




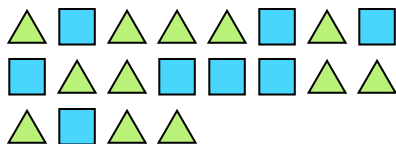






Risolvi ogni problema.

Es) Qual è il rapporto tra triangoli e quadrati? 1) Qual è il rapporto tra stelle e quadrati?



2) Qual è il rapporto tra moons e stelle?



3) Qual è il rapporto tra moons e stelle?



4) Qual è il rapporto tra stelle e hearts?



5) Qual è il rapporto tra triangoli e hearts?




6) Qual è il rapporto tra hearts e moons?



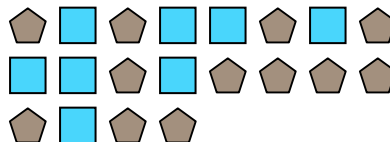
7) Qual è il rapporto tra hearts e stelle?




8) Qual è il rapporto tra hearts e cerchi?



9) Qual è il rapporto tra quadrati e pentagoni?



10) Qual è il rapporto tra hearts e pentagoni? 11) Qual è il rapporto tra quadrati e stelle?

**Risposte**Es. 12:81. 3:92. 11:23. 10:44. 8:115. 8:66. 2:107. 9:138. 9:79. 8:1210. 4:211. 13:14



Risolvi ogni problema.

**Risposte**

Es) Qual è il rapporto tra moons e hearts?

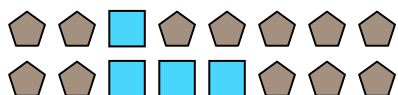


1) Qual è il rapporto tra stelle e hearts?




Es. **15:7**


2) Qual è il rapporto tra quadrati e pentagoni?




3) Qual è il rapporto tra hearts e quadrati?



4) Qual è il rapporto tra stelle e cerchi?



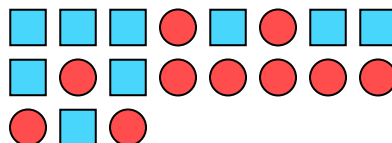
5) Qual è il rapporto tra hearts e moons?



6) Qual è il rapporto tra moons e triangoli?



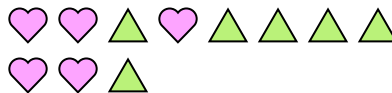
7) Qual è il rapporto tra quadrati e cerchi?



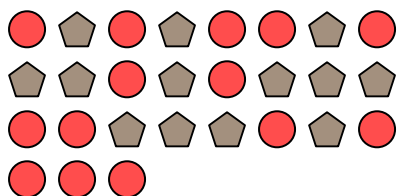
8) Qual è il rapporto tra stelle e hearts?




9) Qual è il rapporto tra triangoli e hearts?



10) Qual è il rapporto tra cerchi e pentagoni?



11) Qual è il rapporto tra stelle e quadrati?



- 1. \_\_\_\_\_
- 2. \_\_\_\_\_
- 3. \_\_\_\_\_
- 4. \_\_\_\_\_
- 5. \_\_\_\_\_
- 6. \_\_\_\_\_
- 7. \_\_\_\_\_
- 8. \_\_\_\_\_
- 9. \_\_\_\_\_
- 10. \_\_\_\_\_
- 11. \_\_\_\_\_





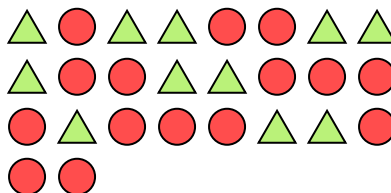


Risolvi ogni problema.

Es) Qual è il rapporto tra triangoli e stelle?



1) Qual è il rapporto tra cerchi e triangoli?



2) Qual è il rapporto tra pentagoni e moons?



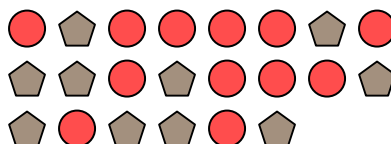
3) Qual è il rapporto tra quadrati e pentagoni?



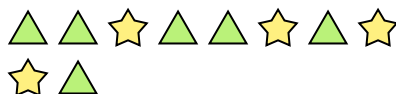
4) Qual è il rapporto tra moons e hearts?




5) Qual è il rapporto tra cerchi e pentagoni?




6) Qual è il rapporto tra triangoli e stelle?




7) Qual è il rapporto tra hearts e cerchi?




8) Qual è il rapporto tra hearts e cerchi?



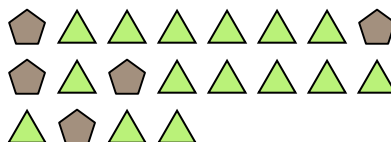
9) Qual è il rapporto tra hearts e cerchi?



10) Qual è il rapporto tra quadrati e moons?



11) Qual è il rapporto tra triangoli e pentagoni?

**Risposte**Es. 3:91. 15:112. 4:113. 6:64. 8:145. 12:106. 6:47. 8:118. 15:89. 5:910. 6:1311. 15:5











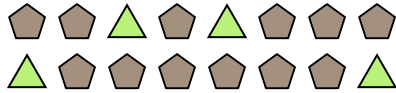




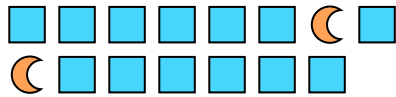


Risolvi ogni problema.

Es) Qual è il rapporto tra triangoli e pentagoni?



2) Qual è il rapporto tra moons e quadrati?




4) Qual è il rapporto tra stelle e pentagoni?



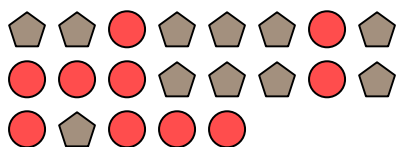
6) Qual è il rapporto tra stelle e cerchi?



8) Qual è il rapporto tra cerchi e moons?




10) Qual è il rapporto tra pentagoni e cerchi?



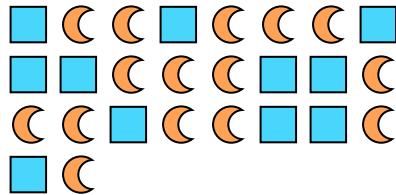
1) Qual è il rapporto tra stelle e moons?




3) Qual è il rapporto tra pentagoni e moons?



5) Qual è il rapporto tra moons e quadrati?




7) Qual è il rapporto tra cerchi e stelle?



9) Qual è il rapporto tra pentagoni e stelle?



11) Qual è il rapporto tra quadrati e hearts?

**Risposte**Es. **4:12**

1. \_\_\_\_\_

2. \_\_\_\_\_

3. \_\_\_\_\_

4. \_\_\_\_\_

5. \_\_\_\_\_

6. \_\_\_\_\_

7. \_\_\_\_\_

8. \_\_\_\_\_

9. \_\_\_\_\_

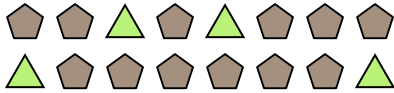
10. \_\_\_\_\_

11. \_\_\_\_\_



Risolvi ogni problema.

Es) Qual è il rapporto tra triangoli e pentagoni?



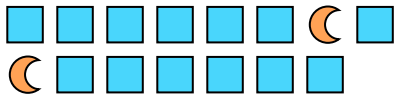
1) Qual è il rapporto tra stelle e moons?




**Risposte**

Es. 4:12

2) Qual è il rapporto tra moons e quadrati?



3) Qual è il rapporto tra pentagoni e moons?



1. 9:12

2. 2:13

3. 10:13


4. 12:5

5. 15:11

4) Qual è il rapporto tra stelle e pentagoni?



5) Qual è il rapporto tra moons e quadrati?



6. 7:9

7. 12:7


8. 8:15

9. 7:4

6) Qual è il rapporto tra stelle e cerchi?




7) Qual è il rapporto tra cerchi e stelle?



10. 11:10

11. 4:6

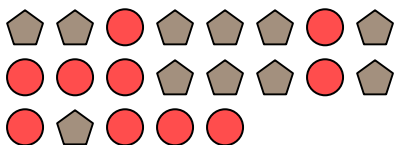
8) Qual è il rapporto tra cerchi e moons?




9) Qual è il rapporto tra pentagoni e stelle?



10) Qual è il rapporto tra pentagoni e cerchi?



11) Qual è il rapporto tra quadrati e hearts?



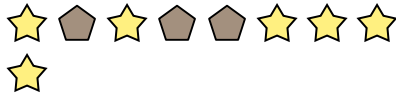




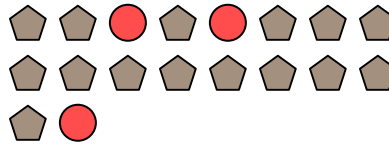
Risolvi ogni problema.

**Risposte**

Es) Qual è il rapporto tra stelle e pentagoni?



1) Qual è il rapporto tra cerchi e pentagoni?




Es. **6:3**

2) Qual è il rapporto tra cerchi e moons?



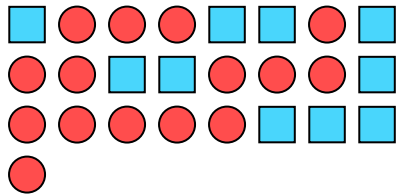
3) Qual è il rapporto tra triangoli e moons?



1. \_\_\_\_\_

2. \_\_\_\_\_

4) Qual è il rapporto tra cerchi e quadrati?



5) Qual è il rapporto tra hearts e stelle?



3. \_\_\_\_\_

4. \_\_\_\_\_

5. \_\_\_\_\_

6. \_\_\_\_\_

7. \_\_\_\_\_


8. \_\_\_\_\_

9. \_\_\_\_\_

6) Qual è il rapporto tra cerchi e triangoli?



7) Qual è il rapporto tra hearts e pentagoni?




10. \_\_\_\_\_

11. \_\_\_\_\_


8) Qual è il rapporto tra pentagoni e stelle?




9) Qual è il rapporto tra stelle e triangoli?



10) Qual è il rapporto tra quadrati e moons?



11) Qual è il rapporto tra stelle e cerchi?



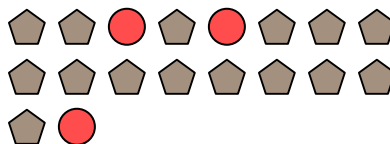


Risolvi ogni problema.


Es) Qual è il rapporto tra stelle e pentagoni?




1) Qual è il rapporto tra cerchi e pentagoni?



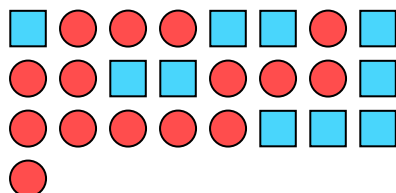
2) Qual è il rapporto tra cerchi e moons?



3) Qual è il rapporto tra triangoli e moons?



4) Qual è il rapporto tra cerchi e quadrati?



5) Qual è il rapporto tra hearts e stelle?



6) Qual è il rapporto tra cerchi e triangoli?



7) Qual è il rapporto tra hearts e pentagoni?




8) Qual è il rapporto tra pentagoni e stelle?




9) Qual è il rapporto tra stelle e triangoli?



10) Qual è il rapporto tra quadrati e moons?



11) Qual è il rapporto tra stelle e cerchi?

**Risposte**Es. 6:31. 3:152. 4:53. 4:134. 15:105. 2:136. 3:47. 5:68. 5:49. 5:1510. 8:1511. 13:6






Risolvi ogni problema.

Es) Qual è il rapporto tra moons e stelle?



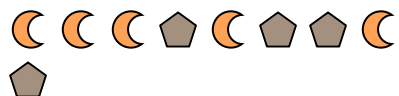
2) Qual è il rapporto tra hearts e quadrati?



4) Qual è il rapporto tra stelle e hearts?



6) Qual è il rapporto tra pentagoni e moons?




8) Qual è il rapporto tra stelle e pentagoni?




10) Qual è il rapporto tra stelle e cerchi?



1) Qual è il rapporto tra moons e triangoli?



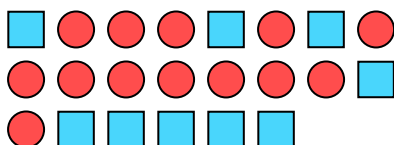
3) Qual è il rapporto tra triangoli e hearts?




5) Qual è il rapporto tra stelle e triangoli?



7) Qual è il rapporto tra cerchi e quadrati?



9) Qual è il rapporto tra triangoli e stelle?



11) Qual è il rapporto tra stelle e hearts?

**Risposte**Es. 5:101. 14:132. 11:73. 14:154. 8:35. 2:36. 4:57. 13:98. 15:79. 10:810. 2:411. 2:11