

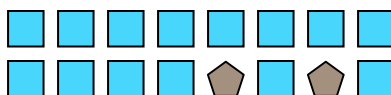


Risolvi ogni problema.

Es) Qual è il rapporto tra moons e quadrati?




1) Qual è il rapporto tra quadrati e pentagoni?




2) Qual è il rapporto tra stelle e triangoli?



3) Qual è il rapporto tra stelle e triangoli?



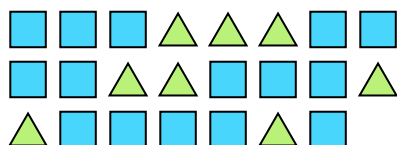
4) Qual è il rapporto tra moons e cerchi?



5) Qual è il rapporto tra quadrati e pentagoni?



6) Qual è il rapporto tra triangoli e quadrati?



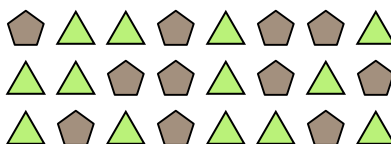
7) Qual è il rapporto tra stelle e cerchi?



8) Qual è il rapporto tra stelle e hearts?



9) Qual è il rapporto tra triangoli e pentagoni?



10) Qual è il rapporto tra cerchi e moons?



11) Qual è il rapporto tra hearts e stelle?

**Risposte**Es. **6:2**

1. \_\_\_\_\_

2. \_\_\_\_\_

3. \_\_\_\_\_

4. \_\_\_\_\_

5. \_\_\_\_\_

6. \_\_\_\_\_

7. \_\_\_\_\_

8. \_\_\_\_\_

9. \_\_\_\_\_

10. \_\_\_\_\_

11. \_\_\_\_\_

