

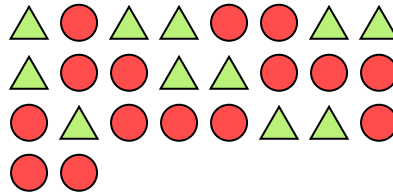


Risolvi ogni problema.

Es) Qual è il rapporto tra triangoli e stelle?



1) Qual è il rapporto tra cerchi e triangoli?



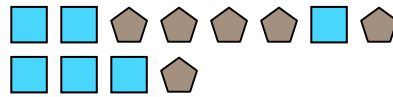
Risposte

Es. **3:9**

2) Qual è il rapporto tra pentagoni e moons?



3) Qual è il rapporto tra quadrati e pentagoni?



1. _____

2. _____

3. _____

4. _____

5. _____

6. _____

7. _____

8. _____

9. _____

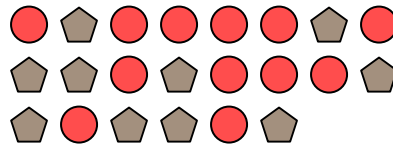
10. _____

11. _____

4) Qual è il rapporto tra moons e hearts?




5) Qual è il rapporto tra cerchi e pentagoni?




6) Qual è il rapporto tra triangoli e stelle?




7) Qual è il rapporto tra hearts e cerchi?




8) Qual è il rapporto tra hearts e cerchi?



9) Qual è il rapporto tra hearts e cerchi?



10) Qual è il rapporto tra quadrati e moons?



11) Qual è il rapporto tra triangoli e pentagoni?

