




Risolvi ogni problema.

Es) Qual è il rapporto tra moons e stelle?



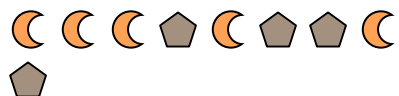
2) Qual è il rapporto tra hearts e quadrati?



4) Qual è il rapporto tra stelle e hearts?



6) Qual è il rapporto tra pentagoni e moons?




8) Qual è il rapporto tra stelle e pentagoni?




10) Qual è il rapporto tra stelle e cerchi?



1) Qual è il rapporto tra moons e triangoli?



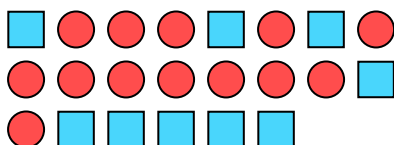
3) Qual è il rapporto tra triangoli e hearts?




5) Qual è il rapporto tra stelle e triangoli?



7) Qual è il rapporto tra cerchi e quadrati?



9) Qual è il rapporto tra triangoli e stelle?



11) Qual è il rapporto tra stelle e hearts?

**Risposte**Es. 5:101. 14:132. 11:73. 14:154. 8:35. 2:36. 4:57. 13:98. 15:79. 10:810. 2:411. 2:11