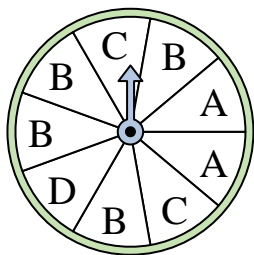





Risolvi ogni problema.

Risposte

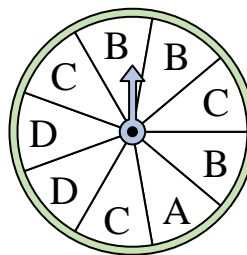
- 1) Su quale lettera è più probabile che si fermerà l'indicatore?



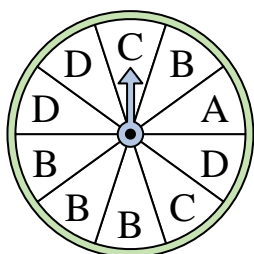
- 2) Su quale numero è meno probabile che si fermerà l'indicatore?



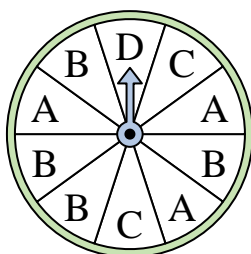
- 3) Su quali due lettere c'è la stessa probabilità che l'indicatore si fermi?



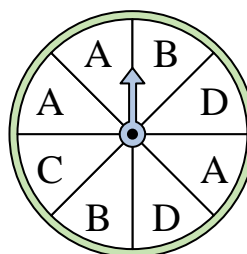
- 4) Su quale lettera è più probabile che si fermerà l'indicatore?




- 5) Su quale lettera è meno probabile che si fermerà l'indicatore?




- 6) Su quali due lettere c'è la stessa probabilità che l'indicatore si fermi?



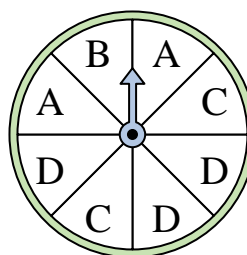
- 7) Su quale numero è meno probabile che si fermerà l'indicatore?



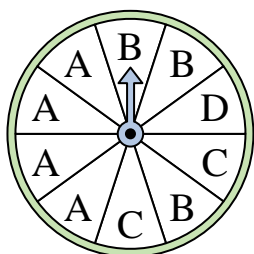
- 8) Su quale numero è meno probabile che si fermerà l'indicatore?



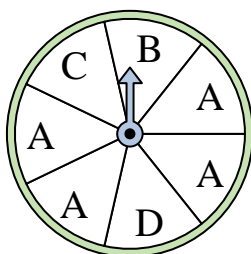
- 9) Su quali due lettere c'è la stessa probabilità che l'indicatore si fermi?



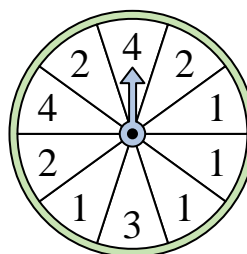
- 10) Su quale lettera è più probabile che si fermerà l'indicatore?



- 11) Su quale lettera è più probabile che si fermerà l'indicatore?



- 12) Su quale numero è più probabile che si fermerà l'indicatore?

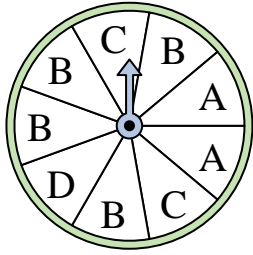


1. _____
2. _____
3. _____
4. _____
5. _____
6. _____
7. _____
8. _____
9. _____
10. _____
11. _____
12. _____




Risolvi ogni problema.

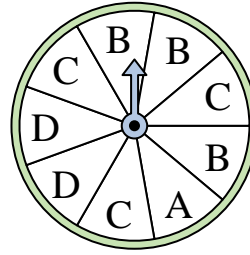
- 1) Su quale lettera è più probabile che si fermerà l'indicatore?



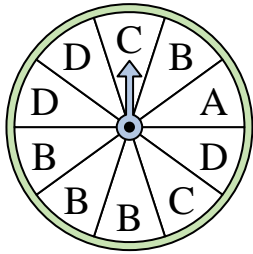
- 2) Su quale numero è meno probabile che si fermerà l'indicatore?



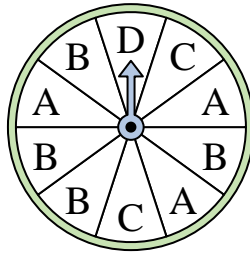
- 3) Su quali due lettere c'è la stessa probabilità che l'indicatore si fermi?



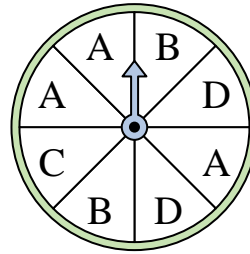
- 4) Su quale lettera è più probabile che si fermerà l'indicatore?




- 5) Su quale lettera è meno probabile che si fermerà l'indicatore?




- 6) Su quali due lettere c'è la stessa probabilità che l'indicatore si fermi?



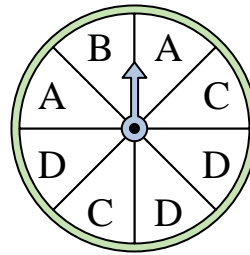
- 7) Su quale numero è meno probabile che si fermerà l'indicatore?



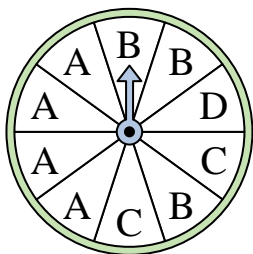
- 8) Su quale numero è meno probabile che si fermerà l'indicatore?



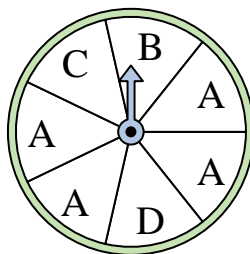
- 9) Su quali due lettere c'è la stessa probabilità che l'indicatore si fermi?



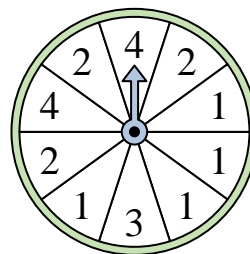
- 10) Su quale lettera è più probabile che si fermerà l'indicatore?



- 11) Su quale lettera è più probabile che si fermerà l'indicatore?



- 12) Su quale numero è più probabile che si fermerà l'indicatore?



Risposte

1. **B**

2. **4**

3. **B & C**

4. **B**

5. **D**

6. **B & D**

7. **1**

8. **1**

9. **A & C**

10. **A**

11. **A**

12. **1**