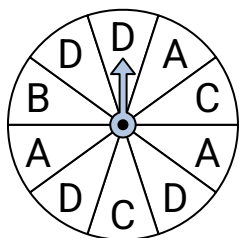
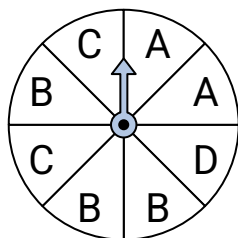


**Risolvi ogni problema.****Risposte**

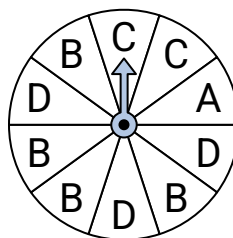
- 1) Su quale lettera è più probabile che si fermi la ruota?



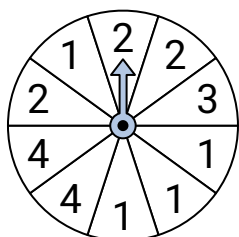
- 2) Quali due lettere hanno la stessa probabilità di uscire?



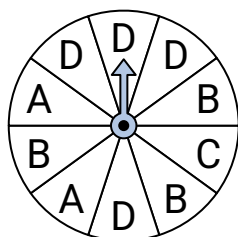
- 3) Su quale lettera è più probabile che si fermi la ruota?



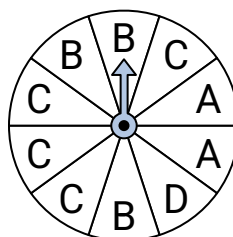
- 4) Su quale numero è più probabile che si fermi la ruota?



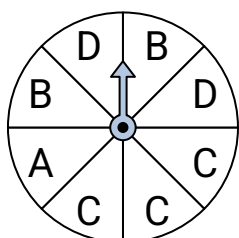
- 5) Su quale lettera è meno probabile che si fermi la ruota?




- 6) Su quale lettera è meno probabile che si fermi la ruota?



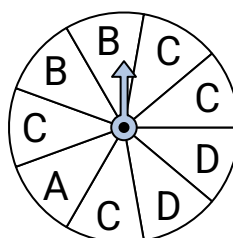
- 7) Quali due lettere hanno la stessa probabilità di uscire?



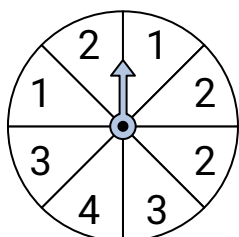
- 8) Su quale numero è meno probabile che si fermi la ruota?



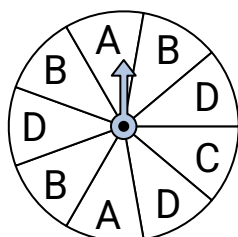
- 9) Su quale lettera è più probabile che si fermi la ruota?



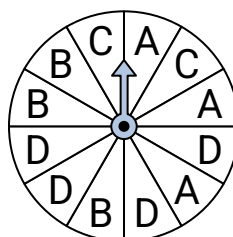
- 10) Su quale numero è più probabile che si fermi la ruota?



- 11) Quali due lettere hanno la stessa probabilità di uscire?



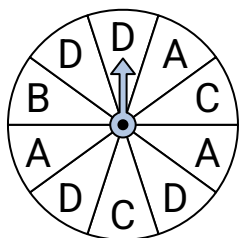
- 12) Su quale lettera è meno probabile che si fermi la ruota?



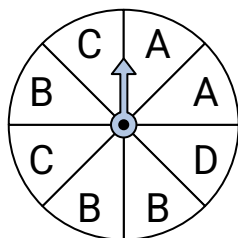
1. \_\_\_\_\_  
2. \_\_\_\_\_  
3. \_\_\_\_\_  
4. \_\_\_\_\_  
5. \_\_\_\_\_  
6. \_\_\_\_\_  
7. \_\_\_\_\_  
8. \_\_\_\_\_  
9. \_\_\_\_\_  
10. \_\_\_\_\_  
11. \_\_\_\_\_  
12. \_\_\_\_\_

**Risolvi ogni problema.**

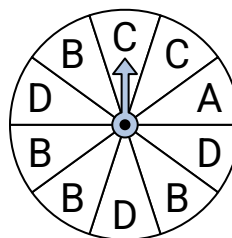
- 1) Su quale lettera è più probabile che si fermi la ruota?



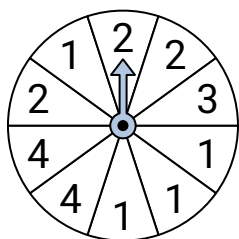
- 2) Quali due lettere hanno la stessa probabilità di uscire?



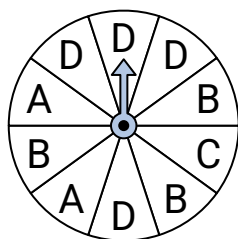
- 3) Su quale lettera è più probabile che si fermi la ruota?



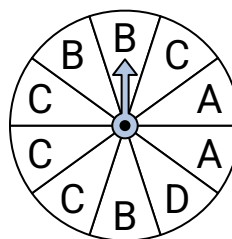
- 4) Su quale numero è più probabile che si fermi la ruota?



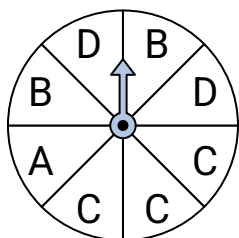
- 5) Su quale lettera è meno probabile che si fermi la ruota?




- 6) Su quale lettera è meno probabile che si fermi la ruota?



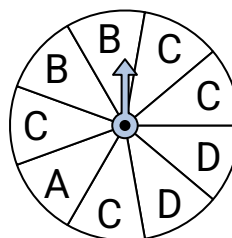
- 7) Quali due lettere hanno la stessa probabilità di uscire?



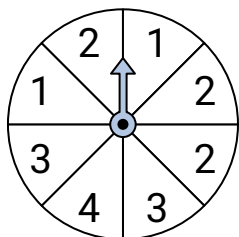
- 8) Su quale numero è meno probabile che si fermi la ruota?



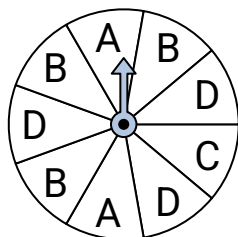
- 9) Su quale lettera è più probabile che si fermi la ruota?



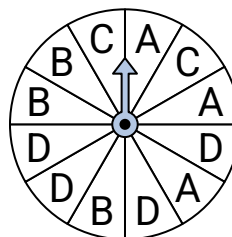
- 10) Su quale numero è più probabile che si fermi la ruota?



- 11) Quali due lettere hanno la stessa probabilità di uscire?



- 12) Su quale lettera è meno probabile che si fermi la ruota?

**Risposte**

1. **D**  
2. **A & C**  
3. **B**  
4. **1**  
5. **C**  
6. **D**  
7. **B & D**  
8. **3**  
9. **C**  
10. **2**  
11. **B & D**  
12. **C**