

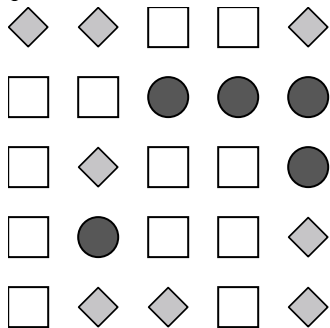
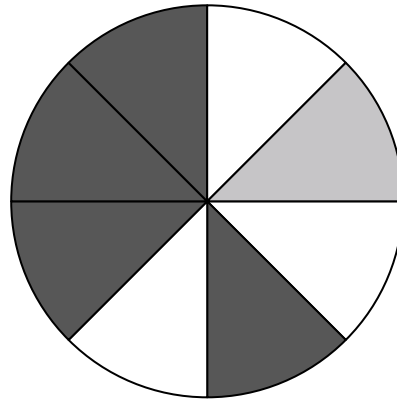


Usa ogni diagramma per risolvere i problemi.



- 1) Se dovessi tirare i dadi una volta, qual è la probabilità che {NON} finisca su un 1?
- 2) Se dovessi tirare i dadi una volta, qual è la probabilità che esca su un numero Pari?
- 3) Se dovessi lanciare i dadi una volta, qual è la probabilità che esca su 4?

- 4) Se fai girare la trottola 1 volta, qual è la probabilità che finisca su un pezzo grigio?
- 5) Se fai girare la trottola 1 volta, qual è la probabilità che finisca su un pezzo bianco?
- 6) Quanti pezzi ci sono in totale nella trottola?
- 7) Se fai girare la trottola 1 volta, qual è la probabilità di atterrare su un pezzo gray o su un pezzo white?
- 8) Se fai girare la trottola 1 volta, qual è la probabilità che finisca su un pezzo nero?



- 9) Quale forma ha una probabilità del 32,00% (8 su 25) di essere selezionata?
- 10) Se dovessi selezionare 1 forma a caso dall'array, qual è la probabilità che sia un circle?
- 11) Quante forme ci sono in totale nell'array?
- 12) Se dovessi selezionare 1 forma a caso dall'array, quale forma avresti la maggiore probabilità di selezionare?

Risposte

1. _____

2. _____

3. _____

4. _____

5. _____

6. _____

7. _____

8. _____

9. _____

10. _____

11. _____

12. _____

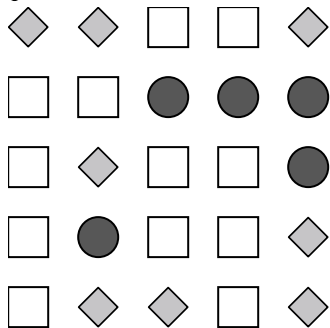
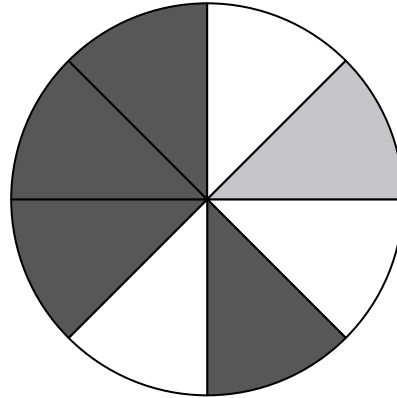


Usa ogni diagramma per risolvere i problemi.



- 1) Se dovessi tirare i dadi una volta, qual è la probabilità che {NON} finisca su un 1?
- 2) Se dovessi tirare i dadi una volta, qual è la probabilità che esca su un numero Pari?
- 3) Se dovessi lanciare i dadi una volta, qual è la probabilità che esca su 4?

- 4) Se fai girare la trottola 1 volta, qual è la probabilità che finisca su un pezzo grigio?
- 5) Se fai girare la trottola 1 volta, qual è la probabilità che finisca su un pezzo bianco?
- 6) Quanti pezzi ci sono in totale nella trottola?
- 7) Se fai girare la trottola 1 volta, qual è la probabilità di atterrare su un pezzo gray o su un pezzo white?
- 8) Se fai girare la trottola 1 volta, qual è la probabilità che finisca su un pezzo nero?



- 9) Quale forma ha una probabilità del 32,00% (8 su 25) di essere selezionata?
- 10) Se dovessi selezionare 1 forma a caso dall'array, qual è la probabilità che sia un circle?
- 11) Quante forme ci sono in totale nell'array?
- 12) Se dovessi selezionare 1 forma a caso dall'array, quale forma avresti la maggiore probabilità di selezionare?

Risposte

1. 5 su 6
2. 3 su 6
3. 1 su 6
4. 1 su 8
5. 3 su 8
6. 8
7. 4 su 8
8. 4 su 8
9. diamond
10. 5 su 25
11. 25
12. circle