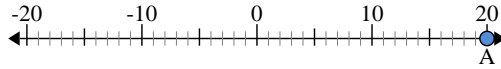




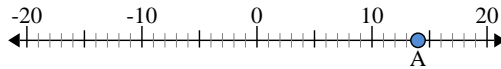
Usa la linea numerata per trovare il valore assoluto.

1) a. Qual è il valore di 'A'?



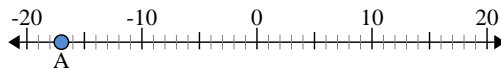
b. Quanto è distante 'A' da 0 (valore assoluto)?

2) a. Qual è il valore di 'A'?



b. Quanto è distante 'A' da 0 (valore assoluto)?

3) a. Qual è il valore di 'A'?



Risposte

1. _____
2. _____
3. _____
4. _____
5. _____
6. _____
7. _____
8. _____
9. _____
10. _____



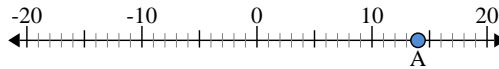
Usa la linea numerata per trovare il valore assoluto.

1) a. Qual è il valore di 'A'?



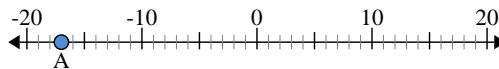
b. Quanto è distante 'A' da 0 (valore assoluto)?

2) a. Qual è il valore di 'A'?



b. Quanto è distante 'A' da 0 (valore assoluto)?

3) a. Qual è il valore di 'A'?



Risposte

1.	<u>20</u>	<u>20</u>
2.	<u>14</u>	<u>14</u>
3.	<u>-17</u>	<u>17</u>
4.	<u>18</u>	<u>18</u>
5.	<u>-16</u>	<u>16</u>
6.	<u>-10</u>	<u>10</u>
7.	<u>-9</u>	<u>9</u>
8.	<u>-12</u>	<u>12</u>
9.	<u>-7</u>	<u>7</u>
10.	<u>13</u>	<u>13</u>