



Determina la quantità di denaro indicata.

Risposte

1)



1. _____

2. _____

3. _____

4. _____

5. _____

2)



3)



4)



5)





Determina la quantità di denaro indicata.



Risposte

1. \$56,93

2. \$63,67

3. \$51,98

4. \$30,53

5. \$70,03



Determina la quantità di denaro indicata.

Risposte

1)



1. _____

2. _____

3. _____

4. _____

5. _____

2)



3)



4)



5)





Determina la quantità di denaro indicata.



Risposte

1. \$47,85

2. \$28,55

3. \$5,59

4. \$64,52

5. \$53,78



Determina la quantità di denaro indicata.

Risposte



1. _____

2. _____

3. _____

4. _____

5. _____





Determina la quantità di denaro indicata.

Risposte



1. \$35,56



2. \$61,80



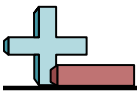
3. \$17,97



4. \$71,35



5. \$75,52



Determina la quantità di denaro indicata.

Risposte



1. _____

2. _____

3. _____

4. _____

5. _____





Determina la quantità di denaro indicata.



Risposte

1. \$47,27

2. \$22,22

3. \$55,00

4. \$73,99

5. \$52,43



Determina la quantità di denaro indicata.

Risposte



1. _____

2. _____

3. _____

4. _____

5. _____





Determina la quantità di denaro indicata.



Risposte

1. \$68,27

2. \$41,34

3. \$30,32

4. \$58,43

5. \$8,62



Determina la quantità di denaro indicata.

Risposte



1. _____

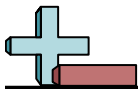
2. _____

3. _____

4. _____

5. _____





Determina la quantità di denaro indicata.

Risposte



1. \$28,26



2. \$63,27



3. \$53,28



4. \$65,32



5. \$25,32



Determina la quantità di denaro indicata.

Risposte



1. _____

2. _____

3. _____

4. _____

5. _____





Determina la quantità di denaro indicata.

Risposte



1. **\$97,62**



2. **\$15,69**



3. **\$83,32**



4. **\$98,13**



5. **\$52,33**



Determina la quantità di denaro indicata.

Risposte



1. _____

2. _____

3. _____

4. _____

5. _____





Determina la quantità di denaro indicata.

Risposte



1. **\$92,02**



2. **\$71,22**



3. **\$63,89**



4. **\$67,29**



5. **\$90,57**



Determina la quantità di denaro indicata.

Risposte



1. _____

2. _____

3. _____

4. _____

5. _____





Determina la quantità di denaro indicata.



Risposte

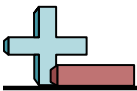
1. \$46,99

2. \$69,85

3. \$60,38

4. \$99,38

5. \$40,12



Determina la quantità di denaro indicata.

Risposte

1)



1. _____

2. _____

3. _____

4. _____

5. _____

2)



3)



4)



5)





Determina la quantità di denaro indicata.



Risposte

1. \$36,22

2. \$66,88

3. \$79,35

4. \$64,81

5. \$68,28