



Indica quale lettera rappresenta la lunghezza/altezza corretta

Risposte

Milímetro (mm)

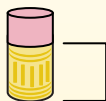
Un milímetro equivale al grosor de una tarjeta de crédito.



Centímetro (cm)

10 mm = 1 cm.

La parte metálica de un lápiz mide aproximadamente 1 cm. Una regla mide unos 30 centímetros.



Metro (m)

100 cm = 1 m

Desde el suelo hasta la perilla de una puerta hay aproximadamente 1 metro.



Kilómetro (km)

1,000 m = 1 km

La mayoría de las carreteras principales tienen al menos un kilómetro de largo.



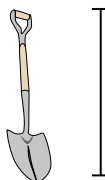
1)



Popcorn

- A. 3 millimeters
- B. 3 Centimetri
- C. 90 Centimetri
- D. 2 kilometers

2)



Pala

- A. 1 Metro
- B. 60 Centimetri
- C. 3 Metri
- D. 30 Centimetri


3)



Insetto

- A. 5 Centimetri
- B. 10 Centimetri
- C. 7 millimeters
- D. 30 Centimetri

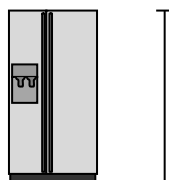
4)



Ruota panoramica

- A. 23 Metri
- B. 30 Centimetri
- C. 5 Metri
- D. 50 kilometers

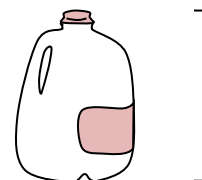
5)



Frigorifero

- A. 180 Centimetri
- B. 4 Metri
- C. 5 kilometers
- D. 30 Centimetri

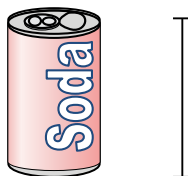
6)



Gallone di latte

- A. 20 Centimetri
- B. 3 Metri
- C. 10 millimeters
- D. 8 Centimetri


7)



Lattina di soda

- A. 1 Metro
- B. 3 Centimetri
- C. 30 Centimetri
- D. 10 Centimetri


8)



Altezza mela

- A. 10 Centimetri
- B. 1 Metro
- C. 60 Centimetri
- D. 3 Centimetri

9)



Montagna

- A. 3 kilometers
- B. 60 Centimetri
- C. 9 Metri
- D. 700 millimeters

1. _____
2. _____
3. _____
4. _____
5. _____
6. _____
7. _____
8. _____
9. _____



Indica quale lettera rappresenta la lunghezza/altezza corretta

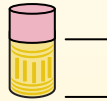
Risposte**Milímetro (mm)**

Un milímetro equivale al grosor de una tarjeta de crédito.

**Centímetro (cm)**

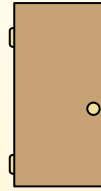
10 mm = 1 cm.

La parte metálica de un lápiz mide aproximadamente 1 cm. Una regla mide unos 30 centímetros.

**Metro (m)**

100 cm = 1 m

Desde el suelo hasta la perilla de una puerta hay aproximadamente 1 metro.


**Kilómetro (km)**

1,000 m = 1 km

La mayoría de las carreteras principales tienen al menos un kilómetro de largo.

1. **B**2. **A**3. **C**4. **A**5. **A**6. **A**7. **D**8. **A**9. **A**

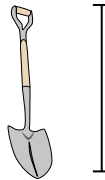
1)



Popcorn

- A. 3 millimeters
- B. 3 Centimetri
- C. 90 Centimetri
- D. 2 kilometers

2)



Pala

- A. 1 Metro
- B. 60 Centimetri
- C. 3 Metri
- D. 30 Centimetri


3)



Insetto

- A. 5 Centimetri
- B. 10 Centimetri
- C. 7 millimeters
- D. 30 Centimetri

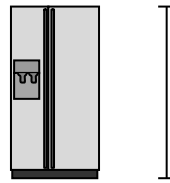
4)



Ruota panoramica

- A. 23 Metri
- B. 30 Centimetri
- C. 5 Metri
- D. 50 kilometers


5)



Frigorifero

- A. 180 Centimetri
- B. 4 Metri
- C. 5 kilometers
- D. 30 Centimetri

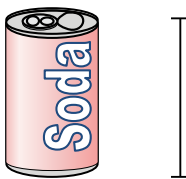
6)



Gallone di latte

- A. 20 Centimetri
- B. 3 Metri
- C. 10 millimeters
- D. 8 Centimetri


7)



Lattina di soda

- A. 1 Metro
- B. 3 Centimetri
- C. 30 Centimetri
- D. 10 Centimetri


8)



Altezza mela

- A. 10 Centimetri
- B. 1 Metro
- C. 60 Centimetri
- D. 3 Centimetri

9)



Montagna

- A. 3 kilometers
- B. 60 Centimetri
- C. 9 Metri
- D. 700 millimeters