




Misura la lunghezza e l'altezza di ogni rettangolo in pollici e in centimetri

Es)




1)



2)



3)



4)



Risposte

Es. 3 1 7,6 2,5

1. _____

2. _____


3. _____

4. _____



Misura la lunghezza e l'altezza di ogni rettangolo in pollici e in centimetri

Es)



1)



2)



3)



4)



Risposte

Es. 3 1 7,6 2,5

1. 5 0 1/2 12,7 1,3

2. 1 1/2 0 1/2 3,8 1,3

3. 0 1/2 1 1,3 2,5

4. 4 1/2 0 1/2 11,4 1,3