




Risolvi ogni problema.

Risposte

1) *Le brocche sottostanti contengono diverse quantità di acqua.*



Se dovessi ridistribuire l'acqua in modo che ogni brocca abbia la stessa quantità, quanto sarebbe in ciascuna?

1. _____

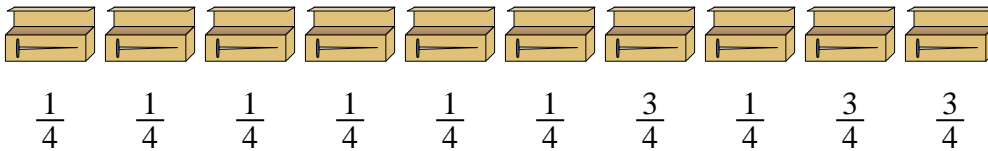
2. _____

3. _____

4. _____


5. _____

2) *Un muratore aveva diverse scatole di chiodi parzialmente piene.*



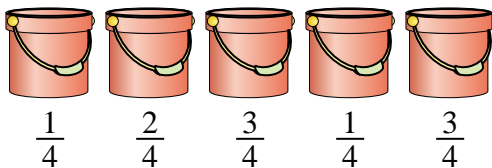
Se riorganizzasse i chiodi in modo che ogni scatola avesse la stessa quantità, quanto sarebbe piena ogni scatola?

3) *A una festa, le tazze sono state riempite con diverse quantità di soda.*



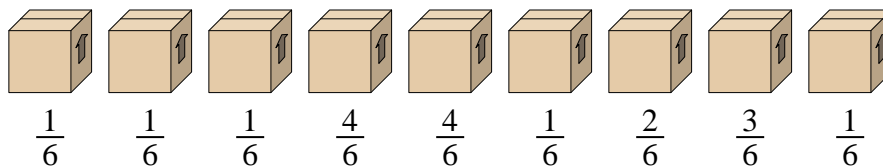
Se la soda fosse stata versata nelle tazze in modo uniforme, quanto sarebbe in ogni tazza?

4) *I secchi sottostanti sono riempiti parzialmente di sabbia.*



Se volessi fare in modo che ogni secchio abbia la stessa quantità, quanto verrebbe riempito ogni secchio?

5) *Guarda il peso delle scatole qui sotto.*




Se dovessi ridistribuire il materiale nelle scatole in modo che ogni scatola abbia lo stesso peso, quanto peserebbe ciascuna?



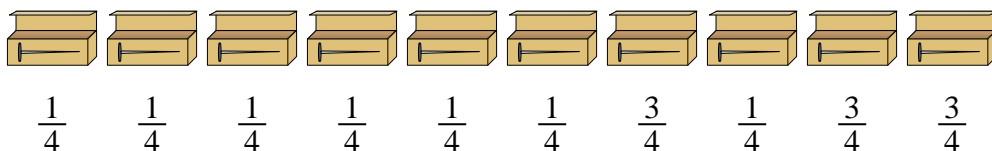
Risolvi ogni problema.

1) Le brocche sottostanti contengono diverse quantità di acqua.




Se dovessi ridistribuire l'acqua in modo che ogni brocca abbia la stessa quantità, quanto sarebbe in ciascuna?

2) Un muratore aveva diverse scatole di chiodi parzialmente piene.



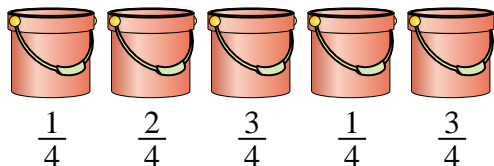
Se riorganizzasse i chiodi in modo che ogni scatola avesse la stessa quantità, quanto sarebbe piena ogni scatola?

3) A una festa, le tazze sono state riempite con diverse quantità di soda.



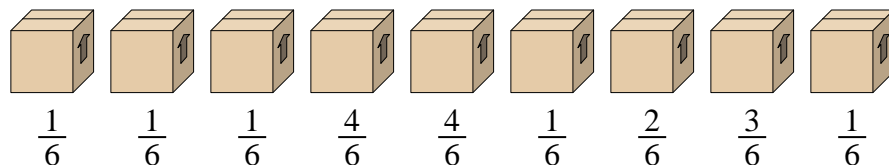
Se la soda fosse stata versata nelle tazze in modo uniforme, quanto sarebbe in ogni tazza?

4) I secchi sottostanti sono riempiti parzialmente di sabbia.



Se volessi fare in modo che ogni secchio abbia la stessa quantità, quanto verrebbe riempito ogni secchio?

5) Guarda il peso delle scatole qui sotto.



Se dovessi ridistribuire il materiale nelle scatole in modo che ogni scatola abbia lo stesso peso, quanto peserebbe ciascuna?

Risposte

1. $\frac{27}{50}$

2. $\frac{16}{40} = \frac{2}{5}$

3. $\frac{17}{48}$

4. $\frac{10}{20} = \frac{1}{2}$

5. $\frac{18}{54} = \frac{1}{3}$