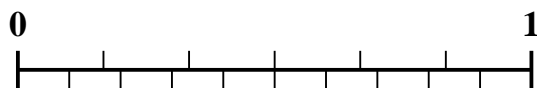


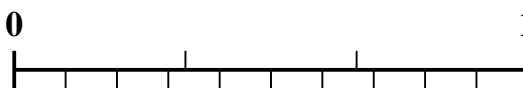


Usa la linea dei numeri per risolvere ogni problema.


1) Quale importo è maggiore, $\frac{2}{6}$ o 0,15?




2) Quale importo è maggiore, $\frac{1}{3}$ o 0,52?



3) Quale importo è maggiore, $\frac{3}{5}$ o 0,48?



4) Quale importo è maggiore, $\frac{2}{3}$ o 0,87?



5) Quale importo è maggiore, $\frac{5}{7}$ o 0,57?



6) Quale importo è maggiore, $\frac{4}{7}$ o 0,75?



7) Quale importo è maggiore, $\frac{3}{9}$ o 0,15?




8) Quale importo è maggiore, $\frac{3}{4}$ o 0,9?



9) Quale importo è maggiore, $\frac{7}{9}$ o 0,89?



10) Quale importo è maggiore, $\frac{3}{10}$ o 0,15?



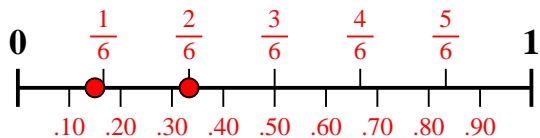
Risposte

1. _____
2. _____
3. _____
4. _____
5. _____
6. _____
7. _____
8. _____
9. _____
10. _____

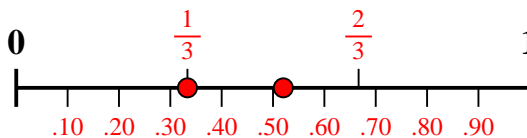


Usa la linea dei numeri per risolvere ogni problema.

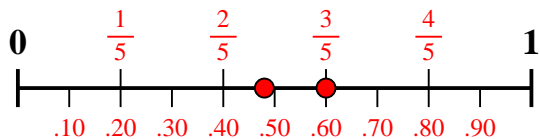
1) Quale importo è maggiore, $\frac{2}{6}$ o 0,15?



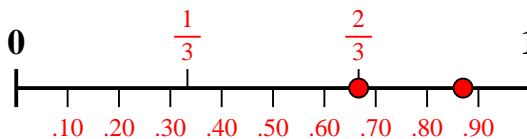
2) Quale importo è maggiore, $\frac{1}{3}$ o 0,52?



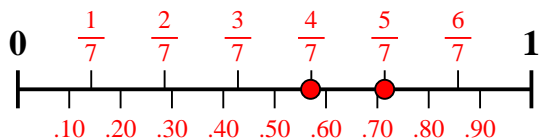
3) Quale importo è maggiore, $\frac{3}{5}$ o 0,48?



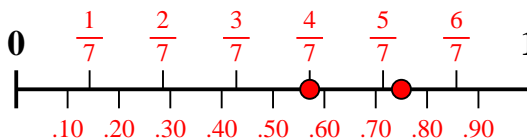
4) Quale importo è maggiore, $\frac{2}{3}$ o 0,87?



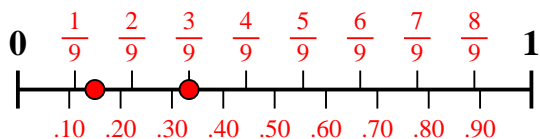
5) Quale importo è maggiore, $\frac{5}{7}$ o 0,57?



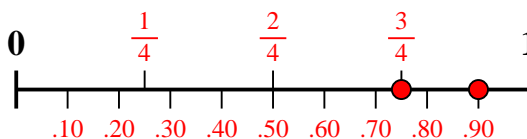
6) Quale importo è maggiore, $\frac{4}{7}$ o 0,75?



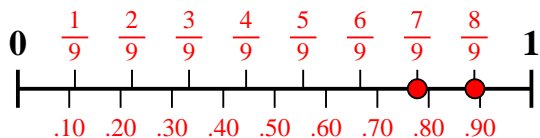
7) Quale importo è maggiore, $\frac{3}{9}$ o 0,15?



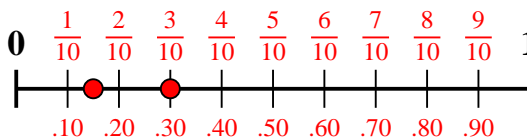
8) Quale importo è maggiore, $\frac{3}{4}$ o 0,9?



9) Quale importo è maggiore, $\frac{7}{9}$ o 0,89?



10) Quale importo è maggiore, $\frac{3}{10}$ o 0,15?



Risposte

1. $\frac{2}{6}$

2. **0,52**

3. $\frac{3}{5}$

4. **0,87**

5. $\frac{5}{7}$

6. **0,75**

7. $\frac{3}{9}$

8. **0,9**

9. **0,89**

10. $\frac{3}{10}$