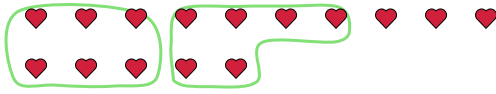


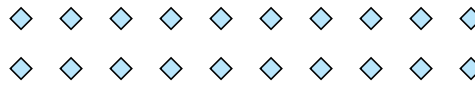


Segui l'esempio per rispondere alle domande.

Es) Ci sono 15 figure qui sotto. Quanti gruppi di 6 puoi creare con esse? Quanti ne restano fuori?



1) Ci sono 20 figure qui sotto. Quanti gruppi di 8 puoi creare con esse? Quanti ne restano fuori?



Risposte

Es.	<u> 2 </u>	<u> 3 </u>
1.	_____	_____
2.	_____	_____
3.	_____	_____
4.	_____	_____
5.	_____	_____
6.	_____	_____
7.	_____	_____
8.	_____	_____
9.	_____	_____

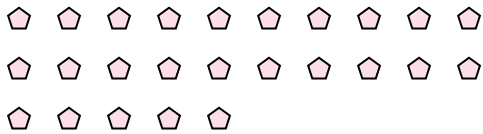
2) Ci sono 10 figure qui sotto. Quanti gruppi di 6 puoi creare con esse? Quanti ne restano fuori?



3) Ci sono 13 figure qui sotto. Quanti gruppi di 5 puoi creare con esse? Quanti ne restano fuori?



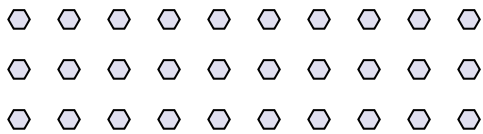
4) Ci sono 25 figure qui sotto. Quanti gruppi di 5 puoi creare con esse? Quanti ne restano fuori?



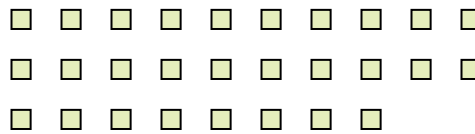
5) Ci sono 13 figure qui sotto. Quanti gruppi di 3 puoi creare con esse? Quanti ne restano fuori?




6) Ci sono 30 figure qui sotto. Quanti gruppi di 4 puoi creare con esse? Quanti ne restano fuori?



7) Ci sono 28 figure qui sotto. Quanti gruppi di 2 puoi creare con esse? Quanti ne restano fuori?



8) Ci sono 26 figure qui sotto. Quanti gruppi di 6 puoi creare con esse? Quanti ne restano fuori?



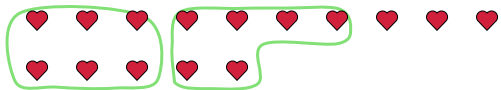
9) Ci sono 20 figure qui sotto. Quanti gruppi di 7 puoi creare con esse? Quanti ne restano fuori?



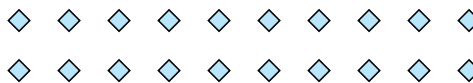


Segui l'esempio per rispondere alle domande.

Es) Ci sono 15 figure qui sotto. Quanti gruppi di 6 puoi creare con esse? Quanti ne restano fuori?



1) Ci sono 20 figure qui sotto. Quanti gruppi di 8 puoi creare con esse? Quanti ne restano fuori?



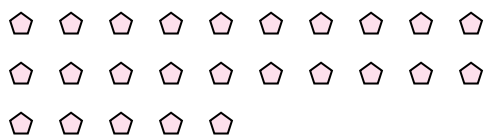
2) Ci sono 10 figure qui sotto. Quanti gruppi di 6 puoi creare con esse? Quanti ne restano fuori?



3) Ci sono 13 figure qui sotto. Quanti gruppi di 5 puoi creare con esse? Quanti ne restano fuori?



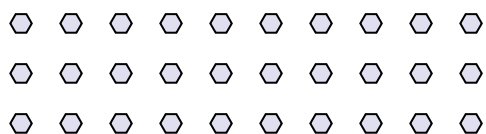
4) Ci sono 25 figure qui sotto. Quanti gruppi di 5 puoi creare con esse? Quanti ne restano fuori?



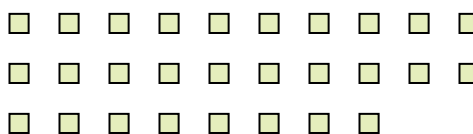
5) Ci sono 13 figure qui sotto. Quanti gruppi di 3 puoi creare con esse? Quanti ne restano fuori?




6) Ci sono 30 figure qui sotto. Quanti gruppi di 4 puoi creare con esse? Quanti ne restano fuori?



7) Ci sono 28 figure qui sotto. Quanti gruppi di 2 puoi creare con esse? Quanti ne restano fuori?



8) Ci sono 26 figure qui sotto. Quanti gruppi di 6 puoi creare con esse? Quanti ne restano fuori?



9) Ci sono 20 figure qui sotto. Quanti gruppi di 7 puoi creare con esse? Quanti ne restano fuori?



Risposte

Es.	<u>2</u>	<u>3</u>
1.	<u>2</u>	<u>4</u>
2.	<u>1</u>	<u>4</u>
3.	<u>2</u>	<u>3</u>
4.	<u>5</u>	<u>0</u>
5.	<u>4</u>	<u>1</u>
6.	<u>7</u>	<u>2</u>
7.	<u>14</u>	<u>0</u>
8.	<u>4</u>	<u>2</u>
9.	<u>2</u>	<u>6</u>