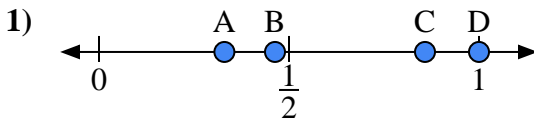
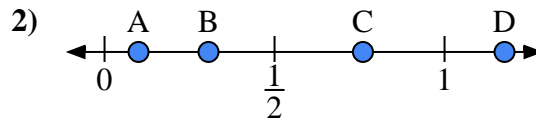




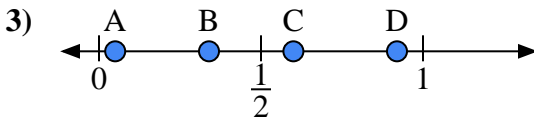
Usa la linea numerata per rispondere alle domande.

Risposte

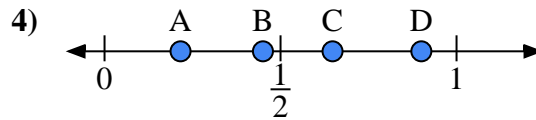
- a) Quale lettera rappresenta correttamente la posizione di 1,0?
- b) Quale lettera rappresenta correttamente la posizione di 0,33?



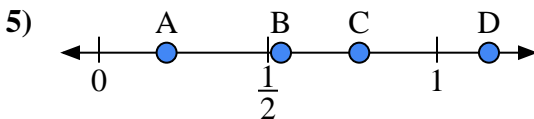
- a) Quale lettera rappresenta correttamente la posizione di 0,10?
- b) Quale lettera rappresenta correttamente la posizione di 0,76?



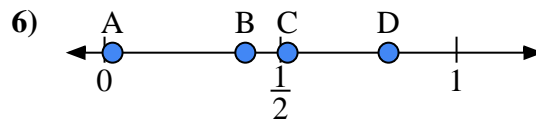
- a) Quale lettera rappresenta correttamente la posizione di 0,60?
- b) Quale lettera rappresenta correttamente la posizione di 0,05?



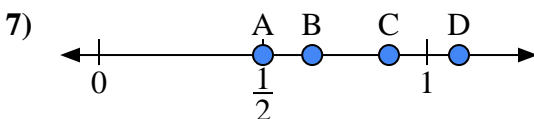
- a) Quale lettera rappresenta correttamente la posizione di 0,90?
- b) Quale lettera rappresenta correttamente la posizione di 0,45?



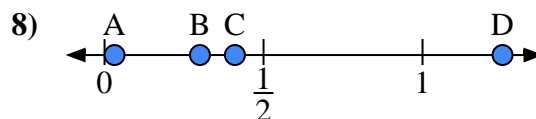
- a) Quale lettera rappresenta correttamente la posizione di 0,2?
- b) Quale lettera rappresenta correttamente la posizione di 0,77?



- a) Quale lettera rappresenta correttamente la posizione di 0,40?
- b) Quale lettera rappresenta correttamente la posizione di 0,52?



- a) Quale lettera rappresenta correttamente la posizione di 0,5?
- b) Quale lettera rappresenta correttamente la posizione di 0,65?

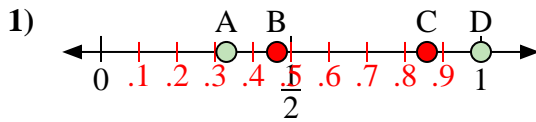


- a) Quale lettera rappresenta correttamente la posizione di 0,30?
- b) Quale lettera rappresenta correttamente la posizione di 0,41?

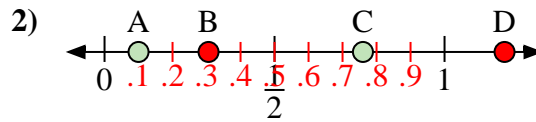
1. _____
2. _____
3. _____
4. _____
5. _____
6. _____
7. _____
8. _____



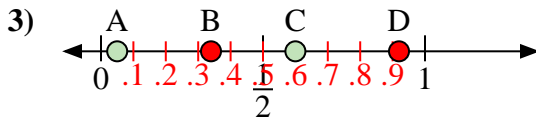
Usa la linea numerata per rispondere alle domande.



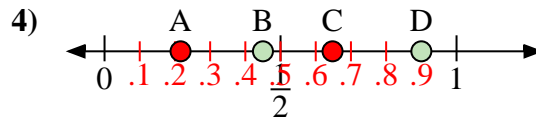
- a) Quale lettera rappresenta correttamente la posizione di 1,0?
 b) Quale lettera rappresenta correttamente la posizione di 0,33?



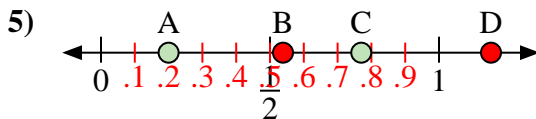
- a) Quale lettera rappresenta correttamente la posizione di 0,10?
 b) Quale lettera rappresenta correttamente la posizione di 0,76?



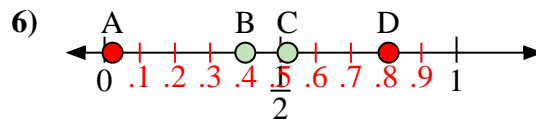
- a) Quale lettera rappresenta correttamente la posizione di 0,60?
 b) Quale lettera rappresenta correttamente la posizione di 0,05?



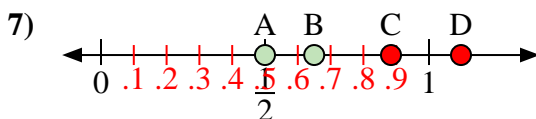
- a) Quale lettera rappresenta correttamente la posizione di 0,90?
 b) Quale lettera rappresenta correttamente la posizione di 0,45?



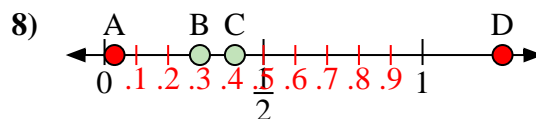
- a) Quale lettera rappresenta correttamente la posizione di 0,2?
 b) Quale lettera rappresenta correttamente la posizione di 0,77?



- a) Quale lettera rappresenta correttamente la posizione di 0,40?
 b) Quale lettera rappresenta correttamente la posizione di 0,52?



- a) Quale lettera rappresenta correttamente la posizione di 0,5?
 b) Quale lettera rappresenta correttamente la posizione di 0,65?



- a) Quale lettera rappresenta correttamente la posizione di 0,30?
 b) Quale lettera rappresenta correttamente la posizione di 0,41?

Risposte1. D A2. A C3. C A4. D B5. A C6. B C7. A B8. B C