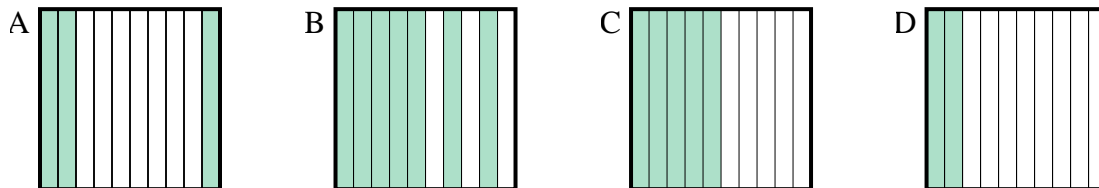




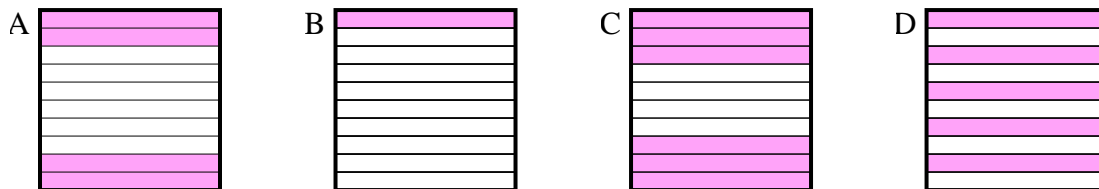
Determina quale lettera risponde correttamente alla domanda.

Risposte

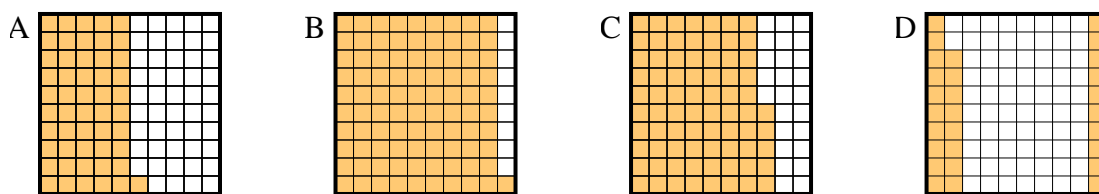
1) Quale griglia 10×1 è colorata in modo da rappresentare un numero decimale, che sommato a 0,5 fa 1,00?



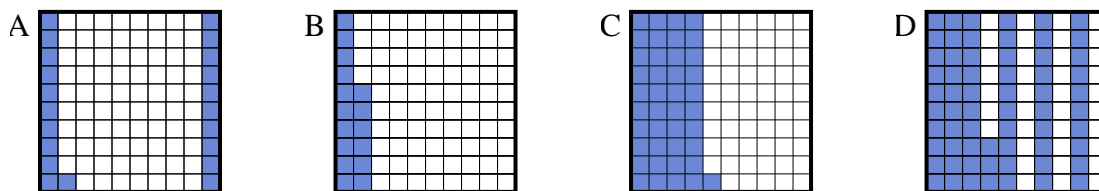
2) Quale griglia 10×1 è colorata in modo da rappresentare un numero decimale, che sommato a 0,6 fa 1,00?



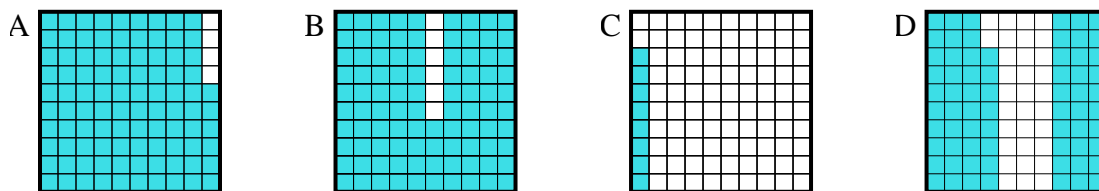
3) Quale griglia 10×10 è colorata in modo da rappresentare un numero decimale, che sommato a 0,72 fa 1,00?



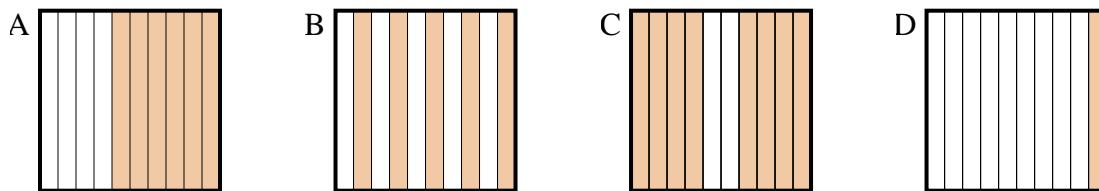
4) Quale griglia 10×10 è colorata in modo da rappresentare un numero decimale, che sommato a 0,59 fa 1,00?



5) Quale griglia 10×10 è colorata in modo da rappresentare un numero decimale, che sommato a 0,32 fa 1,00?



6) Quale griglia 10×1 è colorata in modo da rappresentare un numero decimale, che sommato a 0,4 fa 1,00?



1. _____

2. _____

3. _____

4. _____

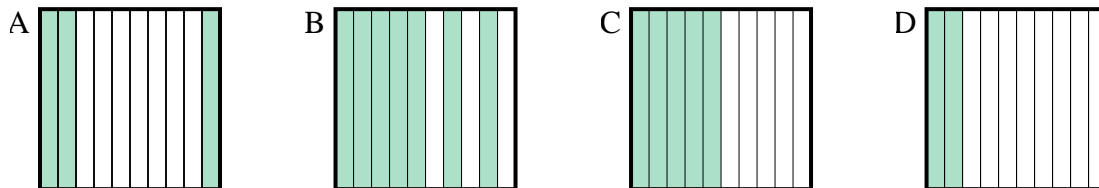
5. _____

6. _____

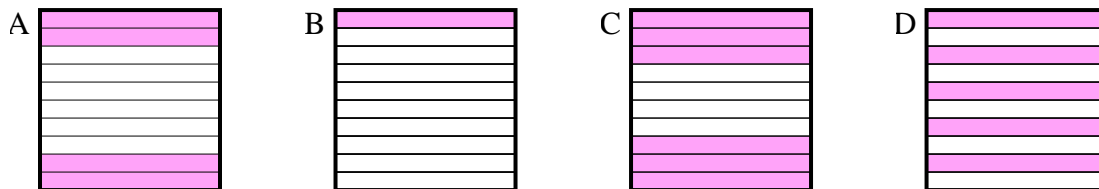


Determina quale lettera risponde correttamente alla domanda.

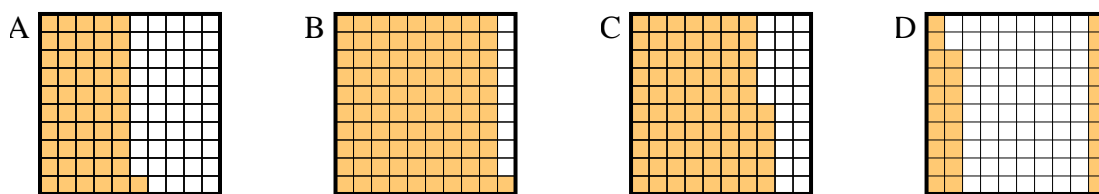
1) Quale griglia 10×1 è colorata in modo da rappresentare un numero decimale, che sommato a 0,5 fa 1,00?



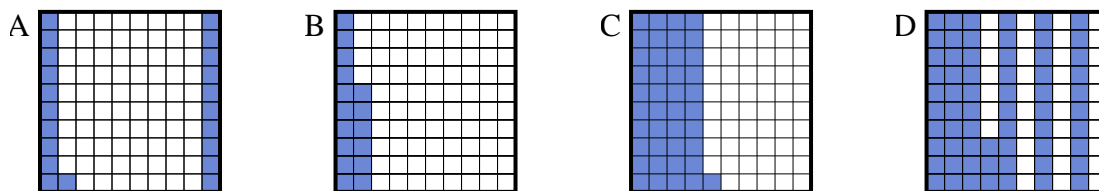
2) Quale griglia 10×1 è colorata in modo da rappresentare un numero decimale, che sommato a 0,6 fa 1,00?



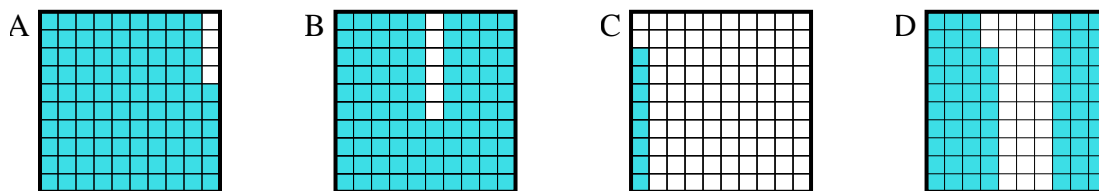
3) Quale griglia 10×10 è colorata in modo da rappresentare un numero decimale, che sommato a 0,72 fa 1,00?



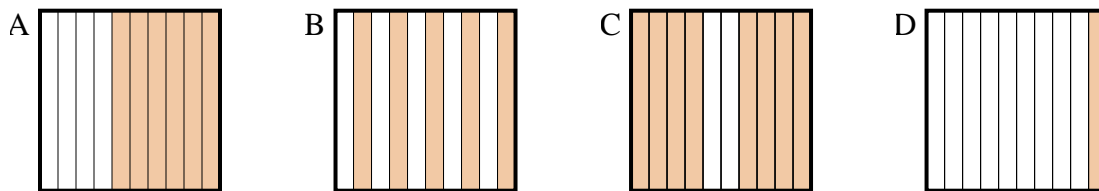
4) Quale griglia 10×10 è colorata in modo da rappresentare un numero decimale, che sommato a 0,59 fa 1,00?



5) Quale griglia 10×10 è colorata in modo da rappresentare un numero decimale, che sommato a 0,32 fa 1,00?



6) Quale griglia 10×1 è colorata in modo da rappresentare un numero decimale, che sommato a 0,4 fa 1,00?



Risposte

- 1. **C**
- 2. **A**
- 3. **D**
- 4. **C**
- 5. **D**
- 6. **A**