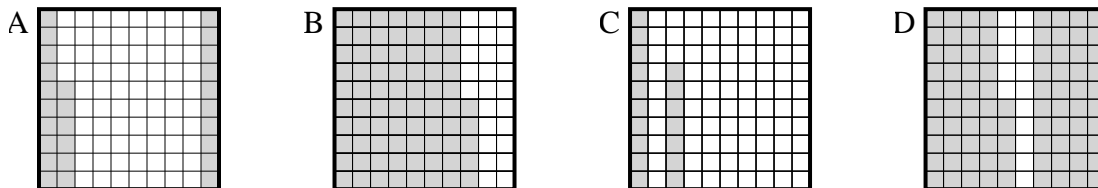




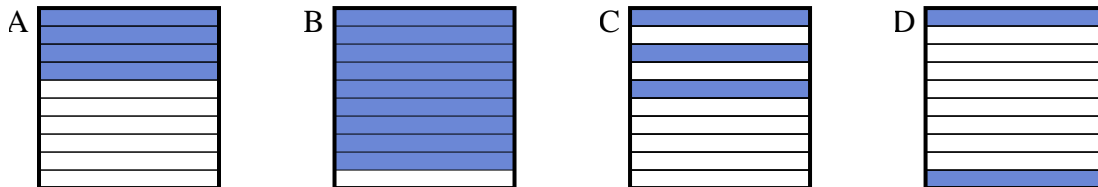
Determina quale lettera risponde correttamente alla domanda.

Risposte

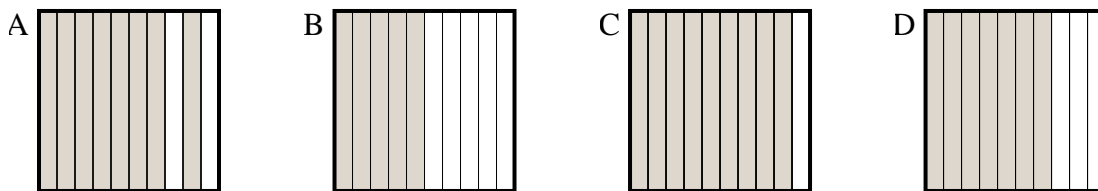
1) Quale griglia 10×10 è colorata in modo da rappresentare un numero decimale, che sommato a $0,74$ fa $1,00$?



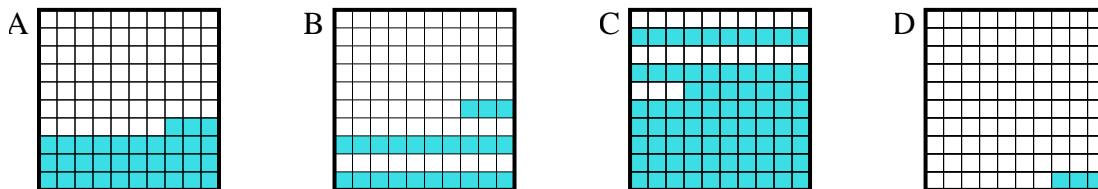
2) Quale griglia 10×1 è colorata in modo da rappresentare un numero decimale, che sommato a $0,1$ fa $1,00$?



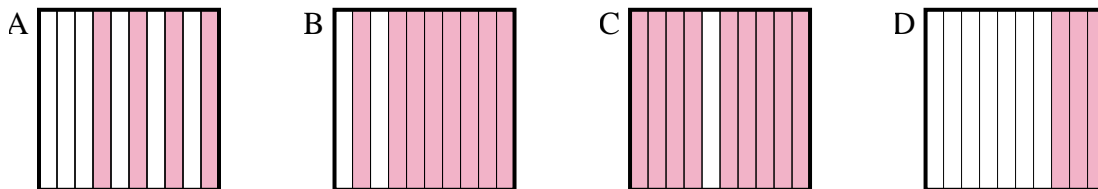
3) Quale griglia 10×1 è colorata in modo da rappresentare un numero decimale, che sommato a $0,5$ fa $1,00$?



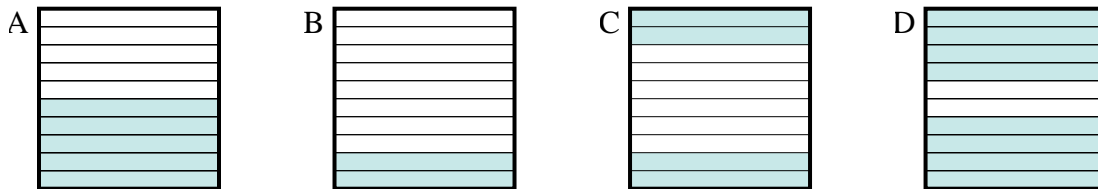
4) Quale griglia 10×10 è colorata in modo da rappresentare un numero decimale, che sommato a $0,77$ fa $1,00$?



5) Quale griglia 10×1 è colorata in modo da rappresentare un numero decimale, che sommato a $0,7$ fa $1,00$?



6) Quale griglia 10×1 è colorata in modo da rappresentare un numero decimale, che sommato a $0,6$ fa $1,00$?



1. _____

2. _____

3. _____

4. _____

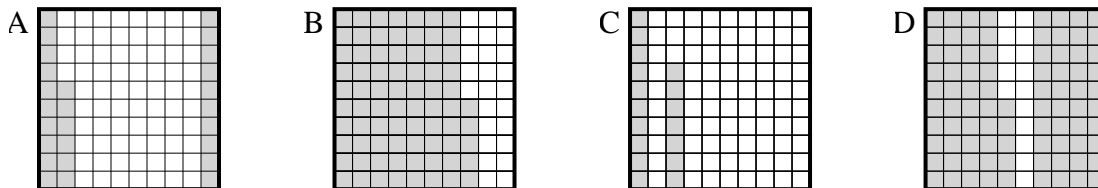
5. _____

6. _____

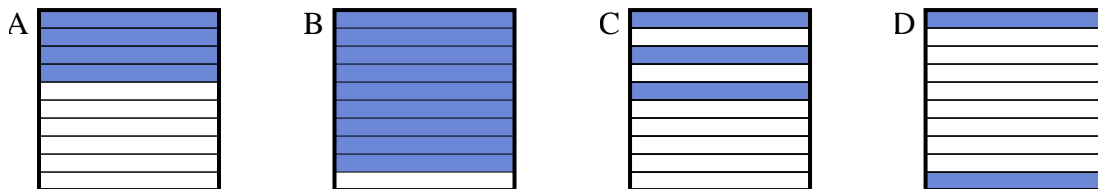


Determina quale lettera risponde correttamente alla domanda.

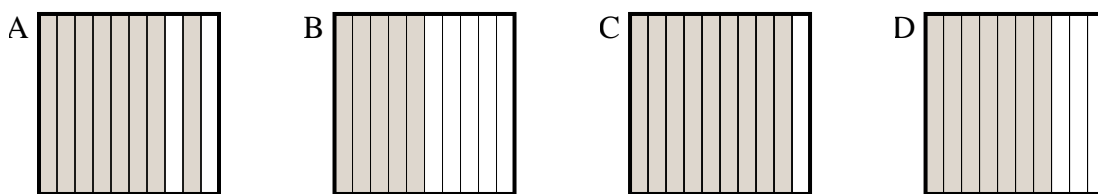
1) Quale griglia 10×10 è colorata in modo da rappresentare un numero decimale, che sommato a $0,74$ fa $1,00$?



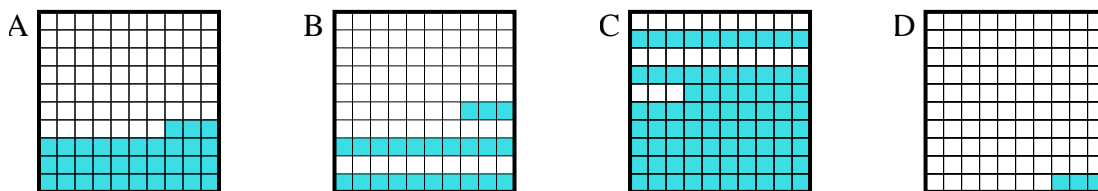
2) Quale griglia 10×1 è colorata in modo da rappresentare un numero decimale, che sommato a $0,1$ fa $1,00$?



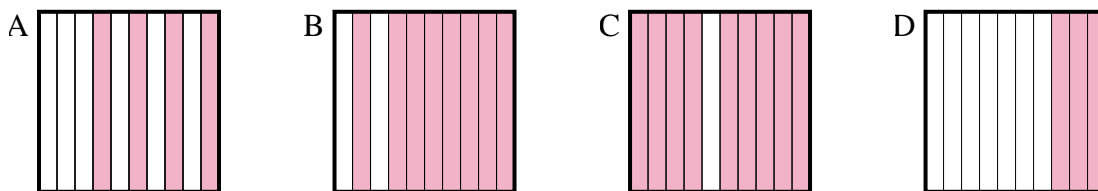
3) Quale griglia 10×1 è colorata in modo da rappresentare un numero decimale, che sommato a $0,5$ fa $1,00$?



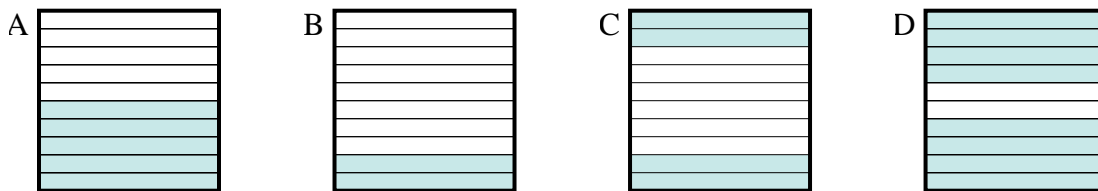
4) Quale griglia 10×10 è colorata in modo da rappresentare un numero decimale, che sommato a $0,77$ fa $1,00$?



5) Quale griglia 10×1 è colorata in modo da rappresentare un numero decimale, che sommato a $0,7$ fa $1,00$?



6) Quale griglia 10×1 è colorata in modo da rappresentare un numero decimale, che sommato a $0,6$ fa $1,00$?



Risposte

1. **A**

2. **B**

3. **B**

4. **B**

5. **D**

6. **C**