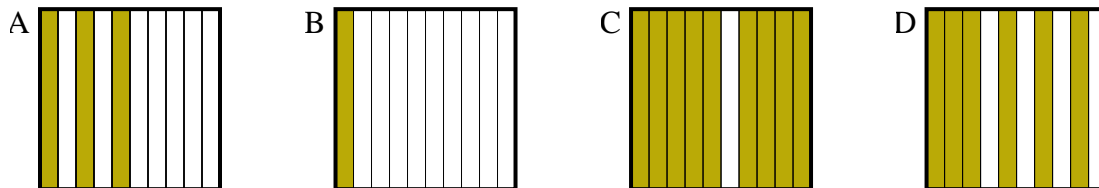




Determina quale lettera risponde correttamente alla domanda.

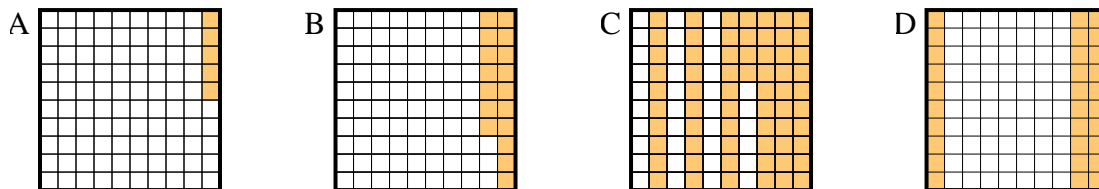
Risposte

1) Quale griglia 10×1 è colorata in modo da rappresentare un numero decimale, che sommato a 0,9 fa 1,00?



1. _____

2) Quale griglia 10×10 è colorata in modo da rappresentare un numero decimale, che sommato a 0,7 fa 1,00?

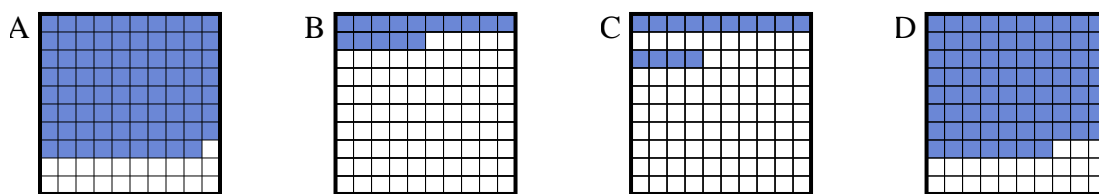


2. _____

3. _____

4. _____

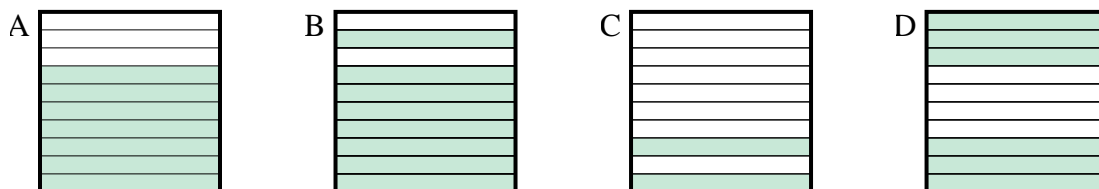
3) Quale griglia 10×10 è colorata in modo da rappresentare un numero decimale, che sommato a 0,21 fa 1,00?



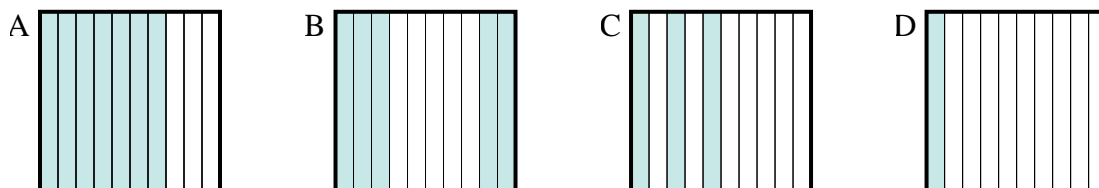
5. _____

6. _____

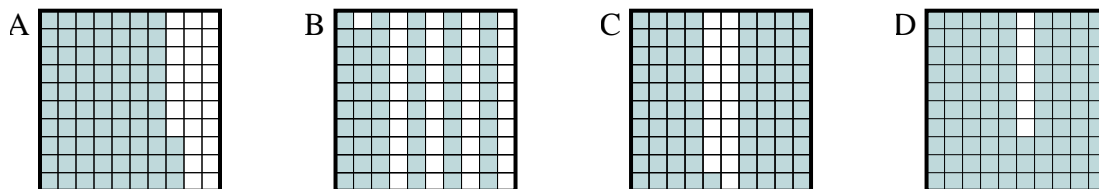
4) Quale griglia 10×1 è colorata in modo da rappresentare un numero decimale, che sommato a 0,3 fa 1,00?



5) Quale griglia 10×1 è colorata in modo da rappresentare un numero decimale, che sommato a 0,5 fa 1,00?



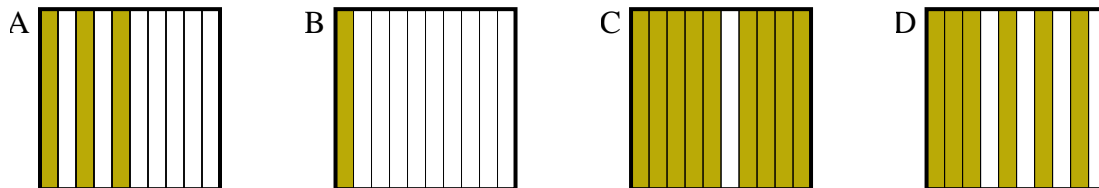
6) Quale griglia 10×10 è colorata in modo da rappresentare un numero decimale, che sommato a 0,07 fa 1,00?



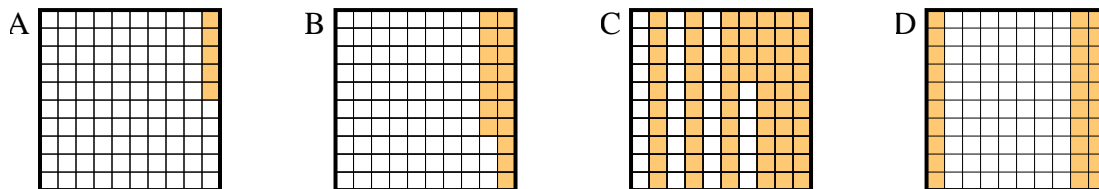


Determina quale lettera risponde correttamente alla domanda.

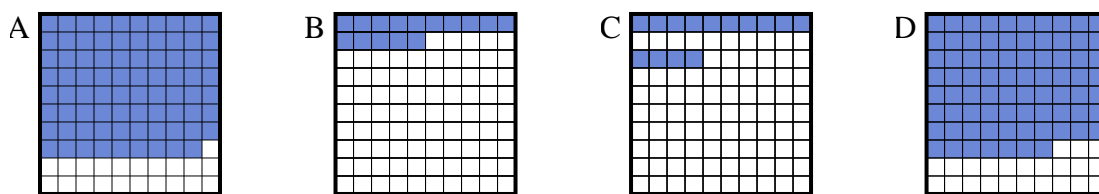
1) Quale griglia 10×1 è colorata in modo da rappresentare un numero decimale, che sommato a 0,9 fa 1,00?



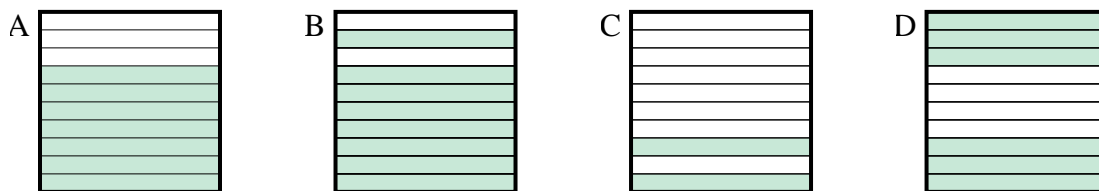
2) Quale griglia 10×10 è colorata in modo da rappresentare un numero decimale, che sommato a 0,7 fa 1,00?



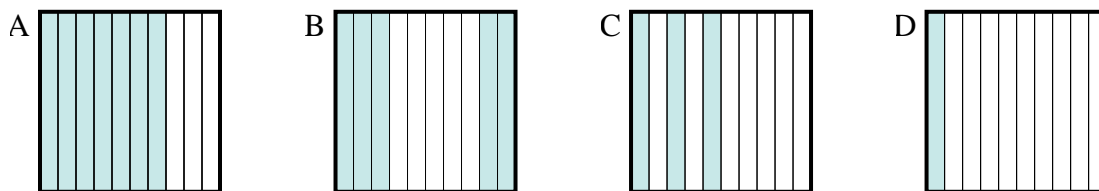
3) Quale griglia 10×10 è colorata in modo da rappresentare un numero decimale, che sommato a 0,21 fa 1,00?



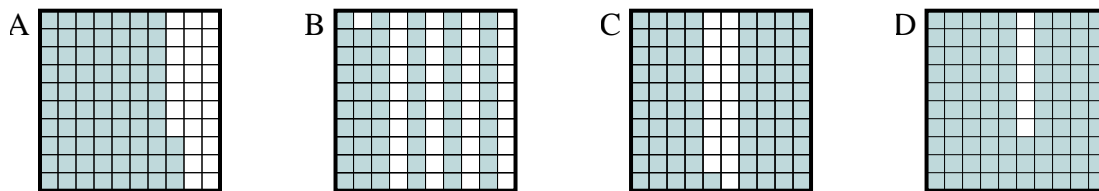
4) Quale griglia 10×1 è colorata in modo da rappresentare un numero decimale, che sommato a 0,3 fa 1,00?



5) Quale griglia 10×1 è colorata in modo da rappresentare un numero decimale, che sommato a 0,5 fa 1,00?



6) Quale griglia 10×10 è colorata in modo da rappresentare un numero decimale, che sommato a 0,07 fa 1,00?



Risposte

1. **B**

2. **D**

3. **A**

4. **A**

5. **B**

6. **D**