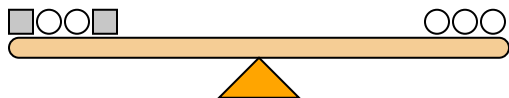




Le scale sottostanti sono bilanciate. Usa la bilancia per rispondere a ogni domanda.

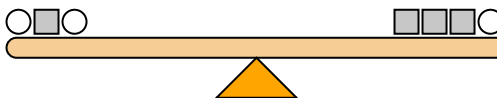
Risposte

1)



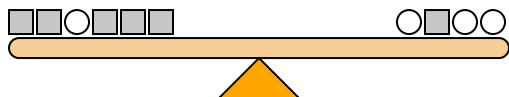
Se aggiungessi 10 quadrati sul lato sinistro, quanti cerchi dovresti aggiungere al lato destro per mantenerlo bilanciato?

2)



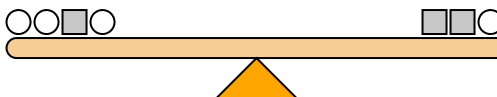
Se aggiungessi 4 quadrati sul lato destro, quanti cerchi dovresti aggiungere al lato sinistro per mantenerlo bilanciato?

3)



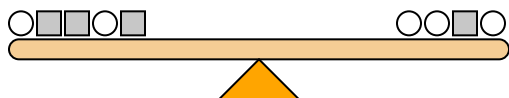
Se aggiungessi 5 cerchi sul lato sinistro, quanti quadrati dovresti aggiungere al lato destro per mantenerlo bilanciato?

4)



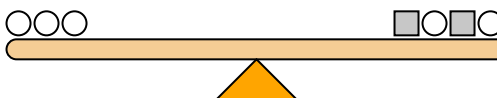
Se aggiungessi 4 quadrati sul lato destro, quanti cerchi dovresti aggiungere al lato sinistro per mantenerlo bilanciato?

5)



Se aggiungessi 6 quadrati sul lato destro, quanti cerchi dovresti aggiungere al lato sinistro per mantenerlo bilanciato?

6)



Se aggiungessi 6 quadrati sul lato destro, quanti cerchi dovresti aggiungere al lato sinistro per mantenerlo bilanciato?

7)



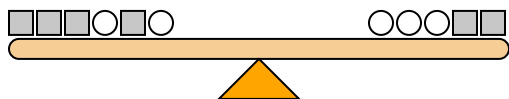
Se aggiungessi 2 cerchi sul lato sinistro, quanti quadrati dovresti aggiungere al lato destro per mantenerlo bilanciato?

8)



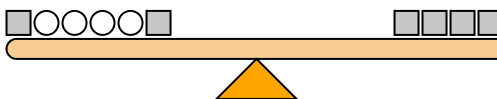
Se aggiungessi 4 quadrati sul lato sinistro, quanti cerchi dovresti aggiungere al lato destro per mantenerlo bilanciato?

9)



Se aggiungessi 5 cerchi sul lato sinistro, quanti quadrati dovresti aggiungere al lato destro per mantenerlo bilanciato?

10)

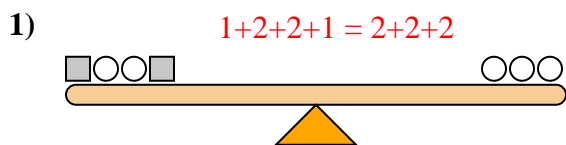


Se aggiungessi 4 cerchi sul lato sinistro, quanti quadrati dovresti aggiungere al lato destro per mantenerlo bilanciato?

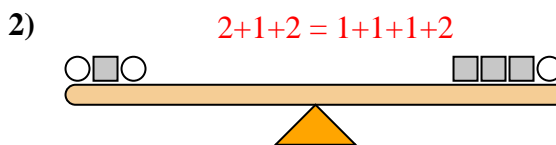
1. _____
2. _____
3. _____
4. _____
5. _____
6. _____
7. _____
8. _____
9. _____
10. _____



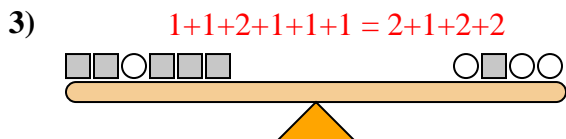
Le scale sottostanti sono bilanciate. Usa la bilancia per rispondere a ogni domanda.



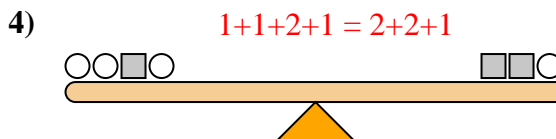
Se aggiungessi 10 quadrati sul lato sinistro, quanti cerchi dovresti aggiungere al lato destro per mantenerlo bilanciato?



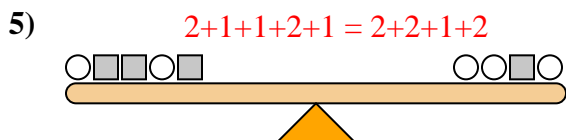
Se aggiungessi 4 quadrati sul lato destro, quanti cerchi dovresti aggiungere al lato sinistro per mantenerlo bilanciato?



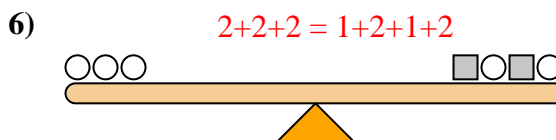
Se aggiungessi 5 cerchi sul lato sinistro, quanti quadrati dovresti aggiungere al lato destro per mantenerlo bilanciato?



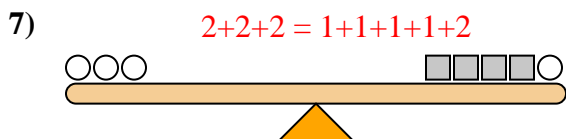
Se aggiungessi 4 quadrati sul lato destro, quanti cerchi dovresti aggiungere al lato sinistro per mantenerlo bilanciato?



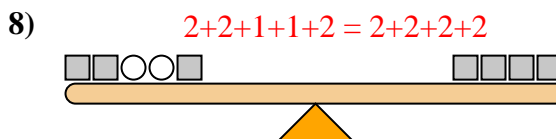
Se aggiungessi 6 quadrati sul lato destro, quanti cerchi dovresti aggiungere al lato sinistro per mantenerlo bilanciato?



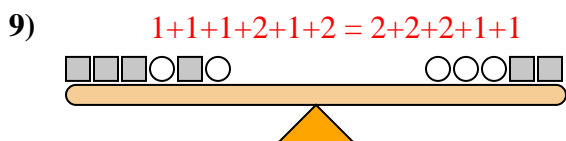
Se aggiungessi 6 quadrati sul lato destro, quanti cerchi dovresti aggiungere al lato sinistro per mantenerlo bilanciato?



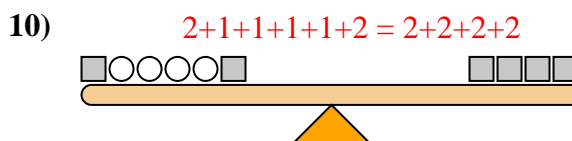
Se aggiungessi 2 cerchi sul lato sinistro, quanti quadrati dovresti aggiungere al lato destro per mantenerlo bilanciato?



Se aggiungessi 4 quadrati sul lato sinistro, quanti cerchi dovresti aggiungere al lato destro per mantenerlo bilanciato?



Se aggiungessi 5 cerchi sul lato sinistro, quanti quadrati dovresti aggiungere al lato destro per mantenerlo bilanciato?



Se aggiungessi 4 cerchi sul lato sinistro, quanti quadrati dovresti aggiungere al lato destro per mantenerlo bilanciato?

Risposte

1. 5
2. 2
3. 10
4. 8
5. 3
6. 3
7. 4
8. 8
9. 10
10. 2