

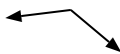


Determina se ogni angolo mostrato è 'minore', 'maggiore' o 'uguale' a 90°.

Es)



1)



2)



Es. **uguale**

3)



4)



5)



6)



7)



8)



9)



10)



11)



12)



13)



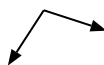
14)



15)



16)



17)



18)



19)



20)



Risposte

- Es. uguale
- 1. _____
- 2. _____
- 3. _____
- 4. _____
- 5. _____
- 6. _____
- 7. _____
- 8. _____
- 9. _____
- 10. _____
- 11. _____
- 12. _____
- 13. _____
- 14. _____
- 15. _____
- 16. _____
- 17. _____
- 18. _____
- 19. _____
- 20. _____

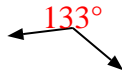


Determina se ogni angolo mostrato è 'minore', 'maggiore' o 'uguale' a 90° .

Es)



1)



2)



Es.

uguale

3)



4)



5)



1.

maggiore

2.

uguale

6)



7)



8)



3.

minore

4.

uguale

5.

minore

6.

minore

7.

maggiore

9)



10)



11)



8.

minore

9.

minore

10.

minore

12)



13)



14)



11.

uguale

12.

maggiore

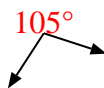
13.

uguale

15)



16)



17)



14.

maggiore

15.

uguale

16.

maggiore

18)



19)



20)



17.

uguale

18.

minore

19.

uguale

20.

minore