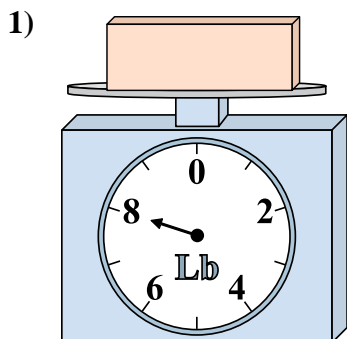


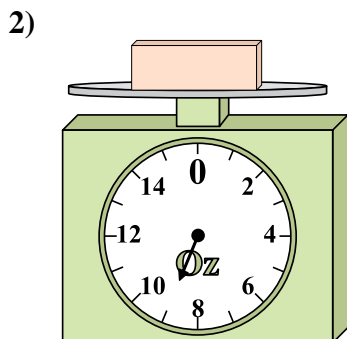


Usa le bilance qui rappresentate per rispondere alle domande.

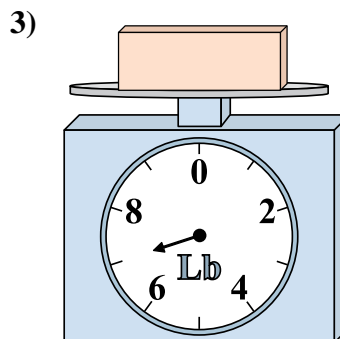
Risposte



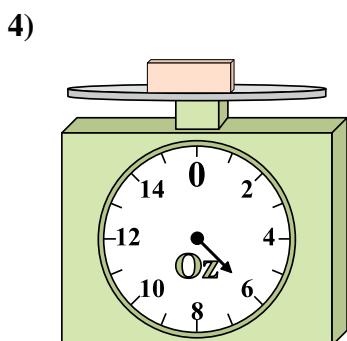
Se il blocco mostrato fosse più leggero di 6 libbre, quanto peserebbe?



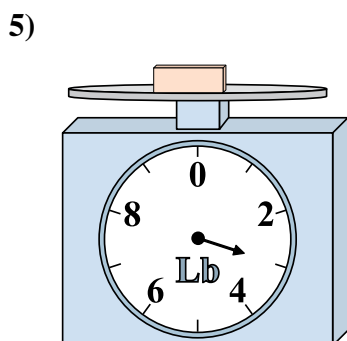
Se il blocco mostrato fosse più leggero di 8 once, quanto peserebbe?



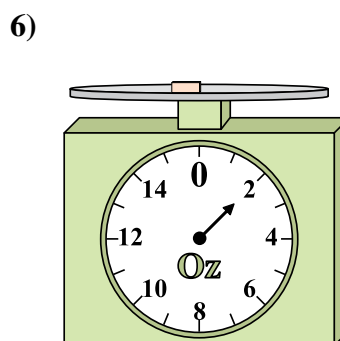
Se hai 2 blocchi che hanno lo stesso peso, quanto peseranno in totale in libbre?



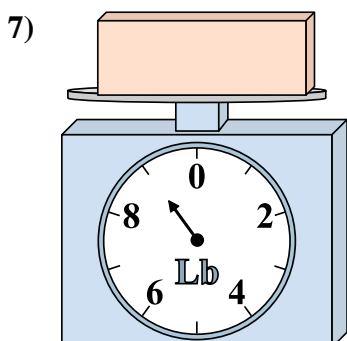
Se il blocco mostrato fosse più pesante di 2 once, quanto peserebbe?



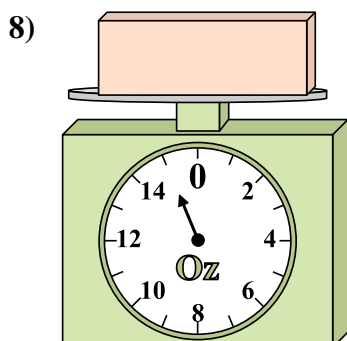
Se hai 8 blocchi che hanno lo stesso peso, quanto peseranno in totale in libbre?



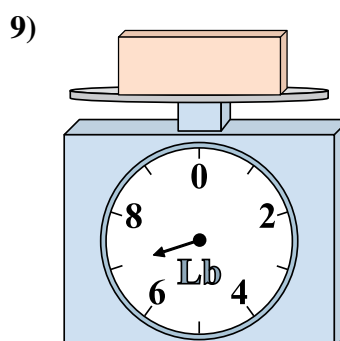
Se il blocco mostrato fosse più pesante di 2 once, quanto peserebbe?



Qual è il peso (in libbre) del blocco?



Qual è il peso (in once) del blocco?

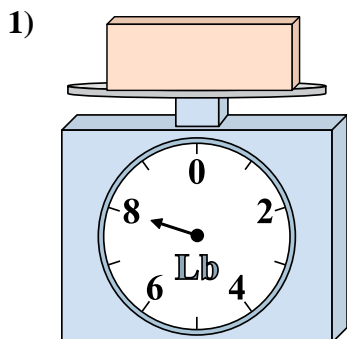


Se il blocco mostrato fosse più leggero di 3 libbre, quanto peserebbe?

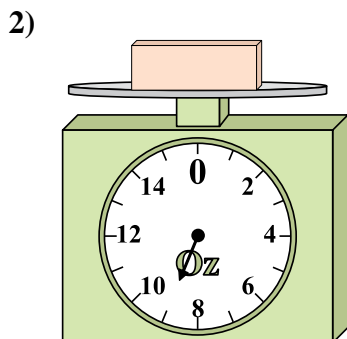
- 1. _____
- 2. _____
- 3. _____
- 4. _____
- 5. _____
- 6. _____
- 7. _____
- 8. _____
- 9. _____



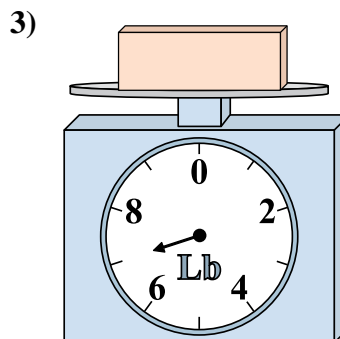
Usa le bilance qui rappresentate per rispondere alle domande.



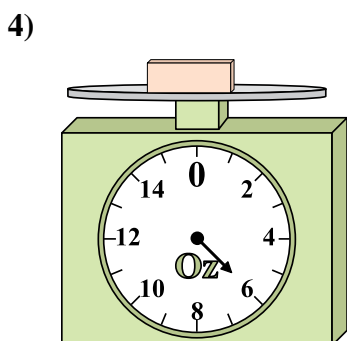
Se il blocco mostrato fosse più leggero di 6 libbre, quanto peserebbe?



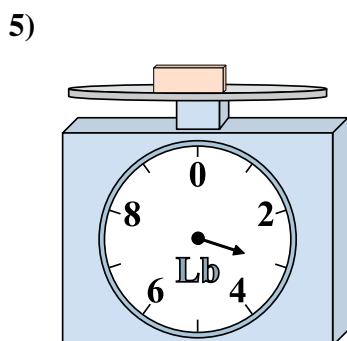
Se il blocco mostrato fosse più leggero di 8 once, quanto peserebbe?



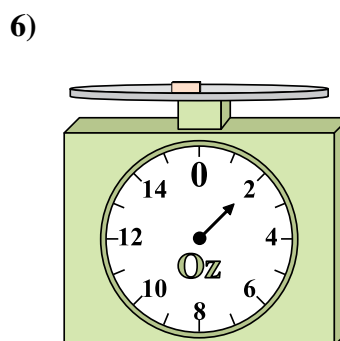
Se hai 2 blocchi che hanno lo stesso peso, quanto peseranno in totale in libbre?



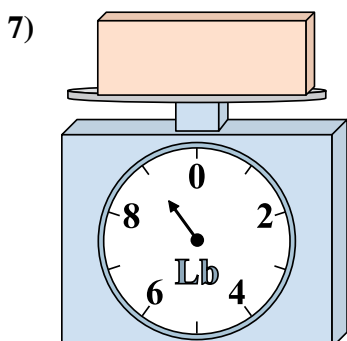
Se il blocco mostrato fosse più pesante di 2 once, quanto peserebbe?



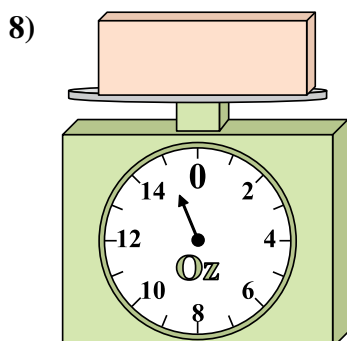
Se hai 8 blocchi che hanno lo stesso peso, quanto peseranno in totale in libbre?



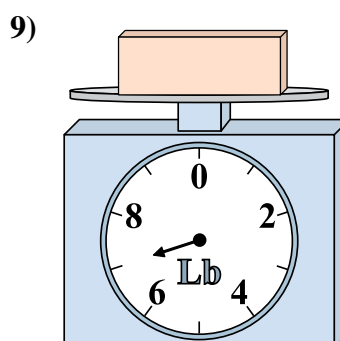
Se il blocco mostrato fosse più pesante di 2 once, quanto peserebbe?



Qual è il peso (in libbre) del blocco?



Qual è il peso (in once) del blocco?



Se il blocco mostrato fosse più leggero di 3 libbre, quanto peserebbe?

Risposte

1. 2

2. 1

3. 14

4. 8

5. 24

6. 4

7. 9

8. 15

9. 4