




Usa i gruppi per rispondere ad ogni domanda.

1) a. Quanti gruppi da 100 ci sono?

b. Quanti blocchi piccoli ci sono in tutto?



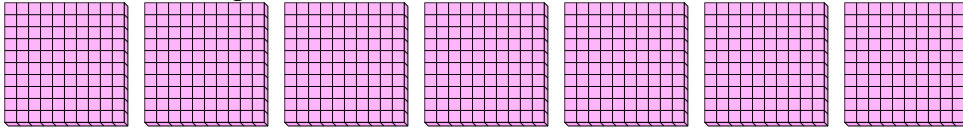
**Risposte**

1a. \_\_\_\_\_

1b. \_\_\_\_\_

2) a. Quanti gruppi da 100 ci sono?

b. Quanti blocchi piccoli ci sono in tutto?




2a. \_\_\_\_\_

2b. \_\_\_\_\_

3) a. Quanti gruppi da 100 ci sono?

b. Quanti blocchi piccoli ci sono in tutto?

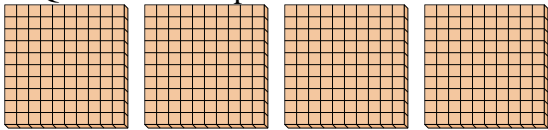


3a. \_\_\_\_\_

3b. \_\_\_\_\_

4) a. Quanti gruppi da 100 ci sono?

b. Quanti blocchi piccoli ci sono in tutto?

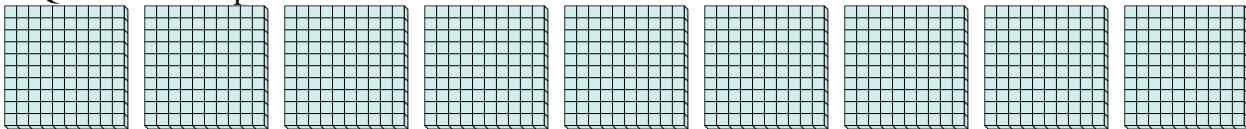


4a. \_\_\_\_\_

4b. \_\_\_\_\_

5) a. Quanti gruppi da 100 ci sono?

b. Quanti blocchi piccoli ci sono in tutto?



5a. \_\_\_\_\_

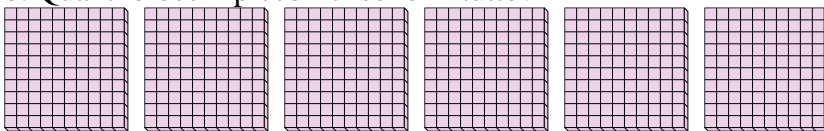
5b. \_\_\_\_\_

6a. \_\_\_\_\_

6b. \_\_\_\_\_

6) a. Quanti gruppi da 100 ci sono?

b. Quanti blocchi piccoli ci sono in tutto?

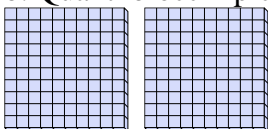


7a. \_\_\_\_\_

7b. \_\_\_\_\_

7) a. Quanti gruppi da 100 ci sono?

b. Quanti blocchi piccoli ci sono in tutto?

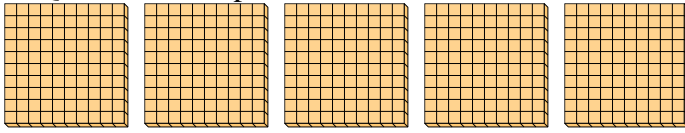




Usa i gruppi per rispondere ad ogni domanda.

1) a. Quanti gruppi da 100 ci sono?

b. Quanti blocchi piccoli ci sono in tutto?




**Risposte**

1a. 5

1b. 500

2) a. Quanti gruppi da 100 ci sono?

b. Quanti blocchi piccoli ci sono in tutto?




2a. 7

2b. 700

3) a. Quanti gruppi da 100 ci sono?

b. Quanti blocchi piccoli ci sono in tutto?

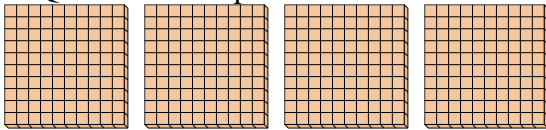


3a. 1

3b. 100

4) a. Quanti gruppi da 100 ci sono?

b. Quanti blocchi piccoli ci sono in tutto?




4a. 4

4b. 400

5) a. Quanti gruppi da 100 ci sono?

b. Quanti blocchi piccoli ci sono in tutto?

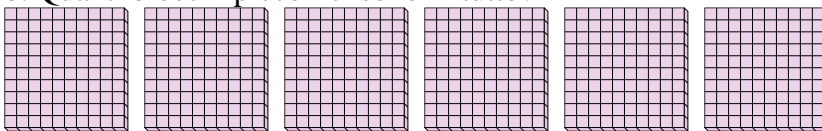


5a. 9

5b. 900

6) a. Quanti gruppi da 100 ci sono?

b. Quanti blocchi piccoli ci sono in tutto?

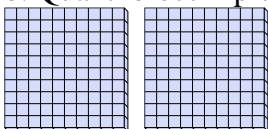


6a. 6

6b. 600

7) a. Quanti gruppi da 100 ci sono?

b. Quanti blocchi piccoli ci sono in tutto?



7a. 2

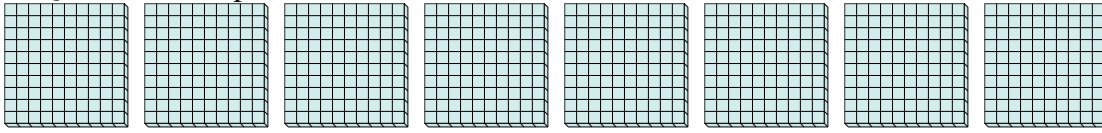
7b. 200



Usa i gruppi per rispondere ad ogni domanda.

1) a. Quanti gruppi da 100 ci sono?

b. Quanti blocchi piccoli ci sono in tutto?



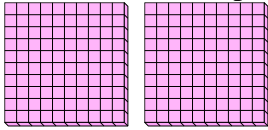
**Risposte**

1a. \_\_\_\_\_

1b. \_\_\_\_\_

2) a. Quanti gruppi da 100 ci sono?

b. Quanti blocchi piccoli ci sono in tutto?




2a. \_\_\_\_\_

2b. \_\_\_\_\_

3) a. Quanti gruppi da 100 ci sono?

b. Quanti blocchi piccoli ci sono in tutto?




3a. \_\_\_\_\_

3b. \_\_\_\_\_

4) a. Quanti gruppi da 100 ci sono?

b. Quanti blocchi piccoli ci sono in tutto?

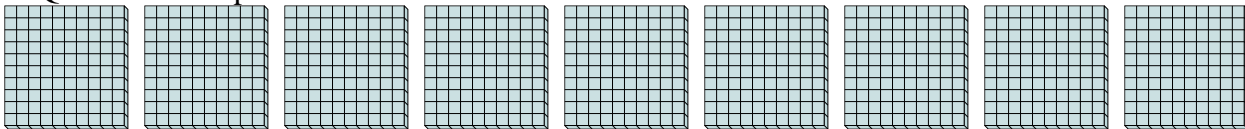


4a. \_\_\_\_\_

4b. \_\_\_\_\_

5) a. Quanti gruppi da 100 ci sono?

b. Quanti blocchi piccoli ci sono in tutto?

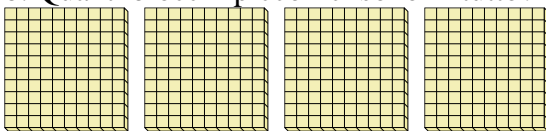


5a. \_\_\_\_\_

5b. \_\_\_\_\_

6) a. Quanti gruppi da 100 ci sono?

b. Quanti blocchi piccoli ci sono in tutto?

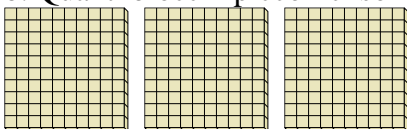


6a. \_\_\_\_\_

6b. \_\_\_\_\_

7) a. Quanti gruppi da 100 ci sono?

b. Quanti blocchi piccoli ci sono in tutto?



7a. \_\_\_\_\_

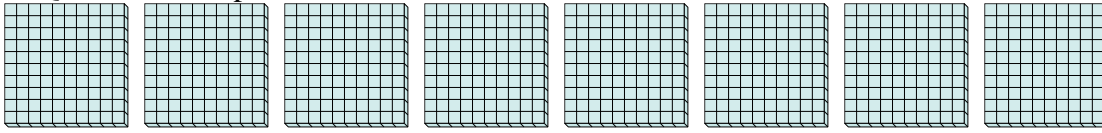
7b. \_\_\_\_\_



Usa i gruppi per rispondere ad ogni domanda.

1) a. Quanti gruppi da 100 ci sono?

b. Quanti blocchi piccoli ci sono in tutto?



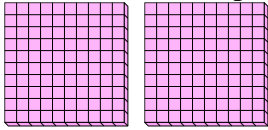
**Risposte**

1a. 8

1b. 800

2) a. Quanti gruppi da 100 ci sono?

b. Quanti blocchi piccoli ci sono in tutto?




2a. 2

2b. 200

3) a. Quanti gruppi da 100 ci sono?

b. Quanti blocchi piccoli ci sono in tutto?




3a. 1

3b. 100

4) a. Quanti gruppi da 100 ci sono?

b. Quanti blocchi piccoli ci sono in tutto?

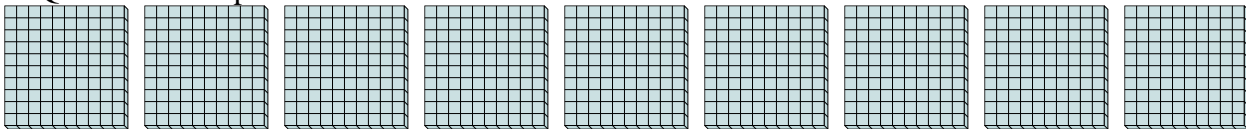


4a. 7

4b. 700

5) a. Quanti gruppi da 100 ci sono?

b. Quanti blocchi piccoli ci sono in tutto?

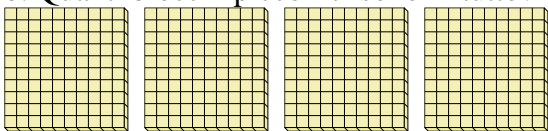


5a. 9

5b. 900

6) a. Quanti gruppi da 100 ci sono?

b. Quanti blocchi piccoli ci sono in tutto?

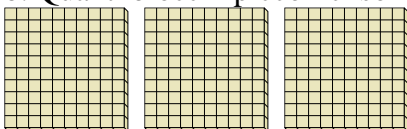


6a. 4

6b. 400

7) a. Quanti gruppi da 100 ci sono?

b. Quanti blocchi piccoli ci sono in tutto?



7a. 3

7b. 300

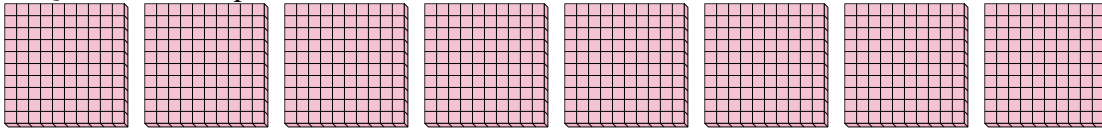


Usa i gruppi per rispondere ad ogni domanda.

**Risposte**

1) a. Quanti gruppi da 100 ci sono?

b. Quanti blocchi piccoli ci sono in tutto?

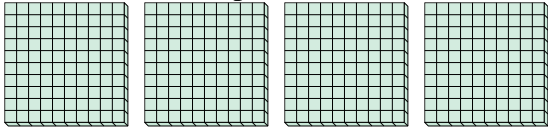


1a. \_\_\_\_\_

1b. \_\_\_\_\_

2) a. Quanti gruppi da 100 ci sono?

b. Quanti blocchi piccoli ci sono in tutto?

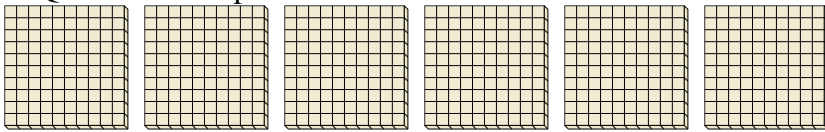


2a. \_\_\_\_\_

2b. \_\_\_\_\_

3) a. Quanti gruppi da 100 ci sono?

b. Quanti blocchi piccoli ci sono in tutto?




3a. \_\_\_\_\_

3b. \_\_\_\_\_

4) a. Quanti gruppi da 100 ci sono?

b. Quanti blocchi piccoli ci sono in tutto?




4a. \_\_\_\_\_

4b. \_\_\_\_\_

5) a. Quanti gruppi da 100 ci sono?

b. Quanti blocchi piccoli ci sono in tutto?

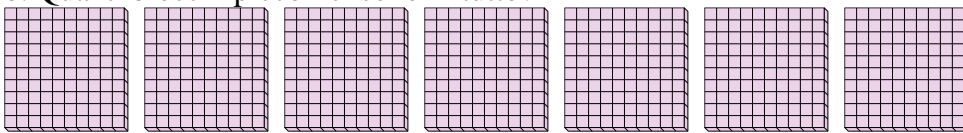


5a. \_\_\_\_\_

5b. \_\_\_\_\_

6) a. Quanti gruppi da 100 ci sono?

b. Quanti blocchi piccoli ci sono in tutto?




6a. \_\_\_\_\_

6b. \_\_\_\_\_

7) a. Quanti gruppi da 100 ci sono?

b. Quanti blocchi piccoli ci sono in tutto?



7a. \_\_\_\_\_

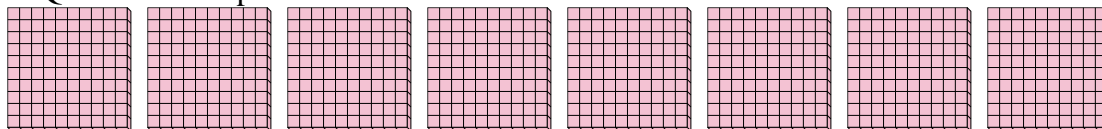
7b. \_\_\_\_\_



Usa i gruppi per rispondere ad ogni domanda.

1) a. Quanti gruppi da 100 ci sono?

b. Quanti blocchi piccoli ci sono in tutto?

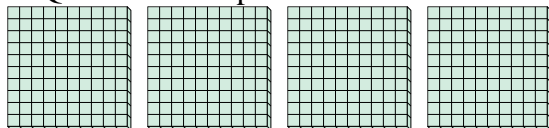


1a. 8

1b. 800

2) a. Quanti gruppi da 100 ci sono?

b. Quanti blocchi piccoli ci sono in tutto?

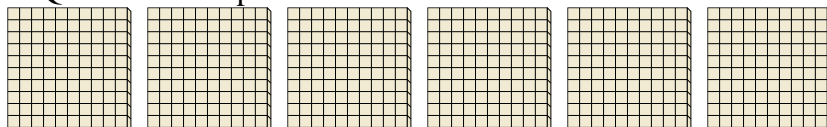


2a. 4

2b. 400

3) a. Quanti gruppi da 100 ci sono?

b. Quanti blocchi piccoli ci sono in tutto?

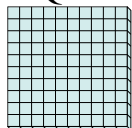


3a. 6

3b. 600

4) a. Quanti gruppi da 100 ci sono?

b. Quanti blocchi piccoli ci sono in tutto?




4a. 1

4b. 100

5) a. Quanti gruppi da 100 ci sono?

b. Quanti blocchi piccoli ci sono in tutto?




5a. 3

5b. 300

6) a. Quanti gruppi da 100 ci sono?

b. Quanti blocchi piccoli ci sono in tutto?




6a. 7

6b. 700

7) a. Quanti gruppi da 100 ci sono?

b. Quanti blocchi piccoli ci sono in tutto?



7a. 5

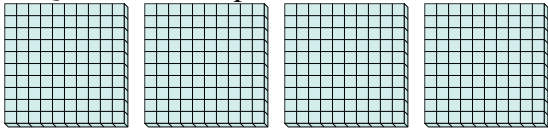
7b. 500

**Risposte**

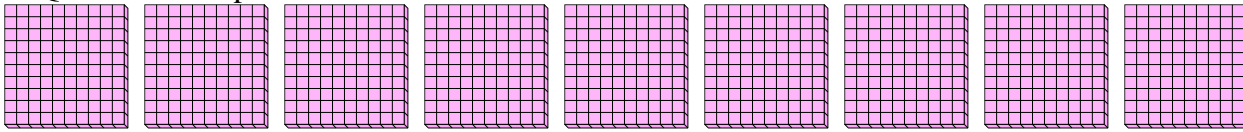


Usa i gruppi per rispondere ad ogni domanda.

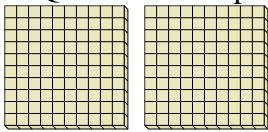
- 1) a. Quanti gruppi da 100 ci sono?
- b. Quanti blocchi piccoli ci sono in tutto?



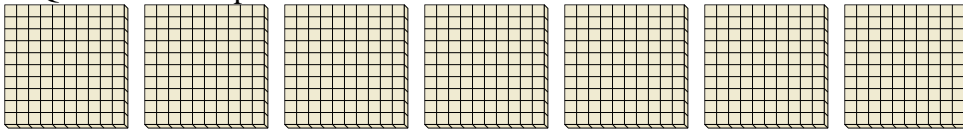
- 2) a. Quanti gruppi da 100 ci sono?
- b. Quanti blocchi piccoli ci sono in tutto?



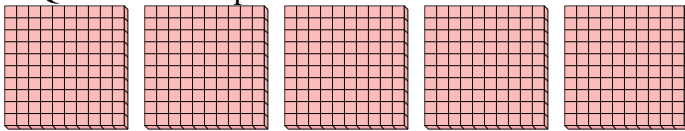
- 3) a. Quanti gruppi da 100 ci sono?
- b. Quanti blocchi piccoli ci sono in tutto?



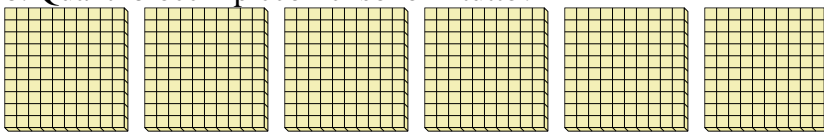
- 4) a. Quanti gruppi da 100 ci sono?
- b. Quanti blocchi piccoli ci sono in tutto?



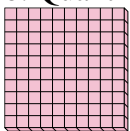
- 5) a. Quanti gruppi da 100 ci sono?
- b. Quanti blocchi piccoli ci sono in tutto?



- 6) a. Quanti gruppi da 100 ci sono?
- b. Quanti blocchi piccoli ci sono in tutto?



- 7) a. Quanti gruppi da 100 ci sono?
- b. Quanti blocchi piccoli ci sono in tutto?



**Risposte**

1a. \_\_\_\_\_

1b. \_\_\_\_\_

2a. \_\_\_\_\_

2b. \_\_\_\_\_

3a. \_\_\_\_\_

3b. \_\_\_\_\_

4a. \_\_\_\_\_

4b. \_\_\_\_\_

5a. \_\_\_\_\_

5b. \_\_\_\_\_

6a. \_\_\_\_\_

6b. \_\_\_\_\_

7a. \_\_\_\_\_

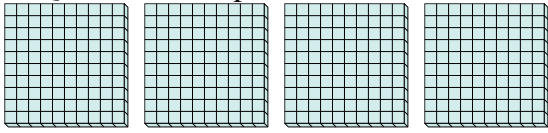
7b. \_\_\_\_\_



Usa i gruppi per rispondere ad ogni domanda.

1) a. Quanti gruppi da 100 ci sono?

b. Quanti blocchi piccoli ci sono in tutto?



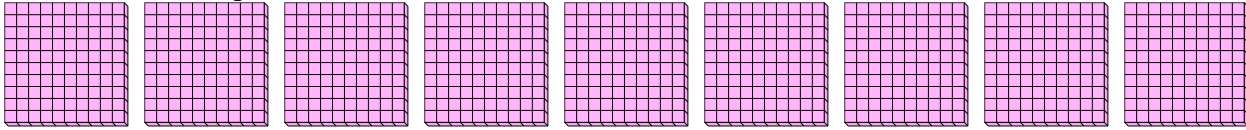
**Risposte**

1a. 4

1b. 400

2) a. Quanti gruppi da 100 ci sono?

b. Quanti blocchi piccoli ci sono in tutto?

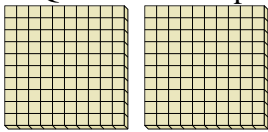


2a. 9

2b. 900

3) a. Quanti gruppi da 100 ci sono?

b. Quanti blocchi piccoli ci sono in tutto?

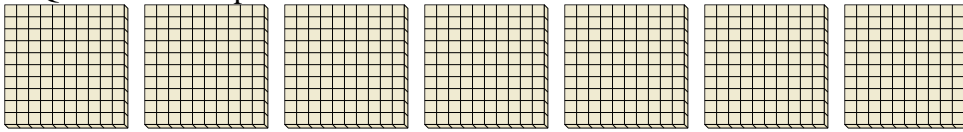


3a. 2

3b. 200

4) a. Quanti gruppi da 100 ci sono?

b. Quanti blocchi piccoli ci sono in tutto?

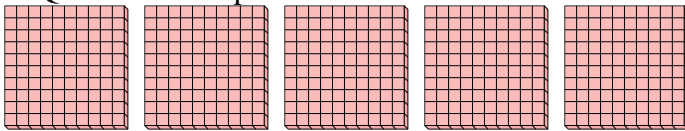


4a. 7

4b. 700

5) a. Quanti gruppi da 100 ci sono?

b. Quanti blocchi piccoli ci sono in tutto?

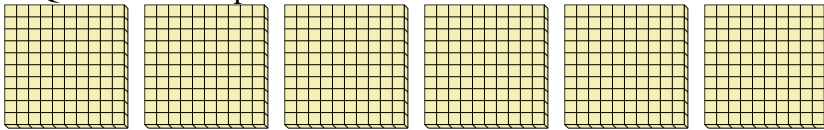


5a. 5

5b. 500

6) a. Quanti gruppi da 100 ci sono?

b. Quanti blocchi piccoli ci sono in tutto?

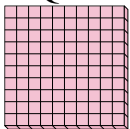


6a. 6

6b. 600

7) a. Quanti gruppi da 100 ci sono?

b. Quanti blocchi piccoli ci sono in tutto?



7a. 1

7b. 100

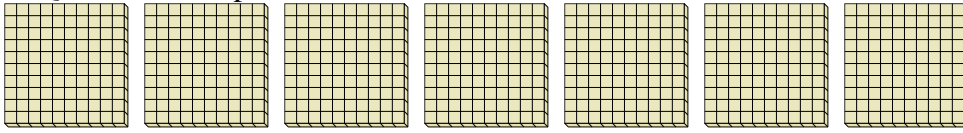




Usa i gruppi per rispondere ad ogni domanda.

1) a. Quanti gruppi da 100 ci sono?

b. Quanti blocchi piccoli ci sono in tutto?



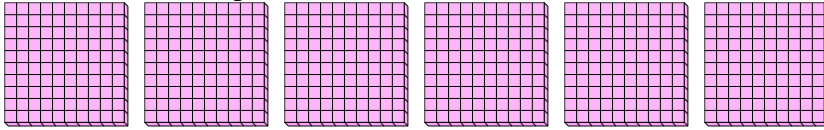
**Risposte**

1a. \_\_\_\_\_

1b. \_\_\_\_\_

2) a. Quanti gruppi da 100 ci sono?

b. Quanti blocchi piccoli ci sono in tutto?

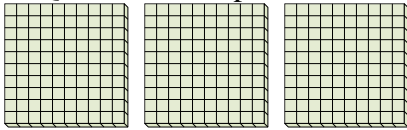


2a. \_\_\_\_\_

2b. \_\_\_\_\_

3) a. Quanti gruppi da 100 ci sono?

b. Quanti blocchi piccoli ci sono in tutto?

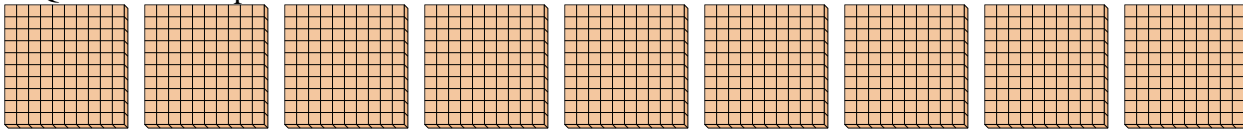


3a. \_\_\_\_\_

3b. \_\_\_\_\_

4) a. Quanti gruppi da 100 ci sono?

b. Quanti blocchi piccoli ci sono in tutto?

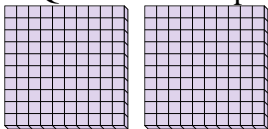


4a. \_\_\_\_\_

4b. \_\_\_\_\_

5) a. Quanti gruppi da 100 ci sono?

b. Quanti blocchi piccoli ci sono in tutto?

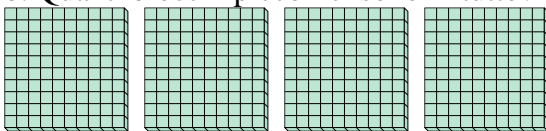


5a. \_\_\_\_\_

5b. \_\_\_\_\_

6) a. Quanti gruppi da 100 ci sono?

b. Quanti blocchi piccoli ci sono in tutto?




6a. \_\_\_\_\_

6b. \_\_\_\_\_

7) a. Quanti gruppi da 100 ci sono?

b. Quanti blocchi piccoli ci sono in tutto?



7a. \_\_\_\_\_

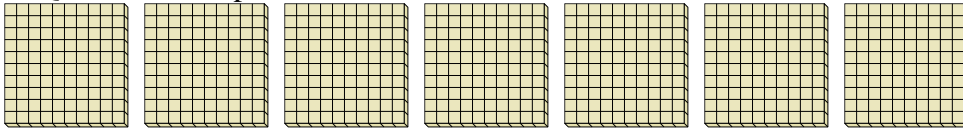
7b. \_\_\_\_\_



Usa i gruppi per rispondere ad ogni domanda.

1) a. Quanti gruppi da 100 ci sono?

b. Quanti blocchi piccoli ci sono in tutto?



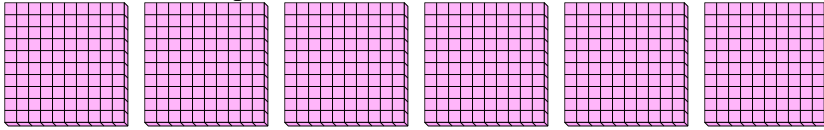
**Risposte**

1a. 7

1b. 700

2) a. Quanti gruppi da 100 ci sono?

b. Quanti blocchi piccoli ci sono in tutto?

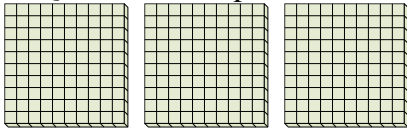


2a. 6

2b. 600

3) a. Quanti gruppi da 100 ci sono?

b. Quanti blocchi piccoli ci sono in tutto?

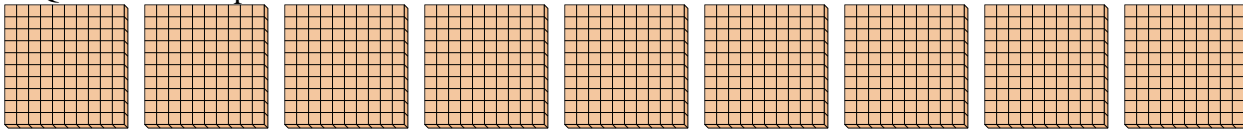


3a. 3

3b. 300

4) a. Quanti gruppi da 100 ci sono?

b. Quanti blocchi piccoli ci sono in tutto?

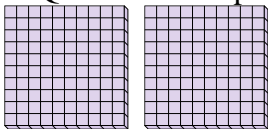


4a. 9

4b. 900

5) a. Quanti gruppi da 100 ci sono?

b. Quanti blocchi piccoli ci sono in tutto?

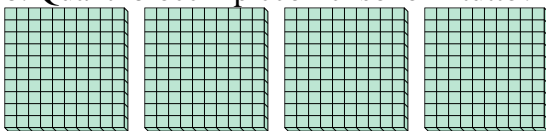


5a. 2

5b. 200

6) a. Quanti gruppi da 100 ci sono?

b. Quanti blocchi piccoli ci sono in tutto?




6a. 4

6b. 400

7) a. Quanti gruppi da 100 ci sono?

b. Quanti blocchi piccoli ci sono in tutto?



7a. 8

7b. 800

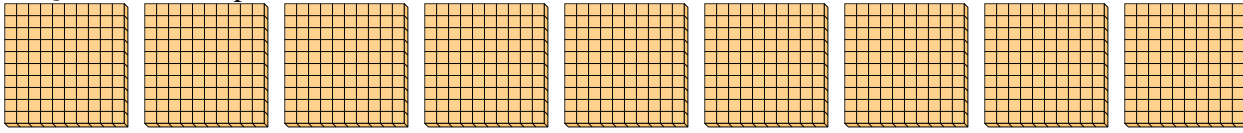


Usa i gruppi per rispondere ad ogni domanda.

**Risposte**

1) a. Quanti gruppi da 100 ci sono?

b. Quanti blocchi piccoli ci sono in tutto?

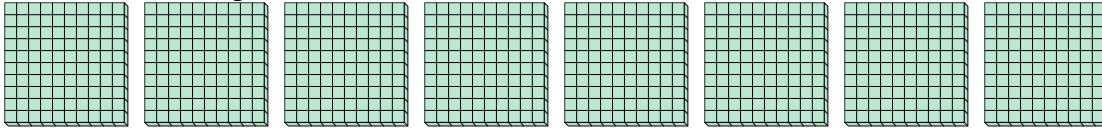


1a. \_\_\_\_\_

1b. \_\_\_\_\_

2) a. Quanti gruppi da 100 ci sono?

b. Quanti blocchi piccoli ci sono in tutto?




2a. \_\_\_\_\_

2b. \_\_\_\_\_

3) a. Quanti gruppi da 100 ci sono?

b. Quanti blocchi piccoli ci sono in tutto?



3a. \_\_\_\_\_

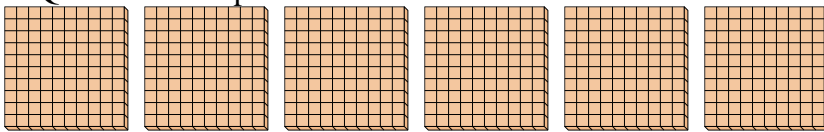
3b. \_\_\_\_\_

4a. \_\_\_\_\_

4b. \_\_\_\_\_

4) a. Quanti gruppi da 100 ci sono?

b. Quanti blocchi piccoli ci sono in tutto?



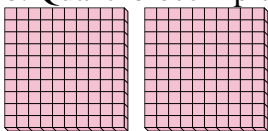
5a. \_\_\_\_\_

5b. \_\_\_\_\_

6a. \_\_\_\_\_

5) a. Quanti gruppi da 100 ci sono?

b. Quanti blocchi piccoli ci sono in tutto?



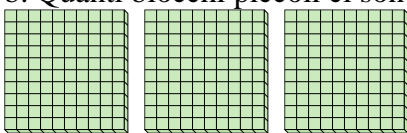
6b. \_\_\_\_\_

7a. \_\_\_\_\_

7b. \_\_\_\_\_

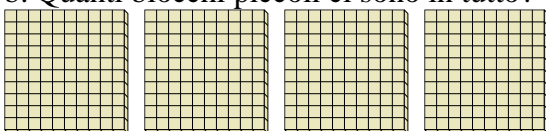
6) a. Quanti gruppi da 100 ci sono?

b. Quanti blocchi piccoli ci sono in tutto?



7) a. Quanti gruppi da 100 ci sono?

b. Quanti blocchi piccoli ci sono in tutto?

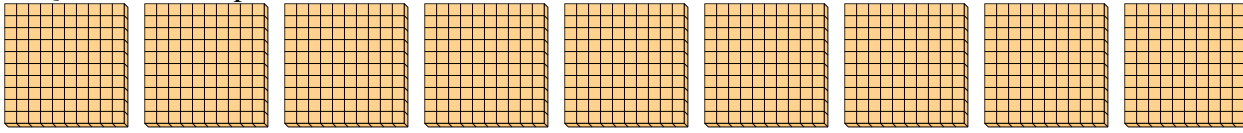




Usa i gruppi per rispondere ad ogni domanda.

1) a. Quanti gruppi da 100 ci sono?

b. Quanti blocchi piccoli ci sono in tutto?



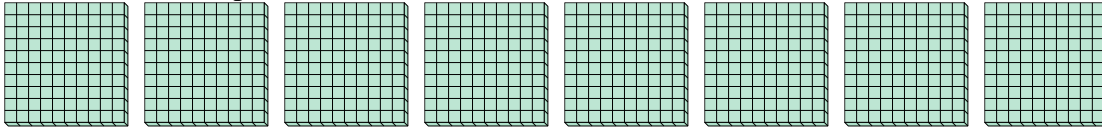
**Risposte**

1a. 9

1b. 900

2) a. Quanti gruppi da 100 ci sono?

b. Quanti blocchi piccoli ci sono in tutto?




2a. 8

2b. 800

3) a. Quanti gruppi da 100 ci sono?

b. Quanti blocchi piccoli ci sono in tutto?

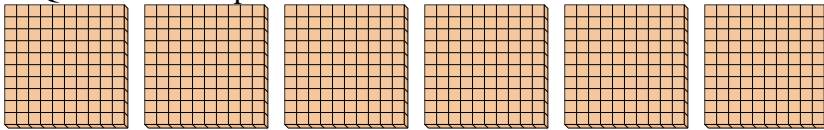


3a. 1

3b. 100

4) a. Quanti gruppi da 100 ci sono?

b. Quanti blocchi piccoli ci sono in tutto?

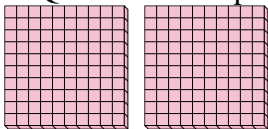


4a. 6

4b. 600

5) a. Quanti gruppi da 100 ci sono?

b. Quanti blocchi piccoli ci sono in tutto?

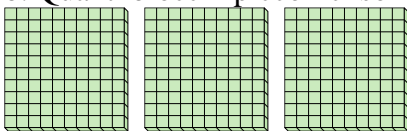


5a. 2

5b. 200

6) a. Quanti gruppi da 100 ci sono?

b. Quanti blocchi piccoli ci sono in tutto?

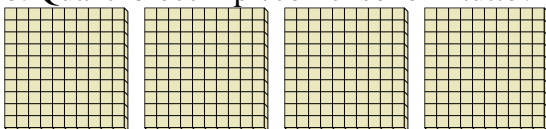


6a. 3

6b. 300

7) a. Quanti gruppi da 100 ci sono?

b. Quanti blocchi piccoli ci sono in tutto?



7a. 4

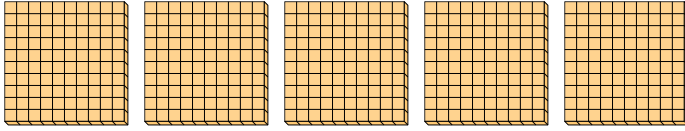
7b. 400



Usa i gruppi per rispondere ad ogni domanda.

1) a. Quanti gruppi da 100 ci sono?

b. Quanti blocchi piccoli ci sono in tutto?




**Risposte**

1a. \_\_\_\_\_

1b. \_\_\_\_\_

2) a. Quanti gruppi da 100 ci sono?

b. Quanti blocchi piccoli ci sono in tutto?




2a. \_\_\_\_\_

2b. \_\_\_\_\_

3) a. Quanti gruppi da 100 ci sono?

b. Quanti blocchi piccoli ci sono in tutto?

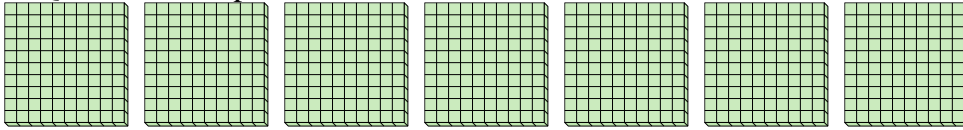


3a. \_\_\_\_\_

3b. \_\_\_\_\_

4) a. Quanti gruppi da 100 ci sono?

b. Quanti blocchi piccoli ci sono in tutto?




4a. \_\_\_\_\_

4b. \_\_\_\_\_

5) a. Quanti gruppi da 100 ci sono?

b. Quanti blocchi piccoli ci sono in tutto?

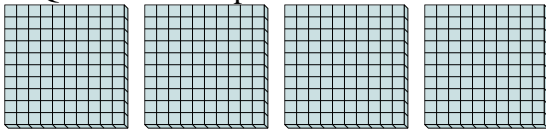


5a. \_\_\_\_\_

5b. \_\_\_\_\_

6) a. Quanti gruppi da 100 ci sono?

b. Quanti blocchi piccoli ci sono in tutto?

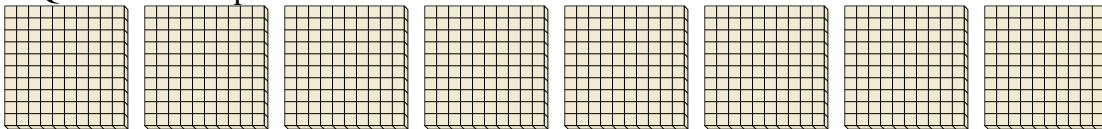


6a. \_\_\_\_\_

6b. \_\_\_\_\_

7) a. Quanti gruppi da 100 ci sono?

b. Quanti blocchi piccoli ci sono in tutto?



7a. \_\_\_\_\_


7b. \_\_\_\_\_



Usa i gruppi per rispondere ad ogni domanda.

1) a. Quanti gruppi da 100 ci sono?

b. Quanti blocchi piccoli ci sono in tutto?




**Risposte**

1a. 5

1b. 500

2) a. Quanti gruppi da 100 ci sono?

b. Quanti blocchi piccoli ci sono in tutto?




2a. 3

2b. 300

3) a. Quanti gruppi da 100 ci sono?

b. Quanti blocchi piccoli ci sono in tutto?

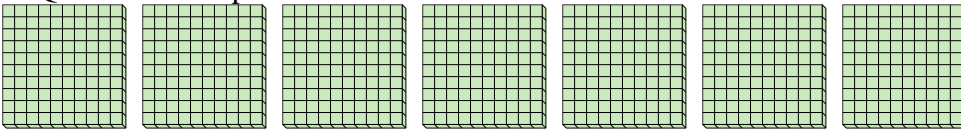


3a. 9

3b. 900

4) a. Quanti gruppi da 100 ci sono?

b. Quanti blocchi piccoli ci sono in tutto?




4a. 7

4b. 700

5) a. Quanti gruppi da 100 ci sono?

b. Quanti blocchi piccoli ci sono in tutto?

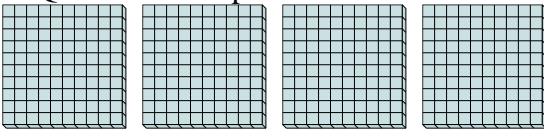


5a. 1

5b. 100

6) a. Quanti gruppi da 100 ci sono?

b. Quanti blocchi piccoli ci sono in tutto?

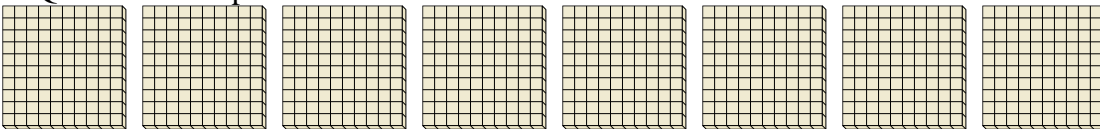


6a. 4

6b. 400

7) a. Quanti gruppi da 100 ci sono?

b. Quanti blocchi piccoli ci sono in tutto?




7a. 8

7b. 800




Usa i gruppi per rispondere ad ogni domanda.

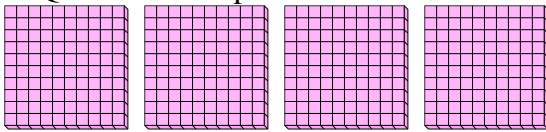
- 1) a. Quanti gruppi da 100 ci sono?
- b. Quanti blocchi piccoli ci sono in tutto?



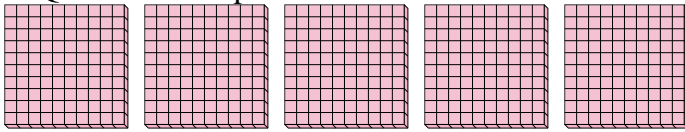
- 2) a. Quanti gruppi da 100 ci sono?
- b. Quanti blocchi piccoli ci sono in tutto?



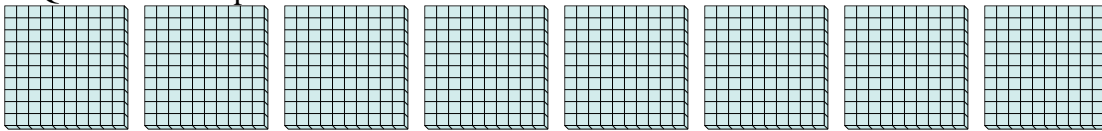
- 3) a. Quanti gruppi da 100 ci sono?
- b. Quanti blocchi piccoli ci sono in tutto?




- 4) a. Quanti gruppi da 100 ci sono?
- b. Quanti blocchi piccoli ci sono in tutto?



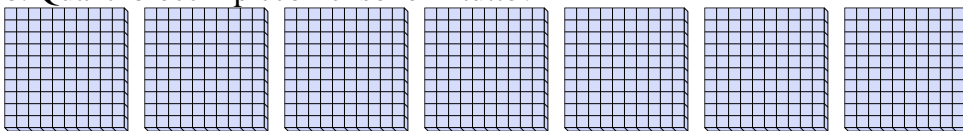
- 5) a. Quanti gruppi da 100 ci sono?
- b. Quanti blocchi piccoli ci sono in tutto?



- 6) a. Quanti gruppi da 100 ci sono?
- b. Quanti blocchi piccoli ci sono in tutto?



- 7) a. Quanti gruppi da 100 ci sono?
- b. Quanti blocchi piccoli ci sono in tutto?



**Risposte**

1a. \_\_\_\_\_

1b. \_\_\_\_\_

2a. \_\_\_\_\_

2b. \_\_\_\_\_

3a. \_\_\_\_\_

3b. \_\_\_\_\_

4a. \_\_\_\_\_

4b. \_\_\_\_\_

5a. \_\_\_\_\_

5b. \_\_\_\_\_

6a. \_\_\_\_\_

6b. \_\_\_\_\_


7a. \_\_\_\_\_

7b. \_\_\_\_\_




Usa i gruppi per rispondere ad ogni domanda.

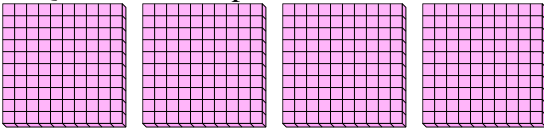
- 1) a. Quanti gruppi da 100 ci sono?  
b. Quanti blocchi piccoli ci sono in tutto?



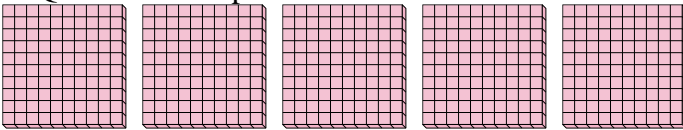
- 2) a. Quanti gruppi da 100 ci sono?  
b. Quanti blocchi piccoli ci sono in tutto?



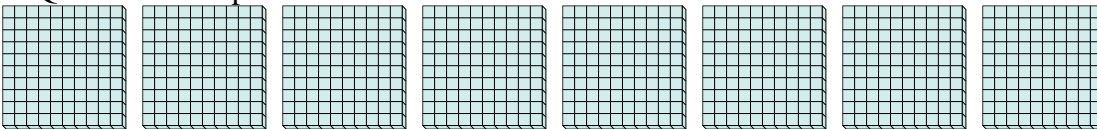
- 3) a. Quanti gruppi da 100 ci sono?  
b. Quanti blocchi piccoli ci sono in tutto?




- 4) a. Quanti gruppi da 100 ci sono?  
b. Quanti blocchi piccoli ci sono in tutto?




- 5) a. Quanti gruppi da 100 ci sono?  
b. Quanti blocchi piccoli ci sono in tutto?



- 6) a. Quanti gruppi da 100 ci sono?  
b. Quanti blocchi piccoli ci sono in tutto?



- 7) a. Quanti gruppi da 100 ci sono?  
b. Quanti blocchi piccoli ci sono in tutto?



**Risposte**

1a. 3

1b. 300

2a. 6

2b. 600

3a. 4

3b. 400

4a. 5

4b. 500

5a. 8

5b. 800

6a. 1

6b. 100

7a. 7

7b. 700






Usa i gruppi per rispondere ad ogni domanda.

1) a. Quanti gruppi da 100 ci sono?

b. Quanti blocchi piccoli ci sono in tutto?



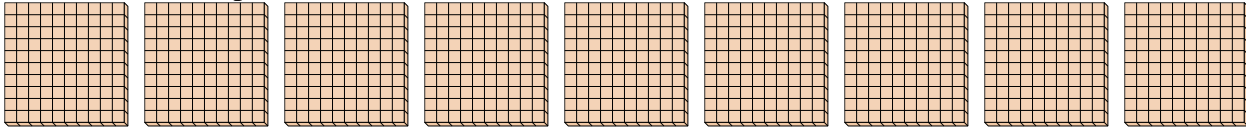
**Risposte**

1a. \_\_\_\_\_

1b. \_\_\_\_\_

2) a. Quanti gruppi da 100 ci sono?

b. Quanti blocchi piccoli ci sono in tutto?

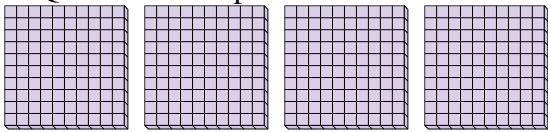


2a. \_\_\_\_\_

2b. \_\_\_\_\_

3) a. Quanti gruppi da 100 ci sono?

b. Quanti blocchi piccoli ci sono in tutto?

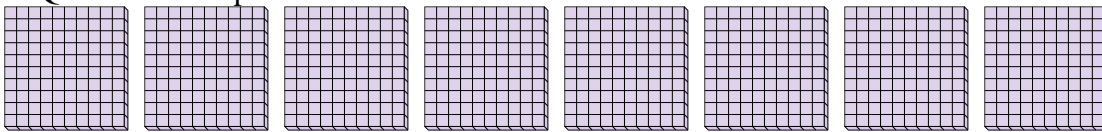


3a. \_\_\_\_\_

3b. \_\_\_\_\_

4) a. Quanti gruppi da 100 ci sono?

b. Quanti blocchi piccoli ci sono in tutto?

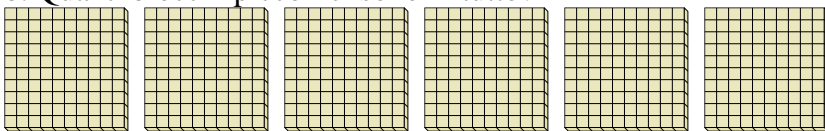


4a. \_\_\_\_\_

4b. \_\_\_\_\_

5) a. Quanti gruppi da 100 ci sono?

b. Quanti blocchi piccoli ci sono in tutto?




5a. \_\_\_\_\_

5b. \_\_\_\_\_

6) a. Quanti gruppi da 100 ci sono?

b. Quanti blocchi piccoli ci sono in tutto?

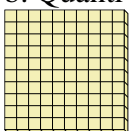


6a. \_\_\_\_\_

6b. \_\_\_\_\_

7) a. Quanti gruppi da 100 ci sono?

b. Quanti blocchi piccoli ci sono in tutto?



7a. \_\_\_\_\_


7b. \_\_\_\_\_



Usa i gruppi per rispondere ad ogni domanda.

1) a. Quanti gruppi da 100 ci sono?

b. Quanti blocchi piccoli ci sono in tutto?




**Risposte**

1a. 5

1b. 500

2) a. Quanti gruppi da 100 ci sono?

b. Quanti blocchi piccoli ci sono in tutto?

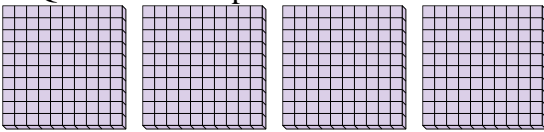


2a. 9

2b. 900

3) a. Quanti gruppi da 100 ci sono?

b. Quanti blocchi piccoli ci sono in tutto?

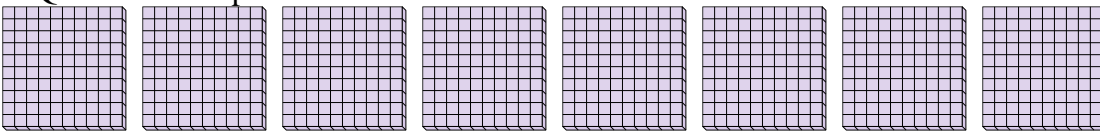


3a. 4

3b. 400

4) a. Quanti gruppi da 100 ci sono?

b. Quanti blocchi piccoli ci sono in tutto?

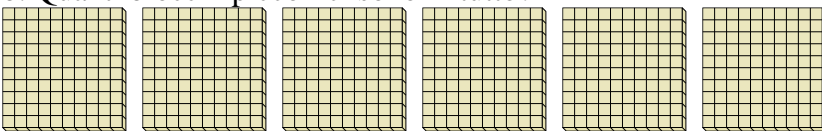


4a. 8

4b. 800

5) a. Quanti gruppi da 100 ci sono?

b. Quanti blocchi piccoli ci sono in tutto?




5a. 6

5b. 600

6) a. Quanti gruppi da 100 ci sono?

b. Quanti blocchi piccoli ci sono in tutto?




6a. 7

6b. 700

7) a. Quanti gruppi da 100 ci sono?

b. Quanti blocchi piccoli ci sono in tutto?



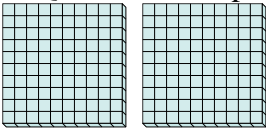
7a. 1

7b. 100

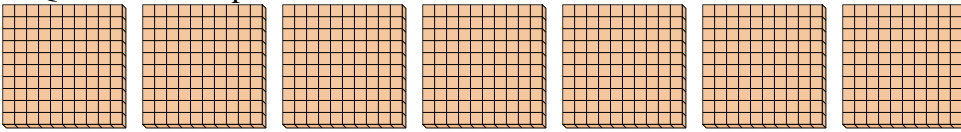


Usa i gruppi per rispondere ad ogni domanda.


- 1) a. Quanti gruppi da 100 ci sono?
- b. Quanti blocchi piccoli ci sono in tutto?



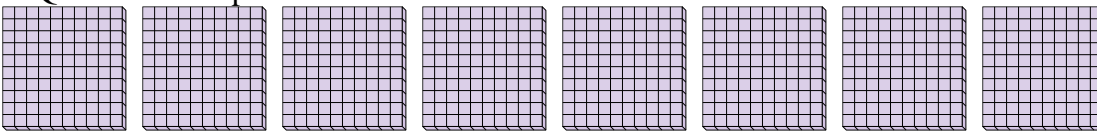
- 2) a. Quanti gruppi da 100 ci sono?
- b. Quanti blocchi piccoli ci sono in tutto?



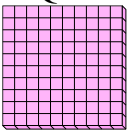
- 3) a. Quanti gruppi da 100 ci sono?
- b. Quanti blocchi piccoli ci sono in tutto?




- 4) a. Quanti gruppi da 100 ci sono?
- b. Quanti blocchi piccoli ci sono in tutto?



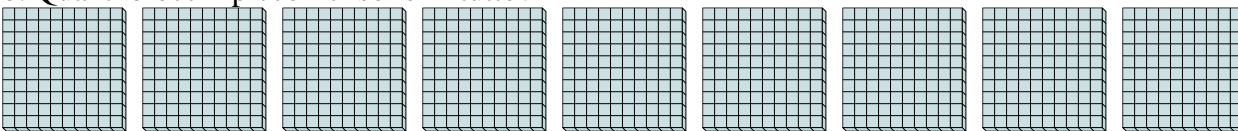
- 5) a. Quanti gruppi da 100 ci sono?
- b. Quanti blocchi piccoli ci sono in tutto?



- 6) a. Quanti gruppi da 100 ci sono?
- b. Quanti blocchi piccoli ci sono in tutto?



- 7) a. Quanti gruppi da 100 ci sono?
- b. Quanti blocchi piccoli ci sono in tutto?



**Risposte**

1a. \_\_\_\_\_

1b. \_\_\_\_\_

2a. \_\_\_\_\_

2b. \_\_\_\_\_

3a. \_\_\_\_\_

3b. \_\_\_\_\_

4a. \_\_\_\_\_

4b. \_\_\_\_\_

5a. \_\_\_\_\_

5b. \_\_\_\_\_

6a. \_\_\_\_\_

6b. \_\_\_\_\_

7a. \_\_\_\_\_

7b. \_\_\_\_\_

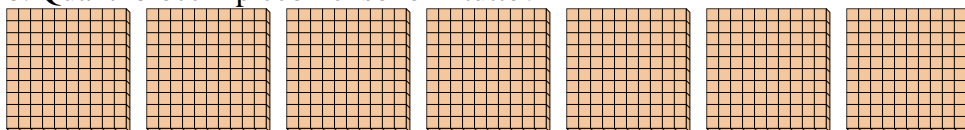


Usa i gruppi per rispondere ad ogni domanda.


- 1) a. Quanti gruppi da 100 ci sono?  
b. Quanti blocchi piccoli ci sono in tutto?



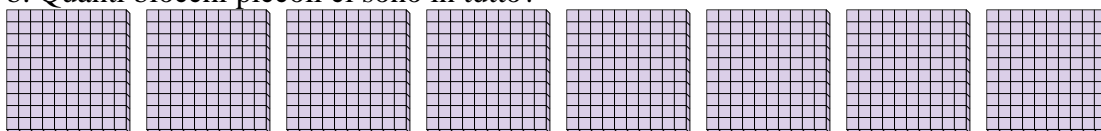
- 2) a. Quanti gruppi da 100 ci sono?  
b. Quanti blocchi piccoli ci sono in tutto?




- 3) a. Quanti gruppi da 100 ci sono?  
b. Quanti blocchi piccoli ci sono in tutto?



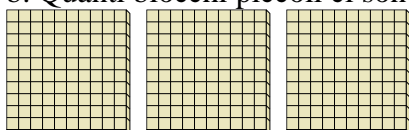
- 4) a. Quanti gruppi da 100 ci sono?  
b. Quanti blocchi piccoli ci sono in tutto?




- 5) a. Quanti gruppi da 100 ci sono?  
b. Quanti blocchi piccoli ci sono in tutto?



- 6) a. Quanti gruppi da 100 ci sono?  
b. Quanti blocchi piccoli ci sono in tutto?



- 7) a. Quanti gruppi da 100 ci sono?  
b. Quanti blocchi piccoli ci sono in tutto?



**Risposte**

1a. 2

1b. 200

2a. 7

2b. 700

3a. 5

3b. 500

4a. 8

4b. 800

5a. 1

5b. 100

6a. 3

6b. 300

7a. 9

7b. 900