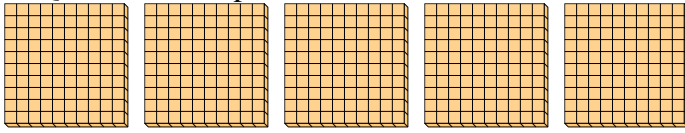




Usa i gruppi per rispondere ad ogni domanda.

1) a. Quanti gruppi da 100 ci sono?

b. Quanti blocchi piccoli ci sono in tutto?




Risposte

1a. _____

1b. _____

2) a. Quanti gruppi da 100 ci sono?

b. Quanti blocchi piccoli ci sono in tutto?




2a. _____

2b. _____

3) a. Quanti gruppi da 100 ci sono?

b. Quanti blocchi piccoli ci sono in tutto?

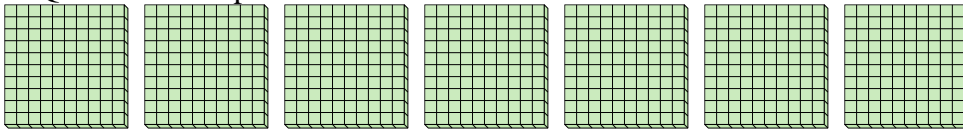


3a. _____

3b. _____

4) a. Quanti gruppi da 100 ci sono?

b. Quanti blocchi piccoli ci sono in tutto?




4a. _____

4b. _____

5) a. Quanti gruppi da 100 ci sono?

b. Quanti blocchi piccoli ci sono in tutto?

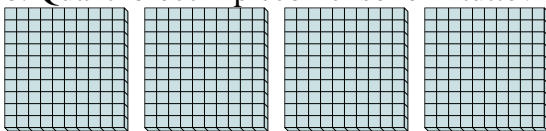


5a. _____

5b. _____

6) a. Quanti gruppi da 100 ci sono?

b. Quanti blocchi piccoli ci sono in tutto?

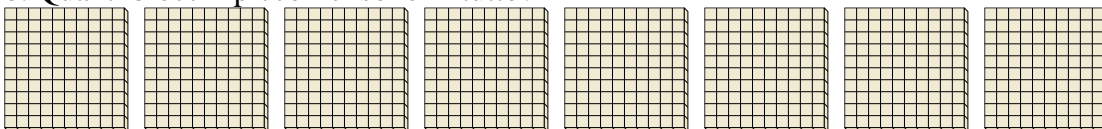


6a. _____

6b. _____

7) a. Quanti gruppi da 100 ci sono?

b. Quanti blocchi piccoli ci sono in tutto?



7a. _____


7b. _____



Usa i gruppi per rispondere ad ogni domanda.

1) a. Quanti gruppi da 100 ci sono?

b. Quanti blocchi piccoli ci sono in tutto?




Risposte

1a. 5

1b. 500

2) a. Quanti gruppi da 100 ci sono?

b. Quanti blocchi piccoli ci sono in tutto?




2a. 3

2b. 300

3) a. Quanti gruppi da 100 ci sono?

b. Quanti blocchi piccoli ci sono in tutto?

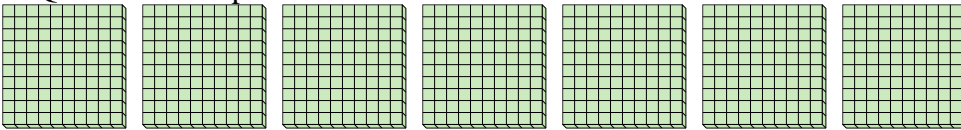


3a. 9

3b. 900

4) a. Quanti gruppi da 100 ci sono?

b. Quanti blocchi piccoli ci sono in tutto?




4a. 7

4b. 700

5) a. Quanti gruppi da 100 ci sono?

b. Quanti blocchi piccoli ci sono in tutto?

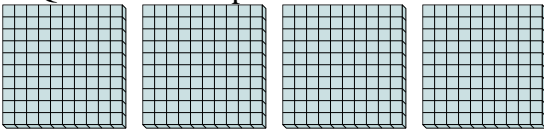


5a. 1

5b. 100

6) a. Quanti gruppi da 100 ci sono?

b. Quanti blocchi piccoli ci sono in tutto?

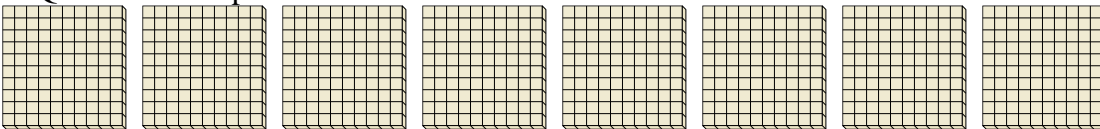


6a. 4

6b. 400

7) a. Quanti gruppi da 100 ci sono?

b. Quanti blocchi piccoli ci sono in tutto?



7a. 8

7b. 800