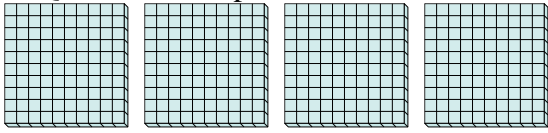


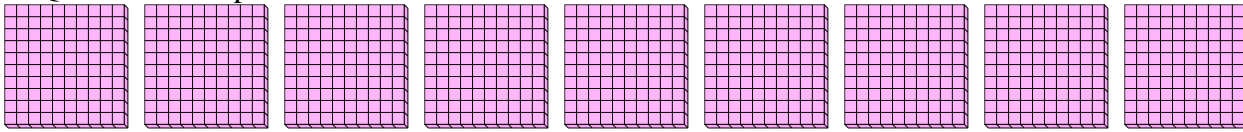


Usa i gruppi per rispondere ad ogni domanda.

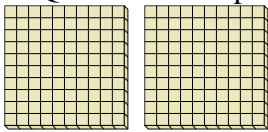
- 1) a. Quanti gruppi da 100 ci sono?
- b. Quanti blocchi piccoli ci sono in tutto?



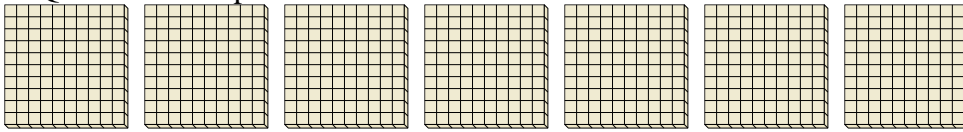
- 2) a. Quanti gruppi da 100 ci sono?
- b. Quanti blocchi piccoli ci sono in tutto?



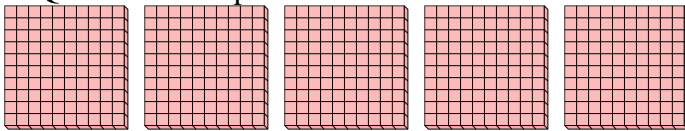
- 3) a. Quanti gruppi da 100 ci sono?
- b. Quanti blocchi piccoli ci sono in tutto?



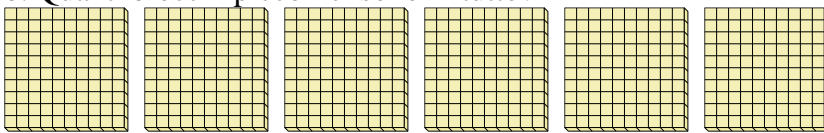
- 4) a. Quanti gruppi da 100 ci sono?
- b. Quanti blocchi piccoli ci sono in tutto?



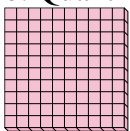
- 5) a. Quanti gruppi da 100 ci sono?
- b. Quanti blocchi piccoli ci sono in tutto?



- 6) a. Quanti gruppi da 100 ci sono?
- b. Quanti blocchi piccoli ci sono in tutto?



- 7) a. Quanti gruppi da 100 ci sono?
- b. Quanti blocchi piccoli ci sono in tutto?



**Risposte**

1a. \_\_\_\_\_

1b. \_\_\_\_\_

2a. \_\_\_\_\_

2b. \_\_\_\_\_

3a. \_\_\_\_\_

3b. \_\_\_\_\_

4a. \_\_\_\_\_

4b. \_\_\_\_\_

5a. \_\_\_\_\_

5b. \_\_\_\_\_

6a. \_\_\_\_\_

6b. \_\_\_\_\_

7a. \_\_\_\_\_

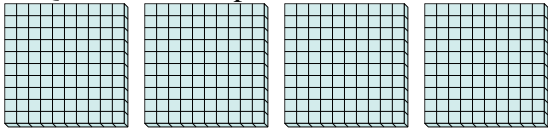
7b. \_\_\_\_\_



Usa i gruppi per rispondere ad ogni domanda.

1) a. Quanti gruppi da 100 ci sono?

b. Quanti blocchi piccoli ci sono in tutto?



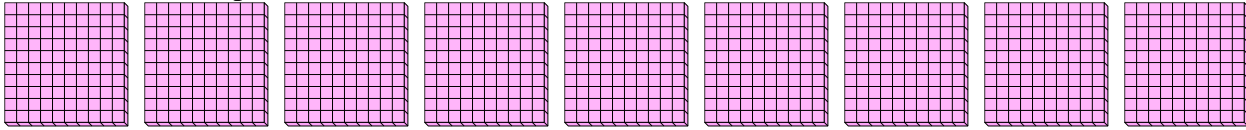
**Risposte**

1a. 4

1b. 400

2) a. Quanti gruppi da 100 ci sono?

b. Quanti blocchi piccoli ci sono in tutto?

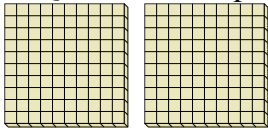


2a. 9

2b. 900

3) a. Quanti gruppi da 100 ci sono?

b. Quanti blocchi piccoli ci sono in tutto?

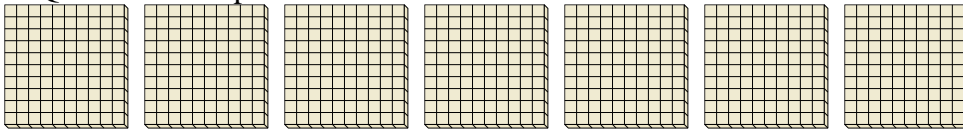


3a. 2

3b. 200

4) a. Quanti gruppi da 100 ci sono?

b. Quanti blocchi piccoli ci sono in tutto?

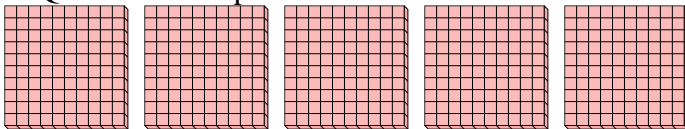


4a. 7

4b. 700

5) a. Quanti gruppi da 100 ci sono?

b. Quanti blocchi piccoli ci sono in tutto?

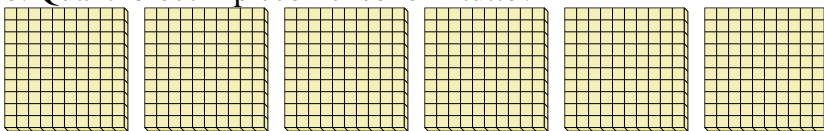


5a. 5

5b. 500

6) a. Quanti gruppi da 100 ci sono?

b. Quanti blocchi piccoli ci sono in tutto?

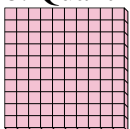


6a. 6

6b. 600

7) a. Quanti gruppi da 100 ci sono?

b. Quanti blocchi piccoli ci sono in tutto?



7a. 1

7b. 100