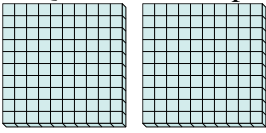


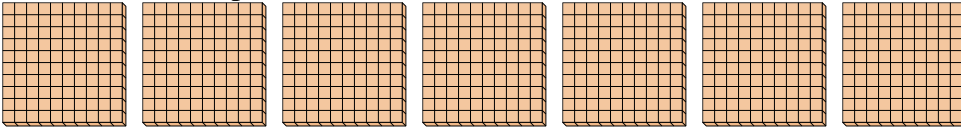


Usa i gruppi per rispondere ad ogni domanda.


- 1) a. Quanti gruppi da 100 ci sono?
- b. Quanti blocchi piccoli ci sono in tutto?



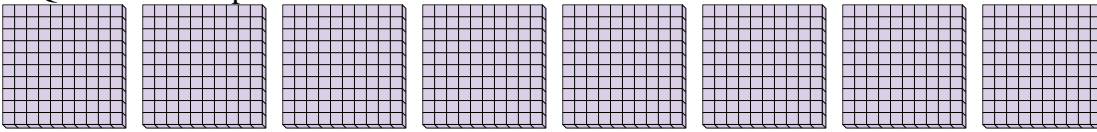
- 2) a. Quanti gruppi da 100 ci sono?
- b. Quanti blocchi piccoli ci sono in tutto?



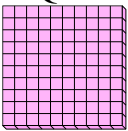
- 3) a. Quanti gruppi da 100 ci sono?
- b. Quanti blocchi piccoli ci sono in tutto?




- 4) a. Quanti gruppi da 100 ci sono?
- b. Quanti blocchi piccoli ci sono in tutto?



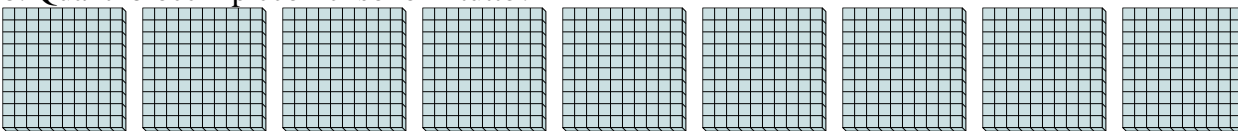
- 5) a. Quanti gruppi da 100 ci sono?
- b. Quanti blocchi piccoli ci sono in tutto?



- 6) a. Quanti gruppi da 100 ci sono?
- b. Quanti blocchi piccoli ci sono in tutto?



- 7) a. Quanti gruppi da 100 ci sono?
- b. Quanti blocchi piccoli ci sono in tutto?



Risposte

1a. _____

1b. _____

2a. _____

2b. _____

3a. _____

3b. _____

4a. _____

4b. _____

5a. _____

5b. _____

6a. _____

6b. _____

7a. _____

7b. _____

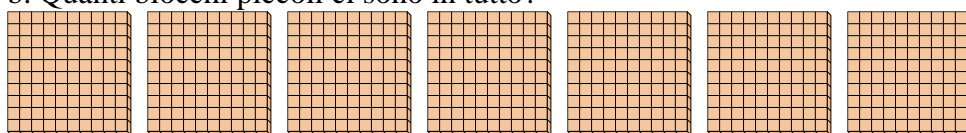


Usa i gruppi per rispondere ad ogni domanda.


- 1) a. Quanti gruppi da 100 ci sono?
b. Quanti blocchi piccoli ci sono in tutto?



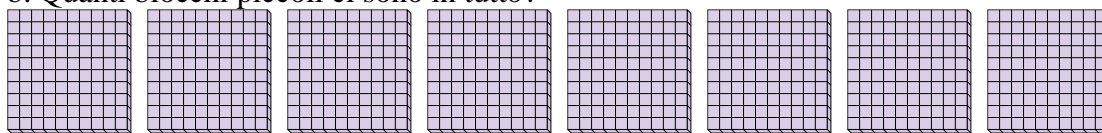
- 2) a. Quanti gruppi da 100 ci sono?
b. Quanti blocchi piccoli ci sono in tutto?




- 3) a. Quanti gruppi da 100 ci sono?
b. Quanti blocchi piccoli ci sono in tutto?



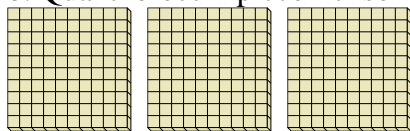
- 4) a. Quanti gruppi da 100 ci sono?
b. Quanti blocchi piccoli ci sono in tutto?




- 5) a. Quanti gruppi da 100 ci sono?
b. Quanti blocchi piccoli ci sono in tutto?



- 6) a. Quanti gruppi da 100 ci sono?
b. Quanti blocchi piccoli ci sono in tutto?



- 7) a. Quanti gruppi da 100 ci sono?
b. Quanti blocchi piccoli ci sono in tutto?



Risposte

1a. 2

1b. 200

2a. 7

2b. 700

3a. 5

3b. 500

4a. 8

4b. 800

5a. 1

5b. 100

6a. 3

6b. 300

7a. 9

7b. 900