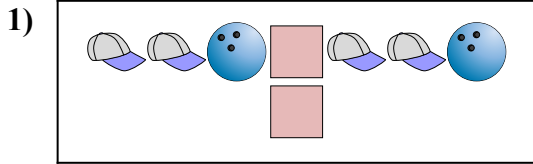





**Confronta il numero delle forme.**



Ci sono più o più ?

A.

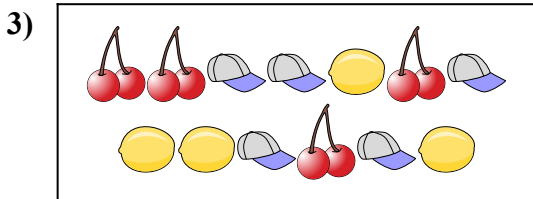
B.



Ci sono più o più ?

A.

B.



Ci sono più o più ?

A.

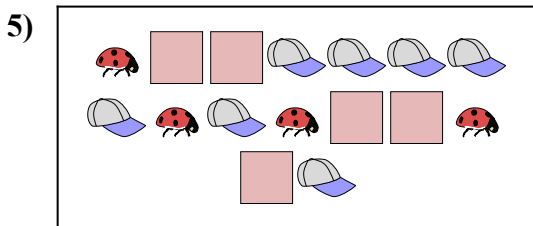
B.



Ci sono meno o meno ?

A.

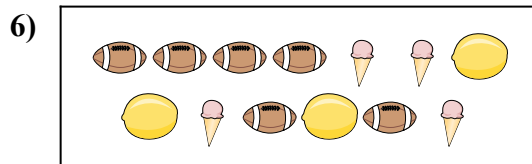
B.



Ci sono più o più ?

A.

B.



Ci sono meno o meno ?

A.

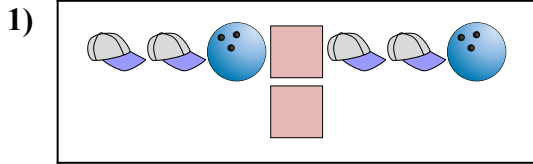
B.

**Risposte**

1. \_\_\_\_\_
2. \_\_\_\_\_
3. \_\_\_\_\_
4. \_\_\_\_\_
5. \_\_\_\_\_
6. \_\_\_\_\_




**Confronta il numero delle forme.**



Ci sono più o più ?

A.

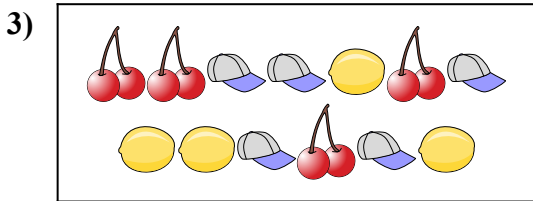
B.



Ci sono più o più ?

A.

B.



Ci sono più o più ?

A.

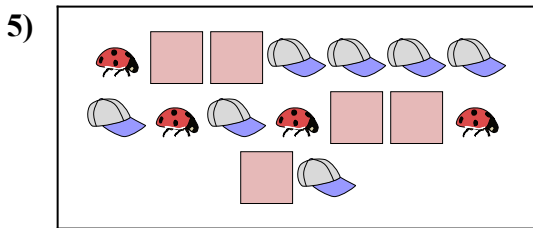
B.



Ci sono meno o meno ?

A.

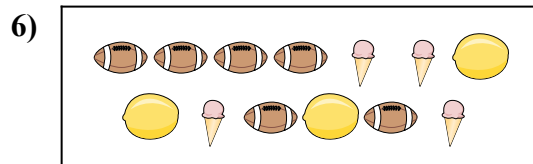
B.



Ci sono più o più ?

A.

B.



Ci sono meno o meno ?

A.

B.

**Risposte**

1.     **A**
2.     **A**
3.     **A**
4.     **B**
5.     **A**
6.     **A**