


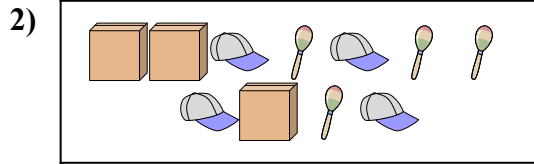


**Confronta il numero delle forme.**




Ci sono più o più ?

- A.
- B.



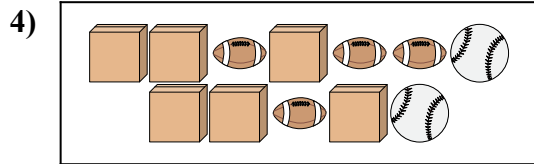
Ci sono meno o meno ?

- A.
- B.



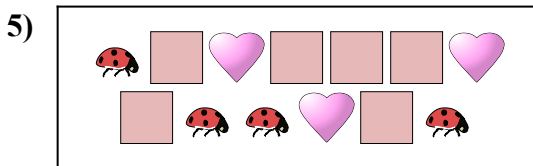
Ci sono meno o meno ?

- A.
- B.




Ci sono più o più ?

- A.
- B.



Ci sono meno o meno ?

- A.
- B.



Ci sono più o più ?


- A.
- B.

**Risposte**

- 1. \_\_\_\_\_
- 2. \_\_\_\_\_
- 3. \_\_\_\_\_
- 4. \_\_\_\_\_
- 5. \_\_\_\_\_
- 6. \_\_\_\_\_



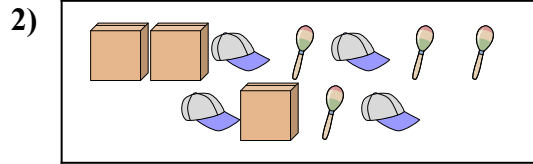
**Confronta il numero delle forme.**



Ci sono più o più ?

A.


B.



Ci sono meno o meno ?

A.

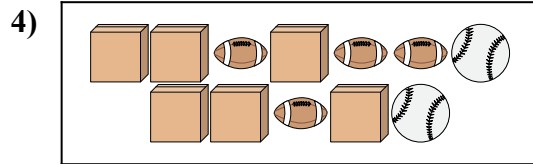
B.



Ci sono meno o meno ?

A.

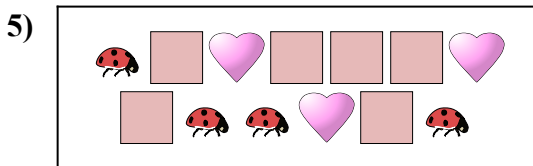
B.



Ci sono più o più ?

A.


B.



Ci sono meno o meno ?

A.

B.



Ci sono più o più ?

A.

B.

**Risposte**

1.     **A**
2.     **A**
3.     **A**
4.     **A**
5.     **A**
6.     **B**