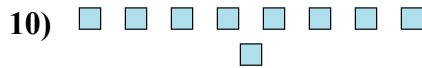
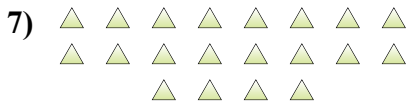




Determina se il numero delle figure all'interno di ogni rettangolo è pari o dispari.



Risposte

- 1. _____
- 2. _____
- 3. _____
- 4. _____
- 5. _____
- 6. _____
- 7. _____
- 8. _____
- 9. _____
- 10. _____



Determina se il numero delle figure all'interno di ogni rettangolo è pari o dispari.



6



6



14



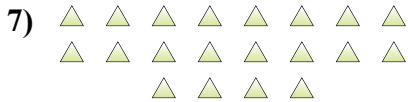
13



14



7



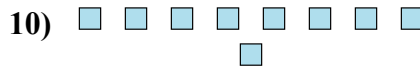
20



6



14



9

Risposte

1. Pari

2. Pari

3. Pari

4. Dispari

5. Pari

6. Dispari

7. Pari

8. Pari

9. Pari

10. Dispari