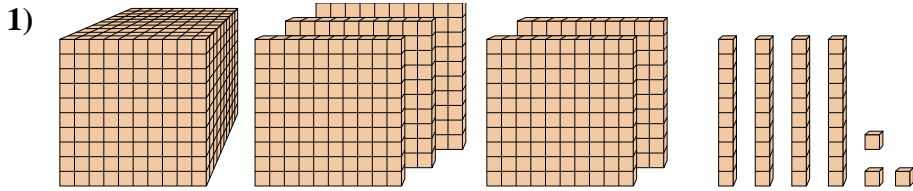
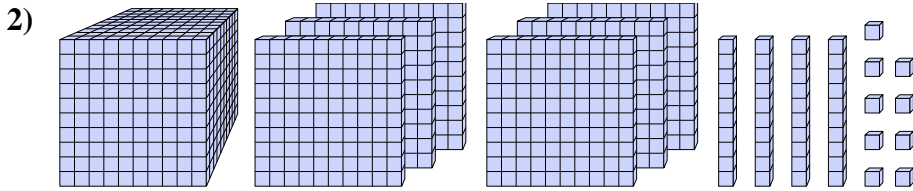




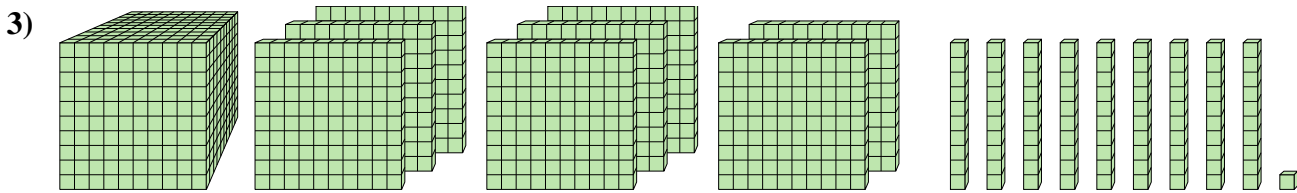
Risolvi ogni problema.



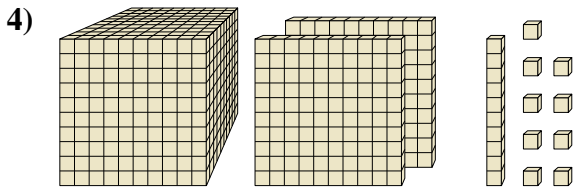
Quale cifra è nella posizione delle migliaia nel numero qui sopra??



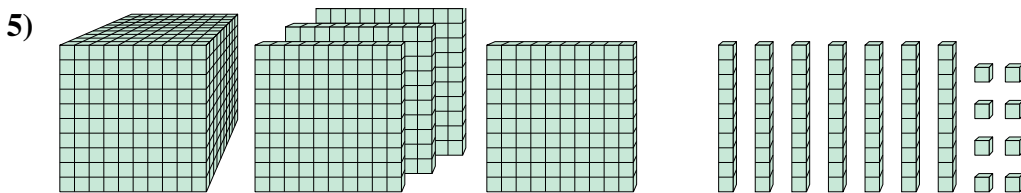
Quale cifra è nella posizione delle decine nel numero qui sopra??



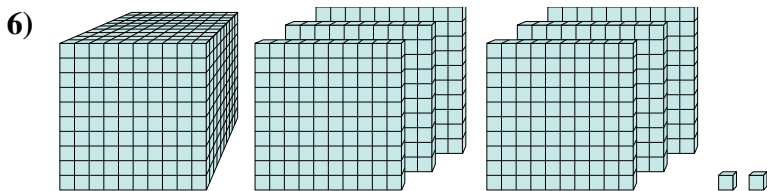
Quale cifra è nella posizione delle decine nel numero qui sopra??



Quale cifra è nella posizione delle decine nel numero qui sopra??



Quale cifra è nella posizione delle centinaia nel numero qui sopra??



Quale cifra è nella posizione delle unità nel numero qui sopra??

**Risposte**

1. \_\_\_\_\_

2. \_\_\_\_\_

3. \_\_\_\_\_

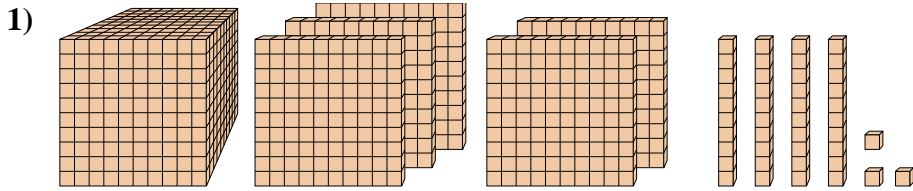
4. \_\_\_\_\_

5. \_\_\_\_\_

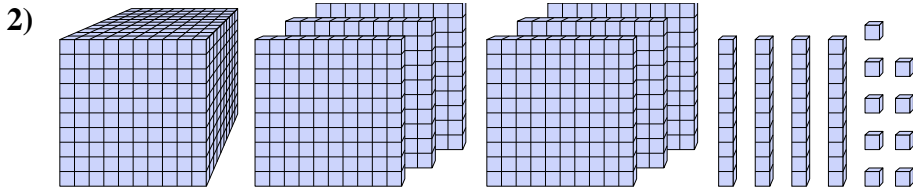
6. \_\_\_\_\_



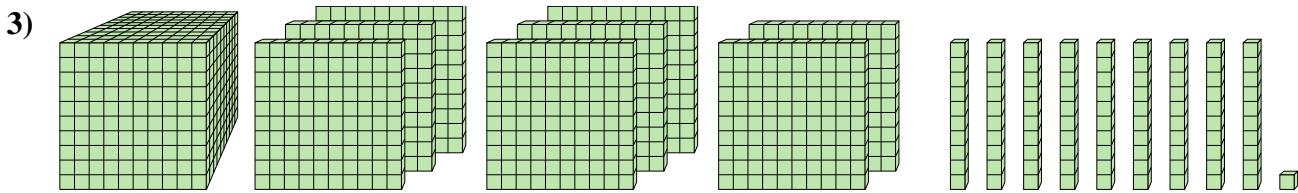
Risolvi ogni problema.



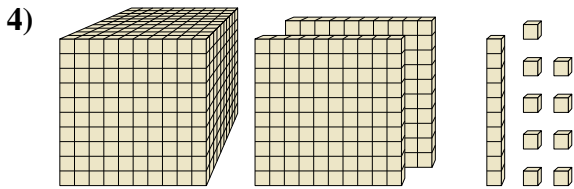
Quale cifra è nella posizione delle migliaia nel numero qui sopra??



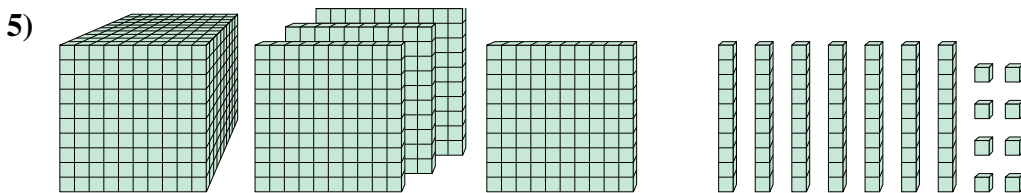
Quale cifra è nella posizione delle decine nel numero qui sopra??



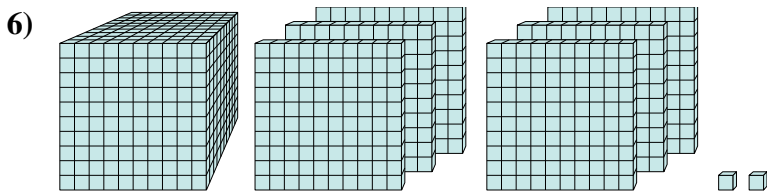
Quale cifra è nella posizione delle decine nel numero qui sopra??



Quale cifra è nella posizione delle decine nel numero qui sopra??



Quale cifra è nella posizione delle centinaia nel numero qui sopra??



Quale cifra è nella posizione delle unità nel numero qui sopra??

**Risposte**

1. 1

2. 4

3. 9

4. 1

5. 4

6. 2