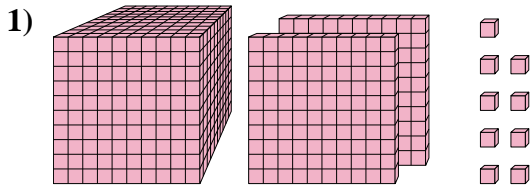
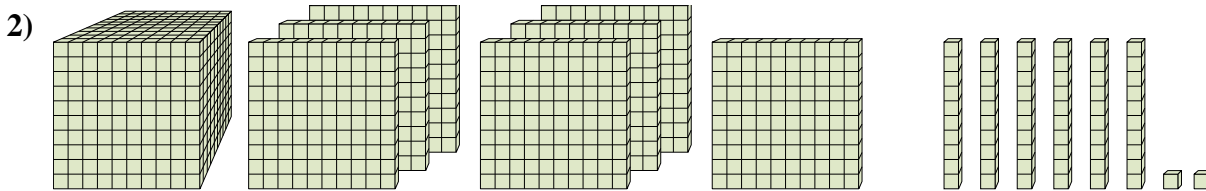




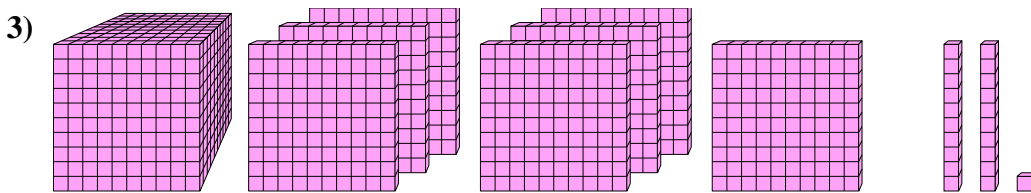
Risolvi ogni problema.



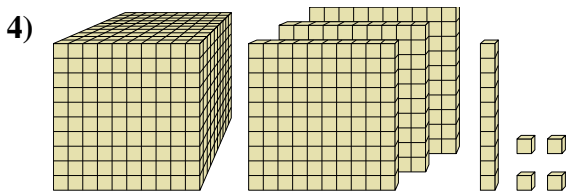
Quale cifra è nella posizione delle unità nel numero qui sopra?



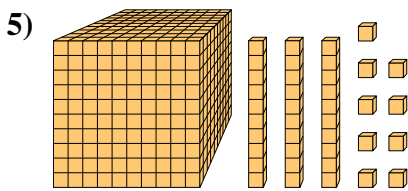
Quale cifra è nella posizione delle migliaia nel numero qui sopra?



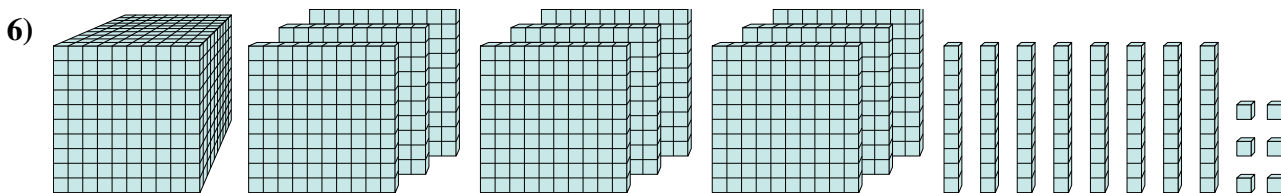
Quale cifra è nella posizione delle unità nel numero qui sopra?



Quale cifra è nella posizione delle decine nel numero qui sopra?



Quale cifra è nella posizione delle centinaia nel numero qui sopra?



Quale cifra è nella posizione delle decine nel numero qui sopra?

**Risposte**

1. \_\_\_\_\_

2. \_\_\_\_\_

3. \_\_\_\_\_

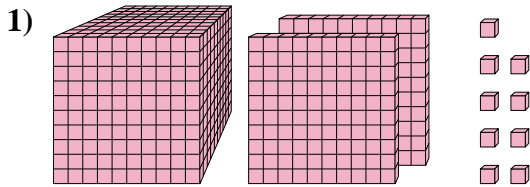
4. \_\_\_\_\_

5. \_\_\_\_\_

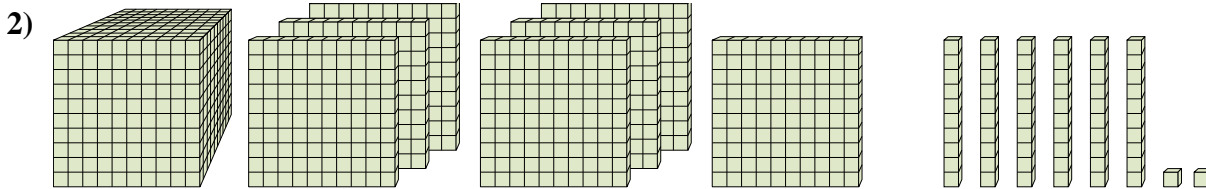
6. \_\_\_\_\_



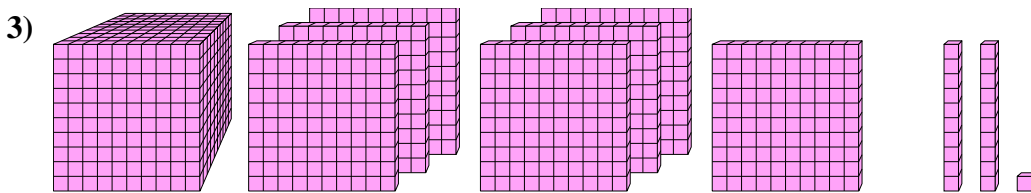
Risolvi ogni problema.



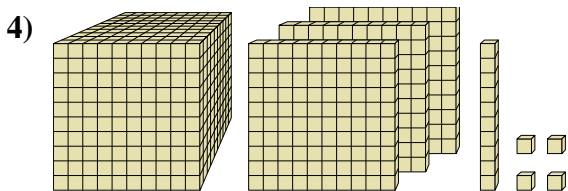
Quale cifra è nella posizione delle unità nel numero qui sopra?



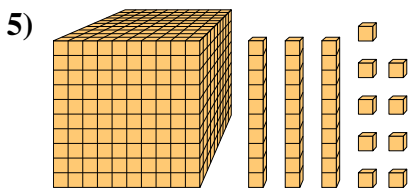
Quale cifra è nella posizione delle migliaia nel numero qui sopra?



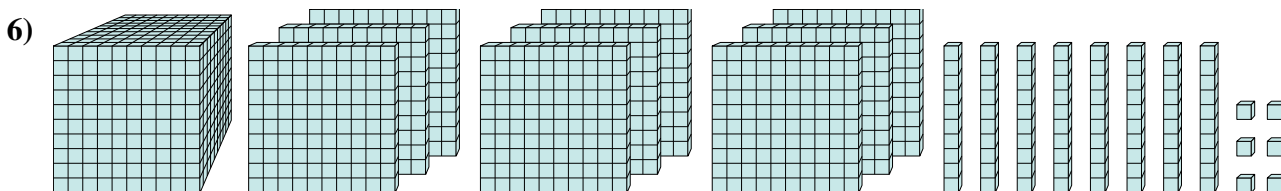
Quale cifra è nella posizione delle unità nel numero qui sopra?



Quale cifra è nella posizione delle decine nel numero qui sopra?



Quale cifra è nella posizione delle centinaia nel numero qui sopra?



Quale cifra è nella posizione delle decine nel numero qui sopra?

**Risposte**

1. 9

2. 1

3. 1

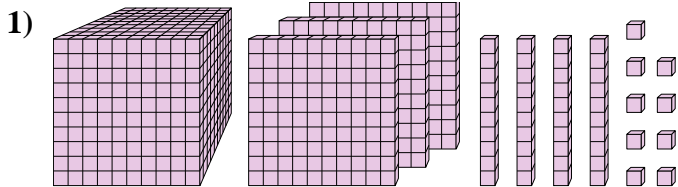
4. 1

5. 0

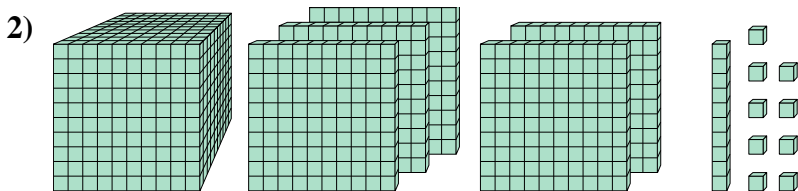
6. 8



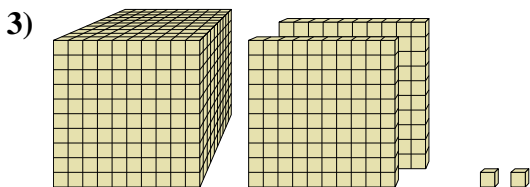
Risolvi ogni problema.



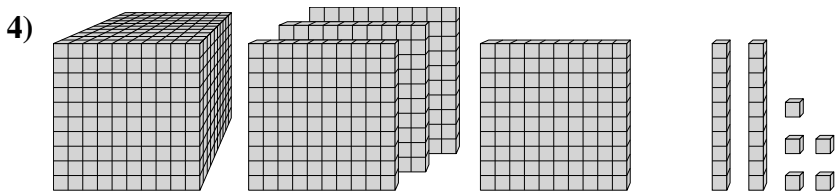
Quale cifra è nella posizione delle migliaia nel numero qui sopra?



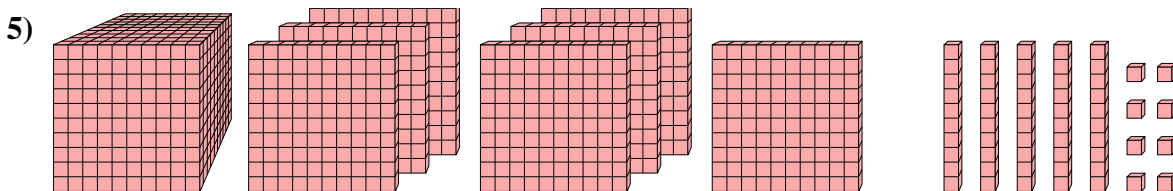
Quale cifra è nella posizione delle migliaia nel numero qui sopra?



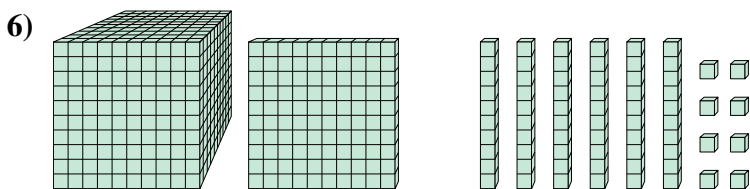
Quale cifra è nella posizione delle decine nel numero qui sopra?



Quale cifra è nella posizione delle unità nel numero qui sopra?



Quale cifra è nella posizione delle centinaia nel numero qui sopra?



Quale cifra è nella posizione delle centinaia nel numero qui sopra?

**Risposte**

1. \_\_\_\_\_

2. \_\_\_\_\_

3. \_\_\_\_\_

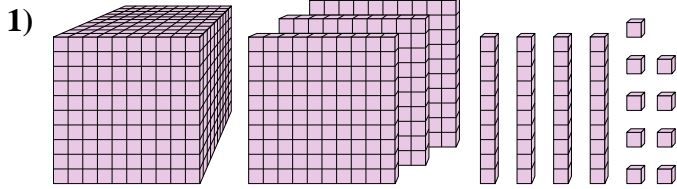
4. \_\_\_\_\_

5. \_\_\_\_\_

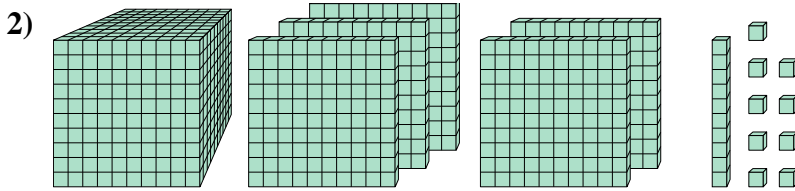
6. \_\_\_\_\_



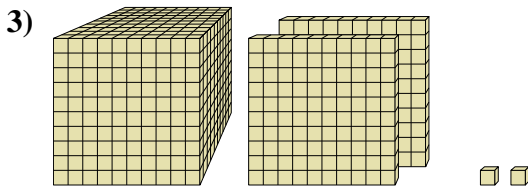
Risolvi ogni problema.



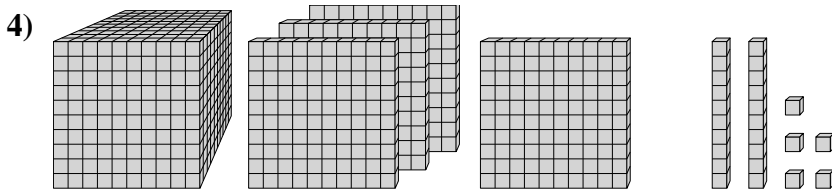
Quale cifra è nella posizione delle migliaia nel numero qui sopra?



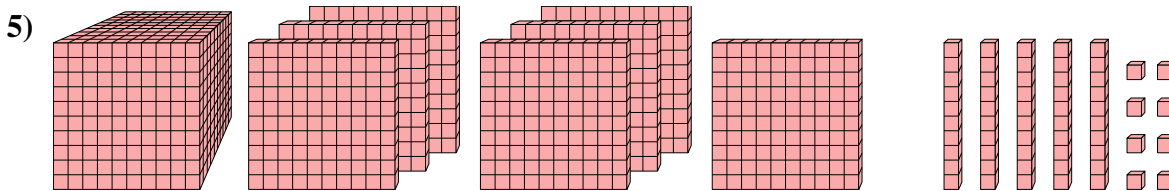
Quale cifra è nella posizione delle migliaia nel numero qui sopra?



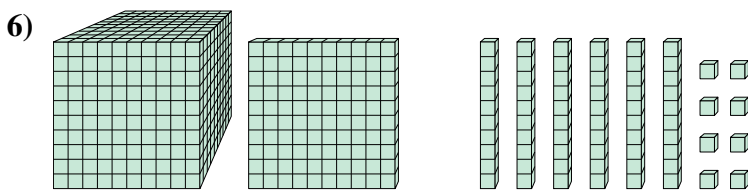
Quale cifra è nella posizione delle decine nel numero qui sopra?



Quale cifra è nella posizione delle unità nel numero qui sopra?



Quale cifra è nella posizione delle centinaia nel numero qui sopra?



Quale cifra è nella posizione delle centinaia nel numero qui sopra?

**Risposte**

1. 1

2. 1

3. 0

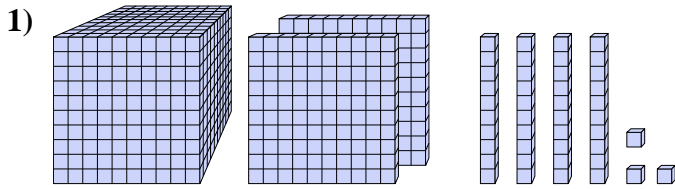
4. 5

5. 7

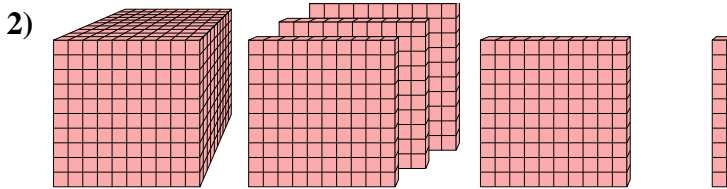
6. 1



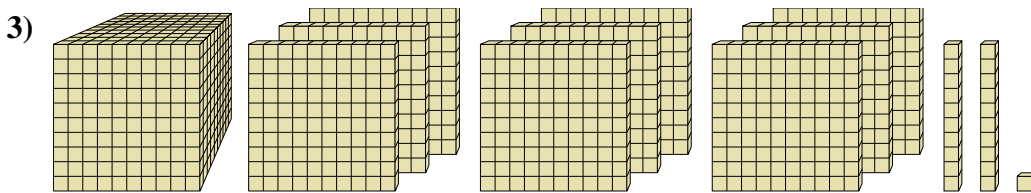
Risolvi ogni problema.



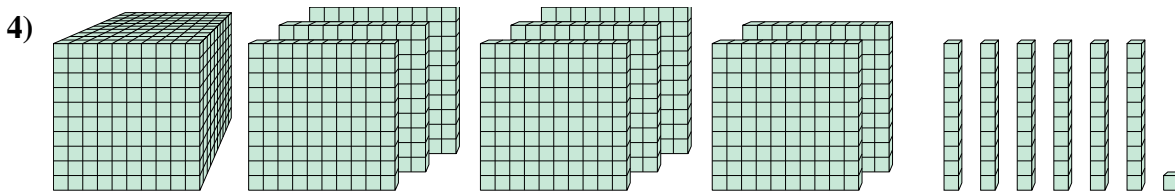
Quale cifra è nella posizione delle migliaia nel numero qui sopra?



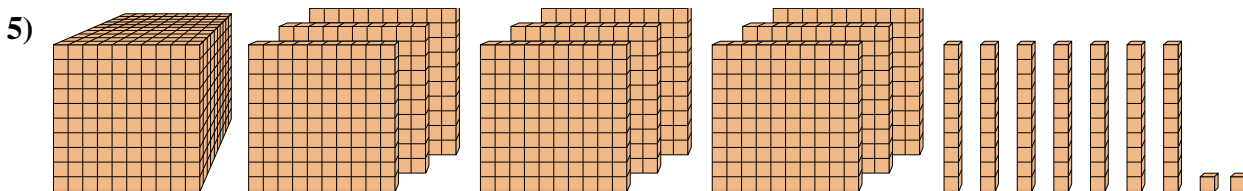
Quale cifra è nella posizione delle decine nel numero qui sopra?



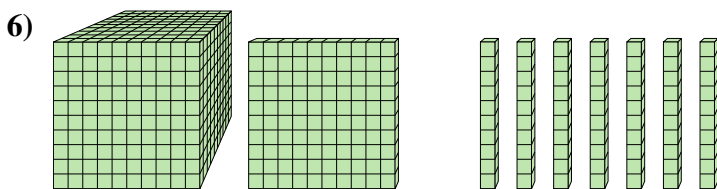
Quale cifra è nella posizione delle unità nel numero qui sopra?



Quale cifra è nella posizione delle centinaia nel numero qui sopra?



Quale cifra è nella posizione delle centinaia nel numero qui sopra?



Quale cifra è nella posizione delle migliaia nel numero qui sopra?

**Risposte**

1. \_\_\_\_\_

2. \_\_\_\_\_

3. \_\_\_\_\_

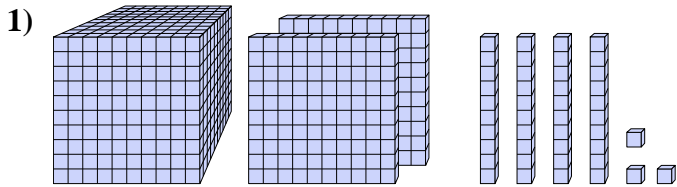
4. \_\_\_\_\_

5. \_\_\_\_\_

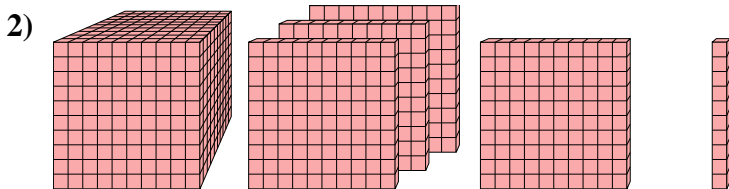
6. \_\_\_\_\_



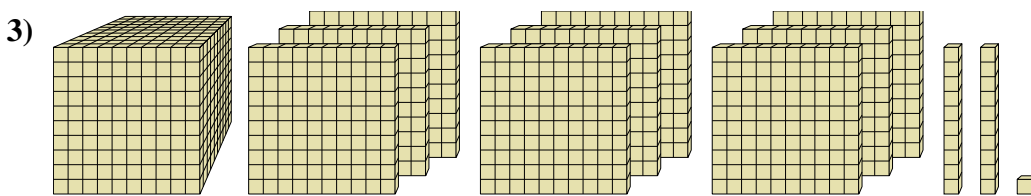
Risolvi ogni problema.



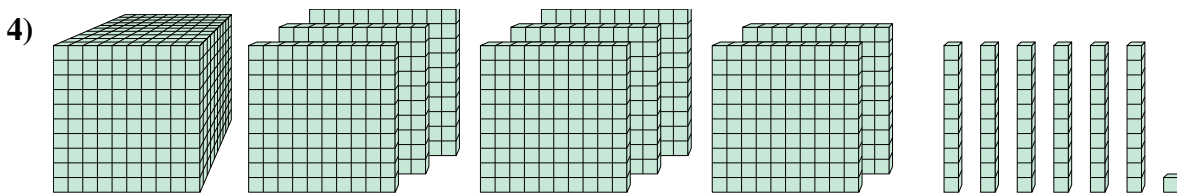
Quale cifra è nella posizione delle migliaia nel numero qui sopra?



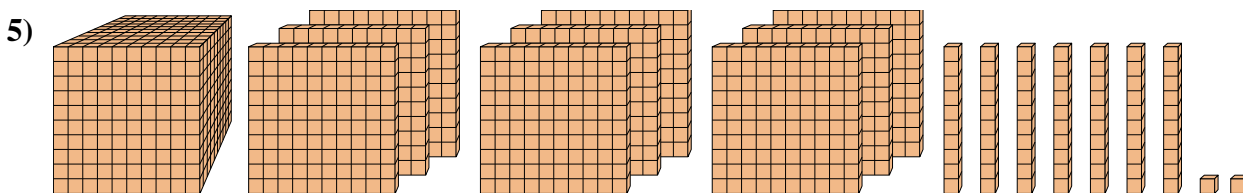
Quale cifra è nella posizione delle decine nel numero qui sopra?



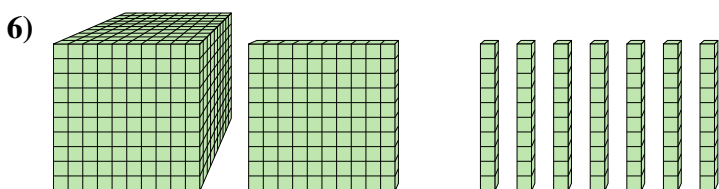
Quale cifra è nella posizione delle unità nel numero qui sopra?



Quale cifra è nella posizione delle centinaia nel numero qui sopra?



Quale cifra è nella posizione delle centinaia nel numero qui sopra?



Quale cifra è nella posizione delle migliaia nel numero qui sopra?

**Risposte**

1. 1

2. 1

3. 1

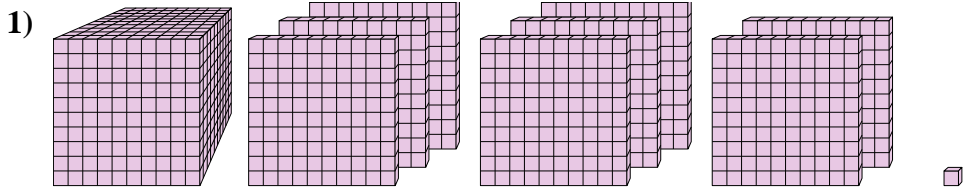
4. 8

5. 9

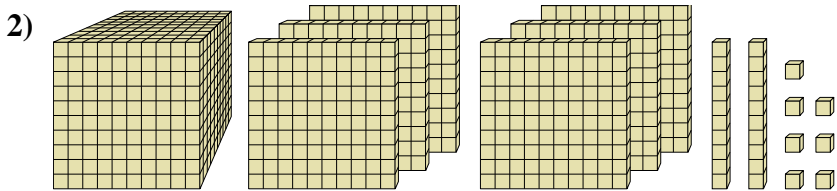
6. 1



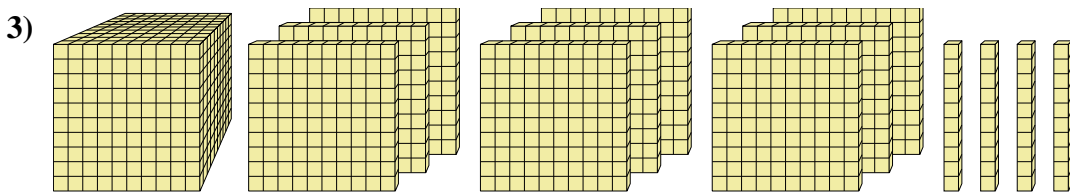
Risolvi ogni problema.



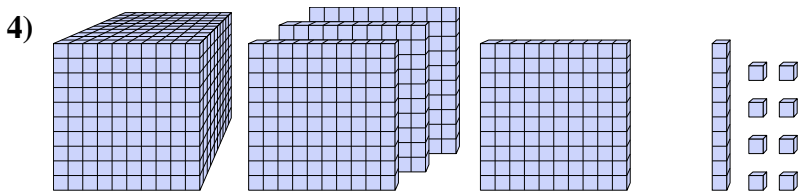
Quale cifra è nella posizione delle decine nel numero qui sopra?



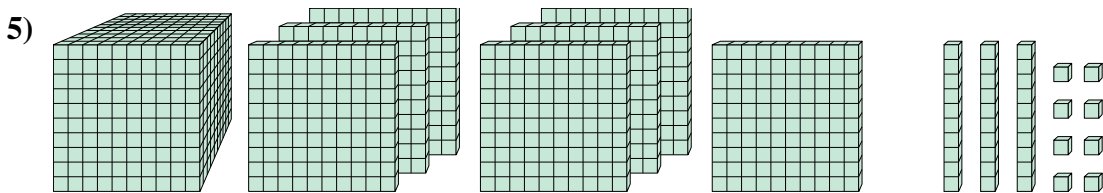
Quale cifra è nella posizione delle migliaia nel numero qui sopra?



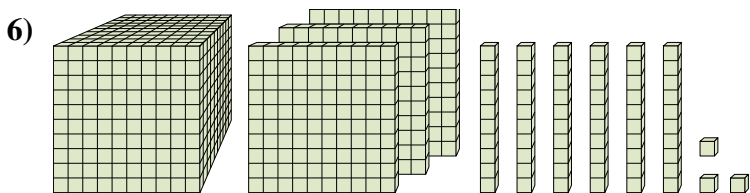
Quale cifra è nella posizione delle unità nel numero qui sopra?



Quale cifra è nella posizione delle migliaia nel numero qui sopra?



Quale cifra è nella posizione delle centinaia nel numero qui sopra?



Quale cifra è nella posizione delle centinaia nel numero qui sopra?

**Risposte**

1. \_\_\_\_\_

2. \_\_\_\_\_

3. \_\_\_\_\_

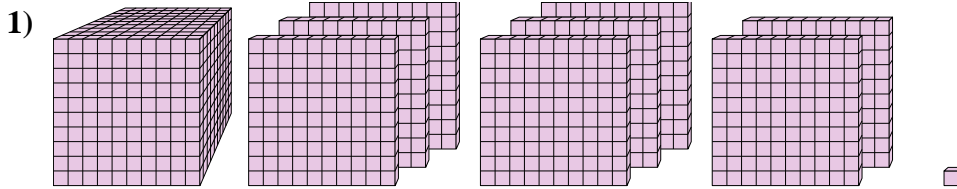
4. \_\_\_\_\_

5. \_\_\_\_\_

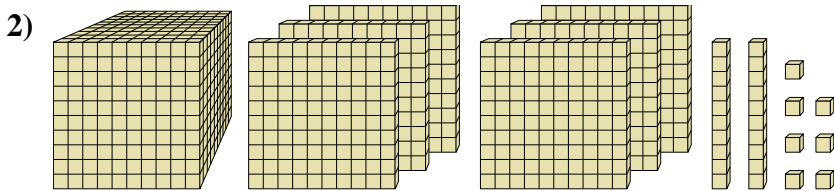
6. \_\_\_\_\_



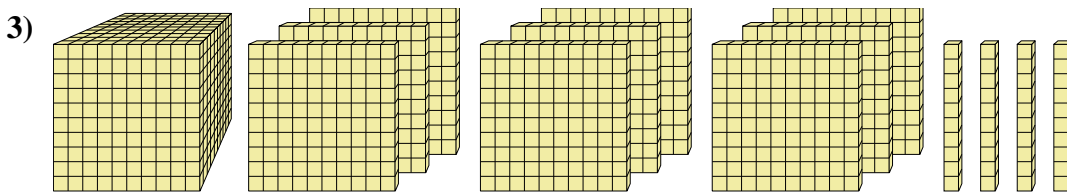
Risolvi ogni problema.



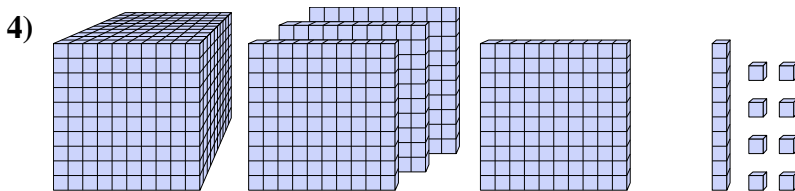
Quale cifra è nella posizione delle decine nel numero qui sopra?



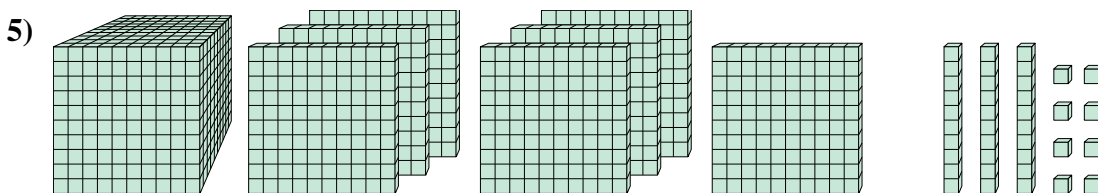
Quale cifra è nella posizione delle migliaia nel numero qui sopra?



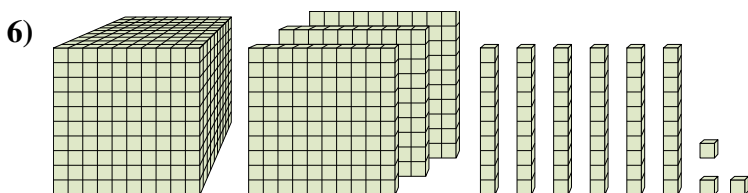
Quale cifra è nella posizione delle unità nel numero qui sopra?



Quale cifra è nella posizione delle migliaia nel numero qui sopra?



Quale cifra è nella posizione delle centinaia nel numero qui sopra?



Quale cifra è nella posizione delle centinaia nel numero qui sopra?

**Risposte**

1. 0

2. 1

3. 0

4. 1

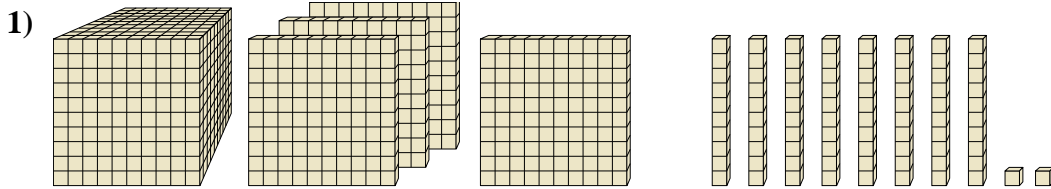
5. 7

6. 3

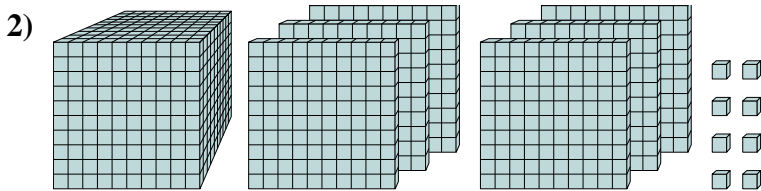




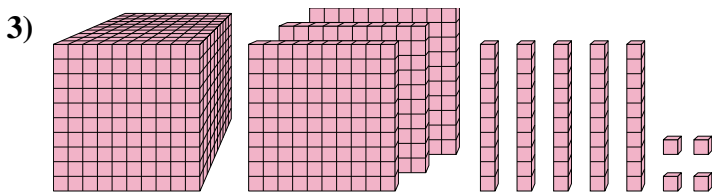
Risolvi ogni problema.



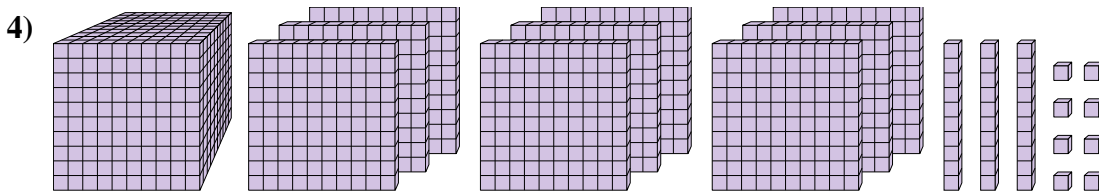
Quale cifra è nella posizione delle migliaia nel numero qui sopra?



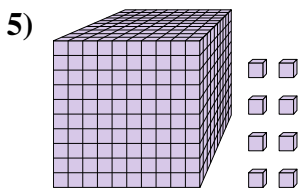
Quale cifra è nella posizione delle migliaia nel numero qui sopra?



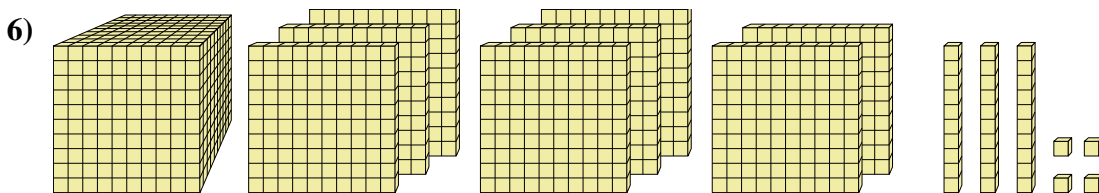
Quale cifra è nella posizione delle decine nel numero qui sopra?



Quale cifra è nella posizione delle centinaia nel numero qui sopra?



Quale cifra è nella posizione delle unità nel numero qui sopra?



Quale cifra è nella posizione delle centinaia nel numero qui sopra?

**Risposte**

1. \_\_\_\_\_

2. \_\_\_\_\_

3. \_\_\_\_\_

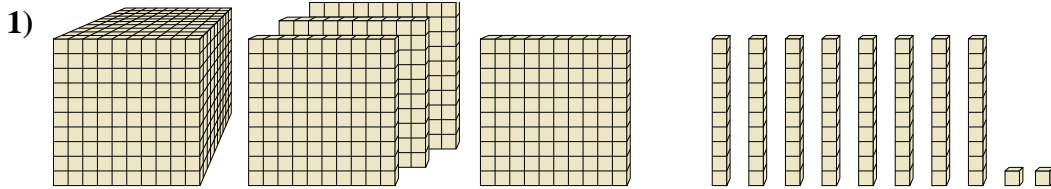
4. \_\_\_\_\_

5. \_\_\_\_\_

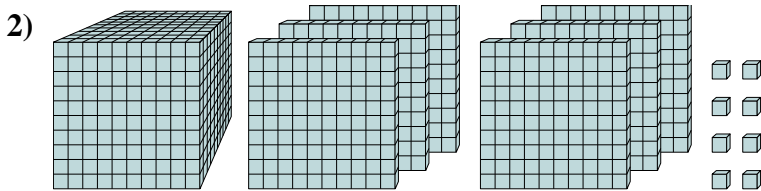
6. \_\_\_\_\_



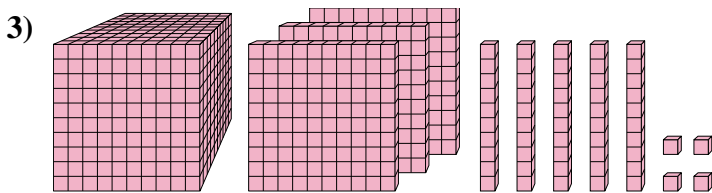
Risolvi ogni problema.



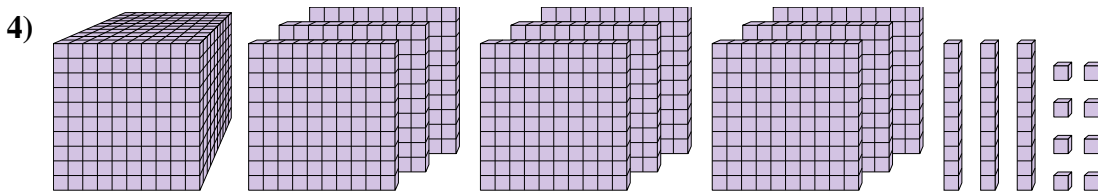
Quale cifra è nella posizione delle migliaia nel numero qui sopra?



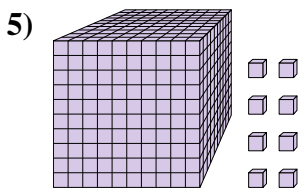
Quale cifra è nella posizione delle migliaia nel numero qui sopra?



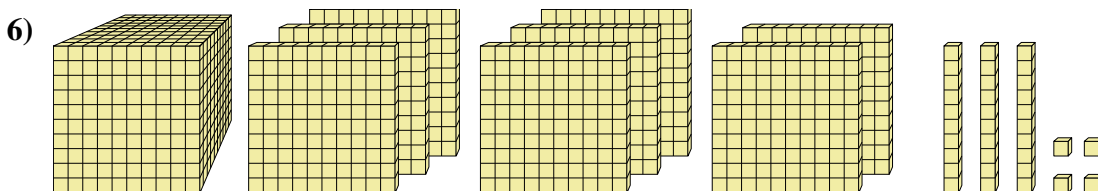
Quale cifra è nella posizione delle decine nel numero qui sopra?



Quale cifra è nella posizione delle centinaia nel numero qui sopra?



Quale cifra è nella posizione delle unità nel numero qui sopra?



Quale cifra è nella posizione delle centinaia nel numero qui sopra?

**Risposte**

1. 1

2. 1

3. 5

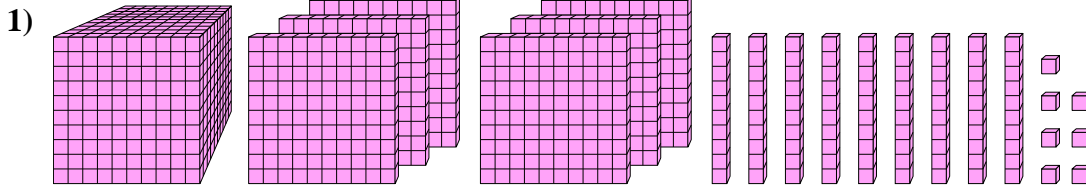
4. 9

5. 8

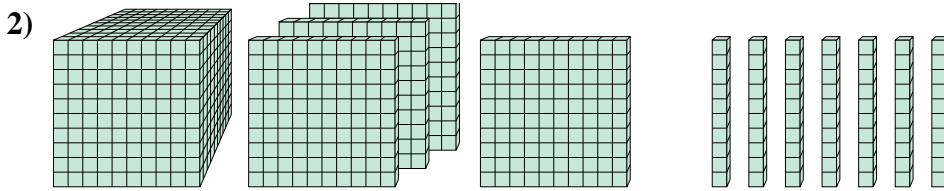
6. 8



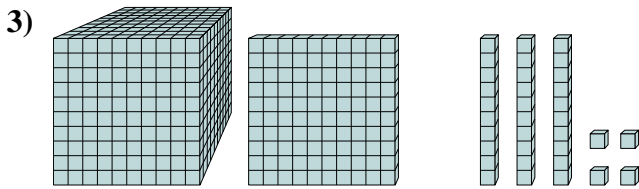
Risolvi ogni problema.



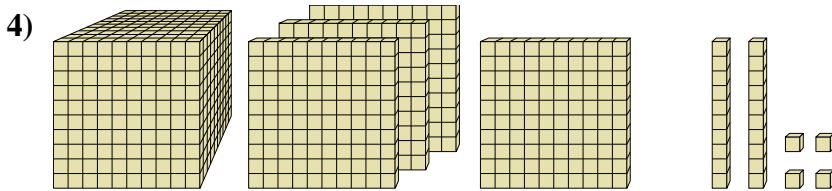
Quale cifra è nella posizione delle unità nel numero qui sopra?



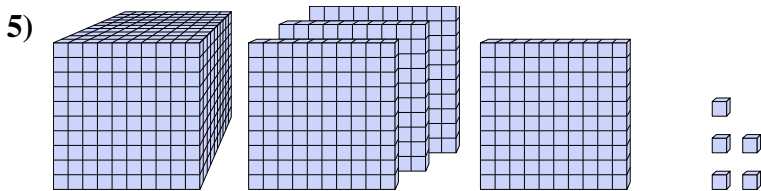
Quale cifra è nella posizione delle decine nel numero qui sopra?



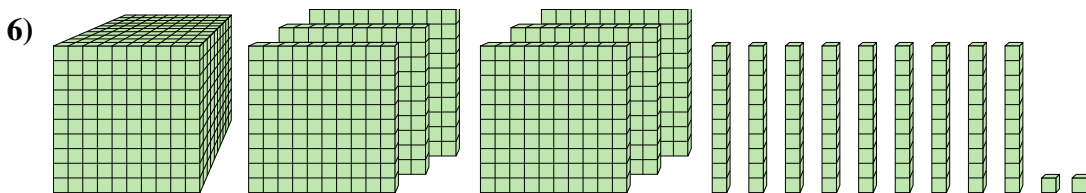
Quale cifra è nella posizione delle migliaia nel numero qui sopra?



Quale cifra è nella posizione delle centinaia nel numero qui sopra?



Quale cifra è nella posizione delle decine nel numero qui sopra?



Quale cifra è nella posizione delle centinaia nel numero qui sopra?

**Risposte**

1. \_\_\_\_\_

2. \_\_\_\_\_

3. \_\_\_\_\_

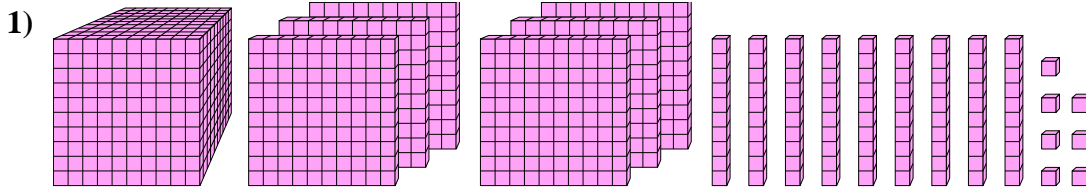
4. \_\_\_\_\_

5. \_\_\_\_\_

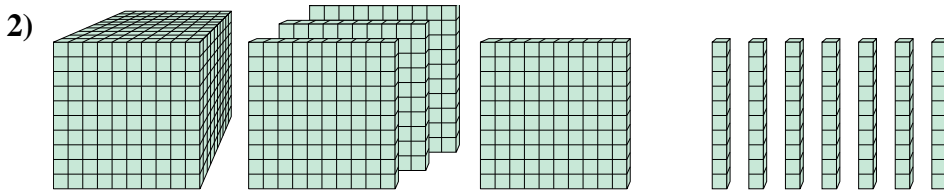
6. \_\_\_\_\_



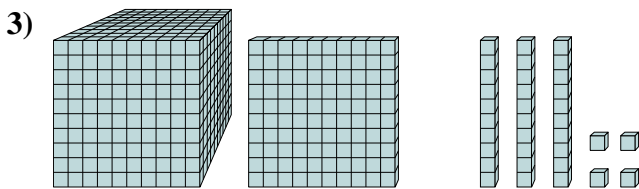
Risolvi ogni problema.



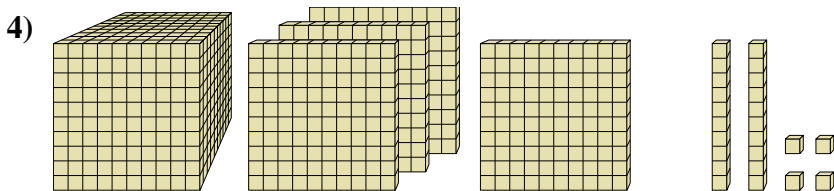
Quale cifra è nella posizione delle unità nel numero qui sopra?



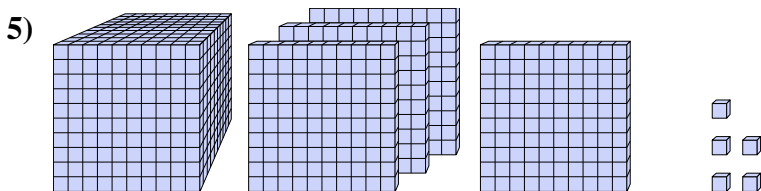
Quale cifra è nella posizione delle decine nel numero qui sopra?



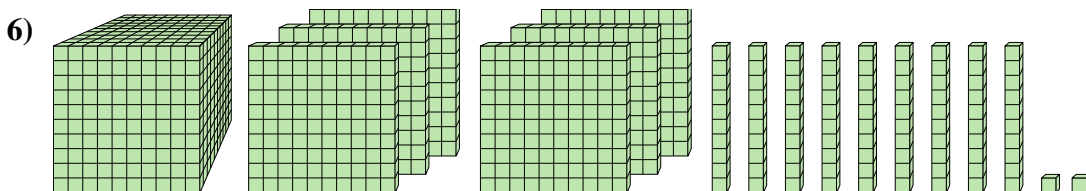
Quale cifra è nella posizione delle migliaia nel numero qui sopra?



Quale cifra è nella posizione delle centinaia nel numero qui sopra?



Quale cifra è nella posizione delle decine nel numero qui sopra?



Quale cifra è nella posizione delle centinaia nel numero qui sopra?

**Risposte**

1. 7

2. 7

3. 1

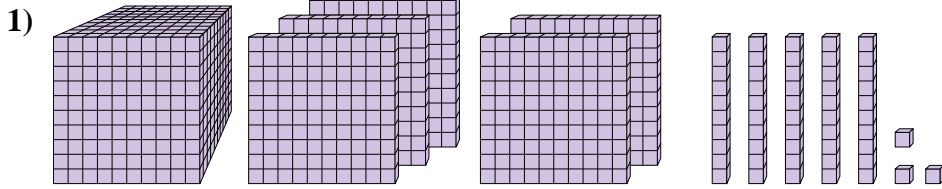
4. 4

5. 0

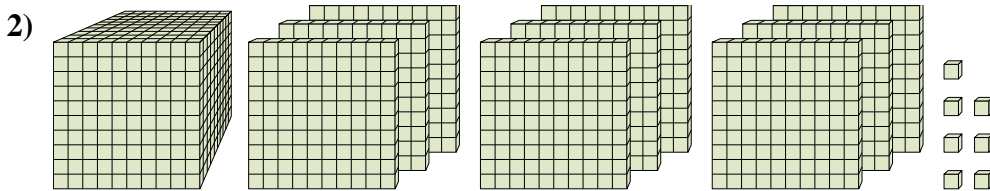
6. 6



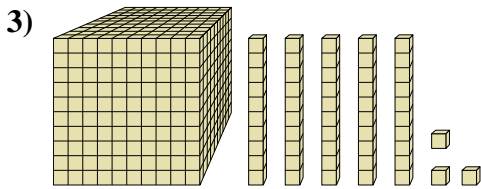
Risolvi ogni problema.



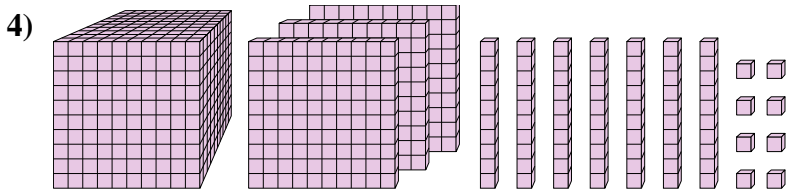
Quale cifra è nella posizione delle centinaia nel numero qui sopra?



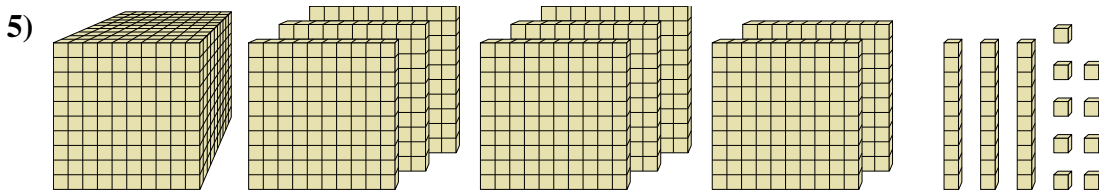
Quale cifra è nella posizione delle migliaia nel numero qui sopra?



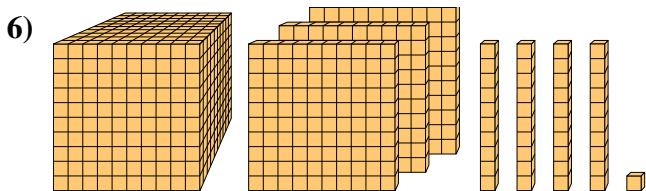
Quale cifra è nella posizione delle migliaia nel numero qui sopra?



Quale cifra è nella posizione delle decine nel numero qui sopra?



Quale cifra è nella posizione delle migliaia nel numero qui sopra?



Quale cifra è nella posizione delle unità nel numero qui sopra?

**Risposte**

1. \_\_\_\_\_

2. \_\_\_\_\_

3. \_\_\_\_\_

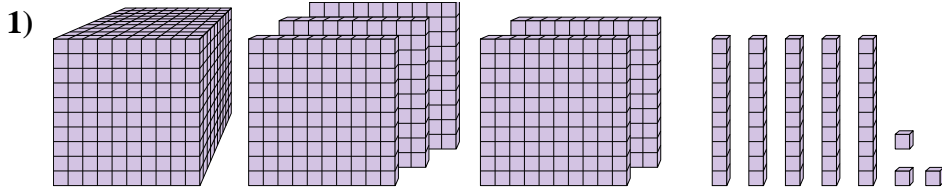
4. \_\_\_\_\_

5. \_\_\_\_\_

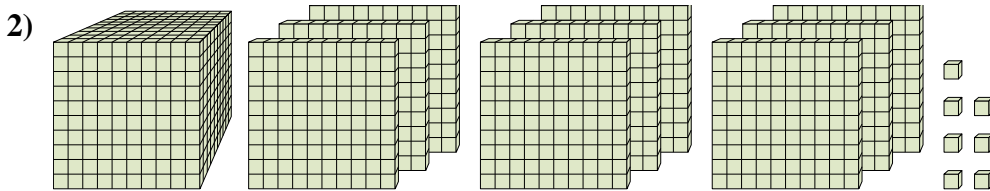
6. \_\_\_\_\_



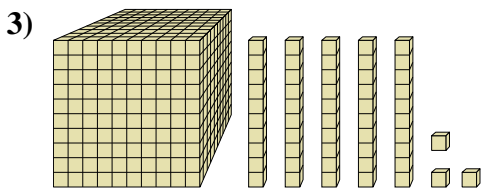
Risolvi ogni problema.



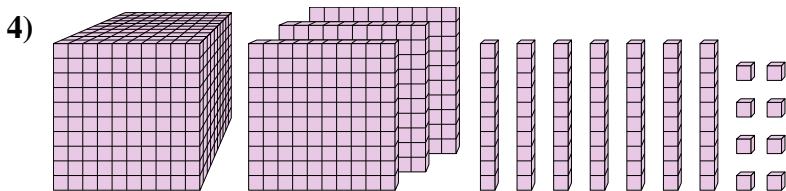
Quale cifra è nella posizione delle centinaia nel numero qui sopra?



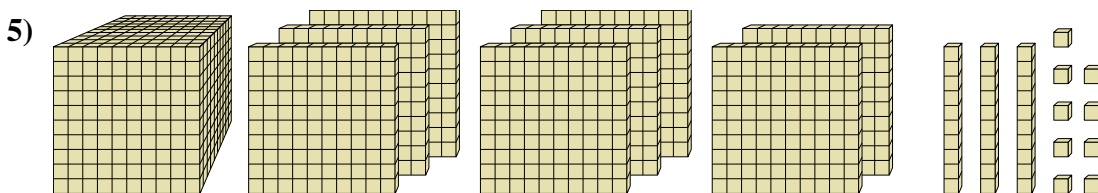
Quale cifra è nella posizione delle migliaia nel numero qui sopra?



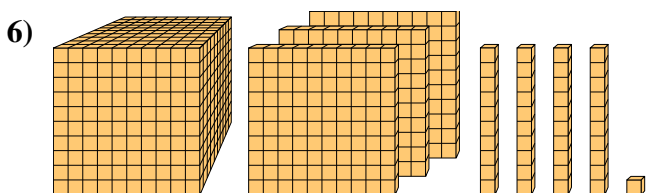
Quale cifra è nella posizione delle migliaia nel numero qui sopra?



Quale cifra è nella posizione delle decine nel numero qui sopra?



Quale cifra è nella posizione delle migliaia nel numero qui sopra?



Quale cifra è nella posizione delle unità nel numero qui sopra?

**Risposte**

1. 5

2. 1

3. 1

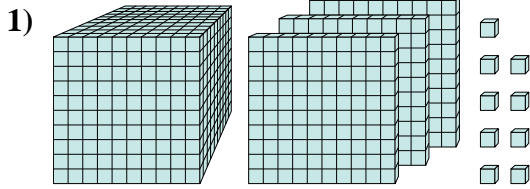
4. 7

5. 1

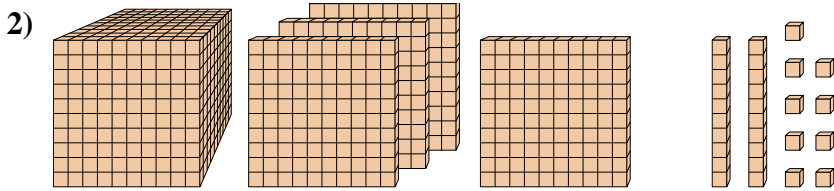
6. 1



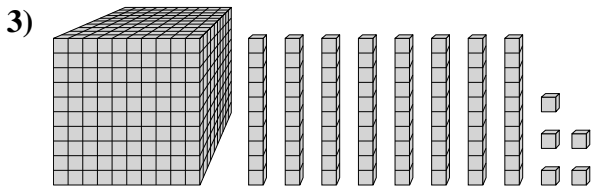
Risolvi ogni problema.



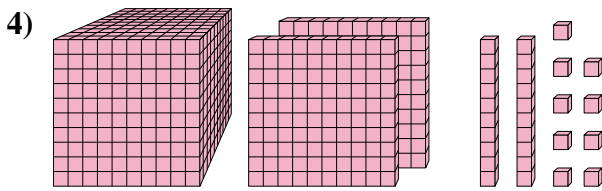
Quale cifra è nella posizione delle centinaia nel numero qui sopra?



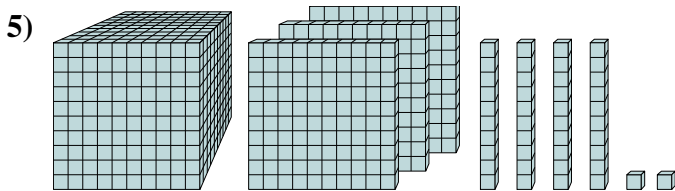
Quale cifra è nella posizione delle migliaia nel numero qui sopra?



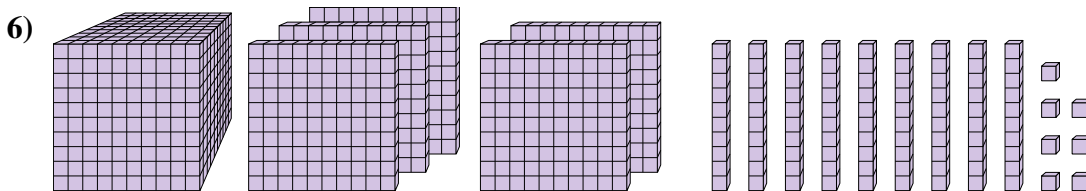
Quale cifra è nella posizione delle decine nel numero qui sopra?



Quale cifra è nella posizione delle unità nel numero qui sopra?



Quale cifra è nella posizione delle decine nel numero qui sopra?



Quale cifra è nella posizione delle unità nel numero qui sopra?

**Risposte**

1. \_\_\_\_\_

2. \_\_\_\_\_

3. \_\_\_\_\_

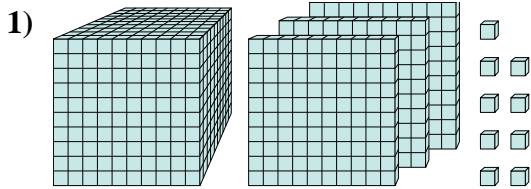
4. \_\_\_\_\_

5. \_\_\_\_\_

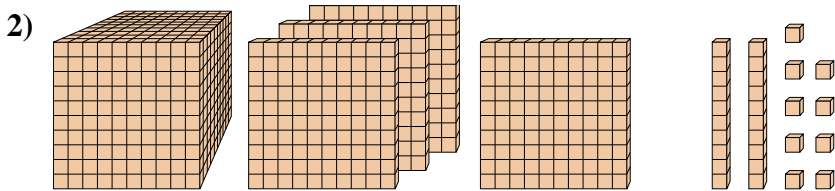
6. \_\_\_\_\_



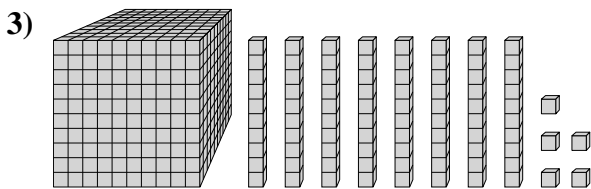
Risolvi ogni problema.



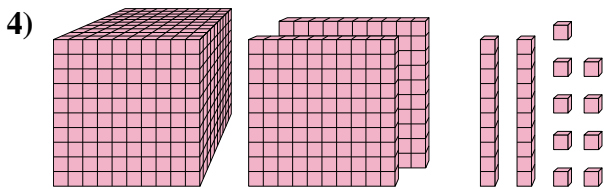
Quale cifra è nella posizione delle centinaia nel numero qui sopra?



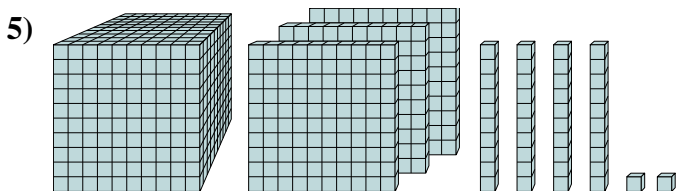
Quale cifra è nella posizione delle migliaia nel numero qui sopra?



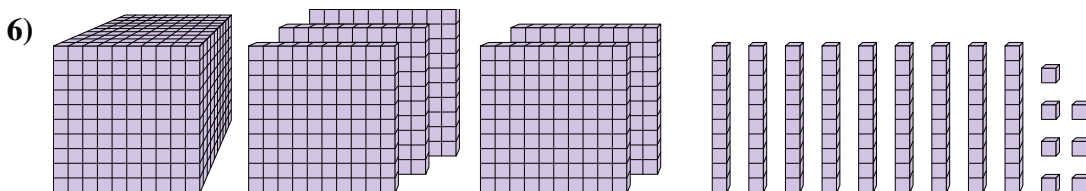
Quale cifra è nella posizione delle decine nel numero qui sopra?



Quale cifra è nella posizione delle unità nel numero qui sopra?



Quale cifra è nella posizione delle decine nel numero qui sopra?



Quale cifra è nella posizione delle unità nel numero qui sopra?

**Risposte**

1. 3

2. 1

3. 8

4. 9

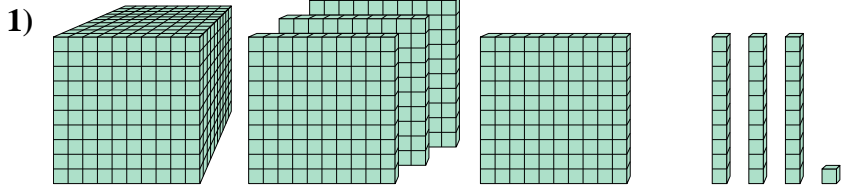
5. 4

6. 7

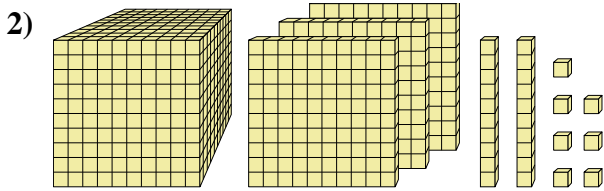




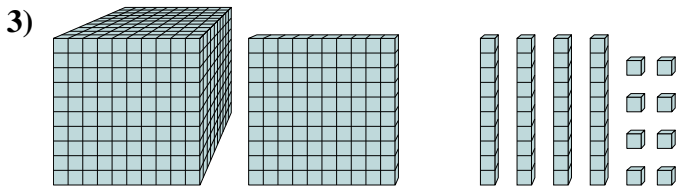
Risolvi ogni problema.



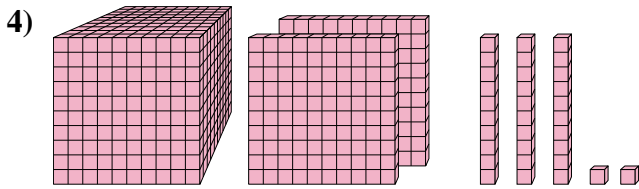
Quale cifra è nella posizione delle centinaia nel numero qui sopra?



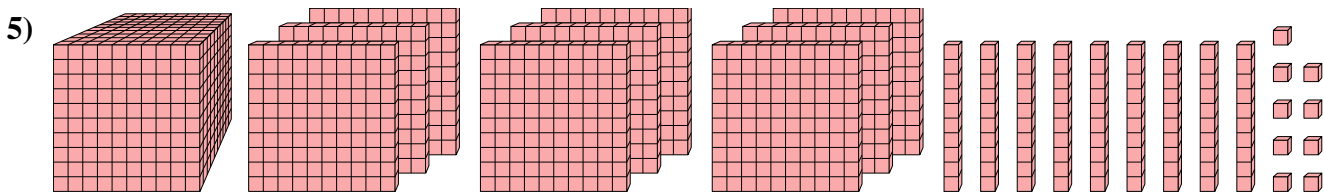
Quale cifra è nella posizione delle decine nel numero qui sopra?



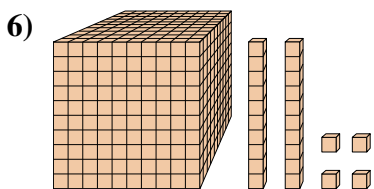
Quale cifra è nella posizione delle centinaia nel numero qui sopra?



Quale cifra è nella posizione delle decine nel numero qui sopra?



Quale cifra è nella posizione delle migliaia nel numero qui sopra?



Quale cifra è nella posizione delle unità nel numero qui sopra?

**Risposte**

1. \_\_\_\_\_

2. \_\_\_\_\_

3. \_\_\_\_\_

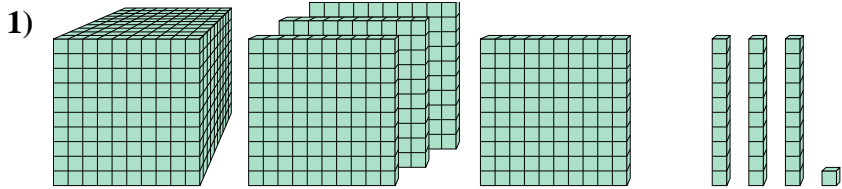
4. \_\_\_\_\_

5. \_\_\_\_\_

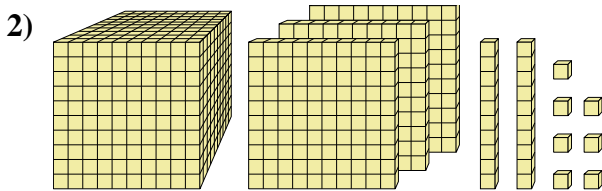
6. \_\_\_\_\_



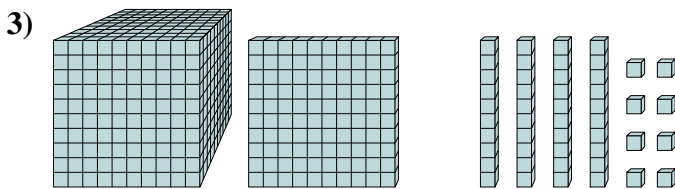
Risolvi ogni problema.



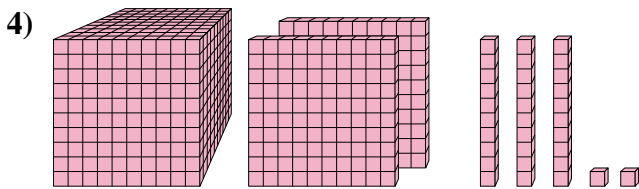
Quale cifra è nella posizione delle centinaia nel numero qui sopra?



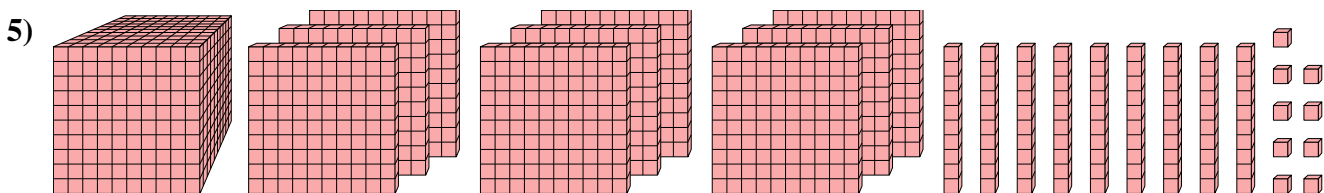
Quale cifra è nella posizione delle decine nel numero qui sopra?



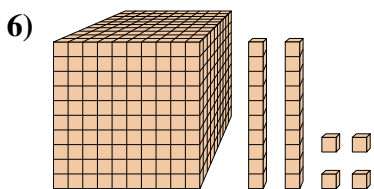
Quale cifra è nella posizione delle centinaia nel numero qui sopra?



Quale cifra è nella posizione delle decine nel numero qui sopra?



Quale cifra è nella posizione delle migliaia nel numero qui sopra?



Quale cifra è nella posizione delle unità nel numero qui sopra?

**Risposte**

1. 4

2. 2

3. 1

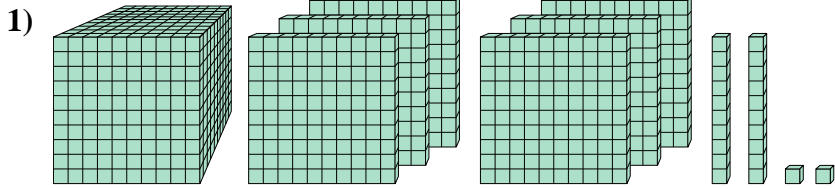
4. 3

5. 1

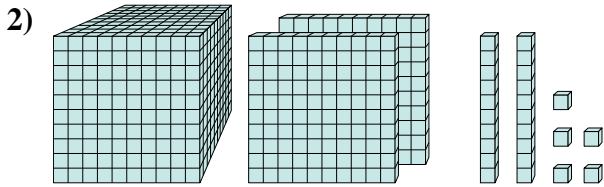
6. 4



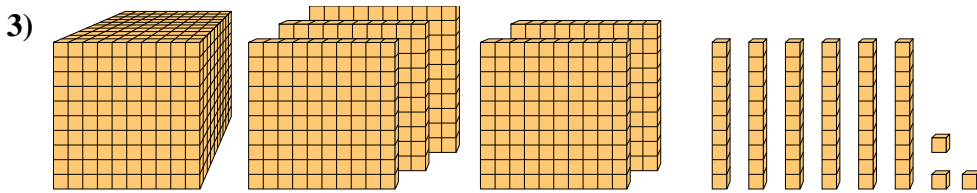
Risolvi ogni problema.



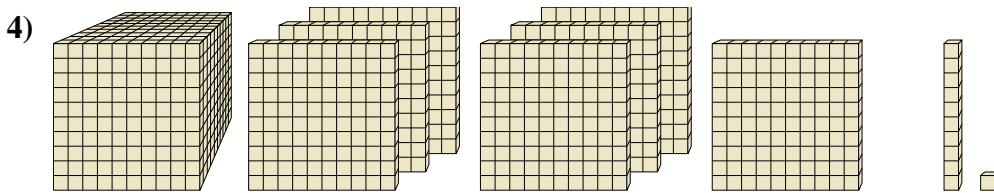
Quale cifra è nella posizione delle centinaia nel numero qui sopra?



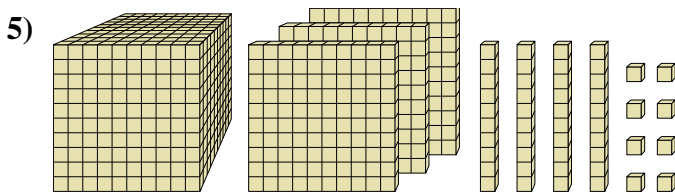
Quale cifra è nella posizione delle decine nel numero qui sopra?



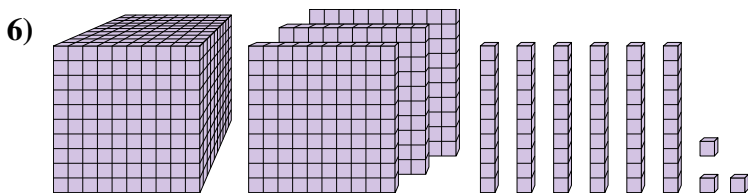
Quale cifra è nella posizione delle decine nel numero qui sopra?



Quale cifra è nella posizione delle unità nel numero qui sopra?



Quale cifra è nella posizione delle centinaia nel numero qui sopra?



Quale cifra è nella posizione delle migliaia nel numero qui sopra?

**Risposte**

1. \_\_\_\_\_

2. \_\_\_\_\_

3. \_\_\_\_\_

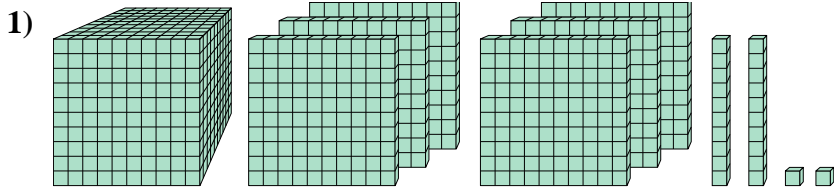
4. \_\_\_\_\_

5. \_\_\_\_\_

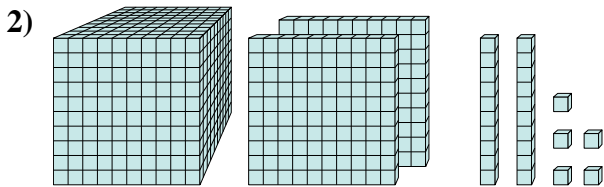
6. \_\_\_\_\_



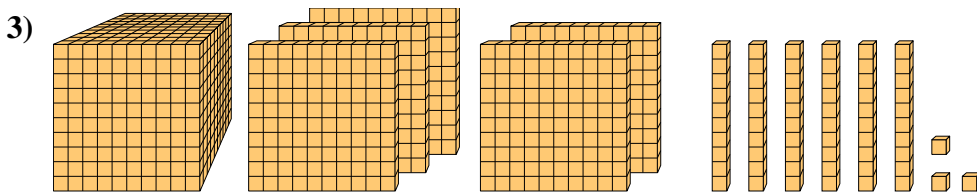
Risolvi ogni problema.



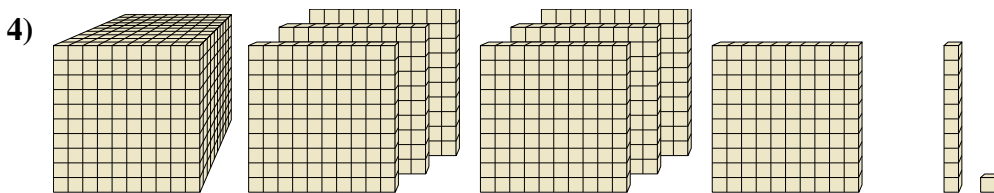
Quale cifra è nella posizione delle centinaia nel numero qui sopra?



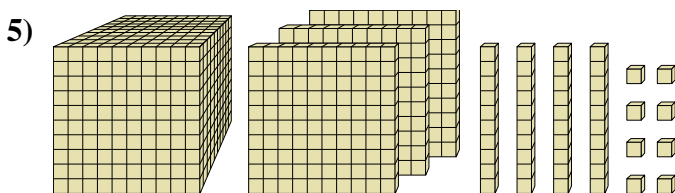
Quale cifra è nella posizione delle decine nel numero qui sopra?



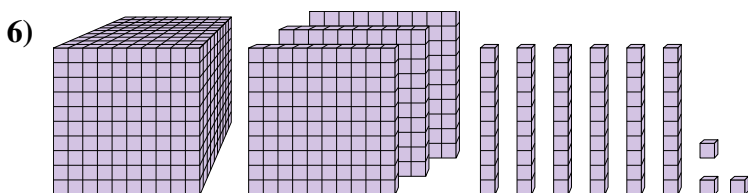
Quale cifra è nella posizione delle decine nel numero qui sopra?



Quale cifra è nella posizione delle unità nel numero qui sopra?



Quale cifra è nella posizione delle centinaia nel numero qui sopra?



Quale cifra è nella posizione delle migliaia nel numero qui sopra?

**Risposte**

1. 6

2. 2

3. 6

4. 1

5. 3

6. 1